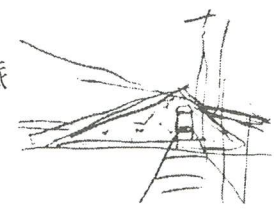


2010年中秋前夕 試題

你可曾知道  
曾在太平山上的每一棵千年杉  
它巨大的軀幹和龐雜的枝椏  
它盤踞交錯在地底的根莖  
它與初生生命對大自然的承接  
却都只從一粒種子展開  
它展開了豐厚的生命印  
它展開了艱苦的成長歷史

有一粒種子叫蘭博  
若香甲

你可曾知道  
在蘭陽平原太平洋之濱  
有一粒種子叫蘭博  
它把蘭陽與初生生命  
它把蘭陽艱苦奮鬥的成長歷史  
全都以逆向濃縮折疊在  
等待你來見証蘭陽的存在



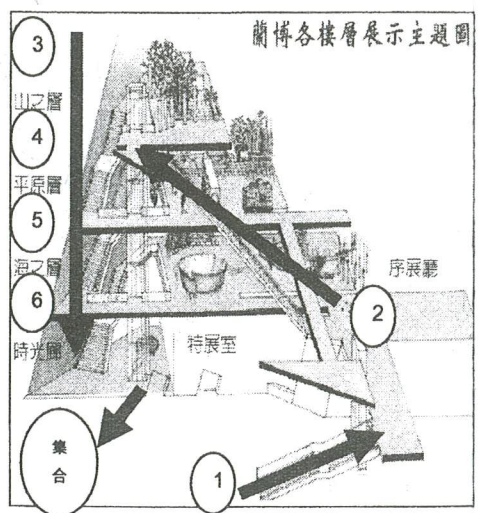

復興國中蘭陽博物館鄉土實察學習單

班級： 8 年 19 班

座號

姓名

蘭博建築造型是以單面山的外形來詮釋，模擬台灣東北角海岸地質特色，屋頂與地面夾角20度，尖端牆面與地面成70度，主建物最高頂點朝向東方的龜山島，並沿著西南方逐漸下降，在台二線附近沒入地表，讓主建物形成三角錐體。



小(測)試-山之層：

- 宜蘭地區夾在哪兩座山脈之間，形成了多雨濃霧的氣候，如同一座「迷霧森林」？請打勾。  
中央山脈 雪山山脈 海岸山脈 阿里山山脈 玉山山脈
- 清朝末年，哪三樣東西並列台灣的三大出口貨品？請打勾。  
茶 稻米 香蕉 樟腦 檳榔 蔗糖

小(測)試-平原層：

- 同學們，你在平原層所佈置的西門渡口場景裡，總共可以看到哪些行業？請打勾。  
裁縫店 雜貨店 理髮店 賣粉圓 打鐵 賣米 紅頭師公 苦力
- 鴨農在稻田收割後，將鴨群趕入稻田中，讓牠們吃收割剩下的穀粒，而鴨子經過稻田所留下的糞便就變成稻田的肥料，請問這樣的養鴨的方式俗稱什麼？(請勾選正確的答案)  
逃春 逃夏 逃秋 逃冬
- 請問頭城搶孤這項民俗活動是在什麼時間舉辦的？(請勾選正確的答案)  
大年初一 清明節 端午節 中秋節 農曆七月最後一天
- Gaga是泰雅族語，請問原意為祖訓、遺言。
- 漢人進駐蘭陽平原之前，這塊土地早已存有哪些族群？泰雅、平埔、噶蘭人

小(測)試-海之層：

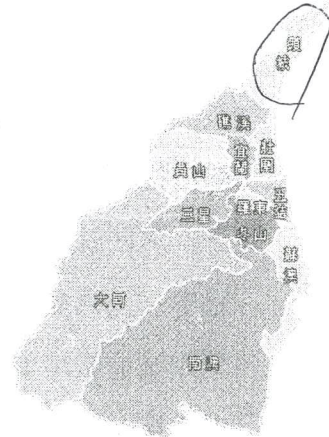

- 黑潮是對我們非常重要的一股洋流，你了解「黑潮」的特徵了嗎？請把正確的圈起來：

顏色	水質	流向	水溫	性質
黑色	<u>乾淨清澈</u>	<u>往北流</u>	<u>比四周海水溫暖</u>	寒流
<u>深藍色</u>	混濁不清	往南流	比四周海水冰涼	<u>暖流</u>

- 國道五號又稱為蔣渭水高速公路，於西元2006年通車。
- 蘭陽博物館於西元2010年開館。
- 你知道嗎？蘭陽平原上最重要的三條河：蘭陽溪、宜蘭河和冬山河，竟共用同一出海口，且出海口相當狹小。  
這三條河流的位置如何呢？請你幫忙填入代號(甲、乙、丙)！

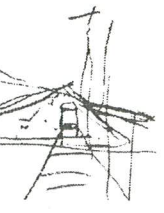


- 1 蘭陽溪 → (乙)
- 2 宜蘭河 → (甲)
- 3 冬山河 → (丙)



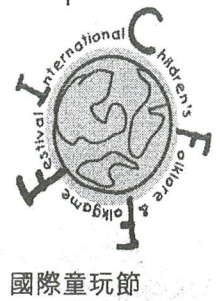

- D 12. 請問蘭陽博物館門票收入屬於地方政府何種經濟收入來源？  
(A)中央補助 (B)地方稅收 (C)自行籌措-活動 (D)自行籌措-公共造產。
- A 13. 蘭陽博物館位在哪一個清領時代港口的遺址？ (A)烏石港 (B)無尾港 (C)東港 (D)利澤簡
- D 14. 觀察宜蘭縣行政區劃，請想一想宜蘭市、冬山鄉、蘇澳鎮地方行政機關及地方民意機關名稱，哪一組配對有誤？ (A) 宜蘭市-宜蘭市民代表會 (B) 冬山鄉-冬山鄉民代表會 (C) 蘇澳鎮-蘇澳鎮公所 (D) 宜蘭市-宜蘭市政府。
- 15. 釣魚台列嶼在行政上劃歸本縣頭城鎮管轄，請在圖上圈出頭城鎮的位置。
- 16. 現在請你動動筆，寫下參觀蘭博過程中讓你印象最深刻的事！

他的  
 到底是你的，或是  
 總是分不清空氣中的喜悅  
 當他從車窗望見你時  
 每當蘭陽的孩子搭火車回來  
 六隻○○○  
 五隻颱風  
 四隻濁水溪  
 一隻羊、兩隻羊、三隻羊  
 外鄉的醫生教他數羊  
 他夢見你，○○○  
 他夢見颱風波蜜拉、貝絲  
 多夢是他失眠的原因  
 他夢見濁水溪  
 蘭陽的孩子在外鄉的日子  
 當他從車窗望著你時  
 總是分不清空氣中的哀愁  
 他的



黃春明

- 17. 請問這首詩的作者是誰？ 黃春明
- 18. 請問文中○○○是指宜蘭哪個著名的地標？ 龜山島
- 19. 讀到朱自清的背影就想到父親，聽到米粉就像到新竹，吃太陽餅想到台中；那聰明的你(妳)看到什麼會想到宜蘭？請參考圖例為宜蘭設計一個專屬的圖騰 (logo)!



那房子十分的奇特，是三角形，而且風景漂亮，雖我以前去過了，但跟同學去的感觉十分不一樣，好玩了許多，看見那些古人的生活好特別，今天了解十分多的那些台灣宜蘭縣的故事，看見老祖宗的智慧，謝謝這次的校外教學使我收穫許多，也懂了這博物館的由來歷史



2010年中秋前夕 試題



你可曾知道  
曾在太平山上的每一棵千年老樹  
它巨大的軀幹和龐雜的枝椏  
它盤旋交錯在地底的根基  
它與初生生命印刻於木自然的承接  
却都從一粒種子展開  
它展開了豐厚的生命印  
它展開了艱苦的成長歷史

那你不曾知道  
在蘭陽平原以太平洋之濱  
有一粒種子叫蘭博  
它把蘭陽與初生生命  
它把蘭陽艱苦奮鬥的成長歷史  
全都以逆向濃縮折疊在  
時空隧道的散子裡，等待  
等待你來見証蘭陽的存在

有一粒種子叫蘭博  
落春明

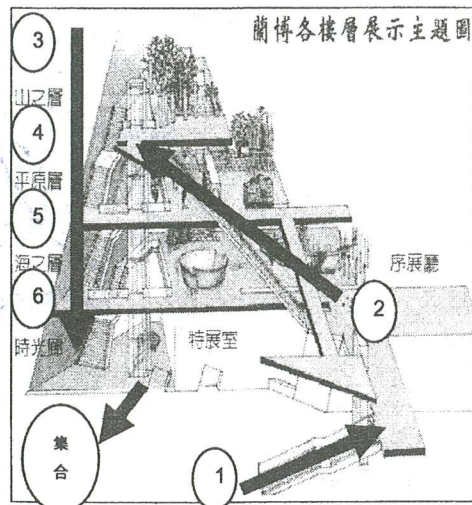

復興國中蘭陽博物館鄉土實察學習單

班級： 8 年 19 班

座號：

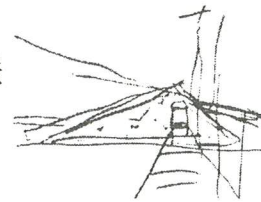
姓名：

蘭博建築造型是以單面山的外形來詮釋，模擬台灣東北角海岸地質特色，屋頂與地面夾角20度，尖端牆面與地面成70度，主建物最高頂點朝向東方的龜山島，並沿著西南方逐漸下降，在台二線附近沒入地表，讓主建物形成三角錐體。



小(測)試-山之層：

- 宜蘭地區夾在哪兩座山脈之間，形成了多雨濃霧的氣候，如同一座「迷霧森林」？請打勾。  
中央山脈 雪山山脈 海岸山脈 阿里山山脈 玉山山脈
- 清朝末年，哪三樣東西並列台灣的三大出口貨品？請打勾。  
茶 稻米 香蕉 樟腦 檳榔 蔗糖



小(測)試-平原層：

- 同學們，你在平原層所佈置的西門渡口場景裡，總共可以看到哪些行業？請打勾。  
裁縫店 雜貨店 理髮店 賣粉圓 打鐵 賣米 紅頭師公 苦力
- 鴨農在稻田收割後，將鴨群趕入稻田中，讓牠們吃收割剩下的穀粒，而鴨子經過稻田所留下的糞便就變成稻田的肥料，請問這樣的養鴨的方式俗稱什麼？(請勾選正確的答案)  
逃春 逃夏 逃秋 逃冬
- 請問頭城搶孤這項民俗活動是在什麼時間舉辦的？(請勾選正確的答案)  
大年初一 清明節 端午節 中秋節 農曆七月最後一天
- Gaga是泰雅族語，請問原意為祖訓、遺言。
- 漢人進駐蘭陽平原之前，這塊土地早已存有泰雅族、平埔、噶瑪蘭。

小(測)試-海之層：

- 黑潮是對我們非常重要的一股洋流，你了解「黑潮」的特徵了嗎？請把正確的圈起來：

顏色	水質	流向	水溫	性質
黑色	<u>乾淨清澈</u>	<u>往北流</u>	<u>比四周海水溫暖</u>	寒流
<u>深藍色</u>	混濁不清	往南流	比四周海水冰涼	<u>暖流</u>


- 國道五號又稱為蔣渭水高速公路，於西元2006年通車。
- 蘭陽博物館於西元2010年開館。
- 你知道嗎？蘭陽平原上最重要的三條河：蘭陽溪、宜蘭河和冬山河，竟共用同一出海口，且出海口相當狹小。這三條河流的位置如何呢？請你幫忙填入代號(甲、乙、丙)！



1 蘭陽溪→(乙)

2 宜蘭河→(甲)

3 冬山河→(丙)

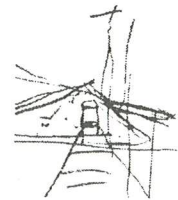


12. 請問蘭陽博物館門票收入屬於地方政府何種經濟收入來源？  
 (A)中央補助 (B)地方稅收 (C)自行籌措-活動 (D)自行籌措-公共造產。
13. 蘭陽博物館位在哪一個清領時代港口的遺址？(A)烏石港 (B)無尾港 (C)東港 (D)利澤簡
14. 觀察宜蘭縣行政區劃，請想一想宜蘭市、冬山鄉、蘇澳鎮地方行政機關及地方民意機關名稱，哪一組配對有誤？(A)宜蘭市-宜蘭市民代表會 (B)冬山鄉-冬山鄉民代表會 (C)蘇澳鎮-蘇澳鎮公所 (D)宜蘭市-宜蘭市政府。
15. 釣魚台列嶼在行政上劃歸本縣頭城鎮管轄，請在圖上圈出頭城鎮的位置。
16. 現在請你動動筆，寫下參觀蘭博過程中讓你印象最深刻的事！



今天去蘭陽博物館參觀，在蘭博外面就看到它奇特的三角形外形，雖然之前去過了，但這次和同學來的感覺十分不一樣。在博物館裡看到了有關宜蘭的歷史，了解到古人的生活智慧。在三樓的時候聽到許多宜蘭的歌謠，例如「丟丟銅」、「火金姑」等，讓我不禁回到了從前。今天的參觀讓我學習到許多有關宜蘭的知識，收穫很豐富！

他的  
 每當蘭陽的孩子搭火車回來  
 當他從車窗望見你時  
 總是分不清空氣中的喜悅  
 到底是你的，或是  
 六隻○○○  
 五隻颱風  
 四隻濁水溪  
 一隻羊、兩隻羊、三隻羊  
 外鄉的醫生教他數羊  
 他夢見你，○○○  
 他夢見颱風波蜜拉、貝絲  
 他夢見濁水溪  
 多夢是他失眠的原因  
 蘭陽的孩子在外鄉的日子  
 總是分不清空氣中的哀愁  
 到底是你的，或是  
 他的



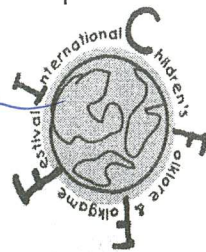
17. 請問這首詩的作者是誰？黃春明
18. 請問文中○○○是指宜蘭哪個著名的地標？龜山島
19. 讀到朱自清的背影就想到父親，聽到米粉就像到新竹，吃太陽餅想到台中；那聰明的你(妳)看到什麼會想到宜蘭？請參考圖例為宜蘭設計一個專屬的圖騰 (logo)!



宜蘭縣政府

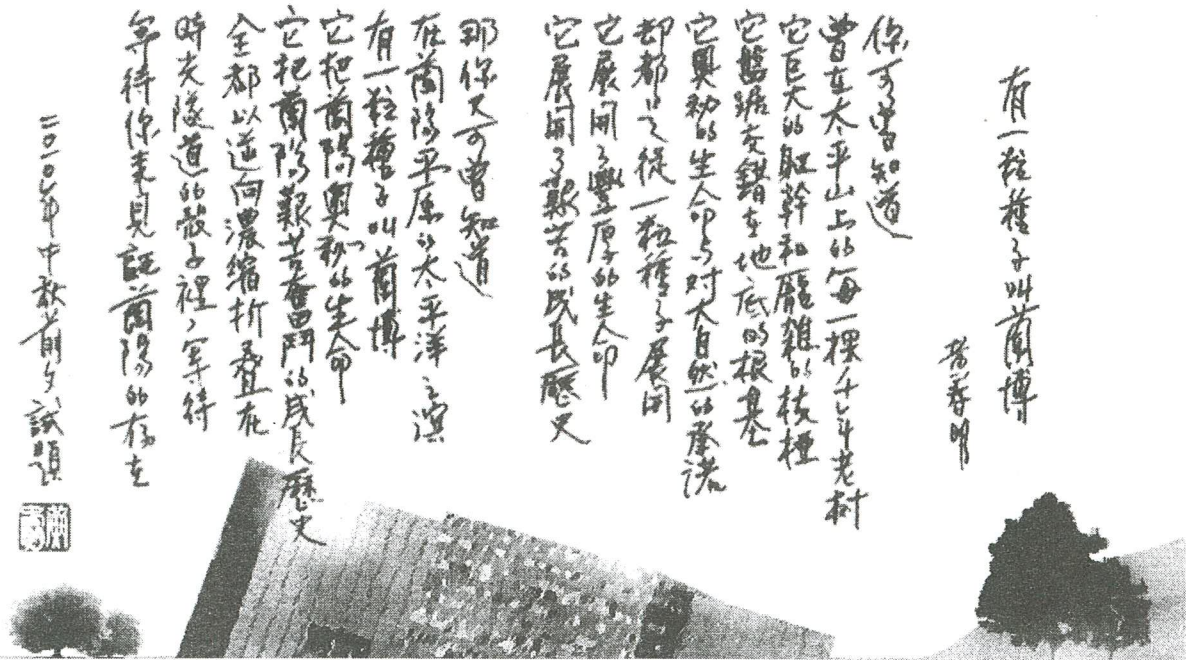


復興國中



國際童玩節





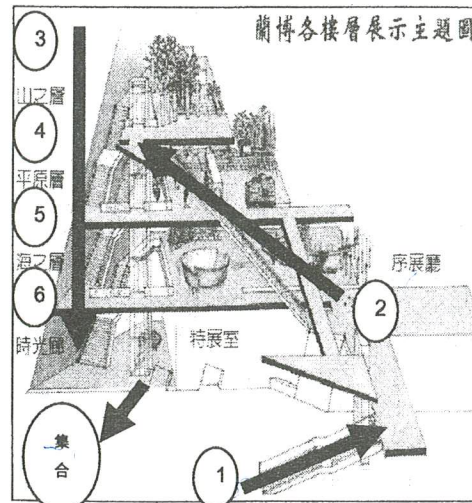

### 復興國中蘭陽博物館鄉土實察學習單

班級： 8 年 19 班

座號：

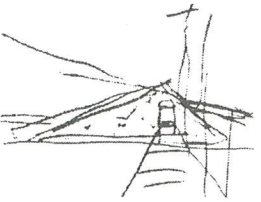
姓名：

蘭博建築造型是以 單面山 的外形來詮釋，模擬台灣東北角海岸地質特色，屋頂與地面夾角20度，尖端牆面與地面成70度，主建物最高頂點朝向東方的 龜山島，並沿著西南方逐漸下降，在台二線附近沒入地表，讓主建物形成三角錐體。



#### 小(測)試-山之層：

- 宜蘭地區夾在哪兩座山脈之間，形成了多雨濃霧的氣候，如同一座「迷霧森林」？請打勾。  
中央山脈 雪山山脈 海岸山脈 阿里山山脈 玉山山脈
- 清朝末年，哪三樣東西並列台灣的三大出口貨品？請打勾。  
茶 稻米 香蕉 樟腦 檳榔 蔗糖



#### 小(測)試-平原層：

- 同學們，你在平原層所佈置的西門渡口場景裡，總共可以看到哪些行業？請打勾。  
裁縫店 雜貨店 理髮店 賣粉圓 打鐵 賣米 紅頭師公 苦力
- 鴨農在稻田收割後，將鴨群趕入稻田中，讓牠們吃收割剩下的穀粒，而鴨子經過稻田所留下的糞便就變成稻田的肥料，請問這樣的養鴨的方式俗稱什麼？(請勾選正確的答案)  
逃春 逃夏 逃秋 逃冬
- 請問頭城搶孤這項民俗活動是在什麼時間舉辦的？(請勾選正確的答案)  
大年初一 清明節 端午節 中秋節 農曆七月最後一天
- Gaga是泰雅族語，請問原意為 祖訓、遺言。
- 漢人進駐蘭陽平原之前，這塊土地早已存有哪些族群？葛瑪蘭族、原住民、哆囉美遠人、猴猴人

#### 小(測)試-海之層：


- 黑潮是對我們非常重要的一股洋流，你了解「黑潮」的特徵了嗎？請把正確的圈起來：

顏色	水質	流向	水溫	性質
黑色	乾淨清澈	往北流	比四周海水溫暖	寒流
深藍色	混濁不清	往南流	比四周海水冰涼	暖流

- 國道五號又稱為 蔣渭水 高速公路，於西元 2006 年通車。
- 蘭陽博物館於西元 2010 年開館。
- 你知道嗎？蘭陽平原上最重要的三條河：蘭陽溪、宜蘭河和冬山河，竟共用同一出海口，且出海口相當狹小。這三條河流的位置如何呢？請你幫忙填入代號(甲、乙、丙)！



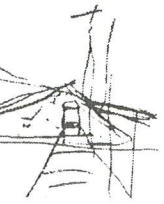
- 1 蘭陽溪→ ( 乙 )
- 2 宜蘭河→ ( 甲 )
- 3 冬山河→ ( 丙 )



- 12. 請問蘭陽博物館門票收入屬於地方政府何種經濟收入來源？  
 (A)中央補助 (B)地方稅收 (C)自行籌措-活動 (D)自行籌措-公共造產。  
 B
- 13. 蘭陽博物館位在哪一個清領時代港口的遺址？ (A)烏石港 (B)無尾港 (C)東港 (D)利澤簡  
 A
- 14. 觀察宜蘭縣行政區劃，請想一想宜蘭市、冬山鄉、蘇澳鎮地方行政機關及地方民意機關名稱，哪一組配對有誤？ (A) 宜蘭市-宜蘭市民代表會 (B) 冬山鄉-冬山鄉民代表會 (C) 蘇澳鎮-蘇澳鎮公所 (D) 宜蘭市-宜蘭市政府。  
 D
- 15. 釣魚台列嶼在行政上劃歸本縣頭城鎮管轄，請在圖上圈出頭城鎮的位置。
- 16. 現在請你動動筆，寫下參觀蘭博過程中讓你印象最深刻的事！



他的  
 總是分不  
 到底是你的，或是  
 當他從車窗望見你時  
 每當蘭陽的孩子搭火車回來  
 總是分不  
 到底是你的，或是  
 他的  
 蘭陽的孩子在外鄉的日子  
 多夢是他失眠的原因  
 他夢見濁水溪  
 他夢見颱風波蜜拉、貝絲  
 他夢見你，○○○  
 外鄉的醫生教他數羊  
 一隻羊、兩隻羊、三隻羊  
 四隻濁水溪  
 五隻颱風  
 六隻○○○



- 17. 請問這首詩的作者是誰？黃春明
- 18. 請問文中○○○是指宜蘭哪個著名的地標？龜山島
- 19. 讀到朱自清的背影就想到父親，聽到米粉就像到新竹，吃太陽餅想到台中；那聰明的你(妳)看到什麼會想到宜蘭？請參考圖例為宜蘭設計一個專屬的圖騰 (logo)!



宜蘭縣政府



復興國中

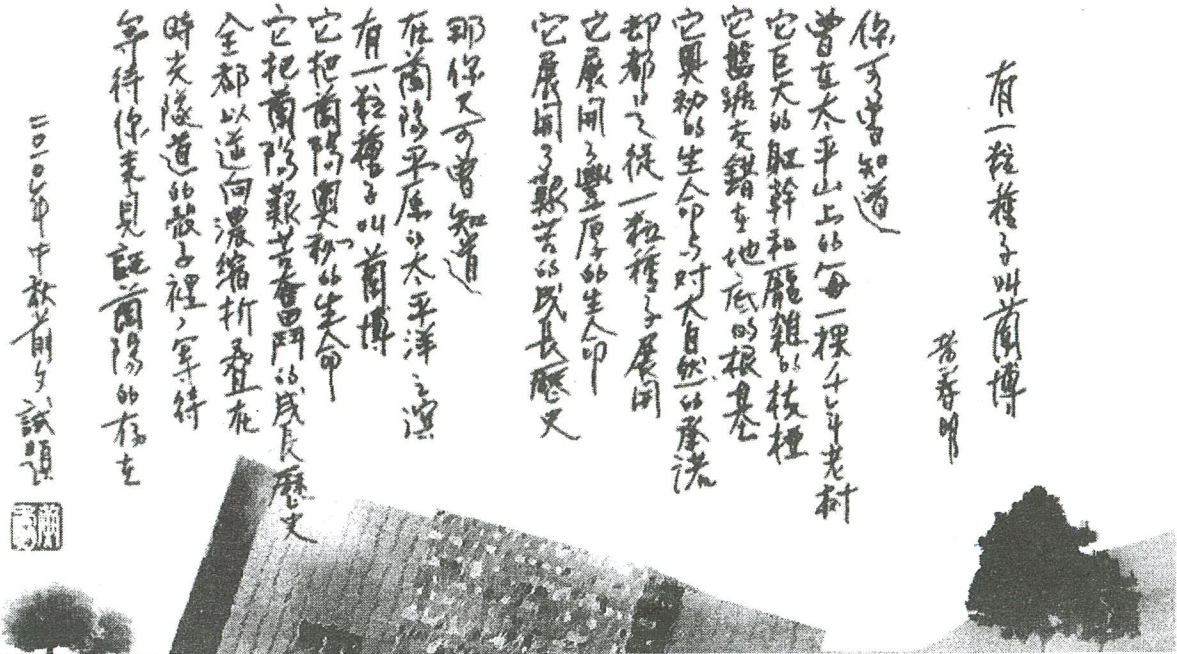
博物館的外面造型很特別，風景也很美。  
 裡面的人物也做得很精緻，剛看到時還以為  
 是真人，乞丐的碗裡還有人真的投錢進去。今天  
 真的讓我獲益良多。



國際童玩節








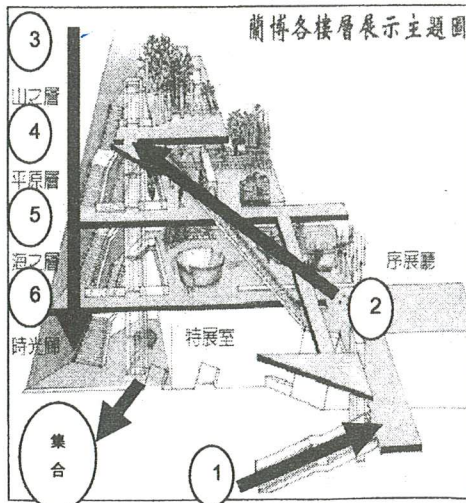
復興國中蘭陽博物館鄉土實察學習單

班級： 8 年 23 班 (口車)

座號：

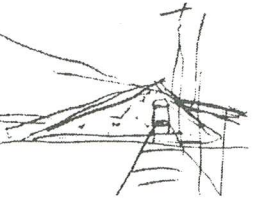
姓名：

蘭博建築造型是以 扇子 的外形來詮釋，模擬台灣東北角海岸地質特色，屋頂與地面夾角20度，尖端牆面與地面成70度，主建物最高頂點朝向東方的 龜山島，並沿著西南方逐漸下降，在台二線附近沒入地表，讓主建物形成三角錐體。



小(測)試-山之層：

- 宜蘭地區夾在哪兩座山脈之間，形成了多雨濃霧的氣候，如同一座「迷霧森林」？請打勾。  
中央山脈 雪山山脈 海岸山脈 阿里山山脈 玉山山脈
- 清朝末年，哪三樣東西並列台灣的三大出口貨品？請打勾。  
茶 稻米 香蕉 樟腦 檳榔 蔗糖



小(測)試-平原層：

- 同學們，你在平原層所佈置的西門渡口場景裡，總共可以看到哪些行業？請打勾。  
裁縫店 雜貨店 理髮店 賣粉圓 打鐵 賣米 紅頭師公 苦力
- 鴨農在稻田收割後，將鴨群趕入稻田中，讓牠們吃收割剩下的穀粒，而鴨子經過稻田所留下的糞便就變成稻田的肥料，請問這樣的養鴨的方式俗稱什麼？(請勾選正確的答案)  
逃春 逃夏 逃秋 逃冬
- 請問頭城搶孤這項民俗活動是在什麼時間舉辦的？(請勾選正確的答案)  
大年初一 清明節 端午節 中秋節 農曆七月最後一天
- Gaga是泰雅族語，請問原意為 祖訓、遺言。
- 漢人進駐蘭陽平原之前，這塊土地早已存有哪些族群？葛瑪蘭族

小(測)試-海之層：


- 黑潮是對我們非常重要的一股洋流，你了解「黑潮」的特徵了嗎？請把正確的圈起來：

顏色	水質	流向	水溫	性質
黑色	<u>乾淨清澈</u>	<u>往北流</u>	比四周海水溫暖	<u>寒流</u>
<u>深藍色</u>	混濁不清	<u>往南流</u>	<u>比四周海水冰涼</u>	暖流

- 國道五號又稱為 蔣清水 高速公路，於西元 2006 年通車。
- 蘭陽博物館於西元 2010 年開館。
- 你知道嗎？蘭陽平原上最重要的三條河：蘭陽溪、宜蘭河和冬山河，竟共用同一出海口，且出海口相當狹小。這三條河流的位置如何呢？請你幫忙填入代號(甲、乙、丙)！



- 1 蘭陽溪→(乙)
- 2 宜蘭河→(甲)
- 3 冬山河→(丙)



- 12. 請問蘭陽博物館門票收入屬於地方政府何種經濟收入來源？  
 (A)中央補助 (B)地方稅收 (C)自行籌措-活動 (D)自行籌措-公共造產。
- 13. 蘭陽博物館位在哪一個清領時代港口的遺址？ (A)烏石港 (B)無尾港 (C)東港 (D)利澤簡
- 14. 觀察宜蘭縣行政區劃，請想一想宜蘭市、冬山鄉、蘇澳鎮地方行政機關及地方民意機關名稱，哪一組配對有誤？ (A) 宜蘭市-宜蘭市民代表會 (B) 冬山鄉-冬山鄉民代表會 (C) 蘇澳鎮-蘇澳鎮公所 (D) 宜蘭市-宜蘭市政府。
- 15. 釣魚台列嶼在行政上劃歸本縣頭城鎮管轄，請在圖上圈出頭城鎮的位置。
- 16. 現在請你動動筆，寫下參觀蘭博過程中讓你印象最深刻的事！

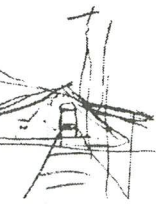
他的  
 總是分不清空氣中的喜悅  
 到底是你的，或是

每當蘭陽的孩子搭火車回來  
 當他從車窗望見你時  
 總是分不清空氣中的喜悅  
 到底是你的，或是

六隻○○○  
 五隻颱風  
 四隻濁水溪  
 一隻羊、兩隻羊、三隻羊  
 外鄉的醫生教他數羊  
 他夢見你，○○○  
 他夢見颱風波蜜拉、貝絲  
 他夢見濁水溪  
 多夢是他失眠的原因  
 蘭陽的孩子在外鄉的日子

他的  
 總是分不清空氣中的哀愁  
 到底是你的，或是

每當蘭陽的孩子搭火車出外  
 當他從車窗望著你時  
 總是分不清空氣中的哀愁  
 到底是你的，或是



- 17. 請問這首詩的作者是誰？黃春明
- 18. 請問文中○○○是指宜蘭哪個著名的地標？龜山島
- 19. 讀到朱自清的背影就想到父親，聽到米粉就像到新竹，吃太陽餅想到台中；那聰明的你(妳)看到什麼會想到宜蘭？請參考圖例為宜蘭設計一個專屬的圖騰 (logo)!



宜蘭縣政府



復興國中

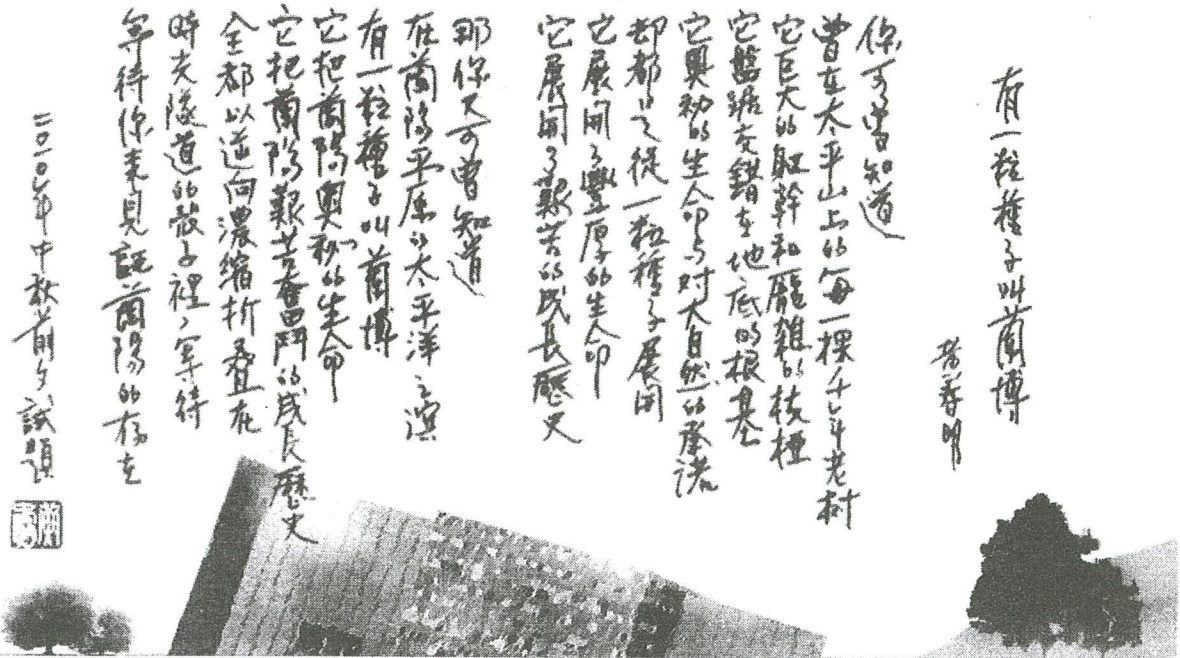


我今天印象最深刻的是了樓的望遠鏡，平常去外面都要投錢才能看，而且又有限時間，但這裡的望遠鏡，不用投錢又沒限時，在望遠鏡中，可以很清楚的看到遠方的風景，我還看到有一隻白鷺絲飛過去。我發現了宜蘭的美，在這裡。龜山島在藍藍的海中，白白的天空用望遠鏡看顯的更加漂亮。



國際童玩節





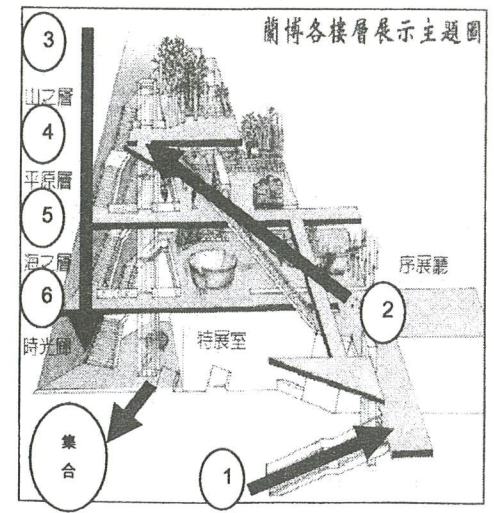

復興國中蘭陽博物館鄉土實察學習單

班級： 8 年 23 班

座號： \_\_\_\_\_

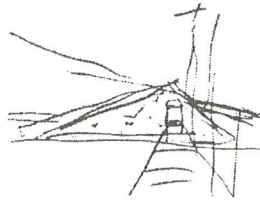
姓名： \_\_\_\_\_

蘭博建築造型是以柳埤的外形來詮釋，模擬台灣東北角海岸地質特色，屋頂與地面夾角20度，尖端牆面與地面成70度，主建物最高頂點朝向東方的龜山島，並沿著西南方逐漸下降，在台二線附近沒入地表，讓主建物形成三角錐體。



小(測)試-山之層：

- 宜蘭地區夾在哪兩座山脈之間，形成了多雨濃霧的氣候，如同一座「迷霧森林」？請打勾。  
中央山脈 雪山山脈 海岸山脈 阿里山山脈 玉山山脈
- 清朝末年，哪三樣東西並列台灣的三大出口貨品？請打勾。  
茶 稻米 香蕉 樟腦 檳榔 蔗糖



小(測)試-平原層：

- 同學們，你在平原層所佈置的西門渡口場景裡，總共可以看到哪些行業？請打勾。  
裁縫店 雜貨店 理髮店 賣粉圓 打鐵 賣米 紅頭師公 苦力
- 鴨農在稻田收割後，將鴨群趕入稻田中，讓牠們吃收割剩下的穀粒，而鴨子經過稻田所留下的糞便就變成稻田的肥料，請問這樣的養鴨的方式俗稱什麼？(請勾選正確的答案)  
逃春 逃夏 逃秋 逃冬
- 請問頭城搶孤這項民俗活動是在什麼時間舉辦的？(請勾選正確的答案)  
大年初一 清明節 端午節 中秋節 農曆七月最後一天
- Gaga是泰雅族語，請問原意為祖訓 or 遺言。
- 漢人進駐蘭陽平原之前，這塊土地早已存有哪些族群？高瑪蘭-泰雅族

小(測)試-海之層：

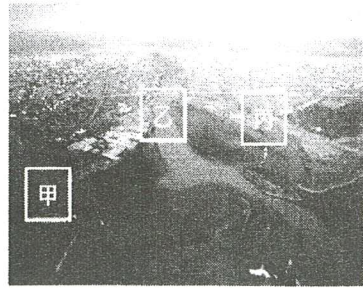
8. 黑潮是對我們非常重要的一股洋流，你了解「黑潮」的特徵了嗎？請把正確的圈起來：

顏色	水質	流向	水溫	性質
<input checked="" type="checkbox"/> 黑色	<input checked="" type="checkbox"/> 乾淨清澈	<input checked="" type="checkbox"/> 往北流	<input checked="" type="checkbox"/> 比四周海水溫暖	寒流
<input type="checkbox"/> 深藍色	<input type="checkbox"/> 混濁不清	<input checked="" type="checkbox"/> 往南流	<input type="checkbox"/> 比四周海水冰涼	<input checked="" type="checkbox"/> 暖流

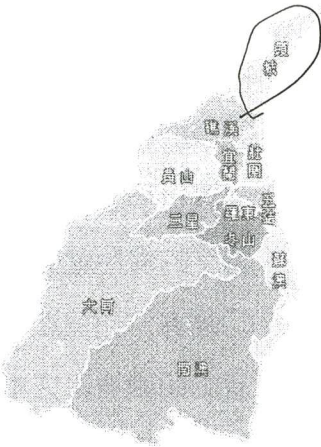
- 國道五號又稱為蔴汲水高速公路，於西元2016年通車。
- 蘭陽博物館於西元2000年開館。
- 你知道嗎？蘭陽平原上最重要的三條河：蘭陽溪、宜蘭河和冬山河，竟共用同一出海口，且出海口相當狹小。  
 這三條河流的位置如何呢？請你幫忙填入代號(甲、乙、丙)！



- 1 蘭陽溪→(乙)
- 2 宜蘭河→(甲)
- 3 冬山河→(丙)

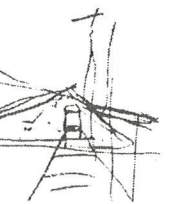


- D 12. 請問蘭陽博物館門票收入屬於地方政府何種經濟收入來源？  
(A)中央補助 (B)地方稅收 (C)自行籌措-活動 (D)自行籌措-公共造產。
- A 13. 蘭陽博物館位在哪一個清領時代港口的遺址？(A)烏石港 (B)無尾港 (C)東港 (D)利澤簡
- D 14. 觀察宜蘭縣行政區劃，請想一想宜蘭市、冬山鄉、蘇澳鎮地方行政機關及地方民意機關名稱，哪一組配對有誤？(A)宜蘭市-宜蘭市民代表會 (B)冬山鄉-冬山鄉民代表會 (C)蘇澳鎮-蘇澳鎮公所 (D)宜蘭市-宜蘭市政府。
- 15. 釣魚台列嶼在行政上劃歸本縣頭城鎮管轄，請在圖上圈出頭城鎮的位置。
- 16. 現在請你動動筆，寫下參觀蘭博過程中讓你印象最深刻的事！



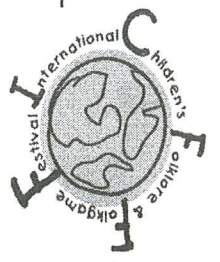
他的  
 總是分不  
 到底是你  
 當他從車  
 每當蘭陽  
 當他從車  
 蘭陽的孩  
 多夢是他  
 他夢見濁  
 他夢見颶  
 他夢見你  
 外鄉的醫  
 一隻羊、  
 四隻濁水  
 五隻颶風  
 六隻○○○

他的  
 總是分不  
 到底是你  
 當他從車  
 每當蘭陽  
 當他從車  
 蘭陽的孩  
 多夢是他  
 他夢見濁  
 他夢見颶  
 他夢見你  
 外鄉的醫  
 一隻羊、  
 四隻濁水  
 五隻颶風  
 六隻○○○



- 17. 請問這首詩的作者是誰？黃春明
- 18. 請問文中○○○是指宜蘭哪個著名的地標？龜山島
- 19. 讀到朱自清的背影就想到父親，聽到米粉就像到新竹，吃太陽餅想到台中；那聰明的你(妳)看到什麼會想到宜蘭？請參考圖例為宜蘭設計一個專屬的圖騰 (logo)!

之前小時候有去過這裡，但沒有什麼印象，現在來也可以「溫故知新」。我們去了很多地方，當然，遇見了這裡最招牌的噶瑪蘭、泰雅族人的雕像，也因為太真實了，我們其中一位組員還被嚇到，可見雕刻師傅的技術是一流的。在海之層裡，看到很大的一艘船，很壯觀，山地、平原層裡也是有很真實的動植物，令人身歷其境，總知在這裡，我感受到了這片土地，更感受到都市人碰不到的生態之旅。



國際童玩節



2010年中秋前夕試題



你可曾知道  
曾在太平山上的每一棵千年老樹  
它巨大的軀幹和龐雜的枝椏  
它盤旋交錯在地底的根柢  
它與初生生命印對大自然的承洗  
却都只從一粒種子展開  
它展開了豐厚的生命印  
它展開了艱苦的成長歷史

那你可以曾知道  
在蘭陽平原太平洋之濱  
有一粒種子叫蘭博  
它把蘭陽與初生生命  
它把蘭陽艱苦奮鬥的成長歷史  
全都以逆向濃縮折疊在  
時空隧道的散子裡，等待  
等待你來見証蘭陽的存在

有一粒種子叫蘭博  
蒼香明

蒼香明



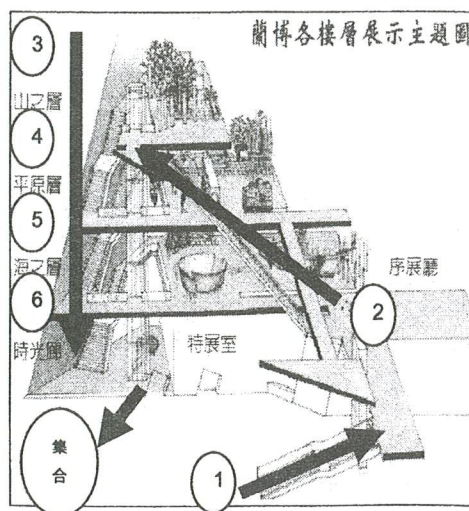

### 復興國中蘭陽博物館鄉土實察學習單

班級： 8 年 23 班

座號：

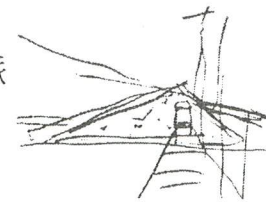
姓名：

蘭博建築造型是以板塊的外形來詮釋，模擬台灣東北角海岸地質特色，屋頂與地面夾角20度，尖端牆面與地面成70度，主建物最高頂點朝向東方的龜山島，並沿著西南方逐漸下降，在台二線附近沒入地表，讓主建物形成三角錐體。



#### 小(測)試-山之層：

- 宜蘭地區夾在哪兩座山脈之間，形成了多雨濃霧的氣候，如同一座「迷霧森林」？請打勾。  
中央山脈 雪山山脈 海岸山脈 阿里山山脈 玉山山脈
- 清朝末年，哪三樣東西並列台灣的三大出口貨品？請打勾。  
茶 稻米 香蕉 樟腦 檳榔 蔗糖



#### 小(測)試-平原層：

- 同學們，你在平原層所佈置的西門渡口場景裡，總共可以看到哪些行業？請打勾。  
裁縫店 雜貨店 理髮店 賣粉圓 打鐵 賣米 紅頭師公 苦力
- 鴨農在稻田收割後，將鴨群趕入稻田中，讓牠們吃收割剩下的穀粒，而鴨子經過稻田所留下的糞便就變成稻田的肥料，請問這樣的養鴨的方式俗稱什麼？(請勾選正確的答案)  
逃春 逃夏 逃秋 逃冬
- 請問頭城搶孤這項民俗活動是在什麼時間舉辦的？(請勾選正確的答案)  
大年初一 清明節 端午節 中秋節 農曆七月最後一天
- Gaga是泰雅族語，請問原意為祖訓/口遺言。
- 漢人進駐蘭陽平原之前，這塊土地早已存有噶瑪蘭族 泰雅族。

#### 小(測)試-海之層：


- 黑潮是對我們非常重要的一股洋流，你了解「黑潮」的特徵了嗎？請把正確的圈起來：

顏色	水質	流向	水溫	性質
<input checked="" type="checkbox"/> 黑色	<input checked="" type="checkbox"/> 乾淨清澈	<input checked="" type="checkbox"/> 往北流	<input checked="" type="checkbox"/> 比四周海水溫暖	寒流
<input checked="" type="checkbox"/> 深藍色	混濁不清	<input checked="" type="checkbox"/> 往南流	比四周海水冰涼	<input checked="" type="checkbox"/> 暖流

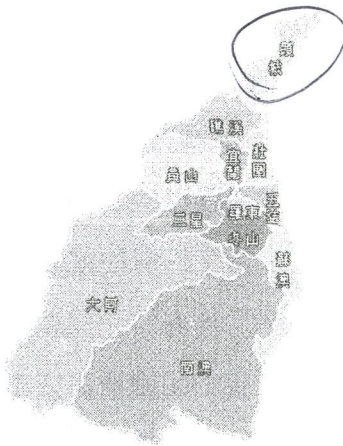
- 國道五號又稱為蔣渭水高速公路，於西元2006年通車。
- 蘭陽博物館於西元2010年開館。
- 你知道嗎？蘭陽平原上最重要的三條河：蘭陽溪、宜蘭河和冬山河，竟共用同一出海口，且出海口相當狹小。  
這三條河流的位置如何呢？請你幫忙填入代號(甲、乙、丙)！



- 1 蘭陽溪 → (乙)  
 2 宜蘭河 → (丙)  
 3 冬山河 → (甲)



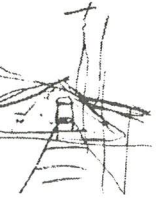
12. 請問蘭陽博物館門票收入屬於地方政府何種經濟收入來源？  
 (A) 中央補助 (B) 地方稅收 (C) 自行籌措-活動 (D) 自行籌措-公共造產。  
 D
13. 蘭陽博物館位在哪一個清領時代港口的遺址？ (A) 烏石港 (B) 無尾港 (C) 東港 (D) 利澤簡  
 A
14. 觀察宜蘭縣行政區劃，請想一想宜蘭市、冬山鄉、蘇澳鎮地方行政機關及地方民意機關名稱，哪一組配對有誤？ (A) 宜蘭市-宜蘭市民代表會 (B) 冬山鄉-冬山鄉民代表會 (C) 蘇澳鎮-蘇澳鎮公所 (D) 宜蘭市-宜蘭市政府。  
 D
15. 釣魚台列嶼在行政上劃歸本縣頭城鎮管轄，請在圖上圈出頭城鎮的位置。
16. 現在請你動動筆，寫下參觀蘭博過程中讓你印象最深刻的事！



他的  
 當他從車窗望見你時  
 總是分不清空氣中的喜悅  
 到底是你的，或是

六隻○○○  
 四隻濁水溪  
 一隻羊、兩隻羊、三隻羊  
 外鄉的醫生教他數羊  
 他夢見你，○○○  
 他夢見颱風波蜜拉、貝絲  
 多夢是他失眠的原因  
 他夢見濁水溪  
 蘭陽的孩子在外鄉的日子

他的  
 當他從車窗望著你時  
 總是分不清空氣中的哀愁  
 到底是你的，或是



17. 請問這首詩的作者是誰？ 黃春明  
 18. 請問文中○○○是指宜蘭哪個著名的地標？ 龜山島  
 19. 讀到朱自清的背影就想到父親，聽到米粉就像到新竹，吃太陽餅想到台中；那聰明的你(妳)看到什麼會想到宜蘭？請參考圖例為宜蘭設計一個專屬的圖騰 (logo)!

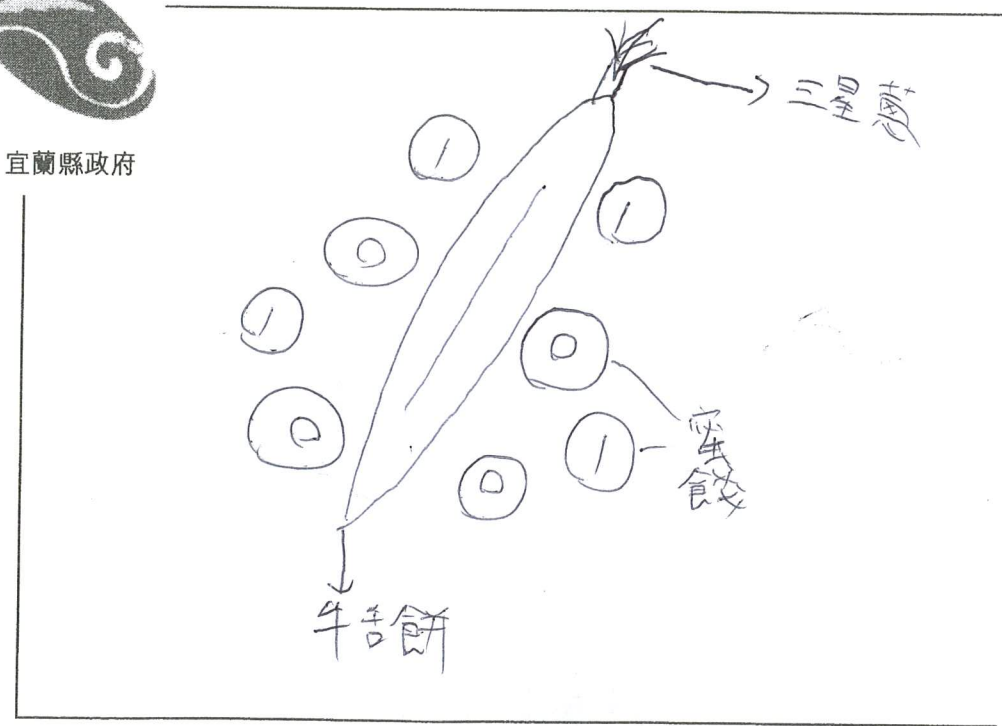


宜蘭縣政府



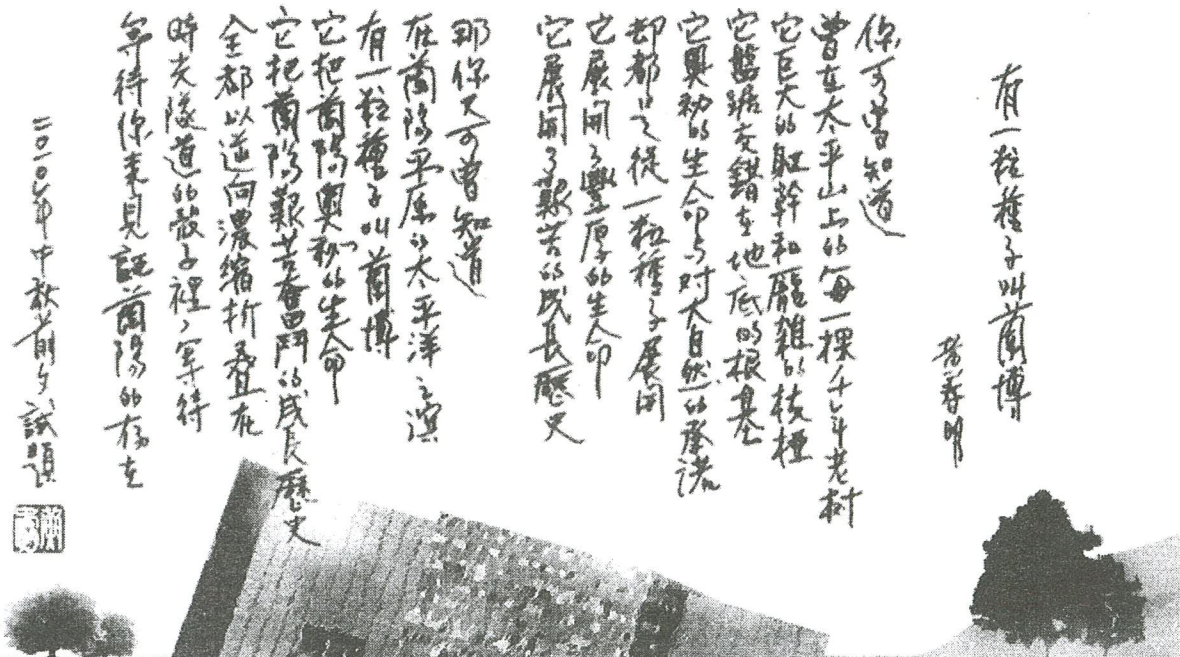
復興國中

這個博物館內蒐集了許多的文明古物，也讓我對我的家鄉——宜蘭有了更深的了解，此外，它所製作的古物、人物也非常的精細生動，彷彿就像一個真實的人物呈現在我們的眼前，希望下次還能夠有機會來更深入的來探索我們的家鄉——好山好水的宜蘭。



國際童玩節





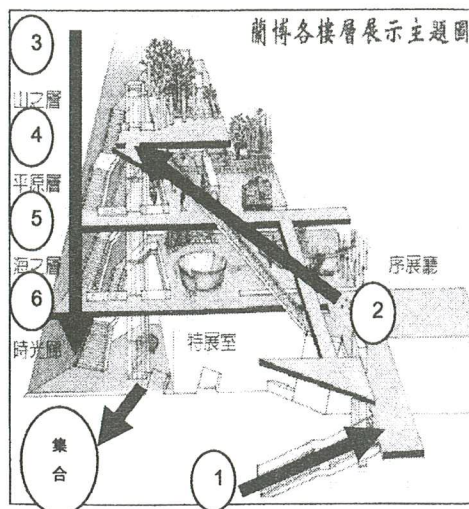

復興國中蘭陽博物館鄉土實察學習單

班級： 8 年 23 班

座號： \_\_\_\_\_

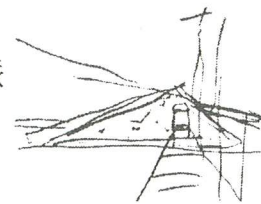
姓名： \_\_\_\_\_

蘭博建築造型是以 板塊 的外形來詮釋，模擬台灣東北角海岸地質特色，屋頂與地面夾角20度，尖端牆面與地面成70度，主建物最高頂點朝向東方的 龜山 島，並沿著西南方逐漸下降，在台二線附近沒入地表，讓主建物形成三角錐體。



小(測)試-山之層：

- 宜蘭地區夾在哪兩座山脈之間，形成了多雨濃霧的氣候，如同一座「迷霧森林」？請打勾。  
中央山脈 雪山山脈 海岸山脈 阿里山山脈 玉山山脈
- 清朝末年，哪三樣東西並列台灣的三大出口貨品？請打勾。  
茶 稻米 香蕉 樟腦 檳榔 蔗糖



小(測)試-平原層：

- 同學們，你在平原層所佈置的西門渡口場景裡，總共可以看到哪些行業？請打勾。  
裁縫店 雜貨店 理髮店 賣粉圓 打鐵 賣米 紅頭師公 苦力
- 鴨農在稻田收割後，將鴨群趕入稻田中，讓牠們吃收割剩下的穀粒，而鴨子經過稻田所留下的糞便就變成稻田的肥料，請問這樣的養鴨的方式俗稱什麼？(請勾選正確的答案)  
逃春 逃夏 逃秋 逃冬
- 請問頭城搶孤這項民俗活動是在什麼時間舉辦的？(請勾選正確的答案)  
大年初一 清明節 端午節 中秋節 農曆七月最後一天
- Gaga是泰雅族語，請問原意為 祖訓、遺言。
- 漢人進駐蘭陽平原之前，這塊土地早已存有噶瑪蘭族群？

小(測)試-海之層：

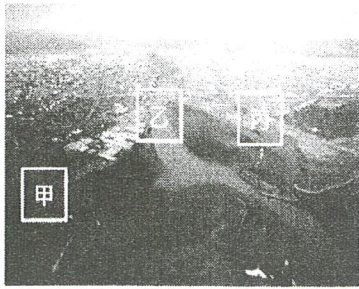
- 黑潮是對我們非常重要的一股洋流，你了解「黑潮」的特徵了嗎？請把正確的圈起來：

顏色	水質	流向	水溫	性質
黑色	<u>乾淨清澈</u>	<u>往北流</u>	<u>比四周海水溫暖</u>	寒流
<u>深藍色</u>	混濁不清	往南流	比四周海水冰涼	<u>暖流</u>

- 國道五號又稱為 蔣渭水 高速公路，於西元 2006 年通車。
- 蘭陽博物館於西元 2010 年開館。
- 你知道嗎？蘭陽平原上最重要的三條河：蘭陽溪、宜蘭河和冬山河，竟共用同一出海口，且出海口相當狹小。  
 這三條河流的位置如何呢？請你幫忙填入代號(甲、乙、丙)！



- 1蘭陽溪→(乙)
- 2宜蘭河→(甲)
- 3冬山河→(丙)



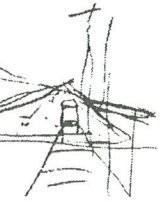
- 12. 請問蘭陽博物館門票收入屬於地方政府何種經濟收入來源？  
 (A)中央補助 (B)地方稅收 (C)自行籌措-活動 (D)自行籌措-公共造產。  
 D
- 13. 蘭陽博物館位在哪一個清領時代港口的遺址？(A)烏石港 (B)無尾港 (C)東港 (D)利澤簡  
 A
- 14. 觀察宜蘭縣行政區劃，請想一想宜蘭市、冬山鄉、蘇澳鎮地方行政機關及地方民意機關名稱，哪一組配對有誤？(A) 宜蘭市-宜蘭市民代表會 (B) 冬山鄉-冬山鄉民代表會 (C) 蘇澳鎮-蘇澳鎮公所 (D) 宜蘭市-宜蘭市政府。  
 D
- 15. 釣魚台列嶼在行政上劃歸本縣頭城鎮管轄，請在圖上圈出頭城鎮的位置。
- 16. 現在請你動動筆，寫下參觀蘭博過程中讓你印象最深刻的事！

他的  
 到底是你的，或是  
 總是分不清空氣中的喜悅  
 當他從車窗望見你時  
 每當蘭陽的孩子搭火車回來

六隻○○○  
 五隻颱風  
 四隻濁水溪  
 一隻羊、兩隻羊、三隻羊  
 外鄉的醫生教他數羊  
 他夢見你，○○○

蘭陽的孩子在外鄉的日子  
 多夢是他失眠的原因  
 他夢見濁水溪  
 他夢見颱風波蜜拉、貝絲

他的  
 到底是你的，或是  
 總是分不清空氣中的哀愁  
 當他從車窗望著你時  
 每當蘭陽的孩子搭火車出外



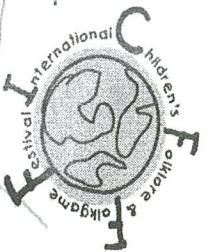
- 17. 請問這首詩的作者是誰？黃春明
- 18. 請問文中○○○是指宜蘭哪個著名的地標？龜山島
- 19. 讀到朱自清的背影就想到父親，聽到米粉就像到新竹，吃太陽餅想到台中；那聰明的你(妳)看到什麼會想到宜蘭？請參考圖例為宜蘭設計一個專屬的圖騰 (logo)!



宜蘭縣政府



復興國中



國際童玩節

在海之層的玻璃藝術，此模<sup>型</sup>以宜蘭縣為範  
 本並且下方放置文物照片等。文化便是藝術  
 這份美，我們應保存下來，使其流傳下去，永垂  
 不朽，使宜蘭成為文化古都。玻璃藝術還會不  
 時變綠，代表著宜蘭的繁榮與一絲綠意，雖現  
 今各縣市都已逐漸邁向現代化，但宜蘭仍保有那  
 份純樸，希望這份純樸能在現代化的未來保存下  
 來。