

# 宜蘭縣立興中國中一〇一學年度蘭陽博物館鄉土踏查學習單

二年 一 班 14 號 姓名：張千嫻

同學們，在參觀了蘭陽博物館後，想必你已留下了深刻的印象，例如以台灣東北角常見的「單面山」為設計理念之主體建築，或是館外有著大片溼地的「烏石礁遺址公園」，還是館內不同展廳的展示主題或陳設…等，請為你的學習歷程留下一些紀錄吧！

## 第一關：牛刀小試（請在勾選正確答案）

1. 山之層—宜蘭地區夾在哪兩座山脈之間，形成了多雨濃霧的氣候，如同一座「迷霧森林」？

中央山脈 雪山山脈 海岸山脈 阿里山山脈 玉山山脈

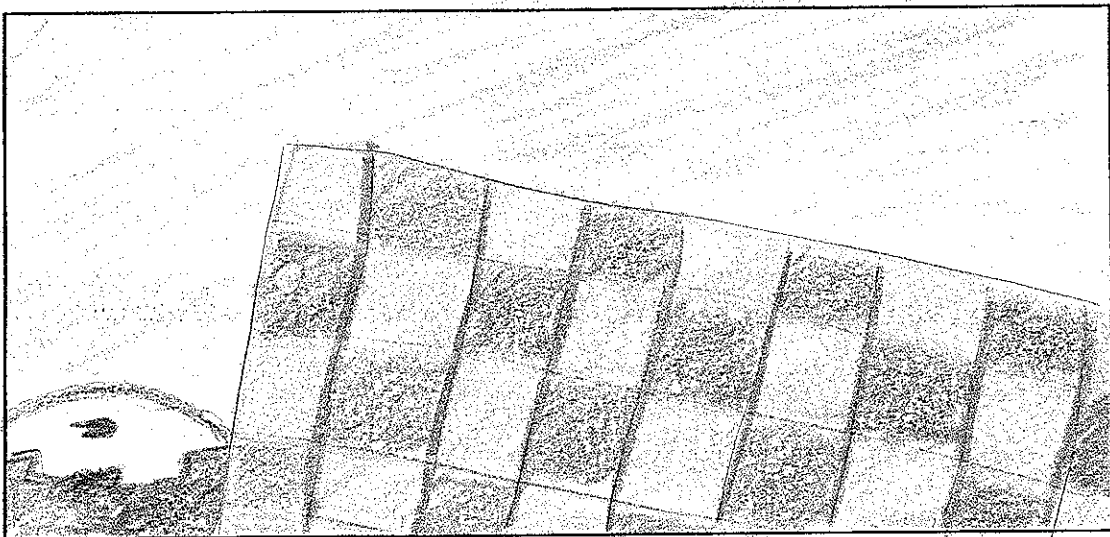
2. 平原層—請問頭城搶孤這項民俗活動是在什麼時間舉辦的？

大年初一 清明節 端午節 中秋節 農曆七月最後一天

3. 海之層—黑潮是對我們非常重要的一股洋流，你了解「黑潮」的特徵了嗎？

顏色	水質	流向	水溫	性質
<input type="checkbox"/> 黑色	<input checked="" type="checkbox"/> 乾淨清澈	<input checked="" type="checkbox"/> 往北流	<input checked="" type="checkbox"/> 比四周海水溫暖	<input type="checkbox"/> 寒流
<input checked="" type="checkbox"/> 深藍色	<input type="checkbox"/> 混濁不清	<input type="checkbox"/> 往南流	<input type="checkbox"/> 比四周海水冰涼	<input checked="" type="checkbox"/> 暖流

## 第二關：請描繪出蘭陽博物館令人驚艷的主體建築，並給它點顏色瞧瞧！



第三關：經過這次的蘭博參訪之旅後，你學到了什麼？對於自己的故鄉『宜蘭』，你有什麼更進一步的認識呢？請以至少 50 個字寫下你的心得感想。

蘭陽博物館的建築設計真是讓人讚嘆，不論我身在裡面或者是在外面都覺得非常得壯觀，就像在看101大樓似的使人目不轉睛。在館內，有時我都還不相信我站在一個設計成傾斜狀的藝術品中，令人訝異不已。

## 釣魚臺的主權與爭議 學習單

一、國家組成有哪些要素？（複選，答案不只一個）

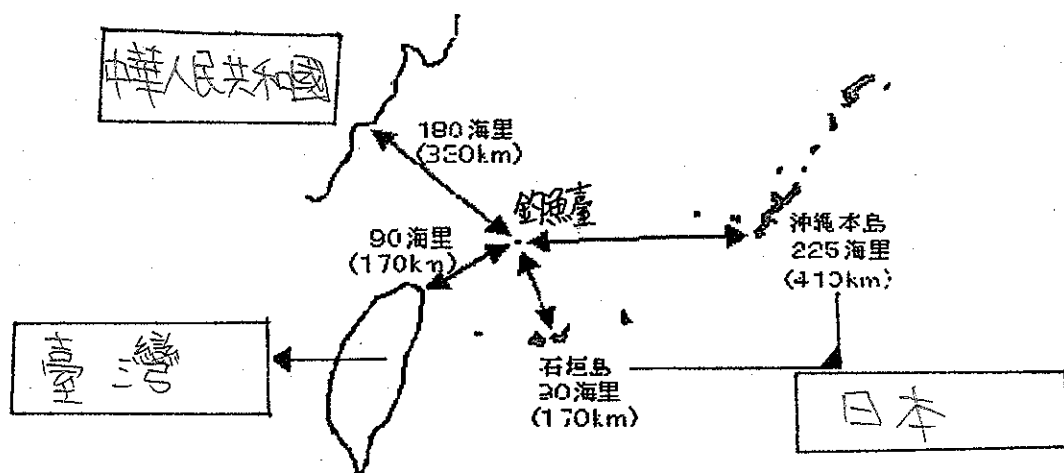
領土    金錢    人民    政府    主權

二、釣魚臺列嶼的位置在哪一洲？

美洲    亞洲    非洲    歐洲

三、釣魚臺列嶼鄰近的國家有哪些？（複選，答案不只一個，並於下方地圖上填入該國家所在位置）

美國    臺灣    埃及    英國  
紐西蘭    日本    德國    中華人民共和國



四、釣魚臺列嶼是臺灣的附屬島嶼，依中華民國的行政區劃，釣魚臺列嶼屬哪一縣所管轄的？

桃園縣    宜蘭縣    花蓮縣

五、釣魚台列嶼的主權爭議，自 1972 年便陷入中、日、台三方之間的領土主權爭議當中。這些國家之間的衝突可以透過什麼樣的方式解決？（自由作答）

和平共有釣魚台列嶼的領土主權。

同擁

# 宜蘭縣立興中國中一〇一學年度蘭陽博物館鄉土踏查學習單

二年 一 班 19 號 姓名：蘭明丞

同學們，在參觀了蘭陽博物館後，想必你已留下了深刻的印象，例如以台灣東北角常見的「單面山」為設計理念之主體建築，或是館外有著大片溼地的「烏石礁遺址公園」，還是館內不同展廳的展示主題或陳設…等，請為你的學習歷程留下一些紀錄吧！

## 第一關：牛刀小試（請在勾選正確答案）

1. 山之層—宜蘭地區夾在哪兩座山脈之間，形成了多雨濃霧的氣候，如同一座「迷霧森林」？

中央山脈 雪山山脈 海岸山脈 阿里山山脈 玉山山脈


2. 平原層—請問頭城搶孤這項民俗活動是在什麼時間舉辦的？

大年初一 清明節 端午節 中秋節 農曆七月最後一天

3. 海之層—黑潮是對我們非常重要的一股洋流，你了解「黑潮」的特徵了嗎？

顏色	水質	流向	水溫	性質
<input type="checkbox"/> 黑色	<input checked="" type="checkbox"/> 乾淨清澈	<input type="checkbox"/> 往北流	<input type="checkbox"/> 比四周海水溫暖	<input type="checkbox"/> 寒流
<input checked="" type="checkbox"/> 深藍色	<input type="checkbox"/> 混濁不清	<input type="checkbox"/> 往南流	<input type="checkbox"/> 比四周海水冰涼	<input checked="" type="checkbox"/> 暖流

## 第二關：請描繪出蘭陽博物館令人驚艷的主體建築，並給它點顏色瞧瞧！



第三關：經過這次的蘭博參訪之旅後，你學到了什麼？對於自己的故鄉「宜蘭」，你有什麼更進一步的認識呢？請以至少 50 個字寫下你的心得感想。

會知道很多歷史知識。而且也可以藉此到蘭博參觀教學

體驗用望遠鏡看遠處的船、小島。

## 釣魚臺的主權與爭議 學習單

一、國家組成有哪些要素？（複選，答案不只一個）

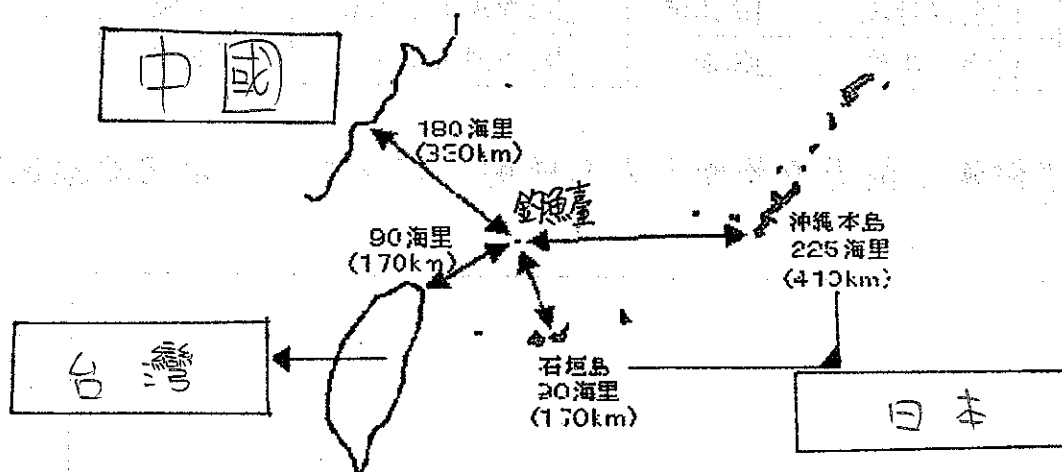
- 領土    金錢    人民    政府    主權

二、釣魚臺列嶼的位置在哪一洲？

- 美洲    亞洲    非洲    歐洲

三、釣魚臺列嶼鄰近的國家有哪些？（複選，答案不只一個，並於下方地圖上填入該國家所在位置）

- 美國    臺灣    埃及    英國  
紐西蘭    日本    德國    中華人民共和國



四、釣魚臺列嶼是臺灣的附屬島嶼，依中華民國的行政區劃，釣魚臺列嶼屬哪一縣所管轄的？

- 桃園縣    宜蘭縣    花蓮縣

五、釣魚台列嶼的主權爭議，自 1972 年便陷入中、日、台三方之間的領土主權爭議當中。這些國家之間的衝突可以透過什麼樣的方式解決？（自由作答）

用條件來處理

# 宜蘭縣立興中國中一〇一學年度蘭陽博物館鄉土踏查學習單

二年 一 班 15 號 姓名：張欣鈺

同學們，在參觀了蘭陽博物館後，想必你已留下了深刻的印象，例如以台灣東北角常見的「單面山」為設計理念之主體建築，或是館外有著大片溼地的「烏石礁遺址公園」，還是館內不同展廳的展示主題或陳設…等，請為你的學習歷程留下一些紀錄吧！

## 第一關：牛刀小試（請在勾選正確答案）

1. 山之層—宜蘭地區夾在哪兩座山脈之間，形成了多雨濃霧的氣候，如同一座「迷霧森林」？

中央山脈 雪山山脈 海岸山脈 阿里山山脈 玉山山脈

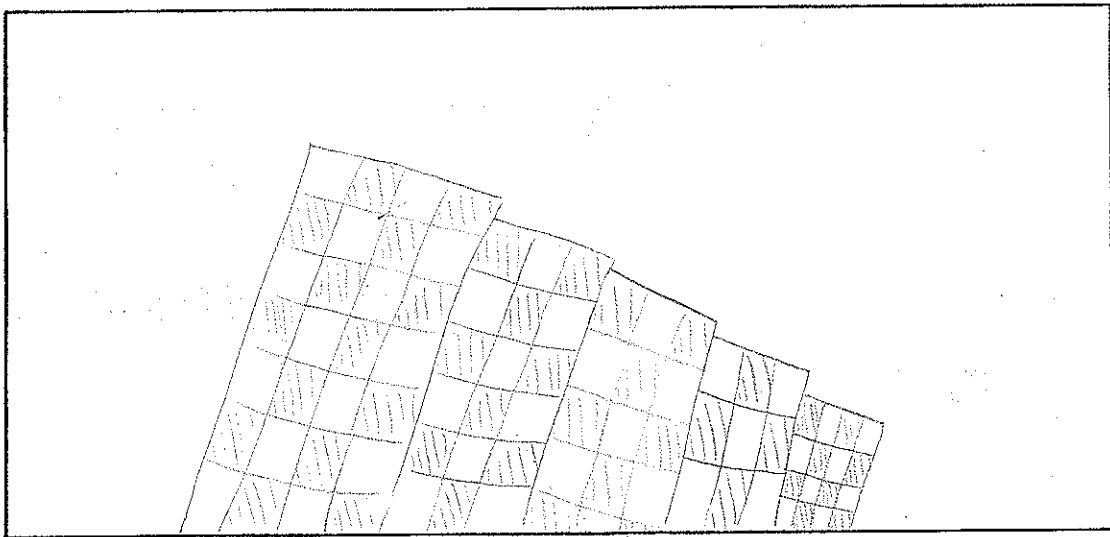
2. 平原層—請問頭城搶孤這項民俗活動是在什麼時間舉辦的？

大年初一 清明節 端午節 中秋節 農曆七月最後一天

3. 海之層—黑潮是對我們非常重要的一股洋流，你了解「黑潮」的特徵了嗎？

顏色	水質	流向	水溫	性質
<input type="checkbox"/> 黑色	<input checked="" type="checkbox"/> 乾淨清澈	<input checked="" type="checkbox"/> 往北流	<input checked="" type="checkbox"/> 比四周海水溫暖	<input type="checkbox"/> 寒流
<input checked="" type="checkbox"/> 深藍色	<input type="checkbox"/> 混濁不清	<input type="checkbox"/> 往南流	<input type="checkbox"/> 比四周海水冰涼	<input checked="" type="checkbox"/> 暖流

## 第二關：請描繪出蘭陽博物館令人驚艷的主體建築，並給它點顏色瞧瞧！



第三關：經過這次的蘭博參訪之旅後，你學到了什麼？對於自己的故鄉「宜蘭」，你有什麼更進一步的認識呢？請以至少 50 個字寫下你的心得感想。

原來黑潮是深藍色的，我以前都一直以為黑潮是黑色的。

在蘭博裡觀看溼地的時候，我發現其實溼地上的鳥很多，有各種不同的鳥在水裡找食物，<sup>是一個</sup>相當不錯的觀看地點呢！

## 釣魚臺的主權與爭議 學習單

一、國家組成有哪些要素？（複選，答案不只一個）

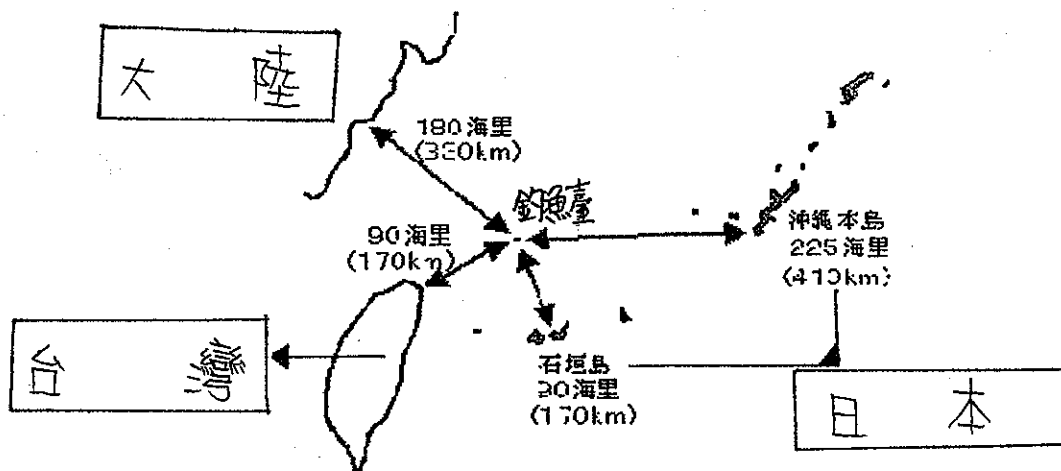
領土      金錢      人民      政府      主權

二、釣魚臺列嶼的位置在哪一洲？

美洲      亞洲      非洲      歐洲

三、釣魚臺列嶼鄰近的國家有哪些？（複選，答案不只一個，並於下方地圖上填入該國家所在位置）

美國      臺灣      埃及      英國  
紐西蘭      日本      德國      中華人民共和國



四、釣魚臺列嶼是臺灣的附屬島嶼，依中華民國的行政區劃，釣魚臺列嶼屬哪一縣所管轄的？

桃園縣      宜蘭縣      花蓮縣

五、釣魚台列嶼的主權爭議，自 1972 年便陷入中、日、台三方之間的領土主權爭議當中。這些國家之間的衝突可以透過什麼樣的方式解決？（自由作答）

三個國家平分。

# 宜蘭縣立興中國中一〇一學年度蘭陽博物館鄉土踏查學習單

二年 一 班 5 號 姓名：劉鏡瑋

同學們，在參觀了蘭陽博物館後，想必你已留下了深刻的印象，例如以台灣東北角常見的「單面山」為設計理念之主體建築，或是館外有著大片溼地的「烏石礁遺址公園」，還是館內不同展廳的展示主題或陳設…等，請為你的學習歷程留下一些紀錄吧！

## 第一關：牛刀小試（請在勾選正確答案）

1. 山之層——宜蘭地區夾在哪兩座山脈之間，形成了多雨濃霧的氣候，如同一座「迷霧森林」？

- 中央山脈 雪山山脈 海岸山脈 阿里山山脈 玉山山脈


2. 平原層——請問頭城搶孤這項民俗活動是在什麼時間舉辦的？

- 大年初一 清明節 端午節 中秋節 農曆七月最後一天

3. 海之層——黑潮是對我們非常重要的一股洋流，你了解「黑潮」的特徵了嗎？

顏色	水質	流向	水溫	性質
<input type="checkbox"/> 黑色	<input checked="" type="checkbox"/> 乾淨清澈	<input type="checkbox"/> 往北流	<input checked="" type="checkbox"/> 比四周海水溫暖	<input type="checkbox"/> 寒流
<input checked="" type="checkbox"/> 深藍色	<input type="checkbox"/> 混濁不清	<input type="checkbox"/> 往南流	<input type="checkbox"/> 比四周海水冰涼	<input checked="" type="checkbox"/> 暖流

## 第二關：請描繪出蘭陽博物館令人驚艷的主體建築，並給它點顏色瞧瞧！



第三關：經過這次的蘭博參訪之旅後，你學到了什麼？對於自己的故鄉「宜蘭」，你有什麼更進一步的認識呢？請以至少 50 個字寫下你的心得感想。

原來宜蘭還有那麼多的知識與學問等著我們認識，而我學到更多關於潮流、海洋、台灣原生種的特性，而且蘭博建築物很有特色。

## 釣魚臺的主權與爭議 學習單

一、國家組成有哪些要素？（複選，答案不只一個）

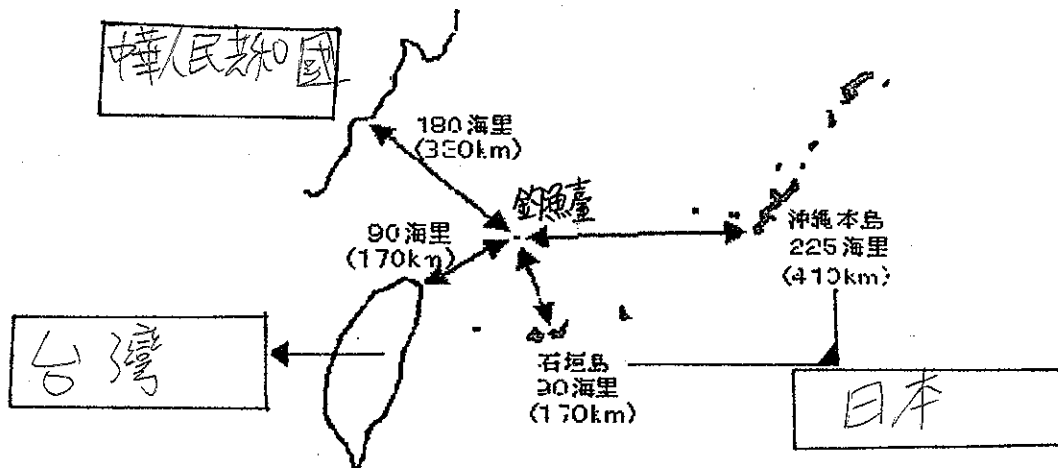
領土    金錢    人民    政府    主權

二、釣魚臺列嶼的位置在哪一洲？

美洲    亞洲    非洲    歐洲

三、釣魚臺列嶼鄰近的國家有哪些？（複選，答案不只一個，並於下方地圖上填入該國家所在位置）

美國    臺灣    埃及    英國  
紐西蘭    日本    德國    中華人民共和國



四、釣魚臺列嶼是臺灣的附屬島嶼，依中華民國的行政區劃，釣魚臺列嶼屬哪一縣所管轄的？

桃園縣    宜蘭縣    花蓮縣

五、釣魚台列嶼的主權爭議，自 1972 年便陷入中、日、台三方之間的領土主權爭議當中。這些國家之間的衝突可以透過什麼樣的方式解決？（自由作答）

談和，但各國應該不會答應，那把它分三份。



# 宜蘭縣立興中國中一〇一學年度蘭陽博物館鄉土踏查學習單

二年 一 班 20 號 姓名：葉庭嘉

同學們，在參觀了蘭陽博物館後，想必你已留下了深刻的印象，例如以台灣東北角常見的「單面山」為設計理念之主體建築，或是館外有著大片溼地的「烏石礁遺址公園」，還是館內不同展廳的展示主題或陳設…等，請為你的學習歷程留下一些紀錄吧！

## 第一關：牛刀小試（請在勾選正確答案）

1. 山之層—宜蘭地區夾在哪兩座山脈之間，形成了多雨濃霧的氣候，如同一座「迷霧森林」？

中央山脈 雪山山脈 海岸山脈 阿里山山脈 玉山山脈

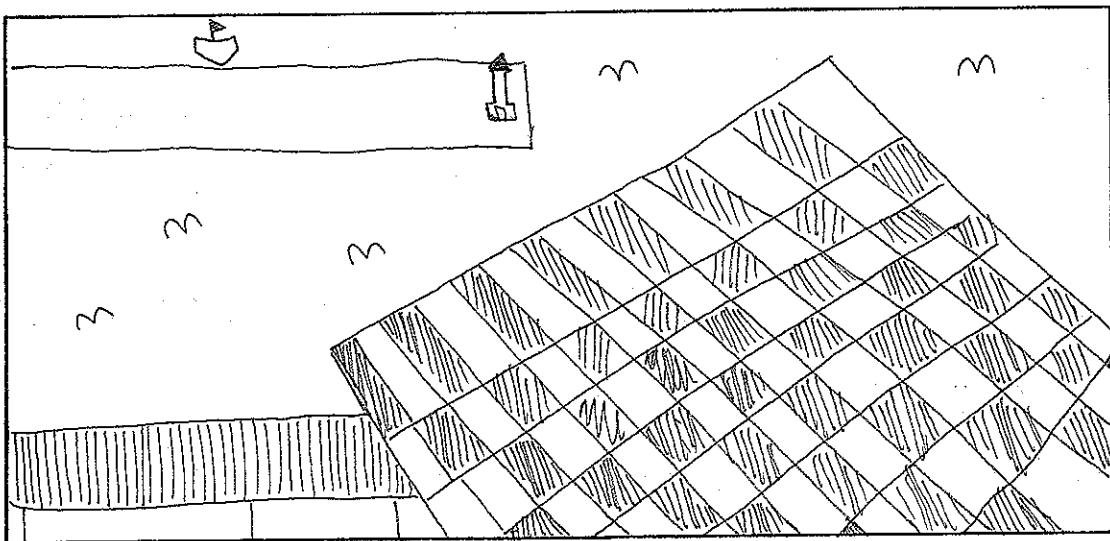
2. 平原層—請問頭城搶孤這項民俗活動是在什麼時間舉辦的？

大年初一 清明節 端午節 中秋節 農曆七月最後一天

3. 海之層—黑潮是對我們非常重要的一股洋流，你了解「黑潮」的特徵了嗎？

顏色	水質	流向	水溫	性質
<input type="checkbox"/> 黑色	<input checked="" type="checkbox"/> 乾淨清澈	<input checked="" type="checkbox"/> 往北流	<input checked="" type="checkbox"/> 比四周海水溫暖	<input type="checkbox"/> 寒流
<input checked="" type="checkbox"/> 深藍色	<input type="checkbox"/> 混濁不清	<input type="checkbox"/> 往南流	<input type="checkbox"/> 比四周海水冰涼	<input checked="" type="checkbox"/> 暖流

## 第二關：請描繪出蘭陽博物館令人驚艷的主體建築，並給它點顏色瞧瞧！



第三關：經過這次的蘭博參訪之旅後，你學到了什麼？對於自己的故鄉「宜蘭」，你有什麼更進一步的認識呢？請以至少 50 個字寫下你的心得感想。

原來蘭博有這麼多我不認識的東西！有很多魚類是我沒見過的。

還有鳥，還有火山。原來宜蘭這麼的了不起，增加我的知識，蘭博就是這麼的有趣。

## 釣魚臺的主權與爭議 學習單

一、國家組成有哪些要素？（複選，答案不只一個）

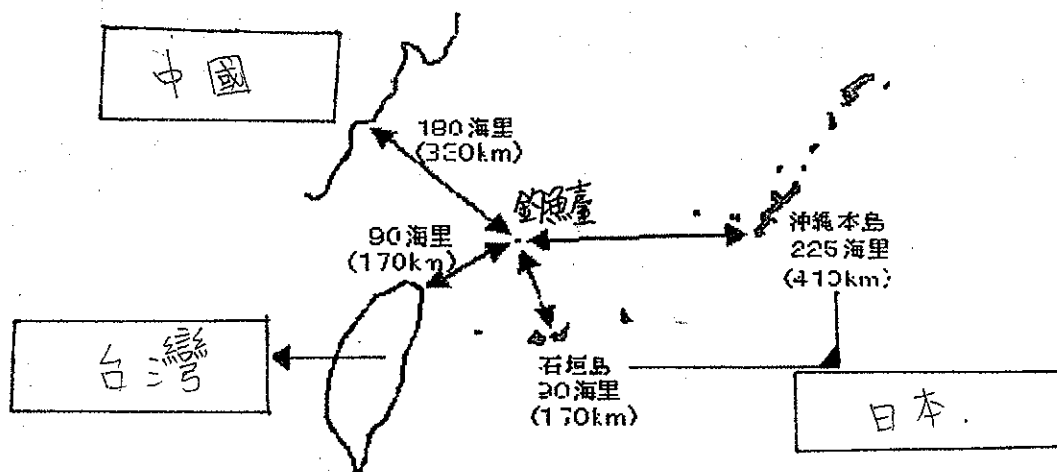
領土      金錢      人民      政府      主權

二、釣魚臺列嶼的位置在哪一洲？

美洲      亞洲      非洲      歐洲

三、釣魚臺列嶼鄰近的國家有哪些？（複選，答案不只一個，並於下方地圖上填入該國家所在位置）

美國      臺灣      埃及      英國  
紐西蘭      日本      德國      中華人民共和國



四、釣魚臺列嶼是臺灣的附屬島嶼，依中華民國的行政區劃，釣魚臺列嶼屬哪一縣所管轄的？

桃園縣      宜蘭縣      花蓮縣

五、釣魚台列嶼的主權爭議，自 1972 年便陷入中、日、台三方之間的領土主權爭議當中。這些國家之間的衝突可以透過什麼樣的方式解決？（自由作答）

用溝通的，可以慢慢來。

宜蘭縣立興中國中一〇一學年度蘭陽博物館鄉土踏查學習單

二年 2 班 19 號 姓名：鍾采榆

同學們，在參觀了蘭陽博物館後，想必你已留下了深刻的印象，例如以台灣東北角常見的「單面山」為設計理念之主體建築，或是館外有著大片溼地的「烏石礁遺址公園」，還是館內不同展廳的展示主題或陳設…等，請為你的學習歷程留下一些紀錄吧！

第一關：牛刀小試（請在勾選正確答案）

1. 山之層—宜蘭地區夾在哪兩座山脈之間，形成了多雨濃霧的氣候，如同一座「迷霧森林」？

- 中央山脈  雪山山脈  海岸山脈  阿里山山脈  玉山山脈


2. 平原層—請問頭城搶孤這項民俗活動是在什麼時間舉辦的？

- 大年初一  清明節  端午節  中秋節  農曆七月最後一天

3. 海之層—黑潮是對我們非常重要的一股洋流，你了解「黑潮」的特徵了嗎？

顏色	水質	流向	水溫	性質
<input checked="" type="checkbox"/> 黑色	<input checked="" type="checkbox"/> 乾淨清澈	<input checked="" type="checkbox"/> 往北流	<input checked="" type="checkbox"/> 比四周海水溫暖	<input type="checkbox"/> 寒流
<input type="checkbox"/> 深藍色	<input checked="" type="checkbox"/> 混濁不清	<input type="checkbox"/> 往南流	<input type="checkbox"/> 比四周海水冰涼	<input checked="" type="checkbox"/> 暖流

第二關：請描繪出蘭陽博物館令人驚艷的主體建築，並給它點顏色瞧瞧！



第三關：經過這次的蘭博參訪之旅後，你學到了什麼？對於自己的故鄉『宜蘭』，你有什麼更進一步的認識呢？請以至少 50 個字寫下你的心得感想。

蘭博把宜蘭的各元素結合於一棟建築物內，讓清楚的了解到了宜蘭的氣候、  
 諺語、地形、產物、歷史等等...。雖然館內有許多收藏，但畢竟  
 沒有經歷過，自然也就是瞄過幾眼讀讀介紹，體會不出其中

的涵意。  
 參觀後

## 釣魚臺的主權與爭議 學習單

一、國家組成有哪些要素？（複選，答案不只一個）

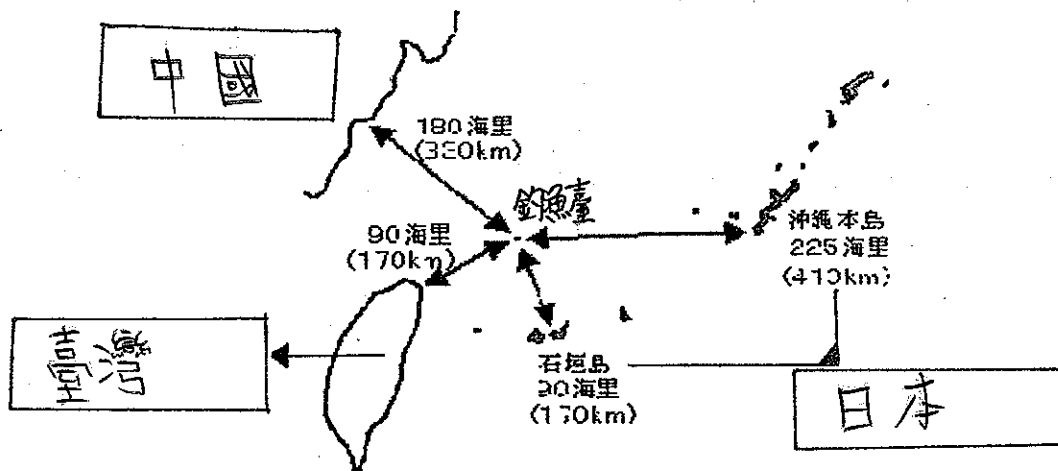
領土    金錢    人民    政府    主權

二、釣魚臺列嶼的位置在哪一洲？

美洲    亞洲    非洲    歐洲

三、釣魚臺列嶼鄰近的國家有哪些？（複選，答案不只一個，並於下方地圖上填入該國家所在位置）

美國    臺灣    埃及    英國  
紐西蘭    日本    德國    中華人民共和國



四、釣魚臺列嶼是臺灣的附屬島嶼，依中華民國的行政區劃，釣魚臺列嶼屬哪一縣所管轄的？

桃園縣    宜蘭縣    花蓮縣

五、釣魚台列嶼的主權爭議，自1972年便陷入中、日、台三方之間的領土主權爭議當中。這些國家之間的衝突可以透過什麼樣的方式解決？（自由作答）

協商，共同開發，戰爭

# 宜蘭縣立興中國中一〇一學年度蘭陽博物館鄉土踏查學習單

二年 二 班 17 號 姓名： 陳佩雯

同學們，在參觀了蘭陽博物館後，想必你已留下了深刻的印象，例如以台灣東北角常見的「單面山」為設計理念之主體建築，或是館外有著大片溼地的「烏石礁遺址公園」，還是館內不同展廳的展示主題或陳設…等，請為你的學習歷程留下一些紀錄吧！

## 第一關：牛刀小試（請在勾選正確答案）

1. 山之層—宜蘭地區夾在哪兩座山脈之間，形成了多雨濃霧的氣候，如同一座「迷霧森林」？

中央山脈 雪山山脈 海岸山脈 阿里山山脈 玉山山脈


2. 平原層—請問頭城搶孤這項民俗活動是在什麼時間舉辦的？

大年初一 清明節 端午節 中秋節 農曆七月最後一天

3. 海之層—黑潮是對我們非常重要的一股洋流，你了解「黑潮」的特徵了嗎？

顏色	水質	流向	水溫	性質
<input checked="" type="checkbox"/> 黑色	<input checked="" type="checkbox"/> 乾淨清澈	<input checked="" type="checkbox"/> 往北流	<input checked="" type="checkbox"/> 比四周海水溫暖	<input type="checkbox"/> 寒流
<input type="checkbox"/> 深藍色	<input type="checkbox"/> 混濁不清	<input type="checkbox"/> 往南流	<input type="checkbox"/> 比四周海水冰涼	<input checked="" type="checkbox"/> 暖流

## 第二關：請描繪出蘭陽博物館令人驚艷的主體建築，並給它點顏色瞧瞧！



## 第三關：經過這次的蘭博參訪之旅後，你學到了什麼？對於自己的故鄉『宜蘭』，你有什麼更進一步的認識呢？請以至少 50 個字寫下你的心得感想。

這個校外教學讓我們知道原來宜蘭也有這麼特別的地方，也獲取不少的知識，還有各種不同的文化，參觀的每一個地方都是一個新的發現，跟同學互動也可以增進不少的感情，希望以後多有這種機會。

## 釣魚臺的主權與爭議 學習單

一、國家組成有哪些要素？（複選，答案不只一個）

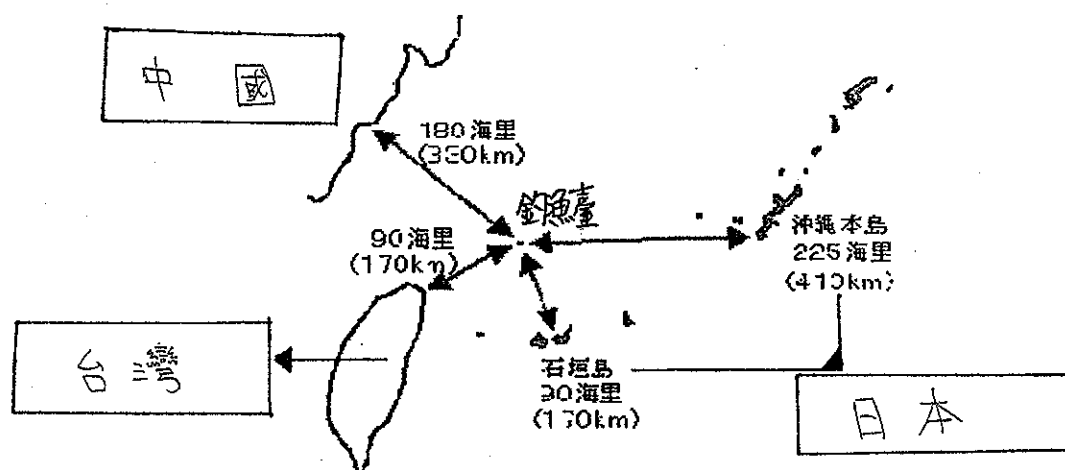
領土      金錢      人民      政府      主權

二、釣魚臺列嶼的位置在哪一洲？

美洲      亞洲      非洲      歐洲

三、釣魚臺列嶼鄰近的國家有哪些？（複選，答案不只一個，並於下方地圖上填入該國家所在位置）

美國      臺灣      埃及      英國  
紐西蘭      日本      德國      中華人民共和國



四、釣魚臺列嶼是臺灣的附屬島嶼，依中華民國的行政區劃，釣魚臺列嶼屬哪一縣所管轄的？

桃園縣      宜蘭縣      花蓮縣

五、釣魚台列嶼的主權爭議，自 1972 年便陷入中、日、台三方之間的領土主權爭議當中。這些國家之間的衝突可以透過什麼樣的方式解決？（自由作答）

猜考

# 宜蘭縣立興中國中一〇一學年度蘭陽博物館鄉土踏查學習單

二年 2 班 13 號 姓名：李晨瑀

同學們，在參觀了蘭陽博物館後，想必你已留下了深刻的印象，例如以台灣東北角常見的「單面山」為設計理念之主體建築，或是館外有著大片溼地的「烏石礁遺址公園」，還是館內不同展廳的展示主題或陳設…等，請為你的學習歷程留下一些紀錄吧！

## 第一關：牛刀小試（請在勾選正確答案）

1. 山之層—宜蘭地區夾在哪兩座山脈之間，形成了多雨濃霧的氣候，如同一座「迷霧森林」？

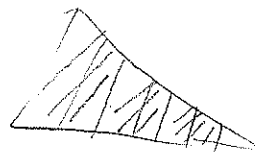
- 中央山脈  雪山山脈  海岸山脈  阿里山山脈  玉山山脈

2. 平原層—請問頭城搶孤這項民俗活動是在什麼時間舉辦的？


- 大年初一  清明節  端午節  中秋節  農曆七月最後一天

3. 海之層—黑潮是對我們非常重要的一股洋流，你了解「黑潮」的特徵了嗎？

顏色	水質	流向	水溫	性質
<input checked="" type="checkbox"/> 黑色	<input checked="" type="checkbox"/> 乾淨清澈	<input checked="" type="checkbox"/> 往北流	<input checked="" type="checkbox"/> 比四周海水溫暖	<input type="checkbox"/> 寒流
<input type="checkbox"/> 深藍色	<input type="checkbox"/> 混濁不清	<input type="checkbox"/> 往南流	<input type="checkbox"/> 比四周海水冰涼	<input checked="" type="checkbox"/> 暖流



## 第二關：請描繪出蘭陽博物館令人驚艷的主體建築，並給它點顏色瞧瞧！



## 第三關：經過這次的蘭博參訪之旅後，你學到了什麼？對於自己的故鄉『宜蘭』，你有什麼更進一步的認識呢？請以至少 50 個字寫下你的心得感想。

讓我更了解宜蘭，而且不用上課很開心，也能和同學玩，所以很希望可以多出去校外教學。

## 釣魚臺的主權與爭議 學習單

一、國家組成有哪些要素？（複選，答案不只一個）

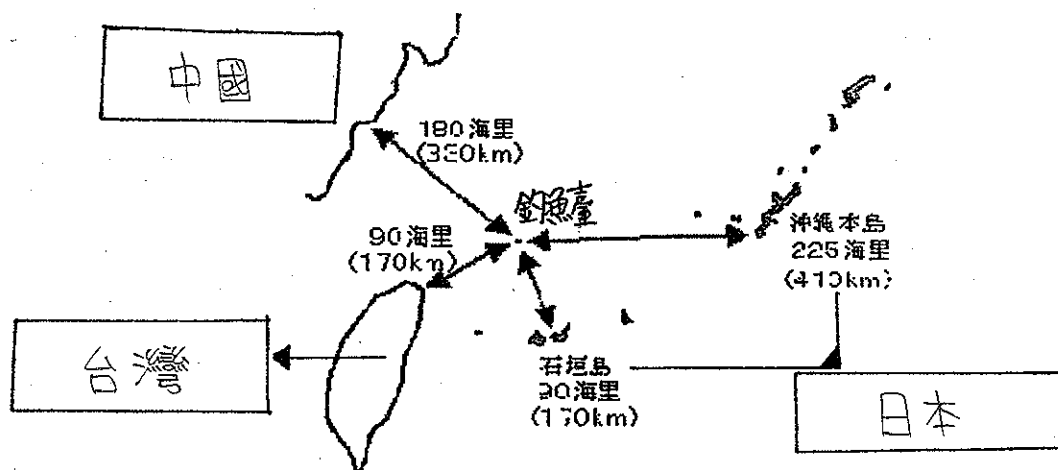
領土      金錢      人民      政府      主權

二、釣魚臺列嶼的位置在哪一洲？

美洲      亞洲      非洲      歐洲

三、釣魚臺列嶼鄰近的國家有哪些？（複選，答案不只一個，並於下方地圖上填入該國家所在位置）

美國      臺灣      埃及      英國  
紐西蘭      日本      德國      中華人民共和國



四、釣魚臺列嶼是臺灣的附屬島嶼，依中華民國的行政區劃，釣魚臺列嶼屬哪一縣所管轄的？

桃園縣      宜蘭縣      花蓮縣

五、釣魚台列嶼的主權爭議，自 1972 年便陷入中、日、台三方之間的領土主權爭議當中。這些國家之間的衝突可以透過什麼樣的方式解決？（自由作答）

戰爭、數支、海帶拳、猜拳、烏龜烏龜翻、黑白切、



宜蘭縣立興中國中一〇一學年度蘭陽博物館鄉土踏查學習單

二年 二 班 10 號 姓名：盧九木

同學們，在參觀了蘭陽博物館後，想必你已留下了深刻的印象，例如以台灣東北角常見的「單面山」為設計理念之主體建築，或是館外有著大片溼地的「烏石礁遺址公園」，還是館內不同展廳的展示主題或陳設...等，請為你的學習歷程留下一些紀錄吧！

第一關：牛刀小試（請在□勾選正確答案）

1. 山之層—宜蘭地區夾在哪兩座山脈之間，形成了多雨濃霧的氣候，如同一座「迷霧森林」？

- 中央山脈  雪山山脈  海岸山脈  阿里山山脈  玉山山脈


2. 平原層—請問頭城搶孤這項民俗活動是在什麼時間舉辦的？

- 大年初一  清明節  端午節  中秋節  農曆七月最後一天

3. 海之層—黑潮是對我們非常重要的一股洋流，你了解「黑潮」的特徵了嗎？

顏色	水質	流向	水溫	性質
<input checked="" type="checkbox"/> 黑色	<input type="checkbox"/> 乾淨清澈	<input checked="" type="checkbox"/> 往北流	<input checked="" type="checkbox"/> 比四周海水溫暖	<input type="checkbox"/> 寒流
<input type="checkbox"/> 深藍色	<input type="checkbox"/> 混濁不清	<input type="checkbox"/> 往南流	<input type="checkbox"/> 比四周海水冰涼	<input checked="" type="checkbox"/> 暖流

第二關：請描繪出蘭陽博物館令人驚艷的主體建築，並給它點顏色瞧瞧！



第三關：經過這次的蘭博參訪之旅後，你學到了什麼？對於自己的故鄉『宜蘭』，你有什麼更進一步的認識呢？請以至少 50 個字寫下你的心得感想。

蘭博有很多我們沒看過的東西，也學到了很多知識，也玩的很開心，還有跟同學的互動，讓我印象深刻。

## 釣魚臺的主權與爭議 學習單

一、國家組成有哪些要素？（複選，答案不只一個）

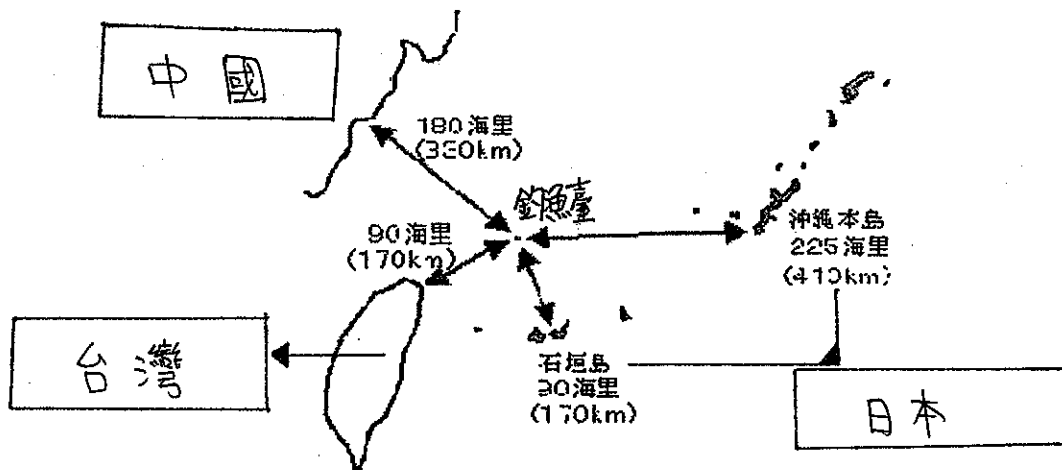
領土      金錢      人民      政府      主權

二、釣魚臺列嶼的位置在哪一洲？

美洲      亞洲      非洲      歐洲

三、釣魚臺列嶼鄰近的國家有哪些？（複選，答案不只一個，並於下方地圖上填入該國家所在位置）

美國      臺灣      埃及      英國  
紐西蘭      日本      德國      中華人民共和國



四、釣魚臺列嶼是臺灣的附屬島嶼，依中華民國的行政區劃，釣魚臺列嶼屬哪一縣所管轄的？

桃園縣      宜蘭縣      花蓮縣

五、釣魚台列嶼的主權爭議，自 1972 年便陷入中、日、台三方之間的領土主權爭議當中。這些國家之間的衝突可以透過什麼樣的方式解決？（自由作答）

打水槍

# 宜蘭縣立興中國中一〇一學年度蘭陽博物館鄉土踏查學習單

二年 二班 9 號 姓名：楊子璽

同學們，在參觀了蘭陽博物館後，想必你已留下了深刻的印象，例如以台灣東北角常見的「單面山」為設計理念之主體建築，或是館外有著大片溼地的「烏石礁遺址公園」，還是館內不同展廳的展示主題或陳設…等，請為你的學習歷程留下一些紀錄吧！

## 第一關：牛刀小試（請在勾選正確答案）

1. 山之層—宜蘭地區夾在哪兩座山脈之間，形成了多雨濃霧的氣候，如同一座「迷霧森林」？

中央山脈  雪山山脈  海岸山脈  阿里山山脈  玉山山脈

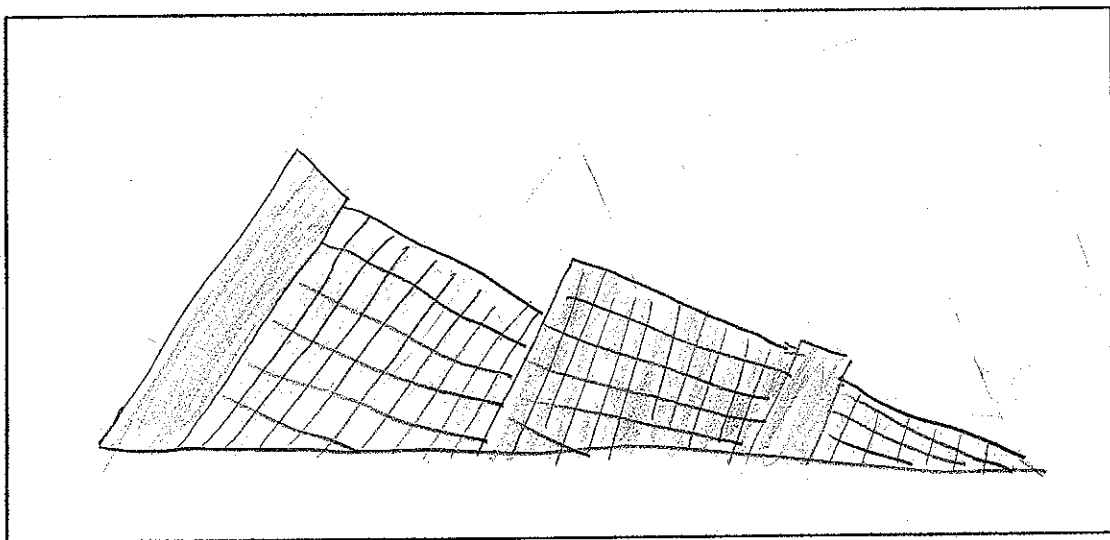
2. 平原層—請問頭城搶孤這項民俗活動是在什麼時間舉辦的？

大年初一  清明節  端午節  中秋節  農曆七月最後一天

3. 海之層—黑潮是對我們非常重要的一股洋流，你了解「黑潮」的特徵了嗎？

顏色	水質	流向	水溫	性質
<input checked="" type="checkbox"/> 黑色	<input checked="" type="checkbox"/> 乾淨清澈	<input checked="" type="checkbox"/> 往北流	<input checked="" type="checkbox"/> 比四周海水溫暖	<input type="checkbox"/> 寒流
<input type="checkbox"/> 深藍色	<input type="checkbox"/> 混濁不清	<input type="checkbox"/> 往南流	<input type="checkbox"/> 比四周海水冰涼	<input checked="" type="checkbox"/> 暖流

## 第二關：請描繪出蘭陽博物館令人驚艷的主體建築，並給它點顏色瞧瞧！



第三關：經過這次的蘭博參訪之旅後，你學到了什麼？對於自己的故鄉「宜蘭」，你有什麼更進一步的認識呢？請以至少 50 個字寫下你的心得感想。

去了一趟蘭陽博物館之後，我學到了許多和宜蘭有關的事物，也了解了許多的民俗活動以及宜蘭的地理和氣候，去了蘭博，收穫真多。

## 釣魚臺的主權與爭議 學習單

一、國家組成有哪些要素？（複選，答案不只一個）

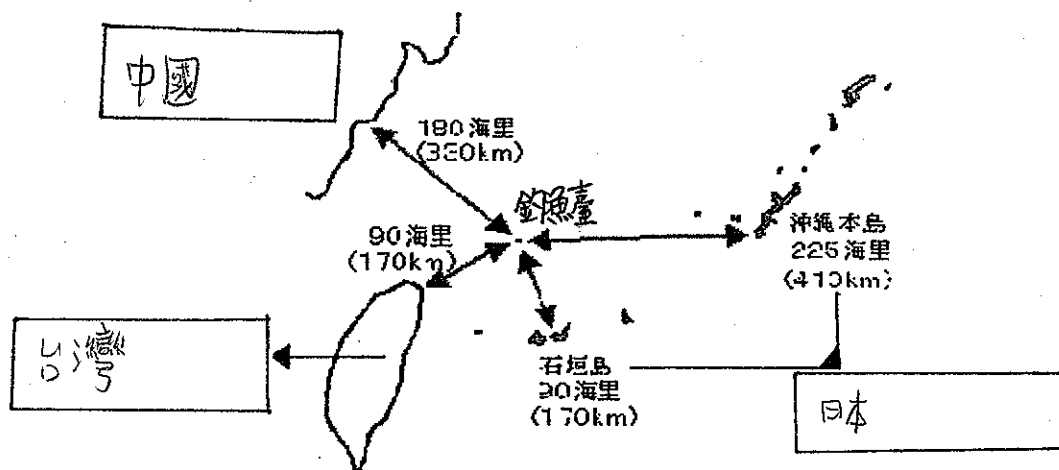
領土    金錢    人民    政府    主權

二、釣魚臺列嶼的位置在哪一洲？

美洲    亞洲    非洲    歐洲

三、釣魚臺列嶼鄰近的國家有哪些？（複選，答案不只一個，並於下方地圖上填入該國家所在位置）

美國    臺灣    埃及    英國  
紐西蘭    日本    德國    中華人民共和國



四、釣魚臺列嶼是臺灣的附屬島嶼，依中華民國的行政區劃，釣魚臺列嶼屬哪一縣所管轄的？

桃園縣    宜蘭縣    花蓮縣

五、釣魚台列嶼的主權爭議，自 1972 年便陷入中、日、台三方之間的領土主權爭議當中。這些國家之間的衝突可以透過什麼樣的方式解決？（自由作答）

猜拳

---

---

# 宜蘭縣立興中國中一〇一學年度蘭陽博物館鄉土踏查學習單

二年 三 班 11 號 姓名：沈芷晴

同學們，在參觀了蘭陽博物館後，想必你已留下了深刻的印象，例如以台灣東北角常見的「單面山」為設計理念之主體建築，或是館外有著大片溼地的「烏石礁遺址公園」，還是館內不同展廳的展示主題或陳設…等，請為你的學習歷程留下一些紀錄吧！

## 第一關：牛刀小試（請在勾選正確答案）

1. 山之層—宜蘭地區夾在哪兩座山脈之間，形成了多雨濃霧的氣候，如同一座「迷霧森林」？

中央山脈  雪山山脈  海岸山脈  阿里山山脈  玉山山脈


2. 平原層—請問頭城搶孤這項民俗活動是在什麼時間舉辦的？

大年初一  清明節  端午節  中秋節  農曆七月最後一天

3. 海之層—黑潮是對我們非常重要的一股洋流，你了解「黑潮」的特徵了嗎？

顏色	水質	流向	水溫	性質
<input type="checkbox"/> 黑色	<input checked="" type="checkbox"/> 乾淨清澈	<input checked="" type="checkbox"/> 往北流	<input checked="" type="checkbox"/> 比四周海水溫暖	<input type="checkbox"/> 寒流
<input checked="" type="checkbox"/> 深藍色	<input type="checkbox"/> 混濁不清	<input type="checkbox"/> 往南流	<input type="checkbox"/> 比四周海水冰涼	<input checked="" type="checkbox"/> 暖流

## 第二關：請描繪出蘭陽博物館令人驚艷的主體建築，並給它點顏色瞧瞧！



第三關：經過這次的蘭博參訪之旅後，你學到了什麼？對於自己的故鄉『宜蘭』，你有什麼更進一步的認識呢？請以至少 50 個字寫下你的心得感想。

蘭陽博物館很漂亮，結合了大自然的美，有著蘭陽平原的典藏，展示出宜蘭早期的生活型態和生活方式與原住民的生活特色，宜蘭連接著中央山脈和雪山山脈，集結著太平洋帶來的季風、水氣孕育著，型成了蘭陽平原。

## 釣魚臺的主權與爭議 學習單

一、國家組成有哪些要素？（複選，答案不只一個）

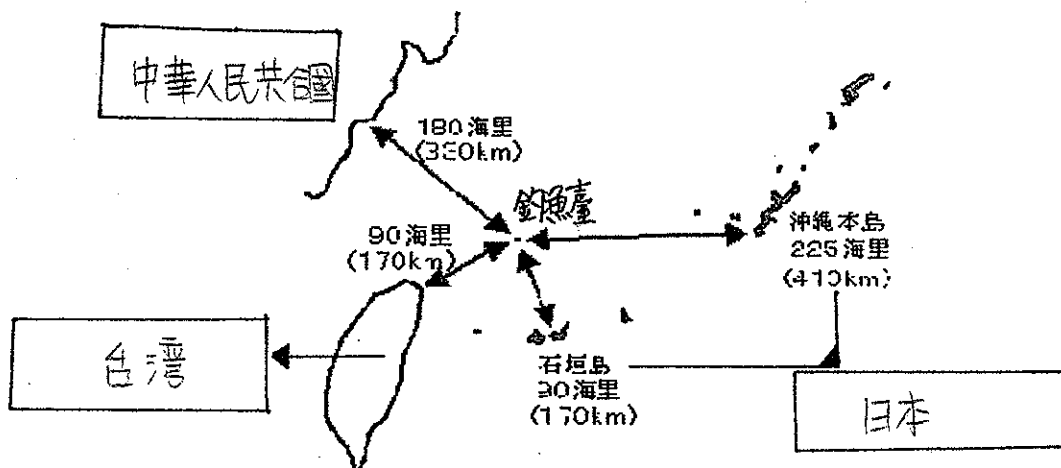
領土    金錢    人民    政府    主權

二、釣魚臺列嶼的位置在哪一洲？

美洲    亞洲    非洲    歐洲

三、釣魚臺列嶼鄰近的國家有哪些？（複選，答案不只一個，並於下方地圖上填入該國家所在位置）

美國    臺灣    埃及    英國  
紐西蘭    日本    德國    中華人民共和國



四、釣魚臺列嶼是臺灣的附屬島嶼，依中華民國的行政區劃，釣魚臺列嶼屬哪一縣所管轄的？

桃園縣    宜蘭縣    花蓮縣

五、釣魚台列嶼的主權爭議，自 1972 年便陷入中、日、台三方之間的領土主權爭議當中。這些國家之間的衝突可以透過什麼樣的方式解決？（自由作答）

國與國的統率溝通協調。

# 宜蘭縣立興中國中一〇一學年度蘭陽博物館鄉土踏查學習單

二年 三 班 5 號 姓名：康睿哲

同學們，在參觀了蘭陽博物館後，想必你已留下了深刻的印象，例如以台灣東北角常見的「單面山」為設計理念之主體建築，或是館外有著大片溼地的「烏石礁遺址公園」，還是館內不同展廳的展示主題或陳設…等，請為你的學習歷程留下一些紀錄吧！

## 第一關：牛刀小試（請在勾選正確答案）

1. 山之層—宜蘭地區夾在哪兩座山脈之間，形成了多雨濃霧的氣候，如同一座「迷霧森林」？

中央山脈  雪山山脈  海岸山脈  阿里山山脈  玉山山脈

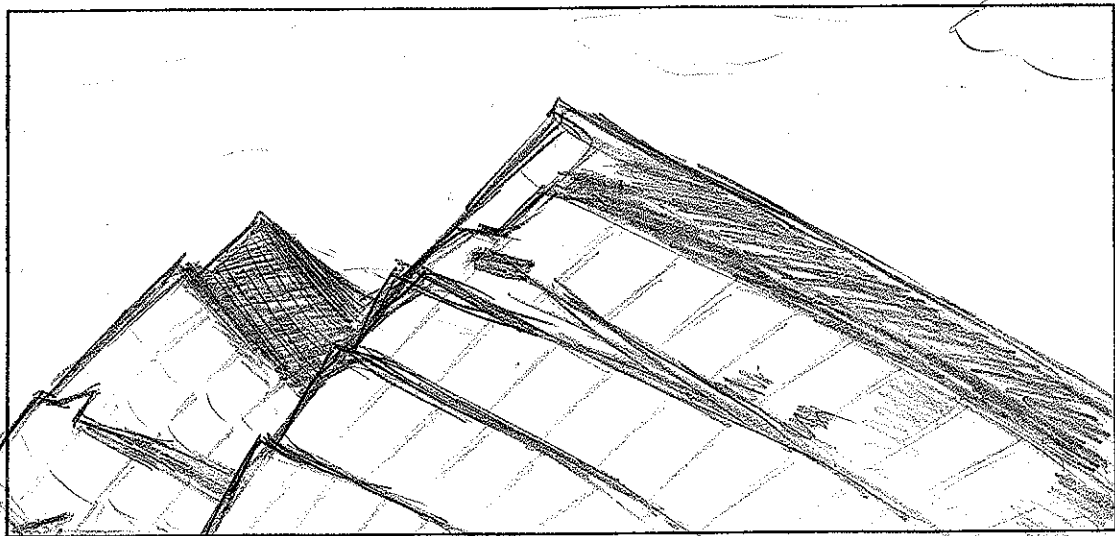
2. 平原層—請問頭城搶孤這項民俗活動是在什麼時間舉辦的？

大年初一  清明節  端午節  中秋節  農曆七月最後一天

3. 海之層—黑潮是對我們非常重要的一股洋流，你了解「黑潮」的特徵了嗎？

顏色	水質	流向	水溫	性質
<input type="checkbox"/> 黑色	<input checked="" type="checkbox"/> 乾淨清澈	<input type="checkbox"/> 往北流	<input checked="" type="checkbox"/> 比四周海水溫暖	<input type="checkbox"/> 寒流
<input checked="" type="checkbox"/> 深藍色	<input type="checkbox"/> 混濁不清	<input type="checkbox"/> 往南流	<input type="checkbox"/> 比四周海水冰涼	<input checked="" type="checkbox"/> 暖流

## 第二關：請描繪出蘭陽博物館令人驚艷的主體建築，並給它點顏色瞧瞧！



第三關：經過這次的蘭博參訪之旅後，你學到了什麼？對於自己的故鄉『宜蘭』，你有什麼更進一步的認識呢？請以至少 50 個字寫下你的心得感想。

這一次到蘭陽博物館，讓我更了解宜蘭的自然環境及人文風貌，讓我學到很多東西。

## 釣魚臺的主權與爭議 學習單

一、國家組成有哪些要素？（複選，答案不只一個）

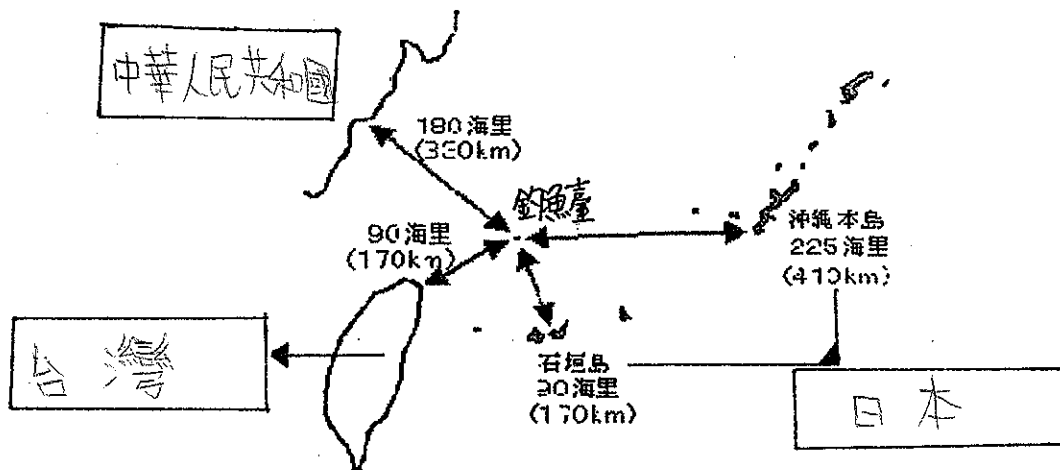
領土    金錢    人民    政府    主權

二、釣魚臺列嶼的位置在哪一洲？

美洲    亞洲    非洲    歐洲

三、釣魚臺列嶼鄰近的國家有哪些？（複選，答案不只一個，並於下方地圖上填入該國家所在位置）

美國    臺灣    埃及    英國  
紐西蘭    日本    德國    中華人民共和國



四、釣魚臺列嶼是臺灣的附屬島嶼，依中華民國的行政區劃，釣魚臺列嶼屬哪一縣所管轄的？

桃園縣    宜蘭縣    花蓮縣

五、釣魚台列嶼的主權爭議，自 1972 年便陷入中、日、台三方之間的領土主權爭議當中。這些國家之間的衝突可以透過什麼樣的方式解決？（自由作答）

戰爭打仗



# 宜蘭縣立興中國中一〇一學年度蘭陽博物館鄉土踏查學習單

二年 3 班 乙 號 姓名：李家齊

同學們，在參觀了蘭陽博物館後，想必你已留下了深刻的印象，例如以台灣東北角常見的「單面山」為設計理念之主體建築，或是館外有著大片溼地的「烏石礁遺址公園」，還是館內不同展廳的展示主題或陳設…等，請為你的學習歷程留下一些紀錄吧！

## 第一關：牛刀小試（請在勾選正確答案）

1. 山之層—宜蘭地區夾在哪兩座山脈之間，形成了多雨濃霧的氣候，如同一座「迷霧森林」？

中央山脈  雪山山脈  海岸山脈  阿里山山脈  玉山山脈

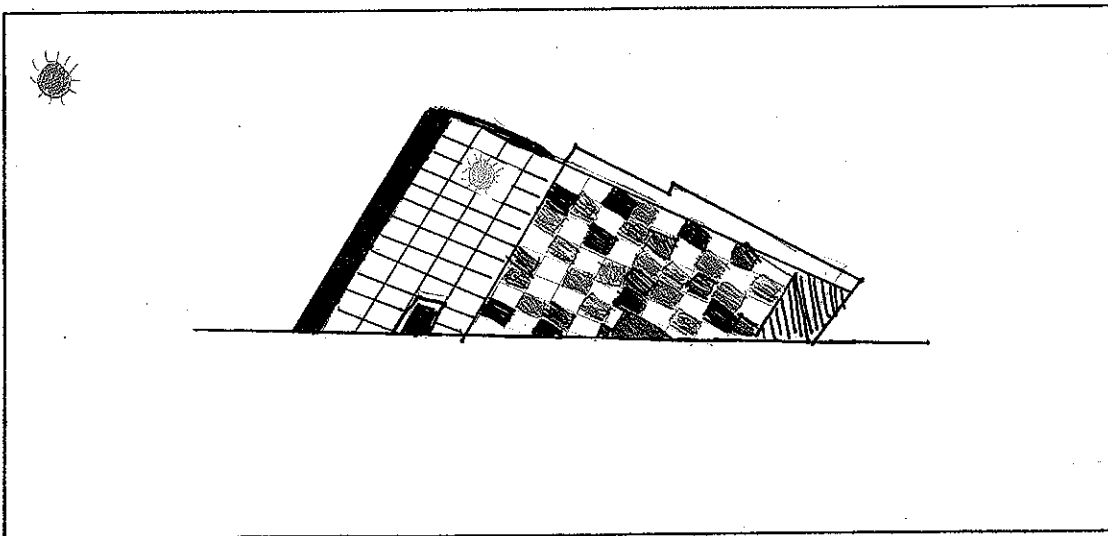
2. 平原層—請問頭城搶孤這項民俗活動是在什麼時間舉辦的？

大年初一  清明節  端午節  中秋節  農曆七月最後一天

3. 海之層—黑潮是對我們非常重要的一股洋流，你了解「黑潮」的特徵了嗎？

顏色	水質	流向	水溫	性質
<input type="checkbox"/> 黑色	<input type="checkbox"/> 乾淨清澈	<input checked="" type="checkbox"/> 往北流	<input checked="" type="checkbox"/> 比四周海水溫暖	<input type="checkbox"/> 寒流
<input checked="" type="checkbox"/> 深藍色	<input type="checkbox"/> 混濁不清	<input type="checkbox"/> 往南流	<input type="checkbox"/> 比四周海水冰涼	<input checked="" type="checkbox"/> 暖流

## 第二關：請描繪出蘭陽博物館令人驚艷的主體建築，並給它點顏色瞧瞧！



## 第三關：經過這次的蘭博參訪之旅後，你學到了什麼？對於自己的故鄉『宜蘭』，你有什麼更進一步的認識呢？請以至少 50 個字寫下你的心得感想。

參觀完了蘭博後，讓我知道了原來以前的宜蘭人是這麼辛苦；也知道了魚塭

與海洋生態對宜蘭人這麼重要，因為很多人靠海維生啊！

## 釣魚臺的主權與爭議 學習單

一、國家組成有哪些要素？（複選，答案不只一個）

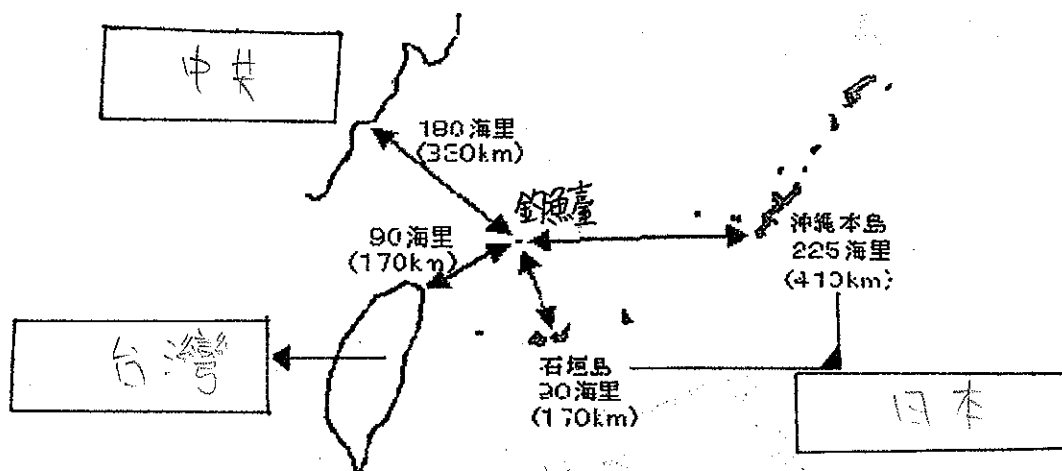
領土    金錢    人民    政府    主權

二、釣魚臺列嶼的位置在哪一洲？

美洲    亞洲    非洲    歐洲

三、釣魚臺列嶼鄰近的國家有哪些？（複選，答案不只一個，並於下方地圖上填入該國家所在位置）

美國    臺灣    埃及    英國  
紐西蘭    日本    德國    中華人民共和國



四、釣魚臺列嶼是臺灣的附屬島嶼，依中華民國的行政區劃，釣魚臺列嶼屬哪一縣所管轄的？

桃園縣    宜蘭縣    花蓮縣

五、釣魚台列嶼的主權爭議，自 1972 年便陷入中、日、台三方之間的領土主權爭議當中。這些國家之間的衝突可以透過什麼樣的方式解決？（自由作答）

分邊捕魚，一年交換一次。

# 宜蘭縣立興中國中一〇一學年度蘭陽博物館鄉土踏查學習單

二年 三班 16 號 姓名：楊詠琪

同學們，在參觀了蘭陽博物館後，想必你已留下了深刻的印象，例如以台灣東北角常見的「單面山」為設計理念之主體建築，或是館外有著大片溼地的「烏石礁遺址公園」，還是館內不同展廳的展示主題或陳設…等，請為你的學習歷程留下一些紀錄吧！

## 第一關：牛刀小試（請在勾選正確答案）

1. 山之層—宜蘭地區夾在哪兩座山脈之間，形成了多雨濃霧的氣候，如同一座「迷霧森林」？

中央山脈 雪山山脈 海岸山脈 阿里山山脈 玉山山脈

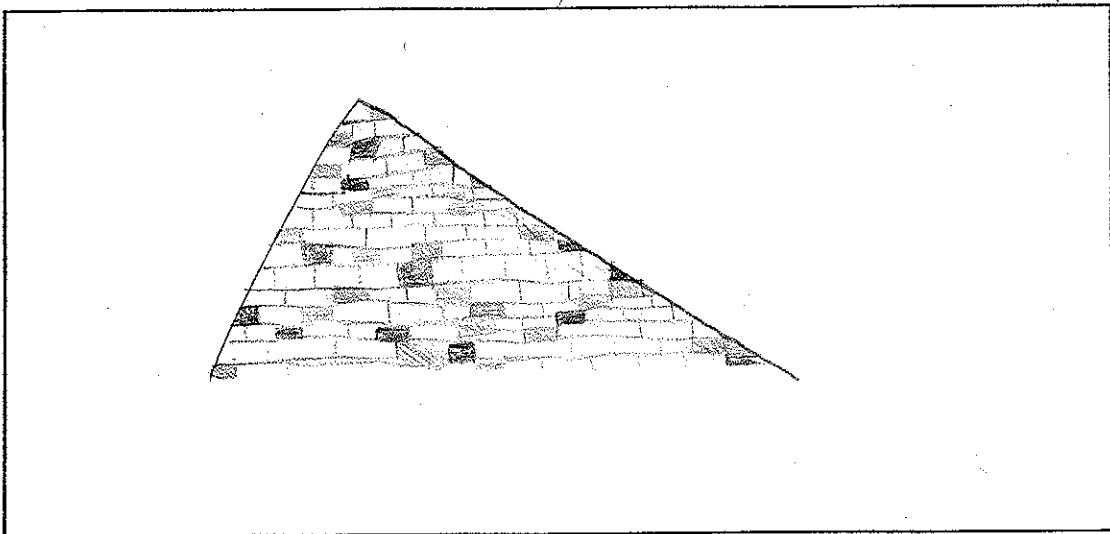
2. 平原層—請問頭城搶孤這項民俗活動是在什麼時間舉辦的？

大年初一 清明節 端午節 中秋節 農曆七月最後一天

3. 海之層—黑潮是對我們非常重要的一股洋流，你了解「黑潮」的特徵了嗎？

顏色	水質	流向	水溫	性質
<input type="checkbox"/> 黑色	<input checked="" type="checkbox"/> 乾淨清澈	<input checked="" type="checkbox"/> 往北流	<input checked="" type="checkbox"/> 比四周海水溫暖	<input type="checkbox"/> 寒流
<input checked="" type="checkbox"/> 深藍色	<input type="checkbox"/> 混濁不清	<input type="checkbox"/> 往南流	<input type="checkbox"/> 比四周海水冰涼	<input checked="" type="checkbox"/> 暖流

## 第二關：請描繪出蘭陽博物館令人驚艷的主體建築，並給它點顏色瞧瞧！



第三關：經過這次的蘭博參訪之旅後，你學到了什麼？對於自己的故鄉「宜蘭」，你有什麼更進一步的認識呢？請以至少 50 個字寫下你的心得感想。

原來我們所住的地方有這麼多我們不知道的事物，這次校外教學讓我更加認識了自己的家鄉，使我受益良多。

## 釣魚臺的主權與爭議 學習單

一、國家組成有哪些要素？（複選，答案不只一個）

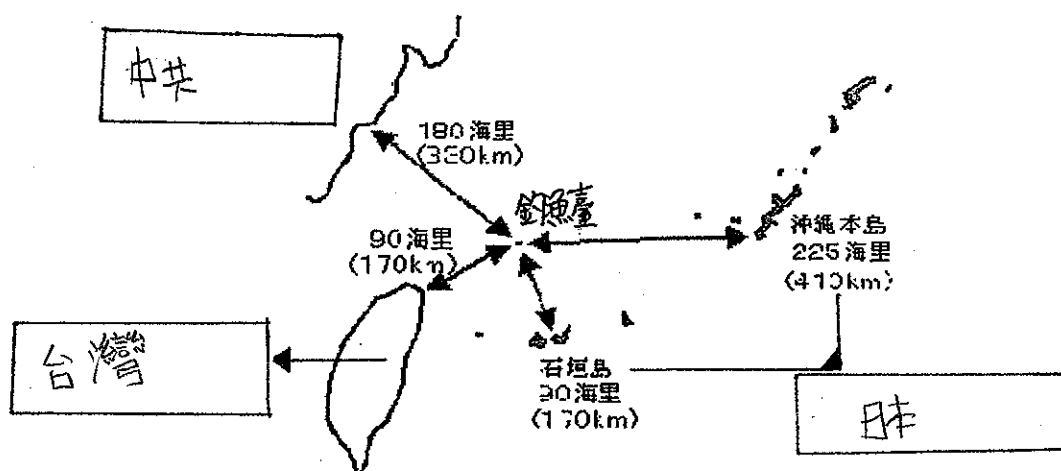
領土      金錢      人民      政府      主權

二、釣魚臺列嶼的位置在哪一洲？

美洲      亞洲      非洲      歐洲

三、釣魚臺列嶼鄰近的國家有哪些？（複選，答案不只一個，並於下方地圖上填入該國家所在位置）

美國      臺灣      埃及      英國  
紐西蘭      日本      德國      中華人民共和國



四、釣魚臺列嶼是臺灣的附屬島嶼，依中華民國的行政區劃，釣魚臺列嶼屬哪一縣所管轄的？

桃園縣      宜蘭縣      花蓮縣

五、釣魚台列嶼的主權爭議，自 1972 年便陷入中、日、台三方之間的領土主權爭議當中。這些國家之間的衝突可以透過什麼樣的方式解決？（自由作答）

三國的元首在第四國土地上開會

# 宜蘭縣立興中國中一〇一學年度蘭陽博物館鄉土踏查學習單

二年 3 班 20 號 姓名：卓立

同學們，在參觀了蘭陽博物館後，想必你已留下了深刻的印象，例如以台灣東北角常見的「單面山」為設計理念之主體建築，或是館外有著大片溼地的「烏石礁遺址公園」，還是館內不同展廳的展示主題或陳設…等，請為你的學習歷程留下一些紀錄吧！

## 第一關：牛刀小試（請在勾選正確答案）

1. 山之層—宜蘭地區夾在哪兩座山脈之間，形成了多雨濃霧的氣候，如同一座「迷霧森林」？

中央山脈  雪山山脈  海岸山脈  阿里山山脈  玉山山脈


2. 平原層—請問頭城搶孤這項民俗活動是在什麼時間舉辦的？

大年初一  清明節  端午節  中秋節  農曆七月最後一天

3. 海之層—黑潮是對我們非常重要的一股洋流，你了解「黑潮」的特徵了嗎？

顏色	水質	流向	水溫	性質
<input type="checkbox"/> 黑色	<input checked="" type="checkbox"/> 乾淨清澈	<input checked="" type="checkbox"/> 往北流	<input checked="" type="checkbox"/> 比四周海水溫暖	<input type="checkbox"/> 寒流
<input checked="" type="checkbox"/> 深藍色	<input type="checkbox"/> 混濁不清	<input type="checkbox"/> 往南流	<input type="checkbox"/> 比四周海水冰涼	<input checked="" type="checkbox"/> 暖流

## 第二關：請描繪出蘭陽博物館令人驚艷的主體建築，並給它點顏色瞧瞧！



## 第三關：經過這次的蘭博參訪之旅後，你學到了什麼？對於自己的故鄉『宜蘭』，你有什麼更進一步的認識呢？請以至少 50 個字寫下你的心得感想。

去了蘭陽博物館後，我學到了更多的知識，也更了解我們的宜蘭了。蘭陽博物館的建築很特別，也很有趣，那裡好好玩，我好開心。

## 釣魚臺的主權與爭議 學習單

一、國家組成有哪些要素？（複選，答案不只一個）

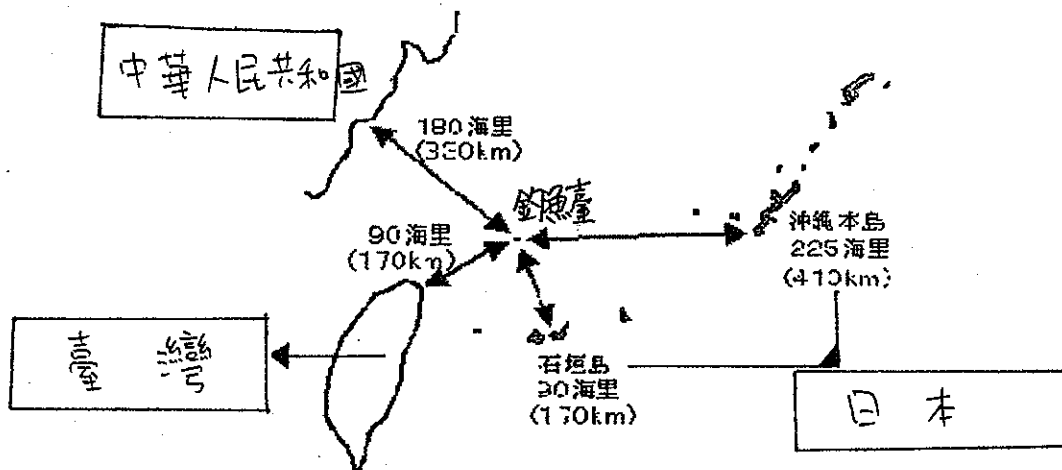
領土      金錢      人民      政府      主權

二、釣魚臺列嶼的位置在哪一洲？

美洲      亞洲      非洲      歐洲

三、釣魚臺列嶼鄰近的國家有哪些？（複選，答案不只一個，並於下方地圖上填入該國家所在位置）

美國      臺灣      埃及      英國  
紐西蘭      日本      德國      中華人民共和國



四、釣魚臺列嶼是臺灣的附屬島嶼，依中華民國的行政區劃，釣魚臺列嶼屬哪一縣所管轄的？

桃園縣      宜蘭縣      花蓮縣

五、釣魚台列嶼的主權爭議，自 1972 年便陷入中、日、台三方之間的領土主權爭議當中。這些國家之間的衝突可以透過什麼樣的方式解決？（自由作答）

好好溝通