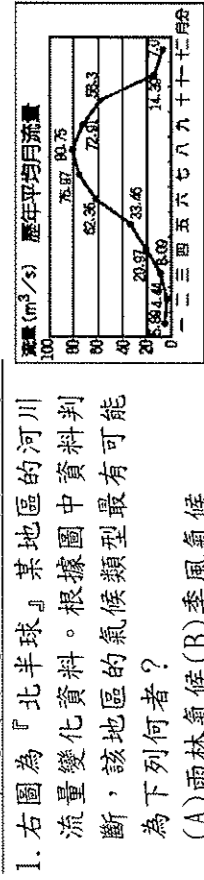
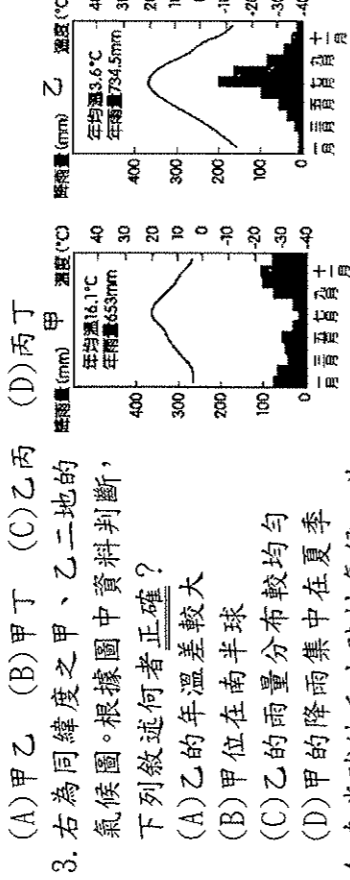


一、單題 (每題 2.5 分, 共 70 分)



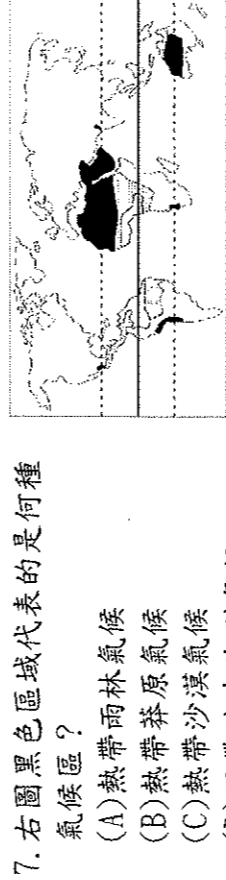
- (A) 雨林氣候 (B) 季風氣候  
(C) 沙漠氣候 (D) 地中海型氣候
2. 熊大從小生活在廣大內陸的農莊中, 長大後搬到同緯度的沿海地區從事捕魚, 那麼熊大應該可以感受到沿海和內陸地區的氣候有哪些明顯差異? (甲) 溫差大小 (乙) 風力方向 (丙) 降雨季節 (丁) 降雨多寡



- (A) 甲乙 (B) 甲丁 (C) 乙丙 (D) 丙丁
4. 南半球的產生與南半球所擁有的哪一項地理環境有關?
- (A) 平均海拔高度較低 (B) 人口分布較為稀疏  
(C) 沿海地區缺乏暖流 (D) 溫帶陸塊面積較小
5. 右圖是位在某一國家的聖誕節慶祝會照片。根據照片中人物的服裝判斷, 此種情形最有可能發生在下列哪一個半球?
- (A) 東半球 (B) 西半球  
(C) 南半球 (D) 北半球



6. 下列哪一個不是形成沙漠的條件?
- (A) 被副熱帶高壓帶籠罩 (B) 有暖流經過  
(C) 距海遙遠 (D) 位於背風側



- (A) 熱帶雨林氣候  
(B) 熱帶莽原氣候  
(C) 熱帶沙漠氣候  
(D) 溫帶地中海型氣候


8. 根據右表四個城市的經、緯度資料, 推測年溫差最小的城市為何?
- |     |       |        |
|-----|-------|--------|
| (A) | 5°E   | 60°N   |
| (B) | 20°W  | 30°S   |
| (C) | 120°E | 5°S    |
| (D) | 80°W  | 23.5°N |

9. 受到地形影響, 高山地區的哪些現象會呈垂直分布?

- (A) 氣溫及植被 (B) 雨量及營力  
(C) 風向及氣壓 (D) 風向及氣溫

10. 右圖是一張描述某地自然生態的圖畫。下列針對當地氣候特徵的描述, 何者正確?

- (A) 夏雨冬乾 (B) 四季皆雨  
(C) 夏乾冬雨 (D) 四季乾燥少雨



11. 報紙上看到一篇旅遊文章, 寫著: 「當天, ○○正處於『白夜節』節慶, 晚上如同白天一般, 我們一同歡慶到十一點才結束……」。由此判斷, 可知道文中的○○應該位於哪個地區?
- (A) 極圈附近的國家 (B) 赤道經過的國家  
(C) 北回歸線經過的國家 (D) 南回歸線經過的國家

12. 「如果一地區在冷、乾、溼、熱的表現太過極端, 人口自然稀少; 反之, 中低緯度, 地勢平坦, 溫和溼潤和近海地區, 常是世界人口密集之地。」上文所述, 顯示人口分布受哪一個自然因素的影響?
- (A) 氣候、土壤 (B) 土壤、天然植物  
(C) 天然植物、地形 (D) 地形、氣候。

13. 饅頭人參加地理知識競賽, 有道題目為「世界之最」。下列為題目所舉出的「世界之最」, 其中哪個選項是正確的?

- (A) 世界最大的沙漠: 塔克拉瑪干沙漠  
(B) 世界最高的山脈: 安地斯山脈  
(C) 世界最大的雨林: 亞馬孫雨林  
(D) 世界最高的高原: 巴西高原

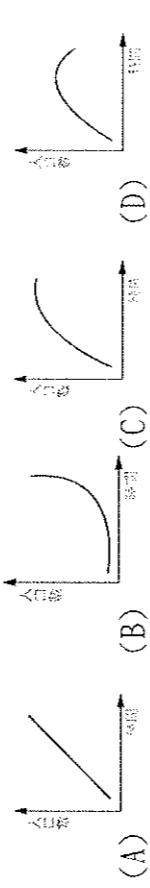
14. 「熱帶雨林生長在終年溼熱的環境下, 那裡終年幾乎沒有季節上的差別。白天溫度恆定在約 30°C, 幾乎每天下午都下雨, 年降水量至少 2,000 mm, 多時可達 8,000 mm。熱帶雨林是個生機蓬勃的環境, 分布於非洲中部、東南亞和中南美洲等地。」請問: 熱帶雨林的降雨應屬下列哪一種類型?



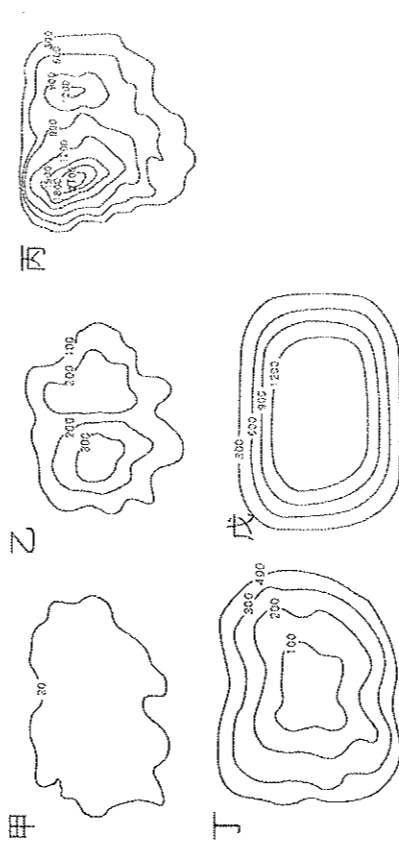
15. 承上題, 下列四種建築形式中, 哪一個最有可能在熱帶雨林區見到?



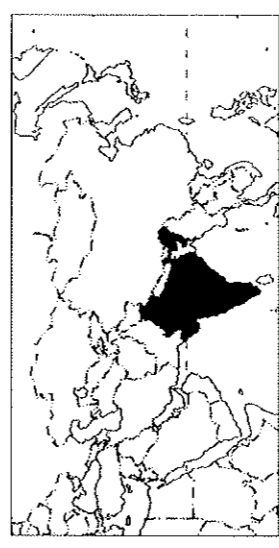
16. 下列哪張圖最能呈現出世界人口的成長情形?



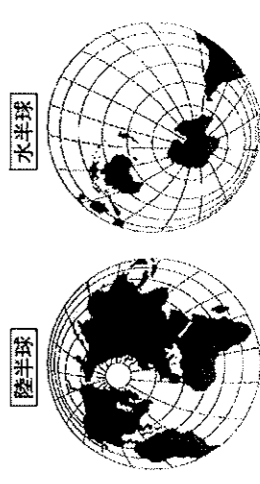
17. 承上題, 造成此特徵的原因不可能為下列何者?
- (A) 科技進步, 糧產增多 (B) 醫療進步, 壽命延長  
(C) 死亡率日益下降 (D) 氣候變遷, 適於人居的地區愈來愈多
18. 世界的地形多樣且豐富, 下列哪兩種地形在世界地形中所占面積較大?
- (A) 甲乙 (B) 甲戊 (C) 乙丙 (D) 丙戊。



19. 不同民族在不同環境孕育出多元文化, 也反映在語言、宗教等內在精神層次上。請問: 附圖中黑色地區的國家因宗教信仰的影響, 大部分的居民具有下列哪一生活習性?
- (A) 以華語為官方通行語 (B) 將牛隻視為聖獸看待  
(C) 每周末教堂做禮拜 (D) 每日定時向聖地參加朝拜



20. 附圖是水、陸半球的海陸分布圖 (深色為陸地、淺色為海洋)。以下關於此圖的敘述, 何者正確?
- (A) 南極洲是水半球中心 (B) 水半球的海洋面積約占 55%  
(C) 中國皆位於陸半球 (D) 陸半球的陸地較海洋面積大



21. 下列哪些地區是世界人口分布較稠密的地區？(甲)季風亞洲(乙)尼羅河沿岸(丙)撒哈拉盆地(丁)亞馬孫盆地

(A)甲乙 (B)丙丁 (C)甲丙 (D)乙丁

22. 地理老師幫同學整理了亞洲各地季風風向表，請問：表中 I、II、III、IV 依序為下列何者？

(A)東北、東南、西北、西南 (B)東南、西北、西南、東北  
(C)西北、東南、東北、西南 (D)西北、西南、東北、東南

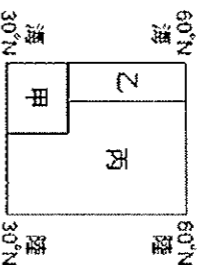
緯度	地區	冬季(1月)	夏季(7月)
30°N 以北	1. 東北、華北 2. 東北亞	I 風	II 風
30°N 以南	1. 華南、台灣 2. 東南亞、南亞	III 風	IV 風

23. 喜馬拉雅山位於哪兩個板塊的接觸地帶？

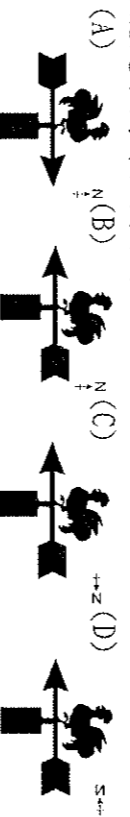
(A) 太平洋板塊、南美板塊 (B) 太平洋板塊、歐亞板塊  
(C) 非洲板塊、印度澳洲板塊 (D) 歐亞板塊、印度澳洲板塊

24. 右圖是北半球的溫帶溼潤氣候三型分布示意圖。依照溫帶海洋性、溫帶大陸性、溫帶地中海型的順序排列，下列何者正確？

(A) 甲乙丙 (B) 甲丙乙  
(C) 乙甲丙 (D) 乙丙甲

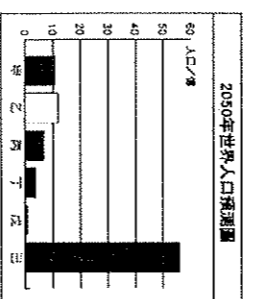


25. 承上題，避免到氣候溫和的乙區旅行，發覺屋頂上公雞造型的風向標十分可愛。由上述推測，避免當時看見的公雞，比較可能是下列哪個圖示？



26. 現今因為人類的生活改善，六大洲人口成長快速，附圖為西元 2050 年人口預測圖。圖中何者可能是亞洲和非洲的人口數據？

(A) 甲乙 (B) 乙己 (C) 丙丁 (D) 戊己



27. 潔西卡在郵局網頁上看到如圖的訊息，

**最新消息 全部列表**

● 首頁 ● 捐獻中心 ● 最新消息

◎ 圖上員工 ◎ 圖列表

103年7月底總運送萊、埃及、印尼、巴基斯坦、沙烏地阿拉伯、土耳其、阿拉伯聯合大公國等國之連續假期，寄往上述國家的郵件請儘早交寄，以免導致延誤。

發件地點：郵局 發件時間：103/07/21 電話：5588

28. 詹姆士將世界氣候的降水特徵整理了一張比較表，其中有一項不小心搞錯了請幫詹姆士找出哪一項有誤？

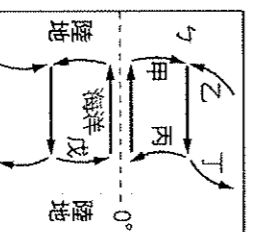
降水季節	(A) 全年有雨	(B) 全年少雨	(C) 夏乾冬雨	(D) 夏雨冬乾
氣候名稱	熱帶雨林	寒帶氣候	溫帶大陸性	熱帶草原
	溫帶海洋性	熱帶沙漠	溫帶地中海型	熱帶季風

## 二、題組 (每題 2.5 分，共 30 分)

\* 右圖為某個假想地區的洋流圖。請問：

29. 哪些洋流會造成沿海地區空氣穩定，對流不盛，形成較乾燥少雨的氣候？

(A) 甲丙丁 (B) 乙丙戊  
(C) 甲乙戊 (D) 乙丙丁



30. 造成北歐沿海一帶，較同緯度溫暖溼潤且冬季不結凍的洋流，與圖中何者的性質相同？

(A) 乙 (B) 丙 (C) 丁 (D) 戊

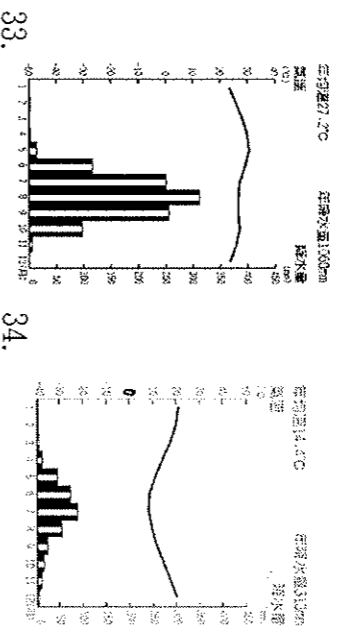
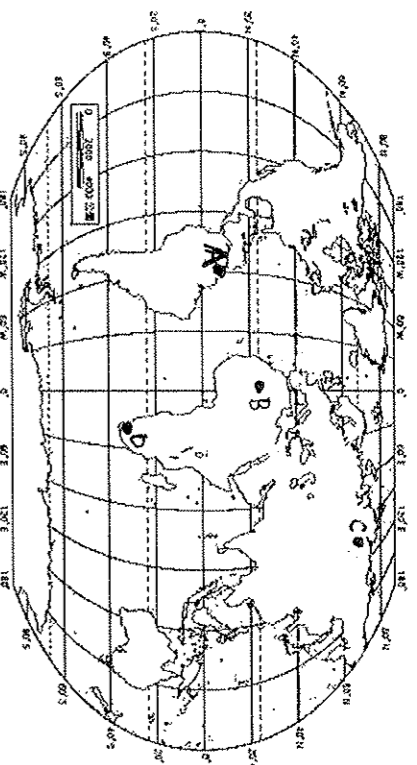
31. 承上題，此洋流的名稱應為？

(A) 親潮 (B) 黑潮 (C) 北大西洋暖流 (D) 阿拉斯加暖流

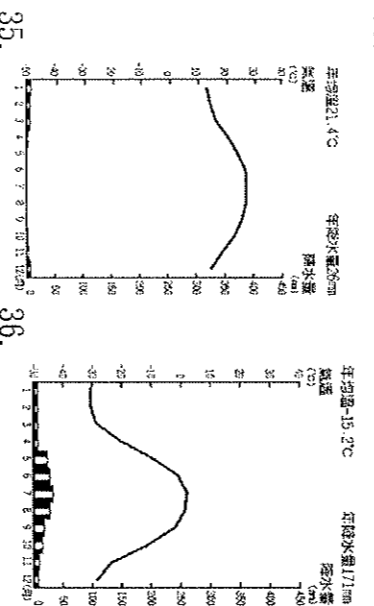
32. 若依此圖判斷，圖中的「乙」地區可能擁有下列哪種豐富的資源？

(A) 漁業 (B) 礦業 (C) 林業 (D) 農業

\* 莎莉從世界地圖中挑出四個探險的場所，可是不小心把四張氣候圖弄亂了。請問：這四張氣候圖分別代表附圖中哪些地方，請選出所在地點的代號。

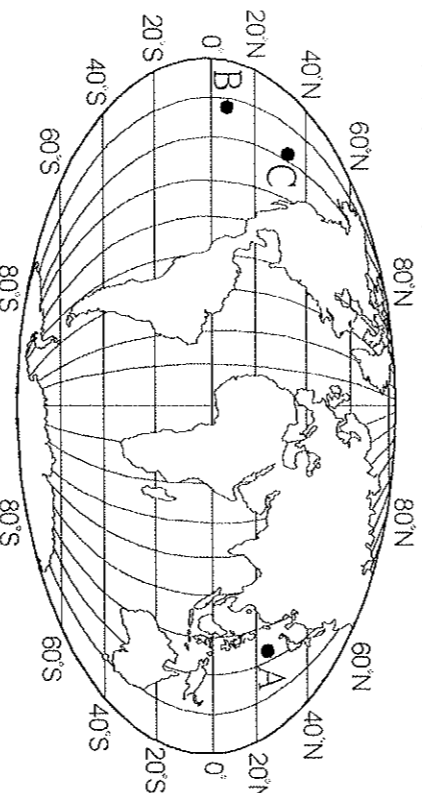


34.



36.

\* 附圖為世界簡圖，請問：



37. 生物學家在一隻座頭鯨的背上裝置追蹤器，以觀察其全年的活動路徑！期望牠能參加一年一度的綠色博覽會賞鯨之旅活動。這隻座頭鯨從附圖 A 點出發，其間經過 B 點，再到 C 點。若這隻座頭鯨如願到達，牠應是在哪兩個大陸之間活動？

(A) 亞洲、美洲 (B) 美洲、歐洲  
(C) 非洲、歐洲 (D) 澳洲、南極洲

38. 關於地表的海陸特徵，下列敘述何者正確？

(A) 地球的海陸比例是海 3：陸 7  
(B) 北半球的陸地面積大於海洋  
(C) 大洋洲指散佈在大西洋上許多島嶼的總稱  
(D) 歐、亞、北美三洲環繞北極海

39. 若沿著赤道繞行地球一圈，不會經過下列哪個洲？

(A) 歐洲 (B) 非洲 (C) 美洲 (D) 亞洲

40. 關於世界七大洲、三大洋的敘述，下列何者正確？

(A) 歐洲的面積最大  
(B) 非洲冰天雪地，多尖塔式屋頂  
(C) 美洲與非洲之間的海洋為印度洋  
(D) 南極洲為橫跨三大洋的一洲