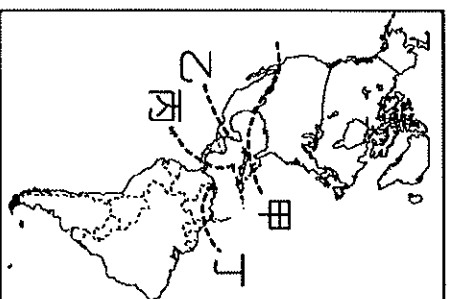


一、題組 (每格 2 分，共 74 分)

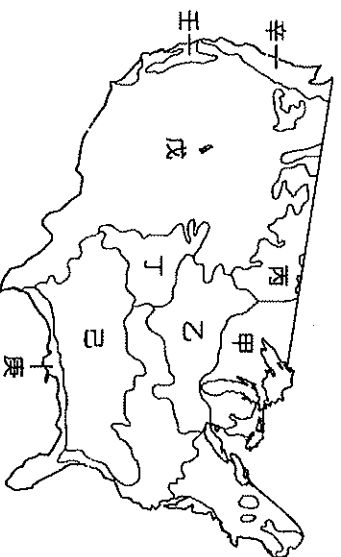
\* 美洲的面積廣大，位置橫跨南、北半球，形成各地區的發展特色。附圖為美洲的疆域簡圖，其中線段分別為各主要地區特色分界線。

1. 北美洲和中美洲的分界線主要為圖中何者？  
(A) 甲 (B) 乙 (C) 丙 (D) 丁
2. 巴拿馬運河位於美洲地區，這條聯洋運河的位置主要位於圖中何處？  
(A) 甲 (B) 乙 (C) 丙 (D) 丁
3. 承上題，該條運河為下列哪兩個海洋之間的航運通道？ (A) 大西洋、太平洋 (B) 印度洋、大西洋 (C) 太平洋、印度洋 (D) 大西洋、地中海



4. 陽光海運計畫發展經由巴拿馬運河的跨洋洲際航線，藉由規畫最短航線來提高服務品質，下列哪個航線可能被納入此計畫？ (A) 古巴雪茄→紐約 (B) 美國棉花→丹麥 (C) 巴西咖啡→台灣 (D) 墨西哥銀礦→舊金山

5. 北美自由貿易協定為美洲主要的經貿組織，其成員國與其他美洲國家的界線為圖中何者？ (A) 甲 (B) 乙 (C) 丙 (D) 丁
- \* 美國為全世界經濟活動最為發達的國家，境內的產業活動多樣化，但受到不同產業發展因素的影響，主要的分布地區各有不同。附圖為美國簡圖，請依據圖中資料回答下列問題：



6. 美國境內的傳統工業主要以充足的水力提供工業所需的動力資源，再加上礦產的開採，因此以鋼鐵、機械等重工業為主。請問：其主要分布地區以圖中何處為主？  
(A) 甲 (B) 乙 (C) 丙 (D) 丁 (E) 戊

7. 1968 年，美國鳳凰城地區 28,000 名球迷參加為 NBA 新球隊命名的活動，最後球團希望凸顯當地氣候乾燥、陽光閃耀的景象而將球隊取名為太陽隊。請問：鳳凰城太陽隊應該位於附圖中何處？ (A) 乙 (B) 丙 (C) 丁 (D) 戊
8. 美國加州的矽谷因為優越的溫帶地中海型氣候，聚集許多的高科技廠商，已成為美國境內主要的經濟發展來源。請問：這個高科技工業園區位於圖中的哪一個地區？  
(A) 甲 (B) 乙 (C) 丙 (D) 丁 (E) 戊

9. 早期美國牛仔騎馬領著牛群，在廣大的草原進行放牧活動。現在雖然牛仔已沒落少見，但在附圖中何處還進行著放牧活動？ (A) 甲 (B) 乙 (C) 丙 (D) 丁 (E) 戊

10. 美國境內的農場採多元化方式經營，如酪農業主要分布於甲區，當地農場吸引許多紐約客利用假日前往遊憩，紓解都市緊張的生活步調。由上述可知，影響美國酪農業分布的主要原因為下列何者？ (A) 接近主要市場 (B) 勞工來源充足 (C) 鄰近國際機場 (D) 氣候較為暖溼

11. 北美大陸的小麥帶，由美國中部的堪薩斯州向北延伸到美加邊境，是世界最大、最重要的小麥生產帶。不過『丁區』以冬麥為主，而『丙區』卻生產春麥，造成這種現象最主要的差異為何？  
(A) 緯度位置 (B) 運輸方式 (C) 農場規模 (D) 機械化程度

\* 美國電影工業相當發達，近年來許多描述因氣候異常而導致災難的電影都大受好評，這些電影常以美國境內氣候異常發生的地點作為背景。請問：

12. 《超級颶風》電影是以 2005 年美國卡崔娜颶風侵襲為背景，當時濱臨哪一個海域的城鎮遭到了全面性的摧毀？  
(A) 太平洋 (B) 大西洋 (C) 哈得孫灣 (D) 墨西哥灣。

13. 美國冬季常出現大風雪造成空中航班大亂，甚至導致飛機必須改降落到其他地區，造成旅客的行程受到耽誤。《小鬼當家》電影即是利用美國常發生此現象的都市為背景，描述小男主角凱文在聖誕節被出國度假的家人遺忘在家，但家人卻因暴風雪航班大亂無法及時回家，導致他必須孤身對抗聖誕節盜賊的故事。請問：凱文的家最可能在下列哪個都市？  
(A) 洛杉磯 (B) 芝加哥 (C) 舊金山 (D) 休士頓

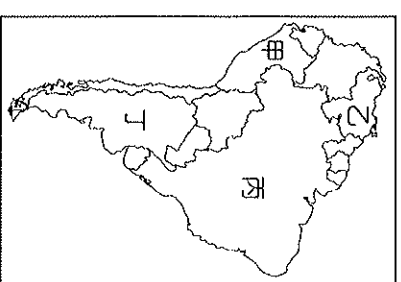
14. 《龍捲風》電影是描述一群氣象學家決定近距離研究美國中部大平原上的龍捲風，卻身陷險境的過程。這些氣象學家在下列哪一個月分出動追風的頻率會較高？  
(A) 2 月 (B) 5 月 (C) 8 月 (D) 11 月。

15. 美國大平原中部氣候的轉變相當大，常造成各種災害，該地區的氣候特色最主要是受到下列哪一項因素影響？  
(A) 地勢空曠 (B) 距海洋近 (C) 緯度較低 (D) 地勢起伏大

16. 美國電影工業的聖殿——好萊塢，招牌也屢屢在災難電影中被摧毀。在現實生活中，好萊塢當地最常出現的天災為下列何者？  
(A) 地震頻傳 (B) 狂風暴雪 (C) 黃沙漫天 (D) 海上強風。

- \* 近年來氣候現象的異常對於世界各國造成重大的影響，如發生於南美洲太平洋沿岸的聖嬰現象即對當地的產業活動造成衝擊。聖嬰現象導致當地的涼流減弱，漁獲量大為減少。且沿海地區亦反常多雨，造成大小不一的水患。據說在 16 世紀時，西方殖民者為獲取他們所需的資源，即在這種「溼年」征服了當時的印第安帝國。請根據以上敘述，回答下列問題：

17. 當「聖嬰」現象發生時，哪一個國較可能因洋流性質的變化，對漁業活動造成衝擊？  
(A) 甲 (B) 乙 (C) 丙 (D) 丁

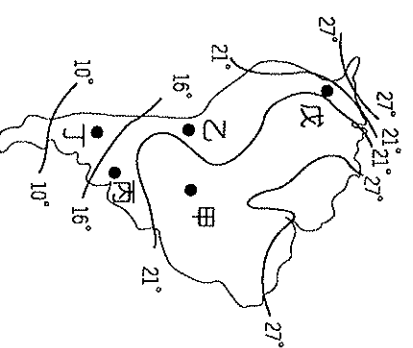


18. 上文中提及西方殖民者藉由「溼年」的氣候異常征服了古印第安帝國，該殖民者最可能為下列何者？ (A) 法國 (B) 英國 (C) 葡萄牙 (D) 西班牙
19. 承上題，西方殖民者所征服的印第安帝國若根據其位置判斷，主要分布於下列何處？  
(A) 落磯山脈 (B) 亞馬孫盆地 (C) 巴西高原 (D) 安地斯山脈

20. 南美洲的歷史發展過程中受到外來殖民的影響相當深遠，下列有關當地的敘述中，何者和殖民歷史的關係較小？  
(A) 阿根廷信奉天主教，如現任教宗方濟各就是來自該國 (B) 巴西境內通行葡萄牙語，和其他南美洲國家不同 (C) 巴西由於鐵礦豐富，工業快速發展而被譽為金磚四國 (D) 巴西里約嘉年華會的森巴舞遊行，是當地文化融合最著名的活動之一。

21. 拉丁美洲在被殖民的過程中，逐漸形成血統融合的新族群，其融入的民族不包括下列何者？  
(A) 印第安人 (B) 非洲黑人 (C) 東亞華人 (D) 歐洲白人

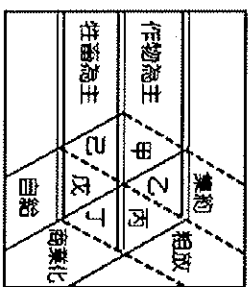
- \* 中南美洲近年來經濟開始起飛，因此境內勞工的多寡及市場的分布成為經濟學家注意的焦點。附圖為該地區的等溫線分布圖，請由圖中資料回答相關問題：



22. 美洲的人口分布不均，影響區域發展。圖中哪一個地區的人口分布較多？  
(A) 甲 (B) 乙 (C) 丙 (D) 丁 (E) 戊。
23. 圖中丙處的人口相當集中，為總人數超過 1,000 萬人的大都會。請依其位置判斷，丙都市應該為下列何者？  
(A) 巴西—巴西利亞 (B) 秘魯—利馬

- (C)阿根廷—布宜諾斯艾利斯 (D)墨西哥—墨西哥市。
24. 圖中甲、乙兩地緯度相近，但乙地氣溫較甲地低，形成此現象的因素為何？(A)緯度高低 (B)距海遠近 (C)地勢高低 (D)洋流性質。

\*附圖為農業經營特色分類圖。

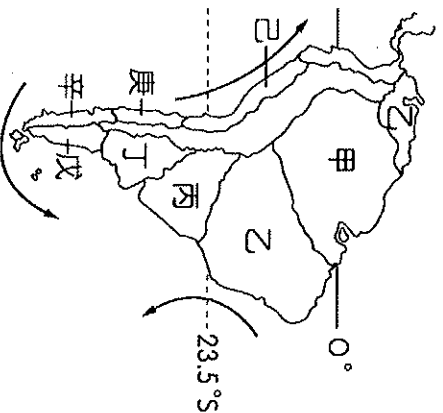


25. 美國冬麥帶，由於耕地面積廣大，農民利用機械耕作、收割，小麥收成後除供國內製成麵粉外，也大量運銷國外。依附圖中的三種指標加以分類，上述農作帶最可能屬於圖中哪一種農業類型？(A)甲 (B)乙 (C)丙 (D)丁
26. 中南美洲的熱帶栽培業，須具備充足且低廉的勞工，且通常大規模栽培單一作物，最可能屬於圖中哪一種農業類型？

(A)甲 (B)乙 (C)丙 (D)丁

\*附圖為中南美洲氣候類型分布圖，請依據圖中的標示，回答下列問題：

27. 中南美洲的氣候，主要受哪兩個因素影響？  
 (A)地形、海陸 (B)地形、西風 (C)緯度、地形 (D)經度、地形。

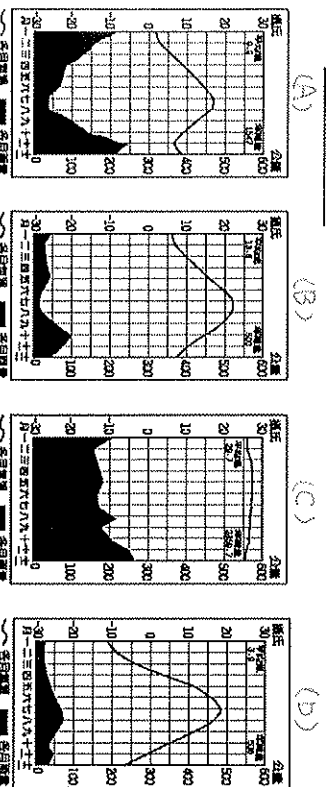


28. 巴西首都巴西利亞位於於乙區，屬於哪種氣候類型？  
 (A)高地氣候 (B)熱帶雨林氣候 (C)熱帶草原氣候 (D)溫帶地中海型氣候。

29. 2016年巴西奧運在8月5日到8月21日舉行，主要場館位於巴西境內的里約、巴西利亞等城市，記者由臺灣前往附圖中的巴西利亞場館進行採訪時，可能會遇到哪一種氣候狀況？  
 (A)高溫且多午後雷陣雨 (B)颶風帶來狂風與暴雨 (C)連日的低溫與暴風雪 (D)乾爽少雨的晴朗天氣
30. 該地區炎熱乾燥，長年無降水，絕少生物能存活，根據《科學》雜誌報導，美國研究小組發現，在當地某些地區的土壤中甚至完全不存在任何生命跡象，連基本的單細胞生物也沒有。請問：上文中的地區可能位於附圖中何處？  
 (A)甲 (B)乙 (C)丙 (D)丁

31. 承上題，此區提及的氣候類型與下列何者較相同？  
 (A)中國塔克拉玛干沙漠 (B)西亞阿拉伯沙漠 (C)中亞哈薩克沙漠 (D)阿根廷巴塔哥尼亞沙漠
32. 庚區夏季乾燥、冬季多雨，主要受哪兩個因素影響？(甲)西風(乙)暖流(丙)赤道低壓(丁)副熱帶高壓  
 (A)甲丁 (B)甲丙 (C)乙丁 (D)乙丙。
33. 阿根廷的農牧區，大致位於哪區？  
 (A)丙區 (B)丁區 (C)戊區 (D)己區。

34. 亞馬孫盆地位於於甲區，其熱帶雨林被稱為「地球之肺」，對於地球的自然環境相當重要。請問：下列哪個氣候圖，比較接近亞馬孫盆地的氣候？



35. 亞馬孫雨林的大規模開發，對自然生態造成嚴重破壞。請問：當地居民砍伐雨林的最主要原因為何？  
 (A)人口激增 (B)防治蚊蟲 (C)缺乏水源 (D)溼熱多雨。
36. 圖(一)中可以見到林木被砍伐後，當地居民闢建大規模的農園來發展經濟。請問：當地農園的作物應該為何？  
 (A)小麥 (B)葡萄 (C)咖啡 (D)棉花

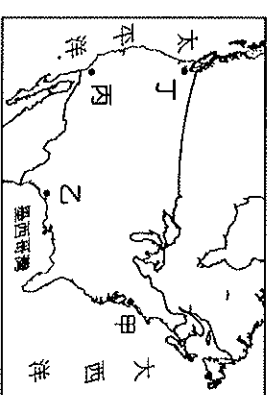
37. 目前全球的溫室效應愈趨嚴重。請問：若欲召開相關會議，希望透過天然雨林來吸收二氧化碳，則下列哪一個國家的參與配合最為重要？  
 (A)美國 (B)墨西哥 (C)巴西 (D)中國

二、單題 (每格2分，共26分)

38. 美國社會為民族的熔爐，各種文化形成其多元特色。請問：這種多元文化的起源和下列何項關係最為密切？  
 (A)出生率高 (B)死亡率低 (C)移出率高 (D)移入率高

39. 下列有關中南美洲聚落分布的敘述中，何者最為正確？  
 (A)都市就業率高，工商業發達，人口眾多  
 (B)鄉村農業發達，城鄉差距小，人口平均分布  
 (C)鄉村從事農作，吸引人口遷入，形成貧民窟  
 (D)都市拉力不大，多為鄉村推力，造成人口移入

40. 南美洲東部的地形種類眾多，高原、平原及盆地等地形高低起伏。請問：若依分布位置由北而南排列，應該為下列何者？  
 (A)亞馬孫盆地—拉布拉他平原—巴西高原  
 (B)亞馬孫盆地—巴西高原—拉布拉他平原  
 (C)巴西高原—拉布拉他平原—亞馬孫盆地  
 (D)巴西高原—亞馬孫盆地—拉布拉他平原



41. 華裔籃球好手林書豪於2012年在NBA紐約尼克隊因表現優異，捲起了一陣「林來瘋」後，於2013球季轉至休士頓火箭隊，後又被交易至洛杉磯湖人隊等。請問：上述林書豪所效力球隊的所在地，未包括附圖中何者？(A)甲 (B)乙 (C)丙 (D)丁

42. 位於北美洲的阿帕拉契山脈及拉布拉多高原普遍平緩不高，其主要的原因為何？  
 (A)板塊擠壓 (B)斷層陷落 (C)泥沙堆積 (D)久經侵蝕
43. 加拿大的經濟重鎮多分布於東部地區，主要是利用哪一條水路運輸來發展經濟活動？(A)聖羅倫斯河 (B)密西西比河 (C)科羅拉多河 (D)格蘭河

44. 南美洲的安地斯山脈為陸地上最長的山脈，因為富藏何種礦產，成為該地區國家的重要收入來源？  
 (A)黃金 (B)白銀 (C)石油 (D)銅礦

45. 附圖是北美洲沿35°N的地形剖面圖。圖中甲、乙、丙、丁何處的年降水量最少？(A)甲 (B)乙 (C)丙 (D)丁



46. 北美洲的寒帶氣候，在東部分布於北緯50餘度地區，在西部則分布於極圈附近地區，最主要的影響因素為何？  
 (A)地勢高低 (B)盛行風向 (C)洋流性質 (D)天然植物的經濟活動出現大量生產及大量消費的文化，這種現象對當地的經濟活動造成何種影響？(A)生產成本提高 (B)市場規模廣大 (C)國際貿易出超 (D)農牧產品輸出

47. 費爾曼是美國著名的經濟學家，根據他的觀察，美國境內地的經濟活動出現大量生產及大量消費的文化，這種現象對當地的經濟活動造成何種影響？(A)生產成本提高 (B)市場規模廣大 (C)國際貿易出超 (D)農牧產品輸出

48. 北美洲的移民來自許多地區，形成當地的多元族群特色。請問：掌控北美洲經濟活動的主要族群為下列何者？  
 (A)歐洲白人後裔 (B)非洲黑人後裔  
 (C)印第安人後裔 (D)亞洲華人後裔

49. 美、加邊界五大湖區的風景美不勝收，請問：這些湖泊與下列哪一個地區湖泊成因最為類似？  
 (A)雲貴高原的「滇池」 (B)北歐芬蘭的湖泊  
 (C)安地斯山上的「的的喀喀湖」 (D)高雄的「澄清湖」

50. 小萱前往北美洲旅遊，某天他前往某地時，他發現英語在當地比較難用，而且街上掛著的招牌幾乎都是以法語標示，請問：小萱此時最有可能位在何處？(A)美國加州 (B)加拿大魁北克 (C)美國紐約 (D)加拿大溫哥華