

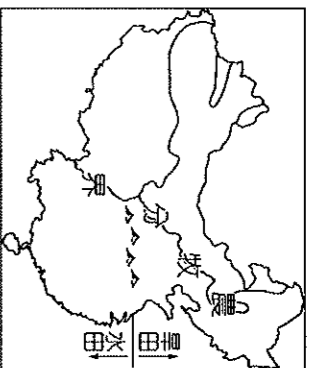
查、單選題(2分/題)

1. 右圖中農牧分界線的劃分，最主要以下列何者為依據？

- (A) 年降水量 750 mm
- (B) 一月均溫 18 °C 等溫線
- (C) 年降水量 500 mm
- (D) 一月均溫 0 °C 等溫線。

2. 承上題，這條分界線恰好是下列哪兩種氣候區的分類？

- (A) 草原、沙漠(B) 沙漠、高地
- (C) 季風、乾燥(D) 草原、高地氣候。



3. 承上題，圖中呈現了水田區及早田區，通常在旱田區所種植的主要糧食作物為下列何者？

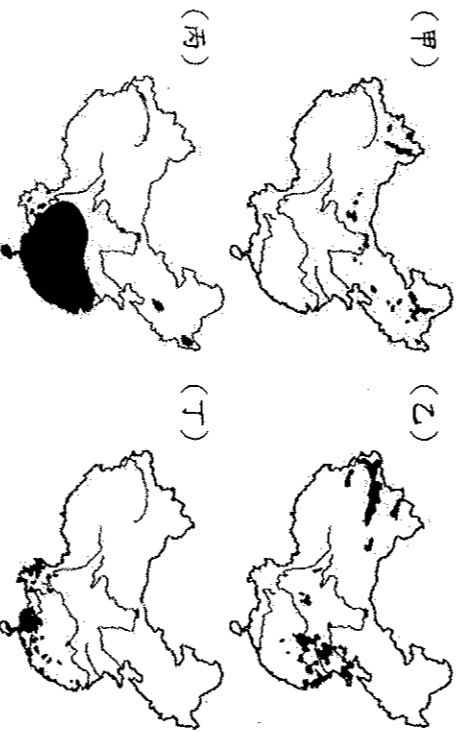
- (A) 青稞 (B) 玉米 (C) 稻米 (D) 小麥。

4. 陸羽參加中國旅行團，行程中安排下列活動讓旅客感受當地人文之美。請問：附圖中作物的產區應位於哪一個地形區之中？

- (A) 東南丘陵
- (B) 雲貴高原
- (C) 東北平原
- (D) 塔里木盆地



5. 下列為中國各種農作物主要分布圖，其中何者代表稻米的生產地？



- (A) 甲 (B) 乙 (C) 丙 (D) 丁

6. 農作物收穫次數的多寡和該地區生長季的長短有關。請問下列哪一個地理區的作物收穫次數可能最少？(A) 東北平原 (B) 華北平原 (C) 長江三角洲 (D) 珠江三角洲

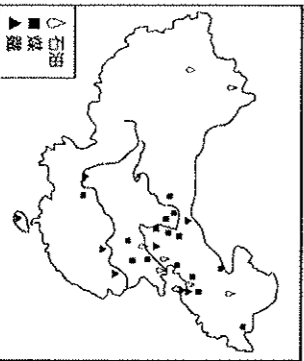
7. 下表呈現中國主要經濟作物的生長條件，請問其中哪一項敘述錯誤？

- (A) 甲
- (B) 乙
- (C) 丙
- (D) 丁

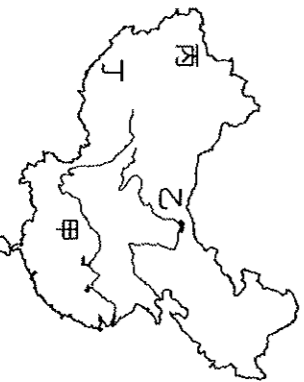
甲	茶樹	適合多雲霧、排水良好的丘陵地
乙	棉花	喜溫暖，生長季長，收穫季忌雨
丙	小麥	適應力強，多為水田景觀
丁	甘蔗	性喜溼熱，多分布於華南

8. (圖一) 為中國煤、鐵、石油的分布狀況。下列現象中，何者與此空間分布的關係最密切？

- (A) 中華文化發源自黃河流域 (B) 北部重工業較南部發達
- (C) 北部交通以陸運為主 (D) 經濟特區設於東南沿海



(圖一)



(圖二)

9. 中國的經濟發展呈現相當明顯的區域差距，近年來由於(圖二)哪一個地區發現大量的石油礦產，為當地經濟發展帶來生機？(A) 甲 (B) 乙 (C) 丙 (D) 丁

10. 中國從 2008 年開通第一條高速鐵路，至 2016 年總營運里程共 2 萬公里，其中時速達 300 公里的路線超過 1 萬公里以

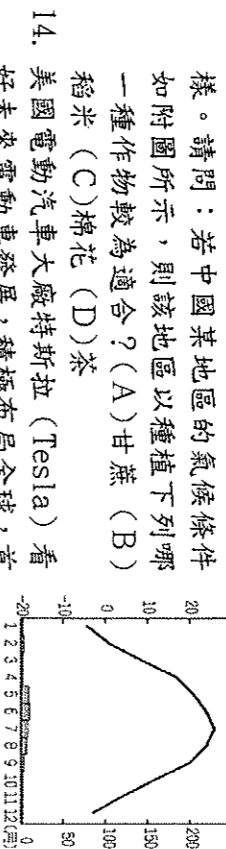
上，占了全世界的 60%，中國高鐵在短短幾年間，已成為世界最大規模的高鐵網。請問：造成中國高鐵分布上東部較西部密集現象與下列哪一因素較不相關？(A) 地形平坦 (B) 人口密集 (C) 礦產豐富 (D) 工商繁榮。

11. 天蓬來到新疆深度旅遊，除了吃到甜美的哈密瓜外，他在天山地區也觀察到牧童正趕著綿羊上山呢！請問：這裡的牧民是可能何時趕牲畜上山呢？

- (A) 8 月 (B) 11 月 (C) 1 月 (D) 4 月

12. 承上題，牧童這樣的生活方式，稱為下列何者？

- (A) 山牧季移 (B) 逐水草而居 (C) 定居 (D) 半穴居



13. 中國面積廣大，境內氣候環境相當多樣。請問：若中國某地區的氣候條件如附圖所示，則該地區以種植下列哪一種作物較為適合？(A) 甘蔗 (B) 稻米 (C) 棉花 (D) 茶

14. 美國電動汽車大廠特斯拉 (Tesla) 看好未來電動車發展，積極布局全球，首個海外生產基地就選在中國上海，除了上海市政府提供優惠的政策外，請問 Tesla 最主要還看上中國哪一項優勢？

- (A) 優良的政商關係 (B) 廣大的市場
- (C) 豐富的原料 (D) 充足的動力

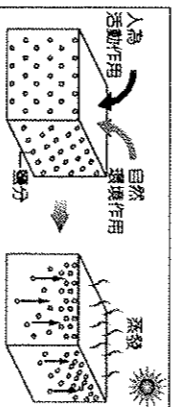
15. 中國在經濟改革開放後，國內生產毛額(GDP)逐年提升，並於 2010 年超越日本成為世界第二大經濟體，在 2018 一整年內 GDP 總額在 13 兆美元以上。請問：是何種原因使得中國得以成為世界第二大經濟體？(A) 世界的共產黨 (B) 世界的工廠 (C) 世界的屋脊 (D) 世界的長城。

16. 承上題，也因經濟蓬勃發展，中國產業的發展也開始產生了改變，請問下列現象何者正確？

- (A) 為貿易入超國 (B) 人均 GDP 居世界第一 (C) 工業技術領先全球 (D) 傳統農業轉為商業性農業。

17. 中國政府為帶動中部經濟帶的發展，因此推動「中部崛起計畫」，希望促進中部的都市化。下列哪一城市由於為水陸運交通要點，具有承東啟西的重責大任，而成為中部經濟帶中工商業最發達的現代化都市？(A) 重慶 (B) 上海 (C) 武漢 (D) 天津。

18. 附圖是中國某項環境問題形成過程的示意圖，此問題對於當地農業耕作十分不利。圖中鹽分的移動與下列哪一種人為活動作用最有關係？(A) 圍湖造田 (B) 不當灌溉 (C) 大量施肥 (D) 過度放牧。



19. 美國有線電視新聞網 (CNN) 報導：「受到中國沙塵暴的影響，美國西岸今日的空氣懸浮微粒指數頗高，提醒有呼吸道疾病的民眾應盡量避免出門，外出時也請戴上口罩做好保護措施…」請問：上述內容可能發生在下列哪一個時節？

- (A) 春末夏初 (B) 夏末秋初 (C) 秋末冬初 (D) 冬末春初。

20. 「青藏高原」因本身何種環境特徵，使得該區土地不利於開發，也不適合大規模發展現代經濟？

- (A) 黑土 (B) 黃土 (C) 凍土 (D) 火山土。

21. 承上題，考量當地環境，中國政府何種措施較為適當？

- (A) 成立經濟特區 (B) 設立自然保留區
- (C) 成立石化專區 (D) 成立軟體園區。

22. 「2016 年初，滿載商品的貨運列車從中國浙江義烏出發，經西安、蘭州和烏魯木齊等城市後，駛往伊朗德黑蘭，歷時 14 天完成首航，再現古絲路的輝煌。」這班列車在駛離中國後，最可能途經下列何地？

- (A) 東南亞 (B) 南亞 (C) 東歐 (D) 中亞

23. 新疆喀什為中國第六個成立的經濟特區，其設置環境與地點和其他五個大不相同。請問：喀什設立經濟特區的主要看上何種優勢？(A) 邊境位置 (B) 能源豐富 (C) 人口眾多 (D) 位於僑鄉。

貳、題組 (24-38 題每題 2 分, 39-46 每題 3 分)

◎1978 年後, 中國實施經濟改革開放, 推出 5 個「經濟特區」做為試行點, 準備擁抱自由經濟, 參考下圖回答下列問題:

24. 下列城市何者不屬於經濟特區?

- (A) 廈門 (B) 深圳
(C) 珠海 (D) 香港

25. 經濟特區的設立一開始都在福

建廣東沿海, 請問當初的目標是吸引何種產業為主?

- (A) 重工業 (B) 勞力密集型 (C) 高科技 (D) 軟體工業。

26. 經濟特區是憑何種優勢而大量吸引國外投資呢?

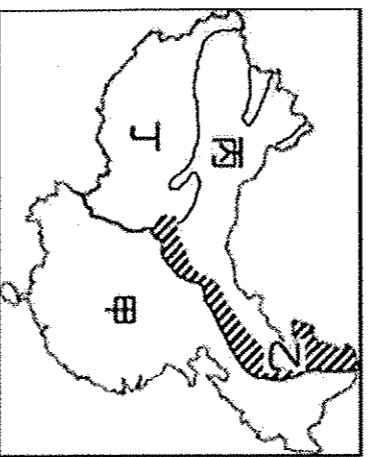
- (1) 政策優惠 (2) 工資低廉 (3) 交通便利 (4) 消費市場
(A) 123 (B) 234 (C) 134 (D) 24

27. 只考慮距離情況下, 哪個經濟特區最能吸引台籍幹部前往並提供豐富的管理經驗? (A) 甲 (B) 乙 (C) 丙 (D) 丁。

◎附圖為中國畜牧業的分區圖, 請回答下列問題

28. 有高原之舟稱號的—

犛牛, 請問是哪個牧區居民主要飼養的動物? (A) 甲 (B) 乙 (C) 丙 (D) 丁



29. 哪個地區的居民因人口密集且耕地狹小, 只能養一些體型小的家禽, 並關在柵欄裡飼養? (A) 甲 (B) 乙 (C) 丙 (D) 丁

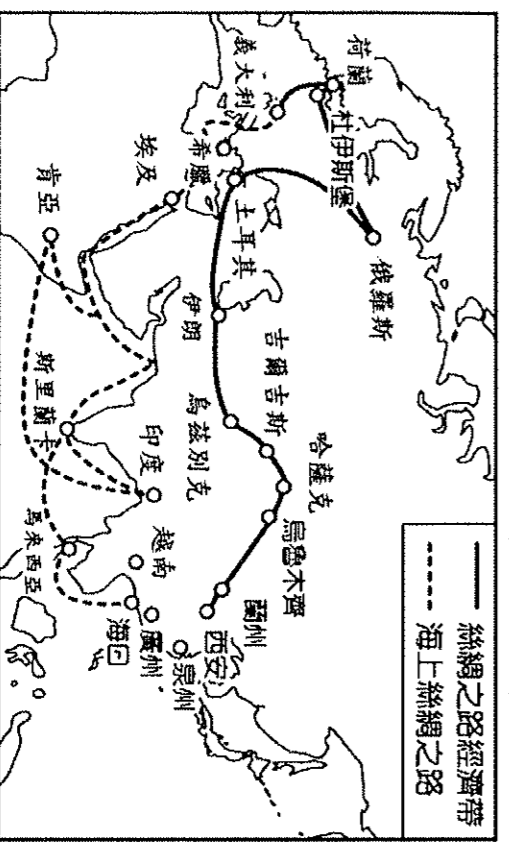
30. 丁區牧民飼養牛羊時, 因環境使然, 必須趕著牲畜在山中來回移動, 這種特殊的生活, 稱為?

- (A) 放牧 (B) 水平游牧 (C) 垂直游牧 (D) 欄牧

31. 2018 年底, 維尼順著甲乙丙丁考察中國畜牧業, 發現甲乙地區很早就遭到非洲豬瘟的肆虐, 而丙區的西側尚未發現病例, 請問豬瘟較晚才擴散至丙區西側的原因可能為何?

- (A) 乾燥氣候 (B) 宗教信仰 (C) 盆地阻隔 (D) 游牧
32. 中國最大乳製品企業「伊利酸奶」由於贊助許多歌唱節目, 成為眾所皆知的乳品。請問: 該公司為了確保大量乳製品原料的來源, 最可能和圖中哪一個地區的畜牧業者合作?
(A) 甲 (B) 乙 (C) 丙 (D) 丁

◎中國為了擴展經濟與政治影響力, 在 2013 年宣傳一帶一路政策, 發展新絲路與 21 世紀海上絲路, 請回答下列問題:



33. 絲綢之路經濟帶主要藉由中歐鐵路抵達歐洲, 這漫長的路線, 中國主要是看上中亞地區何種戰略資源?

- (A) 棉花 (B) 羊毛 (C) 石油 (D) 小麥

34. 海上絲路沒有經過哪個國家?

- (A) 越南 (B) 澳洲 (C) 印度 (D) 肯亞

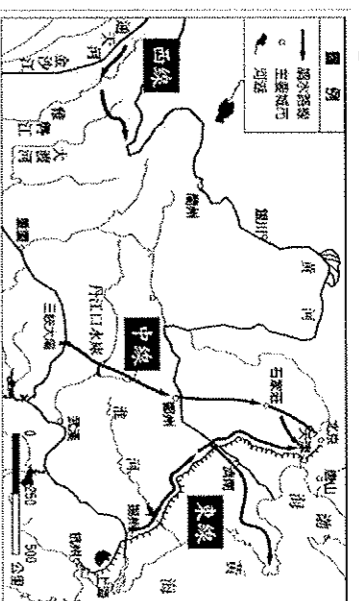
35. 中國大力宣揚此經濟政策, 主要是倚靠何種優勢?

- (A) 西海背陸 (B) 人口眾多 (C) 地大物博 (D) 西高東低

◎毛澤東考察黃河時曾說過:「南方水多, 北方水少, 如有可能, 借一點也是可以的」於是調水工程如火如荼展開, 下圖為南水北調工程圖。

36. 該計畫主要是將哪

條河流調至黃河地區使用呢?



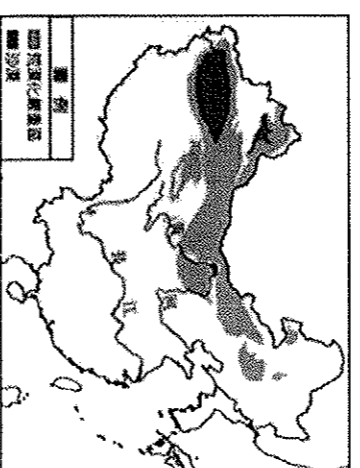
- (A) 塔里木河 (B) 珠江 (C) 長江 (D) 黑龍江

37. 北部水資源不敷使用的主要自然因素為何? (A) 人口多

- (B) 水庫不夠多 (C) 工廠多 (D) 降水少且季節不均

38. 三線方案中, 哪條路線是沿著沿著「京杭大運河」鋪設, 故建設迅速且成本最低? (A) 東 (B) 中 (C) 西

◎聯合國將每年的 6 月 17 日定為「世界防治荒漠化和乾旱日」由於中國近年來人為活動的影響, 土地過度使用, 導致荒漠化的面積不斷擴大, 甚至已經超過了耕地面積, 其分布範圍如附圖所示。請問:



39. 由圖判斷, 荒漠化主要分布地形區不包含下列何者? (A) 塔里木盆地 (B) 內蒙古高原 (C) 大興安嶺 (D) 四川盆地

40. 內蒙古高原亦是荒漠化相當嚴重的地區, 並在當地何種季風的吹拂下, 會造成嚴重的沙塵暴汙染? (A) 東北季風 (B) 西北季風 (C) 東南季風 (D) 西南季風。

41. 為防止沙塵暴的侵襲與蔓延, 官方進行了哪項大型措施。

- (A) 陸上絲路 (B) 三北防護林 (C) 海上絲路

42. 黃土高原為中國荒漠化的過程中, 水土流失最嚴重的地區。請問: 當地在冬季及夏季時, 分別受到何種侵蝕力量影響?

	甲	乙	丙	丁
夏季	風力	水力	水力	風力
冬季	水力	水力	風力	風力

- (A) 甲 (B) 乙 (C) 丙 (D) 丁。

◎圖為中國某些地區環境問題的區域, 試問:

43. 甲地從明清以來, 為因應人口增加, 發生何種現象導致水災頻傳?

- (A) 廣蓋水庫 (B) 過度放牧
(C) 圍湖造田 (D) 過度灌溉。

44. 丙地沙漠面積不斷擴大, 探究其原因下列何者錯誤?

- (A) 圍湖造田 (B) 過度放牧 (C) 過度灌溉 (D) 過度伐林
45. 下列哪個措施對緩和丙地問題較「無」幫助?

- (A) 鼓勵退耕還林 (B) 鼓勵退耕還牧
(C) 獎勵種植樹林 (D) 鼓勵商業性農業

46. 哪個地區因土質疏鬆、氣候較乾燥、樹林稀少, 導致水土流失嚴重, 使得黃河下游河床逐年加高?

- (A) 甲 (B) 乙 (C) 丙 (D) 丁