

# 宜蘭縣立羅東國民中學一〇八學年度第一學期九年級公民科第二次段考試卷

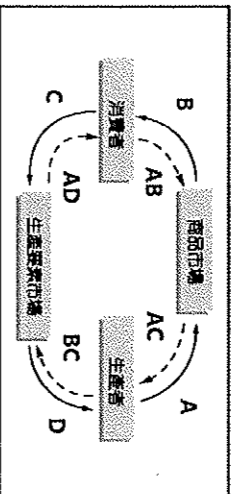
## 一、配合題(每題 2.5 分)

◎請依照市場的分類，在 1-5 題填入適當選項

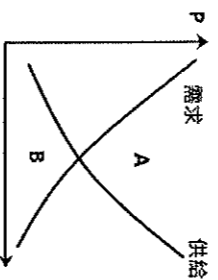
(A)有形的商品市場                      (B)有形的生產要素市場                      (C)無形的商品市場                      (D)無形的生產要素市場

1. 婉儀愛上露營，上週在『momo購物網』上選購了一張實用的折疊桌。
2. 以衿開了一家早餐店，看好好友婉儀的折疊桌相當好用，也到『momo購物網』買了那張折疊桌，放在店裡供客人用餐使用。
3. 芸芳每天早上都到以衿開的『早餐店』買蛋餅，度過美好的早晨時光。
4. 書溫大學畢業後參加一場盛大的『就業博覽會』，期望可以找到好工作。
5. 靜仙為了自己退休生活打算，到『保險市場』中購買需要的保單。

◎請根據圖中代號，回答 6-10 題：



◎下圖為市場供需圖，請依據 11-14 題描述，判斷該狀況為圖中的 A 或 B 部分：



6. 憶晴下班後到書店買最新出版的詩集。此行為屬於經濟循環中的何者？
  7. 均毅經營咖啡店，近期推出特殊口味榴槤咖啡，此行為屬於經濟循環中的何者？
  8. 耀叮電子公司大徵才，兩年內提供了三千個就業機會。此行為屬於經濟循環中的何者？
  9. 耀叮電子公司為員工調薪 5% 至 10%，請問對於員工來說，是屬於哪一項貨幣的流向？
  10. 宜蘭雪隧帶來了許多觀光客，請問觀光客住宿、買名產的錢，屬於哪一項貨幣的流向？
11. 韓國團體 BTS 演唱會的票搶購一空，甚至有人賣起黃牛票。
  12. 大批豪宅建築案推出後，乏人問津。
  13. 運動品牌推出限量 T 恤，許多年輕人徹夜排隊想購買。
  14. 新聞報導舞茸菇有抗癌、降糖降壓和增強免疫力等保健功效，導致市場上常缺貨。
  15. 柳丁豐收，導致價格崩盤，果農含淚收成。

## 二、單選題(每題 2.5 分)

16. 北韓自 1948 年立國後，沿用蘇聯的集體化生產。農民會從國家分配到種子、農具、肥料和機器，農民則按照政府的要求耕種，收成上貢政府，農民則取農作物和其他日用品做酬勞。在工業上，政府會為工廠提供燃料和材料，廠方也會按政府要求製造國家所需的產品及數量。請問：有關於此種經濟制度敘述何者正確？ (A) 北韓此種制度屬於統制經濟制度，又稱市場經濟 (B) 在北韓有一隻「看不見的手」控制市場的數量及價格 (C) 台灣對勞工薪資有基本保障的政策與之相同 (D) 我國的房屋買賣也屬於此種經濟制度的運用。

17. 怡龍趁双十一購物節開打，在網路商城購物，看到流行服飾區所有商品一律三折，於是刷卡購買價格分別為 250 元、450 元、300 元的衣服，共花了 1,000 元。請問：下列相關敘述何者正確？ (A) 商品折價讓怡龍增加了購買數量，這是供給法則 (B) 信用卡由中央銀行發行，以簽字保證日後償付 (C) 使用信用卡逾期未繳費需負擔利息，符合機會成本的概念 (D) 一件衣服價格 250 元，此時「元」代表貨幣價值儲存的功能。

18. 太麗飯店所屬的宜蘭店及羅東店，依據市場供需狀況而調整住宿的價格，其中宜蘭店提高訂價，而羅東店住宿打六折。若以「○」代表 1000 旅客數量與房間數量，則這兩家店於價格調整前的房間供需情況，最可能為下列何者？

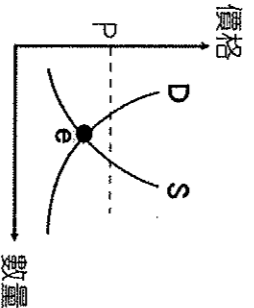
(A)	需求	供給	(B)	需求	供給
	宜蘭店	○	○○	宜蘭店	○○
	羅東店	○	○○	羅東店	○○

(B)	需求	供給	(C)	需求	供給
	宜蘭店	○○	○○	宜蘭店	○
	羅東店	○	○○	羅東店	○○

(C)	需求	供給	(D)	需求	供給
	宜蘭店	○	○○	宜蘭店	○○
	羅東店	○○	○○	羅東店	○○

(D)	需求	供給	(A)	需求	供給
	宜蘭店	○○	○○	宜蘭店	○○
	羅東店	○○	○○	羅東店	○○

19. 右圖中，e 點代表市場均衡的狀況，而目前來惠店內烤雞腿的價格為 P，則來惠應該如何做，才能達到市場均衡？ (A) 將烤雞腿價格提高 (B) 舉辦買一送一的活動 (C) 增加烤雞腿的產量 (D) 購入雙倍的烤雞腿原料。

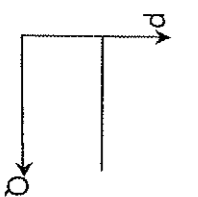
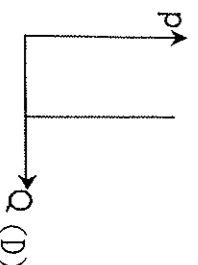
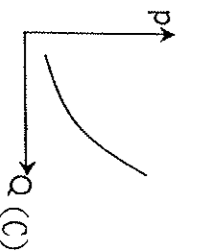
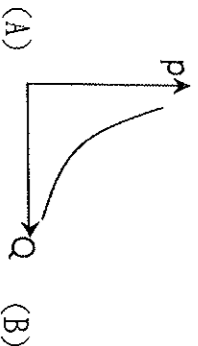


20. 網路書店與便利超商合作代賣二手書的作法，是屬於企業經營的哪種行為？ (A) 風險管理 (B) 內部管理 (C) 投資行為 (D) 企業合作。

21. 北宋時，四川成都商人發行「交子」，是中國歷史上最早的紙幣，人們可以用來買賣商品。請問：

由上述「可以用來買賣商品」可知，「交子」具下列何種功能？ (A) 價值衡量 (B) 清償債務 (C) 交易媒介 (D) 價值儲存。

22. 附表是三昇開的四家蛋糕店，平日與「蛋糕日」(第二個半價)的銷售量，根據表中的資料，可以下列哪一個圖來表示？



店家	平日	蛋糕日
羅中門市	120	156
羅高門市	110	168
羅商門市	145	182
羅工門市	103	142

23. 一般而言，影響消費者行為對商品需求的消費因素，包括：商品價格、所得、個人偏好與預期心理因素等。請問：下列配對何者錯誤？ (A) 明天油價將上漲，現在加油站內人滿為患—預期心理 (B) 領到年終獎金 50 萬，讓自己做微整形—所

得 (C) 知名藝人封麥演唱會，粉絲爭相搶購入場券——個人偏好 (D) 國際紙漿價格上揚，賣場的衛生紙一拿出來就被買走——商品價格。

24. 敏治想在甲、乙、丙三景點中選擇一處販售冷飲，他的評估結果如右表所示。若敏治僅考量總利潤，根據表中內容判斷，他選擇這三處景點的機會成本，其排序應為下列何者？(A) 丙 > 甲 > 乙 (B) 乙 > 甲 > 丙 (C) 甲 = 乙 > 丙 (D) 丙 > 甲 = 乙。

景點	一日販售數量 (杯)	每杯售價 (元)	營業日數 (天)	一日營業成本 (元)
甲	110	50	2	1,000
乙	90	30	4	600
丙	100	40	3	800

25. 願廷利用暑假去打工，在面試後得到四個薪資不同的工作機會，他將薪資情況整理成右表。請問到二芳打工的時薪及機會成本，最有可能依序是下列何者？

店家	時薪	機會成本
惠言堂	190	185
八十嵐	185	190
二芳	?	?
迷克冬	165	190

(A) 200, 185 (B) 150, 190 (C) 190, 165 (D) 175, 175

26. 若若向銀行申請青年創業貸款，想購買機器設備開一家鬆餅店，請問他籌措的資金是用於下列何者？(A) 商品供給 (B) 商品需求 (C) 生產要素需求 (D) 生產要素供給。

27. 關於「股份有限公司」的企業經營型態，下列敘述何者正確？(A) 股東可能來自社會大眾 (B) 股東與合夥人所需負擔的責任相同 (C) 公司虧損，需以股東私人財產支付 (D) 每個股東都擁有公司的經營決策權。

28. 「取之於社會，用之於社會」，企業在獲取利潤的同時，也應該負擔相對的社會責任。下列何者不屬於企業實踐企業社會責任的榜樣？(A) 成立「綠色基金」作為環保推展及研究基金 (B) 長期贊助藝文表演團體戶外公演 (C) 經濟上協助地震受災戶重建家園 (D) 提供給身障者工作機會，請他們在快車道中發放傳單。

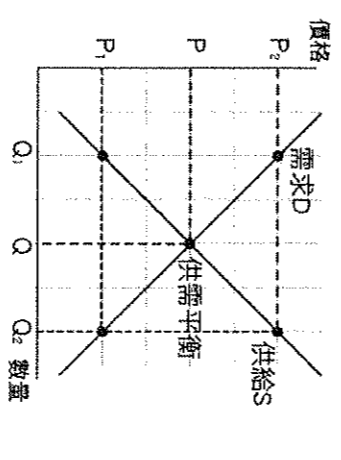
29. 秦朝的「田律」規定，每年的一段期間內，不准進山砍伐森林，不准誘捕幼獸；清朝頒布禁令，嚴禁於虎丘周圍設染坊，以保護水質。綜合上述二例內容判斷，其中隱含的觀念與下列何種做法的目的最類似？(A) 運用觀光資源，促進經濟發展 (B) 採用嚴刑峻罰，遏止犯罪問題 (C) 限制開發範圍，避免破壞環境 (D) 立法保護古蹟，維護文化資產

30. 當蔬菜平均批發價每公斤 28 元時，生產者願意且能夠出售 30 公噸的蔬菜，而消費者只願意購買 10 公噸的蔬菜，根據供需法則來判斷，蔬菜最後成交的價格最有可能是多少？(A) 40 元 (B) 35 元 (C) 30 元 (D) 25 元。

31. 玲菲花了一個月的薪水，在購物網站上買了一款價格不菲的名牌手錶當作自己的生日禮物。下列選項中，何者敘述正確？(A) 這筆交易是在有形的市場中完成 (B) 名牌手錶是需求法則的例外，是炫耀性商品 (C) 不二價的商品，價格是由生產者單方面決定 (D) 當所得減少，購買此類商品的金額會增加。

32. 常聽爺爺奶奶說說：「這個年代的錢變薄了。」請問他們言下之意為何？(A) 市面上商品供給量增加，想買的東西變多，錢不夠用 (B) 貨幣升值，商品的品質下降 (C) 降低伐木數量以節省紙張，所以紙鈔變薄 (D) 物價上漲，相同的錢能買的商品數量因而變少。

33. 右圖為某品牌運動鞋的需求(D)與供給(S)曲線圖，在其他條件不變的情況下，有關此圖「價格與供給量的變化」之敘述，何者正確？(A) 價格由 P→P1，供給量減少 (B) 價格由 P→P2，供給量不變 (C) 價格下跌，供給量由 Q1→Q2 (D) 價格上漲，供給量由 Q2→Q1



34. 李安導演於國內取景拍攝的電影獲得國外大獎，國內民眾不僅與有榮焉，也以進電影院看電影的實際行動來支持他。請問：若從經濟活動循環運作情形分析，下列敘述何者正確？

(A) 租借拍攝場地的費用稱為消費支出 (B) 電影的票房稱為銷售收入 (C) 演員所領取的酬勞稱為生產成本 (D) 民眾購買電影周邊商品支付的錢稱為所得。

35. 如右圖所示，商品的供給曲線原本為 S，哪一因素會造成曲線由 S 移至 S1？(A) 流感疫苗品質有疑慮，民眾減少注射流感疫苗 (B) 空汙嚴重，許多業者改行生產口罩獲利 (C) 雞蛋價格上漲，蛋塔生產量減少 (D) 溫體牛肉鍋上市，第二鍋半價。

36. 下列是閑騷到華華國旅遊時，看到的現象：剛下飛機時，用 1 美金可以換到當地貨幣 150 枚，隔天卻可以用一美金換到 450 枚的當地貨幣，他到街上也看到人人都在搶購食物，銀行大排長龍，都是等著領錢的人。請問華華國可能是遇到什麼現象？(A) 人民過度儲蓄 (B) 嚴重通貨膨脹 (C) 產主調降薪資 (D) 華華國物價下跌。

### 三、題組題(每題 2.5 分)

37. 依據機會成本的概念，請問此店第一年的利潤是多少？(A) 賺 21 萬元 (B) 賺 14 萬元 (C) 虧損 45 萬元 (D) 虧損 36 萬元。  
 38. 似琪考慮到學生族群喜愛嘗鮮的心理，製作的飯糰口味多元化，這是似琪考慮到哪一個生產的課題？(A) 生產什麼 (B) 如何生產 (C) 為誰生產 (D) 為何生產。

39. 關於下列的敘述，何者正確？(A) 使用自有的資源不需納入生產成本中 (B) 有形的財貨只能在有形市場中交易 (C) 開發多口味飯糰是似琪的企業才能 (D) 飯糰買三送一足節省生產成本，以提高利潤的策略。

40. 似琪開店賣飯糰後，每天清晨 2 點就要起來備料、煮飯，6 點就要招呼客人，製作飯糰，忙到快 12 點才能休息。似琪開店賣飯糰後，犧牲了夜間睡眠時間，可以用經濟學的哪一項概念加以說明？(A) 供給法則 (B) 機會成本 (C) 預期心理 (D) 需求法則