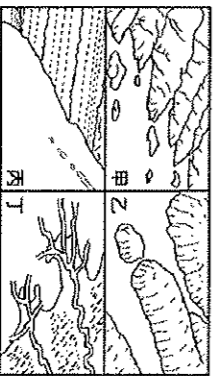


圖一

◎圖一為歐洲國家的簡圖，根據題目特色描述選出正確的國家並且依據地圖代號劃記在答案卡上。請回答 1-18 題：

01. 布達佩斯為某國的首都，因坐落在多瑙河兩岸，有「多瑙河上的明珠」之譽。請問該國是圖一中哪一代號國家？
02. 某國首都為歐盟總部所在地，當地的尿尿小童是每個遊客尋找的地標。請問該國是圖一中哪一代號國家？
03. 圖一中 (DE) 國被稱為「夾縫中的國家」，因位於兩大強國之間，昔日飽受戰火摧殘，並且多次被瓜分佔領。請問該國為下列何者？(A) 波蘭 (B) 芬蘭 (C) 荷蘭 (D) 烏克蘭。
04. 《牛津英語辭典》2016 年新增加了單字『Brexit』，起源於某國家舉行公投脫離歐洲聯盟。請問該國是圖一中哪一代號國家？
05. 某國畜牧業發達，有「歐洲牧場」之稱，安徒生曾在此創作許多童話故事。請問該國是圖一中哪一代號國家？
06. 想輕啜一杯塞納河左岸的香醇，漫步於香榭麗舍大道，體驗「花都」時尚風華，應前往圖一中何國？
07. 某國首都為維也納，有「音樂之都」之稱。請問該國是圖一中哪一代號國家？
08. 某國因擁有眾多的湖泊有「千湖國」之稱、廣大的針葉林、以及知名的無線通訊產業，而在世界上占有一席之地？
09. 某國可以搭乘世界坡度最大的鐵路，欣賞「世界公園」美景，且以金融、鐘錶業聞名世界。請問該國是圖一中哪一代號國家？
10. 承上題，該國致力於精密的鐘錶工業，與當地哪些地理限制有關？(A) 地形多山，交通不便 (B) 勞力不足，素質低落 (C) 國土狹小，距海遙遠 (D) 政治不穩，缺乏投資。
11. 某國以填海造陸聞名的「低地國」，沿海地區飼養乳牛，酪農業發達。請問該國是圖一中哪一代號國家？
12. 承上題，下列關於該國酪農業發展的敘述，何者正確？(A) 地廣人稀，人力不足，只好發展畜牧業 (B) 運用填海後的新生地，大量種植耐鹽的牧草以飼養乳牛 (C) 對外交通不便，遂發展耐久存放的乳製品以外銷 (D) 受氣候冷濕及冰河地形限制，畜牧業是國家最主要經濟來源。
13. 某國海岸線曲折，有「峽灣國」的稱號。請問該國是圖一中哪一代號國家？
14. 承上題，請判斷右邊四張海岸類型圖，該國的海岸類型為哪一種？(A) 甲 (B) 乙 (C) 丙 (D) 丁。

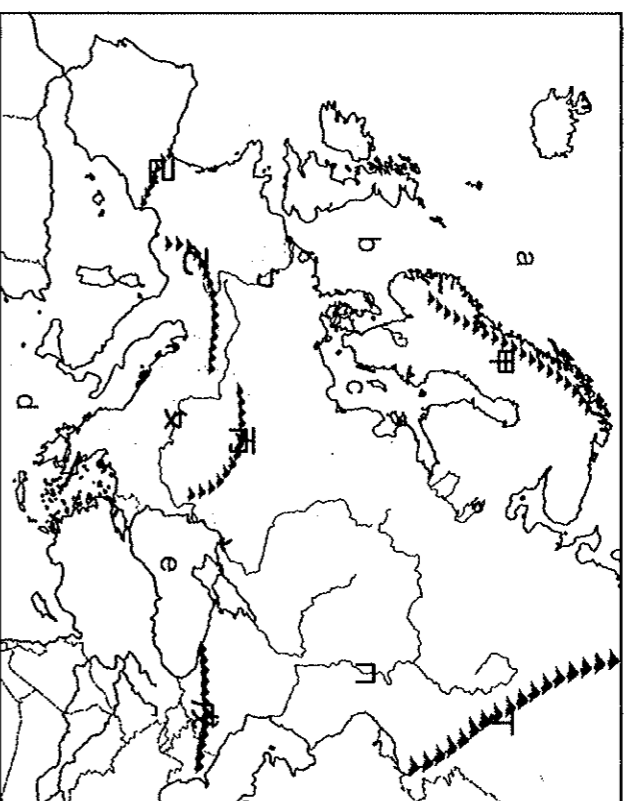


15. 某國首都雷克雅維克是世界緯度最高的首都，意為「冒煙的港灣」。請問該國是圖一中哪一代號國家？

16. 承上題，上文中指的「煙」與下列何者關係最為密切？(A) 燃燒煤炭，黑煙瀰漫 (B) 沙塵暴侵襲，能見度低 (C) 位居板塊交界處，火山活動 (D) 全球暖化以致冰河融化。
17. 往來 D 國與 C 國除了海運與空運外，還可選擇搭乘歐洲之星列車，穿越海底隧道，大幅縮短兩國之間的時空距離。請問：英法海底隧道是穿越哪個海峽？(A) 麻六甲海峽 (B) 英吉利海峽 (C) 直布羅陀海峽 (D) 博斯普魯斯海峽。

18. 礦產資源在工業發展上常扮演重要角色。請問：關於下列國家擁有的礦產配對，下列何者正確？(A)：(AD) 國在本寧山附近蘊藏豐富的鐵礦 (B)：(AE) 國擁有豐富的鐵礦，發展鋼鐵、汽車工業 (C)：C 國在魯爾區產有豐富的煤礦 (D)：D 國因位於板塊接觸帶上，擁有豐富地熱。

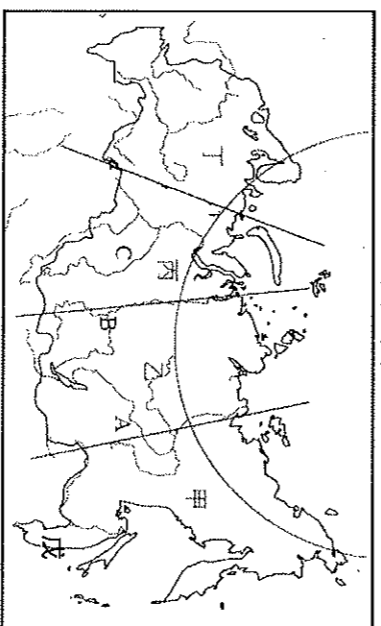
貳、題組 (每題 2 分)



圖二

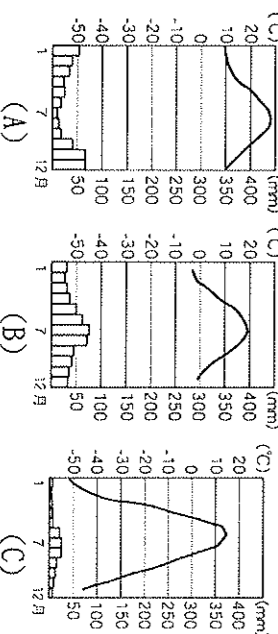
◎圖二為歐洲地形簡圖，甲-己為山脈、a-e 為海域、ㄅ-ㄇ為河川，請回答 19-23 題：

19. 奧地利、匈牙利、塞爾維亞、克羅埃西亞和斯洛維尼亞這五個相鄰的國家，為保護境內某一河川流域的重要自然資源和野生動物，於 2011 年簽訂一項宣言，建立跨國的自然保護區。上述河川應是指圖中何者？(A) ㄅ (B) ㄆ (C) ㄇ。
20. 圖中哪一海域近年海底盆地發現蘊藏石油，使周邊國家蒙受其利發展經濟？(A) ㄅ (B) ㄆ (C) ㄇ (D) ㄏ。
21. 承上題，請問，文中提及的蒙受其利受惠國家應是：(A) 英國、法國 (B) 波蘭、挪威 (C) 法國、義大利 (D) 挪威、英國。
22. 關於圖中山脈的分布敘述以下何者正確？(A) 甲：歐洲屋脊 (B) 乙：歐洲和亞洲分界 (C) 丙：東歐地形分界 (D) 丁：冰河地形發達丹麥的地勢平坦，歐陸境內領土面積不大且相對零碎，為了提升交通效率，與德國簽訂協議，將在兩國間的海峽興建一座大橋...。依據上述兩個國家的地理位置判斷，該大橋最可能跨越圖二中哪一海域？(A) a (B) b (C) c (D) d (E) e。
23. 圖三為俄羅斯簡圖，請回答 24-27 題：



圖三

24. 圖三中「戊」是俄羅斯降雨較為豐富的區域，請問，其降雨的主要原因與下列何者相同？(A) 臺灣：夏秋之際的雷陣雨 (B) 長江流域：冷暖氣團滯留 (C) 新加坡：午後強烈的雷陣雨 (D) 中國東北：夏季季風帶入太平洋水氣。
25. 圖三 A、B、C 為俄羅斯境內重要河川，但大部分不利於航運，探究其原因，下列何者較「無關」？(A) 河流的流向不佳 (B) 泥沙淤積太嚴重 (C) 冬季冰封期長 (D) 春季時易發生水災。
26. 圖三板塊運動較明顯，且多火山、地震的地區為何？(A) 甲 (B) 乙 (C) 丙 (D) 丁。
27. 下列哪張氣候圖最適合用來表示「乙」地的氣候特色？

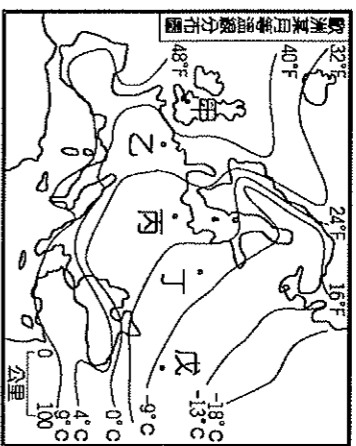


◎捷克有優質的鐵礦，軍火工業一向享有盛譽，在共產時期即號稱「蘇聯兵工廠」，蘇聯解體後，因此具有工業發展的基礎。近年來，臺灣資訊業者如鴻海，紛紛將廠房設於捷克，以利企業於歐洲的版圖延伸。請回答 28-29 題：

28. 捷克發展軍火業的主要原因與下列何者較有關係？(A) 歐洲火藥庫 (B) 歐洲聯盟 (C) 計畫經濟 (D) 市場經濟。

29. 哪些是臺灣前進捷克設廠的主要原因？(甲) 勞力相對便宜 (乙) 捷克海運發達 (丙) 享有歐盟關稅減免的優惠 (丁) 捷克人口眾多，極具市場潛力 (A) 甲乙 (B) 甲丙 (C) 乙丁 (D) 乙丙。

◎圖四是某月歐洲等溫線分布圖。請回答 30-32 題：



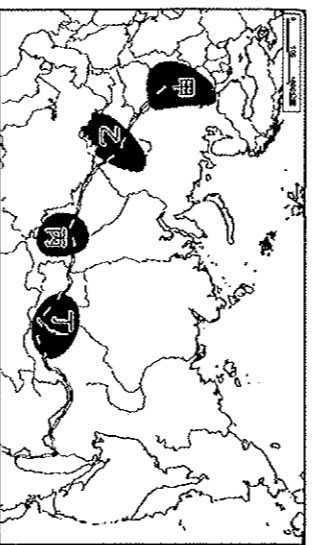
圖四

30. 請問圖四中該月是幾月份？(A) 一月 (B) 四月 (C) 七月 (D) 十月。

31. 請問圖四中該月等溫線為何在西、北歐洲的大西洋岸，出現向上彎曲的折線？(A) 暖流往北流、注入北極海 (B) 沿海島嶼和地形造成氣溫偏高 (C) 寒流自北極海向南流出 (D) 西風向東北方向吹去。

32. 如果由「乙」地直線前進到「戊」地所感受到的自然環境變化有：甲：年雨量愈來愈多，乙：冬溫愈來愈低，丙：地勢愈來愈高，丁：年溫差愈來愈大，戊：夏溫愈來愈高，上列敘述「正確」的是 (A) 甲丙戊 (B) 甲乙丁 (C) 乙丁戊 (D) 乙丙丁。

◎圖五是俄羅斯西伯利亞鐵路及主要工業區分布圖，西伯利亞鐵路是世上最長的鐵路，全長 9,288 公里，跨越八個時區，全程需時七天，是世上最長的鐵路。從首都色彩繽紛如童話般的洋蔥教堂到極地浩瀚，更極致的景色是宛如迷藍之眼的貝加爾湖，一站站的美景吸引著旅人的心，使它成為許多旅人心目中橫跨歐亞大陸的夢想鐵道。請回答 33-37 題：

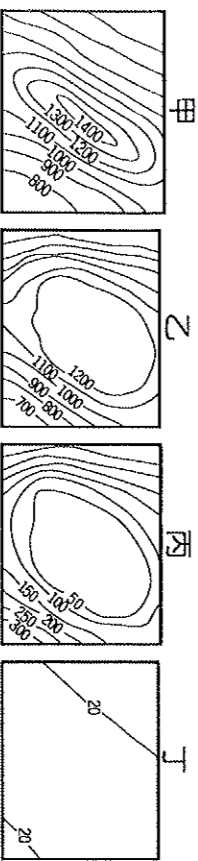


圖五

33. 西伯利亞鐵路的起點，也就是文中所說的首都，是位於圖五中何地？(A) 甲 (B) 乙 (C) 丙 (D) 丁。

34. 西伯利亞鐵路跨越了八個時區，居民作息差異極大。請問：造成時區差異大的主要原因為何？(A) 橫跨經度範圍大 (B) 跨越大範圍緯度 (C) 圖上地形起伏大 (D) 疆域跨越南北半球。

35. 乘坐這條鐵路從歐洲出發，到了亞洲之後所經過的主要地形由西向東依序為 (A) 甲乙丁 (B) 丁甲 (C) 丙丁甲 (D) 乙丙丁。



36. 由圖五會發現俄羅斯鐵路及工業區多分布於南部，這種現象，主要和何項因素有關？(A) 地形 (B) 緯度 (C) 植被分布 (D) 距海遠近。請問圖五中工業區的共同發展特色為何？(A) 以重工業為主 (B) 便利的水運網 (C) 勞力密集度高 (D) 皆位於亞洲。

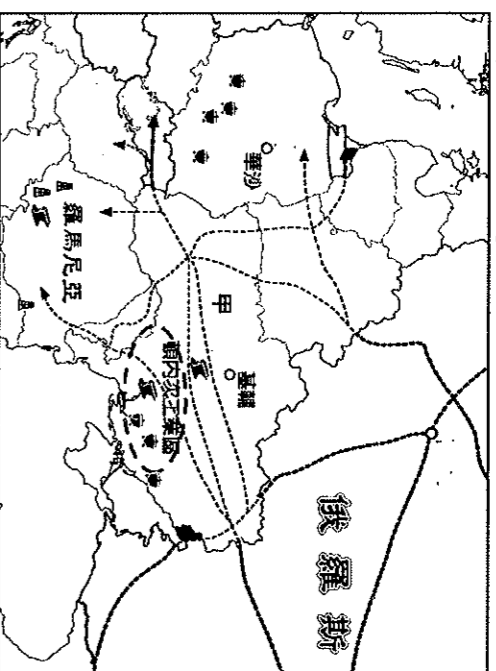
◎2018 年世界盃足球賽於 6 月 14 日至 7 月 15 日在俄羅斯舉行，共進行 64 場賽事。最後，法國以 4-2 擊敗克羅埃西亞，獲得了本次世界盃的冠軍，彌補 2 年前歐洲盃之遺憾。請回答 38-40 題：

38. 關於此次主辦國的地理特色，下列敘述何者「不」正確？(A) 多斯拉夫民族，信仰東正教 (B) 地跨歐、亞兩洲 (C) 面積、人口數均世界第一 (D) 與中國、印度、巴西同列為金砖四國。

39. 由上文可以得知此次世界盃冠軍決賽堪稱歐洲內戰，請問法國與克羅埃西亞兩支球隊分屬歐洲的哪個區域？(A) 西歐與東歐 (B) 西歐與南歐 (C) 北歐與東歐 (D) 北歐與南歐。

40. 克羅埃西亞西北沿海一帶地形崎嶇多山，且遍布許多大型石灰岩溶洞，近年成為新興旅遊國。請問該地區以下列哪一項地形最為知名？(A) 冰蝕地形 (B) 風蝕地形 (C) 火山地形 (D) 喀斯特地形。

◎圖六是俄羅斯某項天然資源的部分管線路線圖，該資源主要用於民眾生活，冬天需求量更大，甲國是俄羅斯該資源通往西歐的主要國家。請回答 41-42 題：



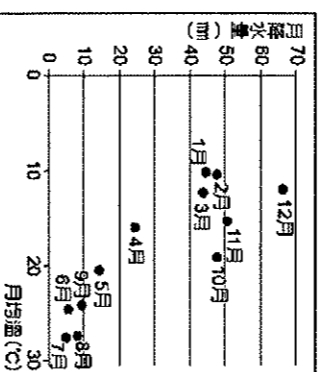
圖六

41. 請問該項資源為何？(A) 石油 (B) 天然氣 (C) 淡水 (D) 甲烷。

42. 關於甲國的敘述下列何者正確？(A) 共產時期因以農業為主，目前工業不發達 (B) 有聶伯河流經，土壤肥沃，農業發達 (C) 有著名的老城廣場及天文鐘，吸引世界各地的觀光客 (D) 2004 加入歐盟，目前是歐洲新興工業區。

參、單選題(每題 2 分)

43. 右圖為歐洲某地的月均溫與月降水量統計，請問從圖中資料研判，下列有關該地的敘述何者正確？(A) 該地位於英國 (B) 該地水氣來源主要来自季風 (C) 該地常見橄欖樹、葡萄樹 (D) 該地發展農業相當依賴排水系統。

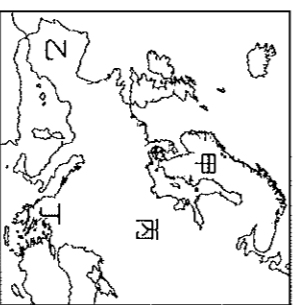


44. 下列關於歐洲各國的代表產業，其發展的區位因素，何者「不」正確？(A) 瑞典的家具業-交通 (B) 法國葡萄酒工業-原料 (C) 冰島煉鋁工業-動力 (D) 丹麥酪農業-市場。

45. 許多歐洲企業在盧森堡設立總部，盧森堡因此吸引了世界各國資金，帶動金融業發達。請問：該國發展金融業的有利因素為何？(A) 歐洲聯盟總部所在 (B) 採取低稅率政策 (C) 轉口貿易發達 (D) 世界三大金融中心之一。

46. 北歐國家社會福利最為優越，被稱之為「福利國家」。下列關於北歐社會福利制度的敘述何者正確？(A) 獎勵生育，給予完善照顧，因此出生率較高 (B) 為了要照顧國民，北歐國家的稅率普遍較低 (C) 福利制度良好，吸引企業與高收入者的移入 (D) 人口高齡化，導致政府和青壯人口負擔沉重。

47. 在歐洲某國人口中 40% 的穆斯林，31% 的東正教徒，15% 的天主教徒。根據上述的人口組成概況推斷，該國應為右圖中哪一區域 (A) 甲 (B) 乙 (C) 丙 (D) 丁。



48. 德國的工業產品向以創新及高品質著稱，請問：該國工業發展的特色「不」包括下列何者？(A) 豐富的煤礦 (B) 便利的水運運輸 (C) 以精緻產業聞名 (D) 實事求是的民族性。

49. 判斷下列有關歐洲各國地理特色的形成原因，何者與地形關係「最小」？(A) 德國為海洋性與大陸性氣候的過渡帶 (B) 法國為西歐最大的農業生產國 (C) 荷蘭花卉園藝業產值高，有「鬱金香王國」的稱號 (D) 昔日北歐的維京人以擅長海上活動著稱。

50. 下表為西歐與中國的水文比較，請問下表中哪些正確？(A) 甲乙丙 (B) 甲丙丁 (C) 乙丁戊 (D) 乙丙丁。

(甲) 河川	(乙) 航運	(丙) 出海口	(丁) 主要運河	(戊) 流量
流向	最盛	城市	方向	變化
西歐	由南向北	萊茵河	鹿特丹	東西向
中國	由東向西	長江	上海	南北向
				大小