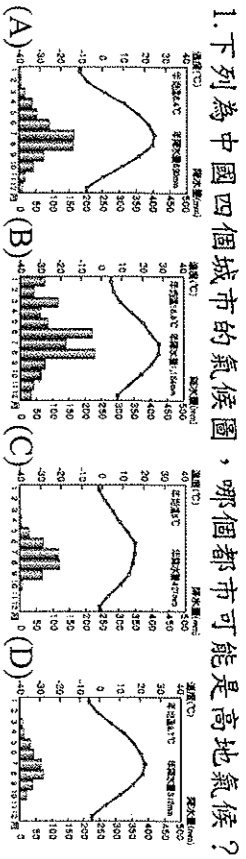


選擇題：每題 2 分，請用 2B 鉛筆作答

班級：

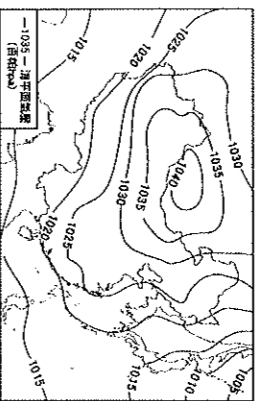
座號：

姓名：

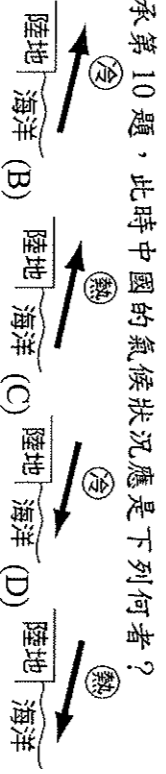


※附圖為東亞地區的地面天氣圖。請問 2-3 題：

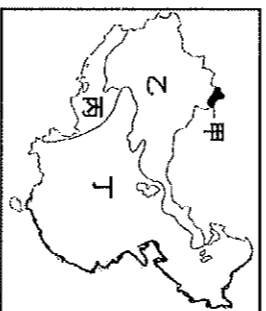
- 下列為中國四個城市的氣候圖，哪個都市可能是高地氣候？  
(A)春 (B)夏 (C)秋 (D)冬。
  - 由圖中氣壓資料判斷，此時最可能是哪個季節？  
(A)春 (B)夏 (C)秋 (D)冬。
  - 承上題，此時中國最可能出現的氣候災害為何？ (A)豪雨成災 (B)強颱風襲 (C)寒流來襲 (D)熱浪籠罩。
- ※附圖為中國三大氣候區分布圖。請問 4-7 題：



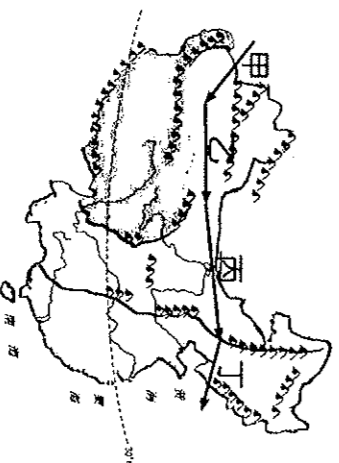
- 圖中甲氣候區與乙氣候區的分類指標為何？ (A)年降水量 750 mm (B)年降水量 500 mm (C)1 月均溫 0°C (D)7 月均溫 18°C。
  - 圖中哪個氣候區年降水量稀少，且年、日溫差均大，產業活動以畜牧為主？ (A)甲 (B)乙 (C)丙。
  - 圖中哪個氣候區的降水量最多，是中國主要的農業區？ (A)甲 (B)乙 (C)丙。
  - 以下敘述中何者是丙區的氣候特徵？ (A)氣候乾燥，終年少雨 (B)終年低溫，降水量稀少 (C)降水量少，年溫差大 (D)年溫差小，日溫差大。
  - 中國三大氣候類型中，乾燥氣候可分為草原氣候與沙漠氣候，這兩種氣候劃分依據是什麼？ (A)降水量多寡 (B)植被種類 (C)地形起伏 (D)氣溫高低。
- ※中國某日天氣預報：「大陸冷高壓中心目前在甲一帶，漸向東南方移動，北京受乙季風影響，有降雪機會。」請問 9-11 題：
- 上文中的甲應該填入何者？ (A)青藏高原 (B)塔里木盆地 (C)太平洋 (D)蒙古高原。
  - 上文中的乙應該填入何者？ (A)東北 (B)東南 (C)西北 (D)西南。
  - 承第 10 題，此時中國的氣候狀況應是下列何者？  
(A) 陸地 海洋 (B) 陸地 陸地 (C) 陸地 海洋 (D) 陸地 海洋



- 下列關於「季風」的敘述，何者錯誤？ (A)夏季季風主要由海洋吹向陸地 (B)主要由大範圍的海陸性質差異所造成 (C)夏季季風通常溫暖乾燥 (D)冬季季風通常寒冷乾燥。
  - 下列中國氣候特徵中，哪些深受季風影響？ (甲)降雨集中夏季 (乙)冬季南北溫差大 (丙)青藏高原終年低溫 (丁)降水量由東南向西北遞減 (A)甲乙 (B)甲丁 (C)乙丙 (D)乙丁。
  - 由中國東南沿海向西北內陸前進，何項氣候資料數值會呈現增加的趨勢？ (A)雨季 (B)年均溫 (C)年溫差 (D)年降水量。
  - 某都市的年降水量為 1,200 毫米，七月月均溫為 28.8°C，一月月均溫為 3.9°C，該都市的氣候類型為何？ (A)高地氣候 (B)副熱帶季風氣候 (C)溫帶季風氣候 (D)熱帶季風氣候。
  - 中國西部內陸乾燥氣候的主要成因？ (A)地處內陸，四周山脈阻擋夏季季風進入 (B)為副熱帶高壓籠罩 (C)沿海有寒流經過 (D)位於低緯度地帶。
  - 「各地傳統服飾的特色，大多是居民長期適應氣候環境的表現。如西部高原上的藏族為適應○○大的氣候特色，以方便穿脫的袍子為傳統服飾。」根據西部高原的自然環境及藏族的傳統服飾特色判斷，文中的○○指最可能指哪項氣候特色？ (A)年降水量 (B)年溫差 (C)日溫差 (D)風速。
  - 秦嶺—淮河是中國一條重要的地理分界線，下列分界線與它大致相符的有哪些？ (甲)熱帶與副熱帶分界線 (乙)一月月均溫 0°C 等溫線 (丙)年降水量 750 毫米等雨量線 (丁)季風氣候與乾燥氣候分界線 (A)甲乙 (B)甲丁 (C)乙丙 (D)丙丁。
  - 「河川注入終點分類，甲注入海洋者為外流河，主要水源來自乙地下水補注，沿途多丙淡水湖分布，淡水湖常用於丁養殖漁業。河川最終戊注入內陸湖泊或消失於沙漠者為內流河，主要水源來自己降水多寡，內流區多庚鹹水湖分布，鹹水湖可辛生產湖鹽。」以上是小英根據老師上課內容，整理出有關中國河川特色的重點筆記，筆記內容何處有誤需要修改？ (A)甲戊 (B)乙己 (C)丙庚 (D)丁辛。
  - 建築師必須對當地氣候有充足認識才能建造出最適合人們居住的房屋。請問：下列哪位建築師對中國的建築型態說法有誤？ (A)吳信義：「南部區域因雨日多，建築常見騎樓設計」 (B)林小巢：「北部區域房屋大多坐北朝南，以防冬天冷風」 (C)陳東森：「雲貴高原因氣候乾燥少雨，故可建不耐大雨的窑洞」 (D)王永慶：「新疆地區因氣候乾燥，多平頂式建築」。
- ※附圖為中國內、外流區分布圖。請問 21-23 題：



- 哪個區域的降水來源深受印度洋西南季風的影響？ (A)甲 (B)乙 (C)丙 (D)丁。
  - 哪個區域河川的水源並非來自於降水，而是源於高山融雪？ (A)甲 (B)乙 (C)丙 (D)丁。
  - 河川特性和流域內的湖泊種類關係甚大，其中鹹水湖最常出現在附圖中的哪一個水文區？ (A)甲 (B)乙 (C)丙 (D)丁。
- ※電玩公司推出一款名為「世界王國」的遊戲，將現有世界的實際自然景觀設計進電玩遊戲，玩家須了解現實世界的狀況，才能對遊戲進行最好的攻略。小東正帶領他的軍隊從歐洲進攻到中國，附圖甲、乙、丙、丁為他的進攻路線，請問 24-26 題：

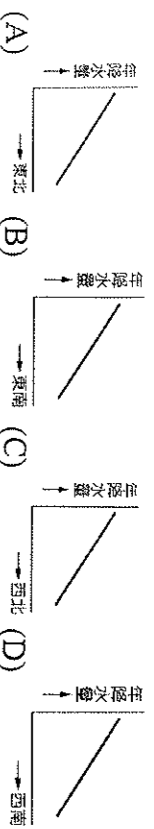


- 小東從甲路線進攻到乙路線時，須在當地市集購買適應當地氣候的交通工具，請問他應該購買哪種交通工具最適合？ (A)汗血河馬 (B)白毛犛牛 (C)耐力水牛 (D)雙峰駱駝。
- 從甲路線到丙路線的路途當中，小東最需注意他的士兵會有什麼狀況發生？ (A)天氣高溫而中暑 (B)夜間溼氣重得飽疹 (C)日夜溫差大易傷寒 (D)植被茂密而蟲蛇多。
- 進攻至丁路線時，小東在此地紮營，又適逢夏季。依風向來說，要讓帳篷開門吹到自然風來降低暑熱，他應將帳篷的門朝向哪個方向？ (A)東北方 (B)西北方 (C)東南方 (D)西南方。

27. 中國傳統農業社會中，居民多以生活環境的作物或牲畜為食。下列四個地區與食物的配對，何者錯誤？

選項	(A)	(B)	(C)	(D)
地區	福建	山東	新疆	蒙古
傳統飲食	粥	饅頭	犏牛肉	羊奶

28. 中國降水的空間分布特徵最適用下列哪張圖來表示？



29. 中國自1980年代起，由於經濟改革開放，許多鄉村人口非法遷移到都市工作，造成都市人口管理上的問題，尤其每年「春運」的過年返鄉人潮，更造成交通運輸上的莫大挑戰。請問：「春運」人潮，最主要移動的方向為何？(A)中部→東部 (B)西部→東部 (C)中部→西部 (D)東部→中部。

30. 中國為世界第二大經濟體系，但每人平均國民所得在世界排名只有第74名，最主要的原因應該為何？(A)人口數量過多 (B)高齡化與性別比例失衡 (C)人口整體素質尚待提升 (D)流動人口龐大。

31. 中國人口超過13億，而美國人口3.2億，但美國國土面積比中國稍大一些，從此資料可看出兩國的哪種差異？(A)經濟結構 (B)人口密度 (C)人口分布 (D)政治體系。

32. 某出版社認為「只要每100人裡有1人購買他們出版的書，就可以有1,300萬本的銷售量」，積極前進中國。這是受到什麼因素影響？(A)中國的潛在消費市場龐大 (B)中國愛看書的人口少 (C)中國人不懂看書的樂趣 (D)中國的人口素質低落。

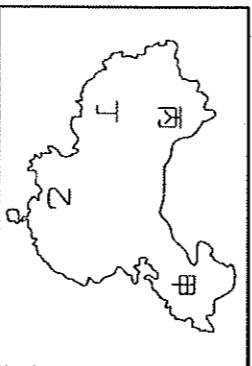
33. 一個國家的人口數若太多，容易導致下列哪些不良的影響？(甲)糧食供應不足(乙)消費市場廣大(丙)生活空間不足(丁)就業機會增加 (A)甲乙 (B)乙丁 (C)甲丁 (D)甲丙。

34. 中國由於受到傳統父系社會「重男輕女」的觀念影響，再加上生育政策的執行，父母多設法保留男胎，導致哪種比例高居不下？(A)幼年人口比例 (B)老年人口比例 (C)壯年人口比例 (D)性別比例。

35. 「『光棍節』前夕，中國某團購網站推出免費送網友去越南找新娘『脫單』的活動，吸引了一萬一千八百多人參與。隨著中國結婚成本愈來愈高，一些剩男白領也加入相親大軍，成為相親團主力。」請根據上文回答下列問題。由上述判斷，中國目前的性別比最可能為何？(A)80 (B)90 (C)100 (D)110。

36. 「高齡化社會」通常出現在經濟發展程度高的國家，如日本、瑞典。但中國卻在2000年達到高齡化社會的標準，其成因可能與下列何者最有關係？(A)國民所得的金額逐年增加 (B)勞動力大量流入鄰近國家 (C)社會資源多偏向老人福利 (D)實行嚴厲的計畫生育政策。

※附圖是幾個少數民族分布區的圖，請問37-38題：



37. 在甲、乙、丙、丁中，哪個地區的少數民族系最多？其形成原因又為何？(A)甲地：氣候乾燥 (B)乙地：地形崎嶇 (C)丙地：鄰國眾多 (D)丁地：地勢高大

38. 關於這四個地區內少數民族生活方式的描述，哪項正確？(A)甲地：壯族常以駱駝為交通工具 (B)乙地：蒙古族多住蒙古包 (C)丙地：回族多信奉伊斯蘭教 (D)丁地：藏族多以穿脫方便的袍子為服飾。

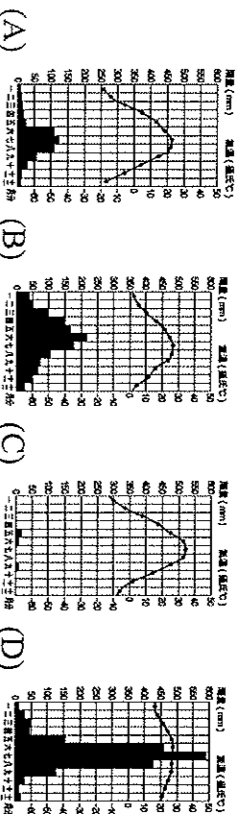
39. 珠江上游為西江、北江和東江，在中國的四大河川中，珠江是流量最穩定、水位變化最小的河川。造成這種現象的主要原因為何下列哪項？(A)河川支流細 (B)融雪供應足 (C)雨季長降水豐 (D)流域蒸發量少。

40. 中國的天津和廣州同位於地勢平坦的地勢第三級階梯中，附

表為兩城市某月份的溫度分布狀況。請問：表中氣溫最可能出現於下列哪一個季節？(A)春季 (B)夏季 (C)秋季 (D)冬季。

地點	天津	廣州
氣溫	-7.7°C	18.3°C

41. 中國面積廣大，氣候各不相同。下列哪種氣候區內的人口分布較稀疏？



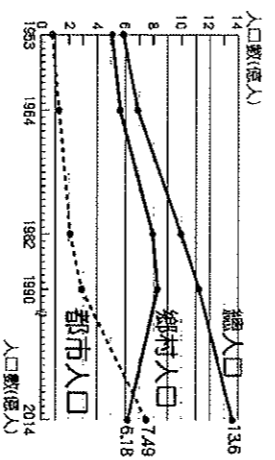
42. 中國因人口眾多而成為「世界工廠」。但過去幾年外商開始抱怨勞力短缺、工資上漲過快。請問：中國20~29歲的勞動力已由西元1990年的2.33億人減到西元2005年的1.65億人。這是因為下列哪種人口現象的影響所致？(A)人口分布不均 (B)人口移出 (C)出生率下降 (D)死亡率提高。

43. 中國近年雖實施人口政策控制生育率，但每年人口成長增加數量依然十分龐大，最主要的原因為何？(A)死亡率降低 (B)出生率仍高 (C)人口移民增加 (D)人口總數眾多。

44. 中國冬季等溫線分布大致呈東西向的平行排列，此一現象與下列何者關係最密切？(A)季風風向 (B)距海遠近 (C)緯度高低 (D)地形高低。

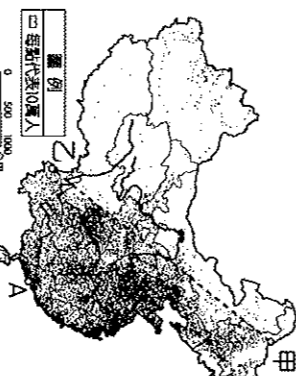
45. 某作物的生長條件較為耐旱、耐寒、適應能力極強，主要栽種於中國秦嶺、淮河以北地區，成為當地居民最為重要的糧食作物。請問：上述作物最可能為下列何者？(A)甘蔗 (B)小麥 (C)茶葉 (D)稻米。

46. 附圖是中國城鄉人口變化圖，四位同學提出各自對這張圖的解讀，何者的說明正確？(A)小瑜：獎勵生育，都市地區出生率較高 (B)小宗：經濟改革，都市拉力不斷增加 (C)小民：學校林立，整體教育資源合理分配 (D)小翰：人口龐大，都市人口大量外移。



47. 新聞報導：「『全面二孩政策』於西元2016年元旦起實施，但中國當局公布數據，西元2017年的出生人口、出生率都較西元2016年下降。」請問：中國從一胎化放寬成二胎，主要是擔心何種現象的產生？(A)人口分布不均 (B)文盲率提高 (C)人口數成長 (D)撫養比提高。

※圖為中國的人口分布狀況，請問48-50題：



48. 圖中甲、乙兩地連線剛好成為人口疏密的分界線，請問：造成這種現象的主要原因中，不包括下列何者？(A)土地面積較大 (B)人口總數較多 (C)氣候較為溼潤 (D)人口密度較高。

49. 中國西半部地區的人口主要集中在下列何種地區？(A)綠洲河谷 (B)盆地中央 (C)高山山腰 (D)高原頂部。

50. 附圖中A地的人口密度極高，請問：該地點最可能為下列何者？(A)上海 (B)北京 (C)重慶 (D)澳門。