

※選擇題，每題 2 分，共 50 題

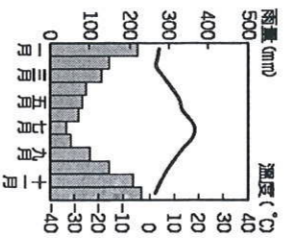
1. 有關歐洲區域統合敘述何者正確？ (A) 參加歐盟的國家全部使用歐元做為統一貨幣 (B) 所有歐洲國家皆為歐盟成員 (C) 總部設於英國首都倫敦 (D) 會員國之間取消關稅促進貨物流通

2. 西亞地區的各產油國結合世界其他產油國，共同組成哪個組織，以維護產油國利益，穩定國際石油價格？  
(A) OPEC (B) WHO (C) APEC (D) WTO

3. 西亞的地形以高原為主體，其中哪個高原與非洲相連，後因紅海斷層陷落而分離，形成半島？ (A) 阿富汗高原 (B) 伊朗高原 (C) 阿拉伯高原 (D) 安納托利亞高原

4. 關於中亞五國的敘述，下列何者正確？ (A) 位於亞洲及美洲貿易往來的要道 (B) 哈薩克為中亞主要石油生產國 (C) 山地為地形主體 (D) 五國包含哈薩克、烏茲別克、伊朗、阿富汗、吉爾吉斯

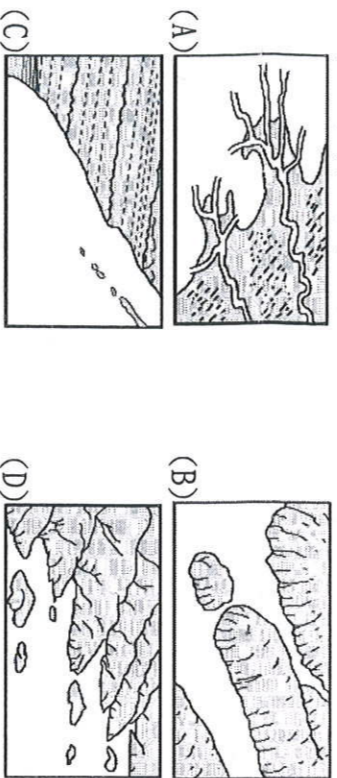
5. 右圖為西亞某地區氣候類型，請問此種氣候主要分布在哪些地方？ (A) 紅海周邊 (B) 波斯灣周圍 (C) 黑海附近 (D) 鹹海附近



6. 承上題，造成這種氣候類型的主要原因為兩個行星風系的風帶季節移，請問這兩個行星風系與其影響季節分別為何？

- (A) 夏季—西風帶；冬季—東北信風帶 (B) 夏季—副熱帶高壓帶；冬季—赤道低壓帶 (C) 夏季—赤道低壓帶；冬季—西風帶 (D) 夏季—副熱帶高壓帶；冬季—西風帶

7. 希臘自古即以航運貿易著稱，其發展航運的最主要優勢是因為擁有下列哪種海岸地形？

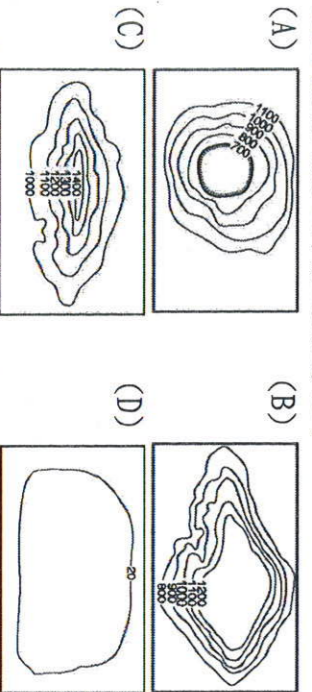


8. 中亞大部分地區屬乾燥的沙漠氣候，其成因最主要為下列何者？ (A) 副熱帶高壓籠罩 (B) 位居西風的背風側 (C) 距海遙遠 (D) 涼流流經

9. 【甲】V型谷 【乙】U型谷 【丙】峽灣 【丁】谷灣

- 【戊】岬灣，以上五種地形中，主要受冰河作用影響而形成的是哪兩種？ (A) 甲丙 (B) 甲戊 (C) 乙丙 (D) 乙丁
10. 西亞地區因氣候乾燥，水資源珍貴，如伊朗高原的居民，為避免水分蒸發，將高山雪水引入地下，發展出坎井系統。請問：中國在下列何處也可見到相同的灌溉方式？ (A) 內蒙古高原 (B) 塔里木盆地 (C) 黃土高原 (D) 藏南縱谷

11. 歐洲人口分布平均，除了因為氣候溫和全境沒有沙漠外，還因為歐洲是以什麼地形為主？



12. 有關西亞的敘述：「位於歐、亞、非三洲鄰接地帶」、「自古為歐洲、亞洲往來必經之地」上述句子皆顯示出西亞何項特徵？ (A) 地理位置重要 (B) 人文景觀單一 (C) 淡水資源缺乏 (D) 宗教信仰複雜

13. 西亞主要族群為【甲】人，宗教信仰以【乙】為主。請問：【甲】、【乙】依序應填入下列何組？

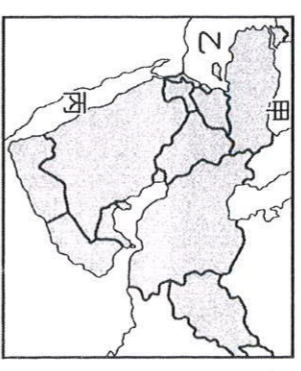
- (A) 波斯人、猶太教 (B) 猶太人、猶太教 (C) 阿拉伯人、伊斯蘭教 (D) 土耳其人、伊斯蘭教

14. 中亞境內大量引用河水，導致某內陸湖泊面積逐漸縮減，造成許多環境問題。請問：這座湖泊叫做什麼？ (A) 鹹海 (B) 裏海 (C) 地中海 (D) 死海

15. 承上題，該湖泊面積大幅度縮小的主要原因為何？ (A) 圍湖造田 (B) 種植棉花 (C) 超抽地下水 (D) 地層下陷

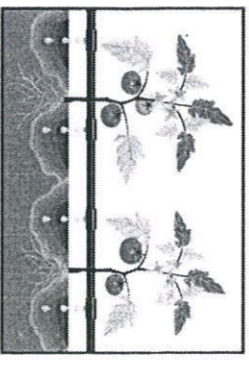
16. 「此國位於地中海進入大西洋的通道，也扮演西方文明由地中海文明轉移到大西洋文明的關鍵角色，開啟『大航海時代』的來臨。」符合上述介紹的是下列哪個國家？ (A) 西班牙 (B) 教廷 (C) 義大利 (D) 法國

17. 西亞位於三洲四海峽及五海交界帶，因此，戰略及交通地位重要。右為西亞位置圖，圖中的甲、乙、丙分別為哪三個海？ (A) 地中海、黑海、紅海 (B) 裏海、紅海、鹹海 (C) 黑海、地中海、紅海 (D) 鹹海、裏海、地中海



18. 歐洲地區的降水量呈現由西向東遞減的趨勢，且愈往東年溫差也愈大，此一現象與下列何項因素關係最為密切？ (A) 涼流經過 (B) 河流流向 (C) 盛行風向 (D) 地勢高低

19. 右圖為滴灌示意圖。滴灌農業是現代科技的產物，因灌溉水源直接輸送到農作物根部，可有效減少水分蒸發，達到節水功效，也避免土壤鹽鹼化的問題。請問：研發出滴灌技術的國家為下列何者？ (A) 以色列 (B) 敘利亞 (C) 伊拉克 (D) 沙烏地阿拉伯。

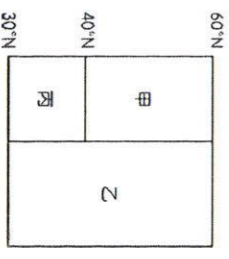


20. 義大利得以發展工業，主要是與阿爾卑斯山提供何者優良工業區位條件有關？ (A) 原料：石油 (B) 動力：水力 (C) 交通：谷灣式海岸 (D) 勞工：廉價勞工

21. 南歐的農業以灌溉農業為主，這和下列哪一因素的關係最為密切？ (A) 土壤過於貧瘠 (B) 農業人口流失 (C) 增強作物抗病力 (D) 生長季適逢乾季

22. 南歐有三座半島分別是：【甲】巴爾幹半島、【乙】伊比利半島、【丙】義大利半島。小翔參加地中海郵輪豪華之旅是從希臘向西班牙出發，經過的半島順序為何？ (A) 甲乙丙 (B) 甲丙乙 (C) 乙甲丙 (D) 乙丙甲

23. 右圖為歐洲氣候分布簡圖，圖中丙區所代表的氣候為何？ (A) 溫帶地中海型氣候 (B) 溫帶大陸性氣候 (C) 溫帶海洋性氣候 (D) 高地氣候。



24. 阿拉伯半島上地形起伏較小，當地礦產資源豐富。造成阿拉伯半島地形起伏較小的原因最主要是何者？ (A) 板塊碰撞 (B) 地質古老 (C) 河川沖積 (D) 氣候乾燥

25. 小蓉對建築十分有興趣，她想親眼目睹著名的歐式建築，並列出了計畫名單。請問：哪項建築不在歐洲境內？ (A) 巴塞隆納聖家堂 (B) 杜拜哈里發塔 (C) 羅馬圓形競技場 (D) 雅典衛城

26. 「麥加」之於穆斯林，就像「教廷」之於天主教教徒一樣，都是信徒心目中的聖地，如果有機會，一生一定要去朝聖一次。請問：麥加與教廷分別位在哪個半島上？

- (A) 中南半島、巴爾幹半島 (B) 朝鮮半島、斯堪地那維亞半島  
(C) 阿拉伯半島、義大利半島 (D) 印度半島、伊比利半島

27. 世界航運要道-「直布羅陀海峽」，控制那兩個海域的交通往來？ (A) 紅海、地中海 (B) 黑海、裏海 (C) 地中海、黑海 (D) 大西洋、地中海

28. 「葡萄及橄欖因根細長，可以吸收深層地下水，能耐旱的環境，因而成為本區重要的作物。」請問：文中的作物主要分布位於下列哪一張氣候圖區內？



29. 義大利的精華區及主要工業重鎮位於哪條河川的沖積平原上？ (A) 波河 (B) 萊茵河 (C) 多瑙河 (D) 幼發拉底河

30. 歐洲的山脈主要為東西走向，因此有利於盛行風深入內陸造成各地普遍溼潤有雨。請由上文判斷，歐洲盛行風向應該為何？ (A) 東北風 (B) 西南風 (C) 北風 (D) 西風

31. 下列各種自然、人文因素之中，何者與「歐洲老年人口比例居世界第一」的現象最不相關？ (A) 出生率較低 (B) 死亡率較低 (C) 人口分布平均 (D) 醫療條件進步

32. 下列哪一個國家，因緯度較低，已成歐盟冬季生鮮蔬果主要供應地之一？ (A) 以色列 (B) 希臘 (C) 西班牙 (D) 敘利亞

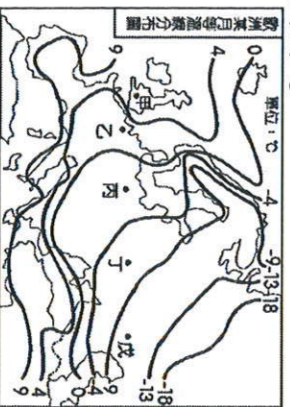
33. 西亞許多國家因為石油致富，改變了國家經濟結構，關於石油對於該區域的影響，下列敘述何者錯誤？

- (A) 由畜牧業轉為工商業 (B) 使本區成為人口移出區  
(C) 轉型發展金融業和觀光業 (D) 周圍未產油國家也因為管線經過而增加收入。

34. 【甲】基督教 【乙】佛教 【丙】天主教 【丁】伊斯蘭教  
【戊】猶太教。請問耶路撒冷為哪三個宗教的共同聖地？

- (A) 甲乙丙 (B) 甲丁戊 (C) 乙丙丁 (D) 甲丙戊

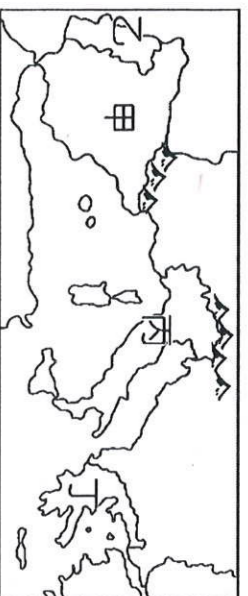
※歐洲位於中緯度溫帶地區，自然環境優越，為西方思想文明的發源地及工業革命的起源。附圖為歐洲某月等溫線分布圖，請回答下列問題：



35. 歐洲的氣溫分布特色對當地的活動及聚落分布影響甚大。請問：影響歐洲氣溫分布的主要因素除了緯度外，尚包括下列何者？(A) 地形 (B) 人口 (C) 洋流 (D) 河川。

36. 圖中各點的緯度差異不大，但氣溫差異甚大。請問：圖中乙點的氣溫最可能為下列何者？

- (A) 2 °C (B) -4 °C (C) -8 °C (D) -11 °C。  
※下圖為南歐簡圖，南歐具有豐富多元的文化，各個國家也別具特色，請回答下列問題：



37. 圖中哪個國家擁有許多舉世聞名的古蹟-比薩斜塔、羅馬競技場？(A) 甲 (B) 乙 (C) 丙 (D) 丁

38. 曾經殖民過澳門的國家為？(A) 甲 (B) 乙 (C) 丙 (D) 丁

39. 小雲想親自看看某國家的特色節日-番茄節，她應該要到哪個國家？(A) 甲 (B) 乙 (C) 丙 (D) 丁

40. 某國發行的歐元，硬幣上表現出奧林匹亞運動會對該國的意義。請問：此硬幣最可能由哪個國家所發行的？

- (A) 甲 (B) 乙 (C) 丙 (D) 丁

41. 設計天主教堂-聖家堂，且被譽為天才建築師-高第的故鄉？ (A) 甲 (B) 乙 (C) 丙 (D) 丁

※下圖為西亞國家的簡圖，深色區域為庫德族的分布區，而該民族在 1988 年遭到伊拉克的攻擊後，數萬族人被迫進入圖中甲國避難，請問：



42. 附圖中的甲國應該為下列何者？

- (A) 伊朗 (B) 以色列  
(C) 科威特 (D) 土耳其。

43. 承上題，庫德族在當地生存了許多年，多依水草而居，依此判斷，該民族的主要畜牧方式應是什麼？  
(A) 游牧 (B) 欄牧 (C) 酪農業 (D) 放牧。

※歐洲多位於中緯度地帶，其氣候類型以溫帶氣候為主。附表有四種溫帶地區的氣候類型特色，請根據表中資料回答下列問題：

氣候類型	氣候特徵	年溫差	雨量分布
甲	夏涼冬暖	小	全年有雨
乙	夏熱冬寒	大	夏雨冬乾
丙	夏熱冬寒	大	終年乾燥
丁	夏熱冬暖	不大	夏乾冬雨

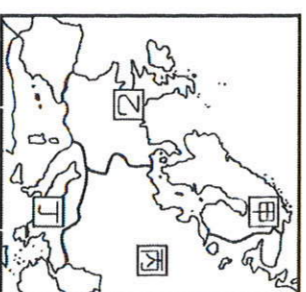
44. 歐洲的氣候類型中，不包括表中的哪一種氣候特色？

- (A) 甲 (B) 乙 (C) 丙 (D) 丁。

45. 圖一為歐洲簡圖，圖中乙處的氣候類型應為表中的何種氣候？

- (A) 甲 (B) 乙 (C) 丙 (D) 丁。

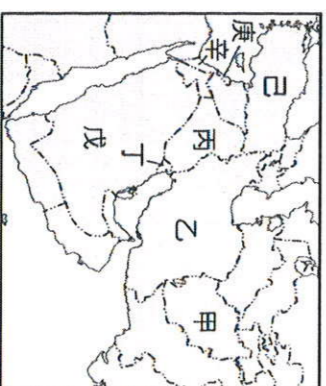
46. 歐洲境內哪一個地區的海岸主要為峽灣地形，因此形成天然良港，有利於對外海運發展？ (A) 西歐 (B) 南歐 (C) 東歐 (D) 北歐



圖一

※附圖為西亞各國位置圖。請問：

47. 西亞傳統的兩河流域文明歷史悠久，並有「肥沃月彎」之稱。請問：其位於圖中哪個國家境內？(A) 甲 (B) 丙 (C) 丁 (D) 戊



48. 圖中哪個國家境石油蘊藏量、出口量均為第一？

- (A) 甲 (B) 辛 (C) 己 (D) 戊

49. 西元 1948 年，猶太人在美國的支持下建立了哪個國家，使篤信伊斯蘭教的西亞國家群起反抗，導致西亞衝突不斷？

- (A) 丙 (B) 庚 (C) 辛 (D) 己

50. 關於圖中己國的敘述，何者錯誤？(A) 橫跨歐亞兩洲

- (A) 北邊為地中海型氣候 (C) 伊斯坦堡為己國重要大城市  
(D) 平原為地形主體。