

宜蘭縣立羅東國中 107 學年度第二學期九年級地理科第二次段考試卷

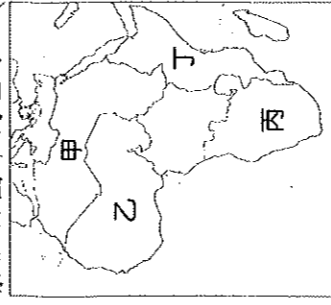
選擇題：每題 2 分，請用 2B 鉛筆作答

※埃及為世界四大古文明之一，請問：

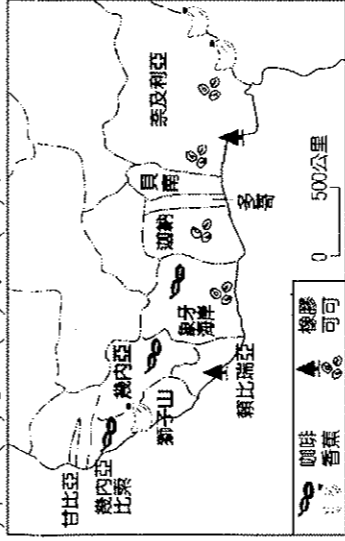
- 1.今日的埃及主要以何種宗教信仰為主？ (A)佛教 (B)基督教 (C)印度教 (D)伊斯蘭教。
- 2.埃及擁有蘇伊士運河的經營權。蘇伊士運河主要可縮短哪兩大洋之間的航運距離？ (A)太平洋與大西洋 (B)大西洋與印度洋 (C)印度洋與太平洋 (D)大西洋與地中海。
- 3.亞斯文高壩有防洪、灌溉與發電等效益，但也造成下列何種負面影響？ (A)尼羅河三角洲日漸退縮 (B)尼羅河下游氾濫次數增加 (C)氣候改變，水源供應更加吃緊 (D)沙漠面積減少。
- ※非洲國家數目眾多，但各國發展差異甚大。請問：
- 4.非洲是目前世界上國家最多的一洲，此一現象與下列哪項因素關係最密切？ (A)聯合國強制劃分 (B)殖民地的背景 (C)地形崎嶇不統一 (D)種族複雜語言差異。
- 5.若以國內擁有的礦產資源判斷，下列哪個國家最可能是「石油輸出國家組織」(OPEC)的會員國？ (A)埃及 (B)肯亞 (C)奈及利亞 (D)南非共和國。
- 6.該國盛產黃金、鑽石與鈾礦，是目前非洲經濟發展最穩定的國家。」上述國家為何？ (A)埃及 (B)肯亞 (C)奈及利亞 (D)南非共和國。

※圖(1)為非洲分區圖，請依據圖中代號回答下列問題

- 7.「近年來，由於索馬利亞海盜十分猖獗，加上隔著紅海遙望的葉門內戰不斷，身為非洲面積第三小的國家，在缺乏天然資源的情況下，利用戰略位置的優勢讓各國軍隊進駐，藉此發展出獨特的軍事經濟。」請問：上述國家最可能位於圖中哪個分區？ (A)甲 (B)乙 (C)丙 (D)丁。
- 8.「布吉納法索位於撒哈拉沙漠南部，因適合太陽能產業發展，吸引許多廠商投資。不過該國沒有足夠的專業人員清洗太陽能面板上的沙塵，加上人民窮困，無法購買可替換的電池，以致面板逐漸失去了功效，發電效果大打折扣。」請問：布吉納法索位於圖中何區？ (A)甲 (B)乙 (C)丙 (D)丁。



圖(1)



圖(2)

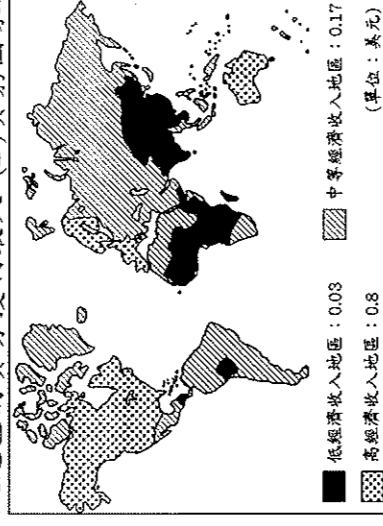
※西元 2013 年 12 月，伊波拉病毒在西非引爆大流行，此乃伊波拉出血熱史上最嚴重的一次爆發，臨床致死率高達 71%，根據世界衛生組織的統計，截至西元 2015 年 7 月 30 日，全世界已有 11,295 人死亡，主要集中在幾內亞灣沿岸三國：賴比瑞亞、獅子山及幾內亞。請根據圖(2)回答下列問題：

- 9.請依圖(2)賴比瑞亞、獅子山及幾內亞所種植的作物判斷，此區主要的農業活動最可能為下列何者？ (A)綠洲農業 (B)熱帶栽培業 (C)地中海型農業 (D)河谷農業。
- 10.下列何者並非伊波拉病毒在非洲快速傳播的原因？ (A)居民普遍貧窮 (B)傳統部落巫醫信仰 (C)當地醫療醫療資源缺乏 (D)過度開發造成生態破壞。
- 11.伊波拉病毒因其高致死率令人聞之色變，第一次爆發流行是西元 1976 年時發生在非洲剛果，造成 281 人死亡。與西元 1976 年的疫情相較，西元 2014 年爆發的伊波拉疫情傳播速度更快、範圍更廣。請問：該現象與下列哪項原因最相關？ (A)交通運輸進步、國際交流頻繁 (B)種族隔離政策延緩就醫 (C)非洲醫療資源較前落後 (D)部落社會拒絕西方醫療。
- ※全球經濟體系逐漸形成，國際間貿易活動量大幅增加。圖(3)是在每一美元的國際貿易中各區所獲得貿易的分配狀況。請問：
- 12.高經濟收入地區 (乙)歐盟 (丙)亞太經濟合作會議 (丁)石油輸出國家組織 (A)甲乙 (B)甲丁 (C)乙丁 (D)丙丁。

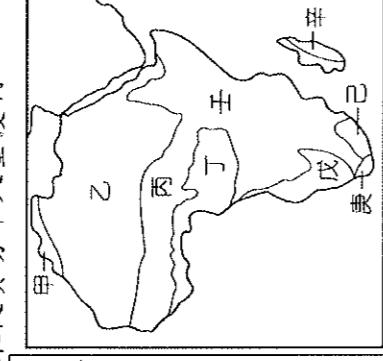
班級： 座號： 姓名：

13.有關圖中低經濟收入地區的敘述，下列何者錯誤？ (A)熱帶非洲經濟收益低的原因之一，與殖民背景有關 (B)中國、印度雖屬低經濟收入地區，但近年來經濟發展迅速 (C)南美洲因加入北美自由貿易區，使得經濟發展程度較非洲高 (D)低經濟收入地區以輸出原料和燃料為主。

14.根據圖(3)判斷，下列敘述哪項正確？ (A)已開發國家致力降低貧富差距 (B)開發中國家多為貿易轉運中心 (C)中等經濟收入地區的貿易獲利最大 (D)貧窮國家未從貿易中大量獲利。



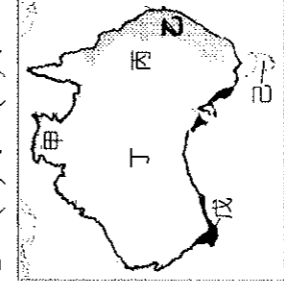
圖(3)



圖(4)

※圖(4)是非洲氣候區分布圖。請問：

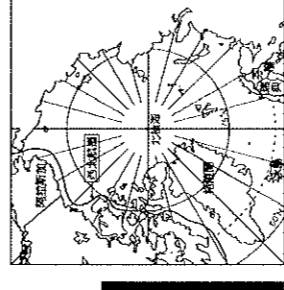
- 15.若利用臺灣暑假時到庚區旅遊，最可能遇到哪種天氣現象？ (A)晴空豔陽 (B)大雪紛飛 (C)細雨綿綿 (D)颶風侵襲。
- 16.圖中丁區與壬區同樣位於赤道附近，但丁區終年溼熱，壬區卻十分涼爽。造成兩地氣候差異的原因為何？ (A)地勢高低 (B)距海遠近 (C)涼流流經與否 (D)植被茂盛與否。
- 17.圖中哪區的水力資源最豐沛？ (A)甲 (B)乙 (C)丙 (D)丁。
- 18.「這裡被稱為『地球上最長的傷疤』，對研究地球板塊的運動和地殼變遷意義重大。」上文所指區域應為圖中哪個地區？ (A)乙 (B)丙 (C)丁 (D)壬。
- ※近年來「打工旅遊」在臺灣是非常熱門的新興工作方式，只要持臺灣度假打工簽證到國外，可一邊遊覽當地名勝、學習外語，一邊打工賺取生活費，澳洲常是年輕人的首選，請問：
- 19.「小巖應徵了澳洲某地葡萄園的工作，工作時間為 9 月到隔年 3 月，工作內容為葡萄採摘、葡萄藤修剪等，工作期間雨季剛結束，氣候漸漸乾燥變熱，後來幾乎不下雨，讓小巖有些適應不良。」請問：小巖可能在圖(5)中哪個氣候帶工作？ (A)乙 (B)丙 (C)丁 (D)戊。



圖(5)



圖(6)



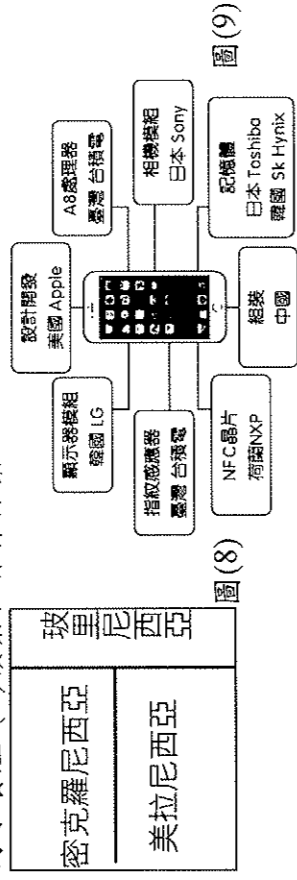
圖(7)

- 20.小巖一邊打工賺錢，一邊學習當地的官方語言，圖(6)為澳洲的國旗，根據國旗判斷該國的官方語言應為何者？ (A)法語 (B)德語 (C)英語 (D)西班牙語。
- ※附圖(7)為北極地區地圖。請問：
- 21.西北航道是指從大西洋經北極海，進入太平洋的航道，目前航運已有改善。近來西北航道的暢通與下列哪個現象密切相關？ (A)海洋汙染使海冰融解 (B)暖流改變浮冰的位置 (C)船隻破冰設備的改進 (D)全球暖化使氣溫改變。
- 22.日前因在北極海海床發現蘊含石油、天然氣等豐富資源，故俄羅斯逕自派出迷你潛艇，潛入北極點的深海，同時在海床插上特製國旗，以宣示該國主權，此舉引起周圍其他國家不滿。請問：此周圍國家最不可能下列何者？ (A)日本 (B)挪威 (C)美國 (D)加拿大。
- ※圖(8)為大洋洲三大島群示意圖。請問：
- 23.三大島群的分界線為何？ (A)赤道、北回歸線 (B)北回歸

線、南回歸線(C)赤道、本初子午線(D)赤道、國際換日線。
24.夏威夷為美國唯一地處熱帶的島州，該地屬於大洋洲的哪個島群？(A)玻里尼西亞(B)密克羅尼西亞(C)美拉尼西亞(D)澳大利亞。

25.第二次世界大戰後期，美軍為加速進逼日本本土，減少盟軍損失，執行了「跳島」戰術，選擇奪取日軍在大洋洲島群中的重要島嶼，發生許多有名的戰役。請問：依上文，顯示大洋洲中的島嶼具有下列何種價值？(A)經濟海域的擴張(B)帶動觀光業(C)交通、戰略地位重要(D)可移動國內過多之人口。

26.大洋洲的島嶼面積通常不大，這些島嶼的主要經濟活動為下列何者？(A)農業和礦產開採(B)漁業和觀光資源(C)牧業和海水養殖(D)礦業和森林採集。

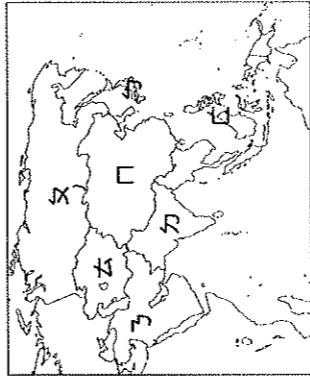


※圖(9)為美國某手機大廠的零件供應與關聯企業示意圖，請問27.根據圖中訊息判斷，此圖傳達了下列何種概念？(A)都市化(B)工業化(C)全球化(D)郊區化。

28.中國在手機生產鏈所扮演的角色，與下列何國對於該地域所提供的資源不同？(A)捷克之於歐盟(B)墨西哥之於北美洲(C)印尼之於亞洲(D)日本之於亞洲。

29.現任美國總統川普在總統大選前曾說，希望美國手機能夠在美國本土製造，但根據調查，若手機在美國組裝，成本將增加30~40美元，所有零件皆在美國生產則價格上漲100美元，而手機所有原料更無法僅在美國取得。由此可知，手機產品從蒐集原料到組裝成品是無法在同一个國家完成的。請問：此現象與下列何種概念無關？(A)交通革新(B)文化擴散(C)國際分工(D)全球化。

30.圖(10)為亞洲分區簡圖。圖中ㄉ區為跨國性的水資源衝突高危險區，流經此區域的哪兩條河川為引起紛爭的主因？(甲)恆河(乙)底格里斯河(丙)幼發拉底河(丁)印度河(A)甲乙(B)甲丙(C)乙丙(D)丙丁。



圖(10)

31.紐西蘭北島受到何種因素的影響，氣候較為溫和，成為主要的人口集中地區？(A)地勢較低(B)緯度較低(C)暖流經過(D)山脈阻擋。

32.南阿爾卑斯山為紐西蘭境內的地形脊梁，而山脈西側的降水量最多。由上述推斷，影響該國各地降水量多寡的最主要原因為何？(A)洋流性質(B)地勢高低(C)緯度位置(D)盛行風向。
33.2019年的跨年煙火依舊在世界各地熱鬧舉辦，若依地理位置判斷，下列哪一個地方最有可能見到新年的第一道曙光？

(A)非洲的馬達加斯加島(B)紐西蘭的北島(C)歐洲的格林威治天文臺(D)北美洲的紐約。

※澳洲四面環海卻降水量稀少，有廣大的沙漠地帶，請問：34.澳洲內陸形成沙漠的原因，主要有哪些？(甲)背西風(乙)背東南信風(丙)距海遙遠(丁)副熱帶高壓籠罩(A)甲乙(B)甲丙(C)乙丙(D)乙丁。

35.澳洲中部平原低地氣候乾燥，澳洲人在此畜牧所用的水源為何？(A)河水(B)高山雲水(C)地下水(D)湖水。

36.澳洲畜牧業發達，牧羊區在中部，牧牛區在東南部，造成此一差異的原因為何？(A)地形(B)氣溫(C)雨量(D)土壤。
※某日式連鎖速食餐廳發明「米漢堡」，甚至推出僅以生菜包

裹的新式漢堡，以重視環境及健康保健，並減少包裝的營運策略而著名。請問：

37.此業者提倡減少包裝的營運策略，可因應何種經濟全球化帶來的問題？(A)環境衝擊(B)跨國勞工移動(C)貧富差距擴大(D)人力國際流動。

38.«Burger»原屬西方極具特色的飲食文化，但該業者卻能適度的創新，以「米」取代「麵包」成了獨樹一格的漢堡而風靡世界，此現象可說明下列何種概念？(A)環境衝擊(B)文化融合(C)文化衝突(D)跨國勞工移動。

39.臺灣與菲律賓因爆發漁業糾紛，政府揚言要對菲律賓的來臺勞工進行數量抵制，菲國不得不正視兩國之間的漁業問題。請問：菲國勞工來臺工作是屬於經濟全球化下的哪個影響？(A)貧富差距擴大(B)文化衝突(C)人力國際移動(D)經濟提升。

40.跨國企業的模式是現代各大企業追求持續發展的策略之一。下列有關跨國企業的敘述，何者錯誤？(A)美國NIKE運動鞋在東南亞設廠，主要目的為增加當地居民的就業機會(B)臺灣鴻海在東歐捷克設廠，原因之一是因應歐盟成員國免關稅的優勢(C)跨國企業在世界各地設廠，主要原因為降低生產成本(D)國際分工是跨國企業追求最高利潤的方法之一。
41.第一次世界大戰後，為保護本國工商業發展，美國採取提高關稅政策，而後各國紛紛仿效，導致國際市場萎縮，甚至引發全球性的經濟大恐慌。為避免上述情況再度發生，下列哪個國際組織的運作最有助益？(A)聯合國(B)世界銀行集團(C)世界貿易組織(D)世界衛生組織。

42.據報載，中亞氣候乾燥，降水稀少，因此引用湖泊灌溉，使湖泊乾涸，面積縮減了75%，因此《泰晤士世界地圖全集》被迫改版重畫。請問：文中所提到的湖泊為下列何者？(A)裏海(B)黑海(C)紅海(D)鹹海。

43.近數十年來，巴西大規模開發亞馬孫河流域，這個舉動將對世界造成的影響可能有：(甲)溫室效應增強(乙)加大臭氧層破洞(丙)全球氣候改變(丁)物種滅絕。正確的是下列何者？(A)甲乙丙(B)甲乙丁(C)甲丙丁(D)乙丙丁。

44.生物多樣性成為重要的環境議題，下列有關生物多樣性的敘述，何者正確？(A)板塊運動為生物多樣性消失的主要原因(B)各種生物互不影響，形成多樣化的生態(C)人類產業活動複雜，有利於多樣性發展(D)大規模的生物滅絕，會造成生態系統失衡。

45.為避免因爭奪水資源發生糾紛，同一流域內的各國可透過制定條約或協議共享水資源。歐洲某河川源於阿爾卑斯山，流經瑞士、德國、法國與荷蘭等多個國家，及重要的工礦區，可說是歐洲航運價值最高的河川。沿岸國家設有水文國際委員會，透過資訊系統的規畫、管理及規定，提供跨國界問題的解決。上述河川為何？(A)塞納河(B)多瑙河(C)萊茵河(D)窩瓦河。
46.為抑制二氧化碳等溫室氣體的排放量，聯合國在西元1997年通過下列哪項條約，要求多數工業化國家應削減5~8%的二氧化碳排放量？(A)《蒙特婁公約》(B)《京都議定書》(C)《地球高峰議定書》(D)《生物多樣性公約》。

47.全球暖化最顯著的影響是海平面上升，預估在西元二十一世紀末，全球平均海平面將上升0.09~0.88公尺。海平面上升間接的加重海潮與海水倒灌，對濱海地區的衝擊。請問：若海平面上升，將對下列哪個城市威脅最大？(A)巴黎(B)東京(C)倫敦(D)威尼斯。

48.隨著全球人口增加及經濟發展帶動的資源開發，人類的生存環境一地球，已面臨前所未有的威脅。科學家最早在哪个大陸的上空發現臭氧層變薄的問題？(A)亞洲(B)大洋洲(C)南美洲(D)南極洲。

49.河川受汙染的程度通常與人口數量、經濟開發、降水多寡等因素有關。依此判斷，哪條河川目前受到汙染程度會最小？(A)長江(B)印度河(C)剛果河(D)聖羅倫斯河。

50.在冬季時，某些動物會以冬眠或遷移等方式，來度過低溫造成的生存危機。而近年來北半球常觀察到棕熊延後冬眠、候鳥延後南飛的現象，代表地球上已有部分生物因為外在環境改變而調整其行為模式與生活習性。下列何者和上述外在環境改變的形成最有關係？(A)工業化程度提高(B)沙塵暴頻率增加(C)漁業資源的減少(D)臭氧層破洞擴大。