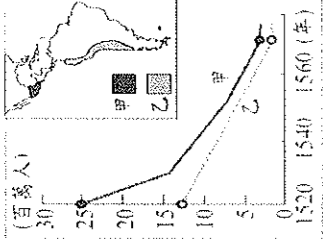


壹、第五冊題目(50%，每題2分)：第1~20題為題組題，第21~25題為單選題，請將答案畫在答案卡上

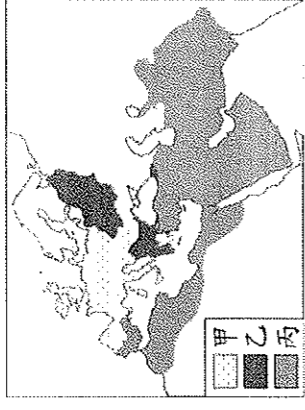
一、圖一為某時期甲、乙二地原住民人口數量估計值的變化，請依圖回答1~5題：

- () 1. 甲、乙應指下列何處？(A)美洲 (B)歐洲 (C)非洲 (D)亞洲。
 () 2. 該處人口數量的變化趨勢為何？(A)越來越少 (B)越來越多 (C)沒有變化 (D)無法辨別變化趨勢。
 () 3. 造成此變化的原因最可能為下列何者？(A)地理大發現 (B)美國獨立 (C)拉丁美洲獨立 (D)工業革命。
 () 4. 造成此變化的國家為下列何者？(A)葡萄牙 (B)西班牙 (C)荷蘭 (D)英國。
 () 5. 承4.，該國應與 (A)舊帝國主義 (B)新帝國主義 (C)社會達爾文主義 (D)白種人的負擔 有關。



二、圖(二)是十一世紀後期三個宗教的分布示意圖，請依圖回答6~10題：

- () 6. 甲應為 (A)希臘正教 (B)羅馬公教 (C)伊斯蘭教 (D)英國國教。
 () 7. 乙應為 (A)希臘正教 (B)羅馬公教 (C)伊斯蘭教 (D)英國國教。
 () 8. 丙應為 (A)希臘正教 (B)羅馬公教 (C)伊斯蘭教 (D)英國國教。
 () 9. 甲與乙皆屬於 (A)天主教 (B)基督教 (C)新教 (D)舊教。
 () 10. 甲與乙分家的原因為 (A)儀式、教義解釋歧異 (B)教會販賣贖罪券 (C)國王婚姻問題 (D)教士傳達九十五條論綱。



三、圖三是歷史上某人宣誓的內容，請依圖回答11~15題：

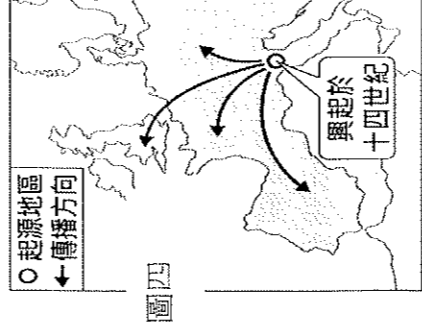
- () 11. 圖三中「我」應是「您」的 (A)領主 (B)附庸。
 () 12. 圖三中「您」應是「我」的 (A)領主 (B)附庸。
 () 13. 圖三中的「我」與「您」間有什麼樣的關係？
 (A)血緣 (B)契約 (C)法律 (D)以上皆非。

我XXX，委託您來監護，您必須幫助我，而我將服侍您、報答您。
 只要我活著，我必盡力服侍您、榮耀您；
 只要我活著，就必須服從您的權威和保護；
 只要我活著，我終身不得撤銷您對我的控制和監護；
 ……
 如有任何一方希望取消此契約，提議者應當賠償對方。

- () 14. 圖三生活場景會以下列何者為主？(A)商業交換 (B)莊園制度 (C)政教合一 (D)帝國體制。
 () 15. 圖三將出現在下列何處？(A)上古印度 (B)古典希臘 (C)中古西歐 (D)近代法國。

四、圖四是某一史事的起源地區與傳播方向示意圖，請依圖回答16~20題：

- () 16. 此一史事是指下列何者？(A)文藝復興 (B)科學革命 (C)地理大發現 (D)宗教改革。
 () 17. 此一史事的起源地為下列何處？(A)伊比利半島 (B)義大利半島 (C)巴爾幹半島 (D)阿拉伯半島。
 () 18. 此一史事的內涵為下列何者？(A)因信得救 (B)責任內閣 (C)海洋霸權 (D)人文主義。
 () 19. 下列何人會是此一史事的代表作家？(A)但丁 (B)歌德 (C)狄更斯 (D)雷馬克。
 () 20. 下列何圖會是此一史事的代表作品？(A)國富論 (B)最後的晚餐 (C)孤雛淚 (D)夢的解析。



五、單選題

- () 21. 從十六世紀哥白尼的「地球繞日說」，到十七世紀伽利略主張「太陽中心說」、牛頓發表「萬有引力定律」，這些學說的提出，在歷史上最可能具有下列何種意義？(A)嘗試改變生產方式，使用機器取代人力 (B)宣揚社會福利概念，解決貧富差距問題 (C)試圖用理性態度，了解宇宙的自然法則 (D)強調個性解放，重視人類的情感與直覺。
 () 22. 蓉蓉至某城市旅遊，發現此城市曾歷經亞歷山大帝國、羅馬帝國、阿拉伯帝國、鄂圖曼土耳其帝國的統治。蓉蓉最可能至下列哪一城市旅遊？(A)埃及開羅 (B)希臘雅典 (C)義大利羅馬 (D)沙烏地阿拉伯麥加。
 () 23. 約西元前3500年開始，人類歷史陸續發展出高度文明，如：西亞的蘇美、埃及古王國及中國殷商時期，下列何者為上古文明的共同特色？(A)出現文字 (B)強調一神信仰 (C)實施種姓制度 (D)建立跨歐、亞的帝國。
 () 24. 某一碑文刻有防守帝國疆域的軍團名稱，經研究確認為今日英國、西班牙、埃及、敘利亞等地，以及多瑙河、萊茵河沿岸。該碑文應是記錄下列哪一帝國的軍團？(A)二世紀羅馬帝國 (B)七世紀阿拉伯帝國 (C)八世紀查理曼帝國 (D)十三世紀蒙古帝國。
 () 25. 西元18世紀中葉，英國議員威爾克斯所發行的《蘇格蘭人》，有篇文章抨擊當時政府的對外政策，並攻擊國王喬治三世，威爾克斯因此被逮捕。但是，威爾克斯可以提出什麼觀點來捍衛自由呢？(A)大憲章的規定 (B)英國國教的教義 (C)改革法案的成果 (D)權利法案的內容。

貳、第六冊題目(50%，每題2分)：第26~50題，請將答案畫在答案卡上

- () 26. 巴爾幹半島連年征戰，與其境內民族的宗教信仰不同有關。該區的伊斯蘭教信仰與哪個帝國長期統治該地有關？
 (A)羅馬帝國 (B)拜占庭帝國 (C)俄羅斯帝國 (D)鄂圖曼土耳其帝國。
 () 27. 承上題，這個地區成為歐洲列強注目的焦點和角逐的場所，主要原因是列強覬覦該地的何項優勢？(A)文化遺產 (B)豐富資源 (C)戰略要地 (D)氣候宜人。

- () 28. 拉丁美洲各國於十九世紀初以後紛紛獨立，但各國間並未齊心協力。1826年，某位獨立運動領導人號召各國政府建立「南美合眾國」，後因各國意見不一而無法實現。該位領導人最有可能為何者？(A) 玻利瓦 (B) 加里波底 (C) 拿破崙 (D) 門羅。
- () 29. 下列哪些國家為了能在中、南美洲擴張勢力，並確保其利益，因此同聲反對西班牙鎮壓中、南美洲的獨立運動？(A) 法國、英國 (B) 葡萄牙、義大利 (C) 俄國、德國 (D) 英國、美國。
- () 30. 日本在明治維新後，先後擊敗哪兩國，擠身世界強國之林？(A) 韓國、中國 (B) 中國、俄國 (C) 越南、琉球 (D) 俄國、韓國。
- () 31. 西元1853年，某國東印度艦隊司令培理將軍，率領軍艦開到江戶灣口以武力威脅幕府開國。這些軍艦船身都是塗上黑色的，所以日本把這次事件稱為「黑船事件」，迫使日本放棄鎖國政策。上述某國是指？(A) 英國 (B) 美國 (C) 法國 (D) 荷蘭。
- () 32. 小安來到某國，當地居民曾以不合作運動對抗英國統治，以爭取地方自治。小安最有可能來到哪個國家？(A) 印度 (B) 印尼 (C) 日本 (D) 韓國。
- () 33. 梭仁穿越時空，來到1944年某戰場，他看見了二次大戰大規模的陸海空三軍登陸作戰，開闢西線的第二戰場。請問梭仁身處下列何處？(A) 珍珠港 (B) 北非 (C) 諾曼第 (D) 波蘭。
- () 34. 米勒的「拾穗」真蹟曾於2017年在故宮博物院展出，他這幅畫作被歸入那一類別的畫風？(A) 浪漫主義 (B) 寫實主義 (C) 印象派 (D) 立體派。
- () 35. 十九世紀後興起的婦女運動，至二十世紀初獲得的主要成就為何？(A) 通過性別平等法案 (B) 實踐男女同工同酬 (C) 英、美婦女陸續獲得投票權 (D) 法國婦女開始主持「沙龍」。
- () 36. 美國萊特兄弟研發飛機成功後，一直向陸軍行銷飛機的功能，直到那一場戰爭爆發，飛機才成為偵察與轟炸的工具，開啟空中作戰的局面？(A) 美國南北戰爭 (B) 普法戰爭 (C) 日俄戰爭 (D) 第一次世界大戰。
- () 37. 日治時期於台北的北投地區，發現了「北投石」本身具有放射性，來自其夾雜的放射性鹼土金屬鐳，成為世上唯一以臺灣地名命名的礦物。請問最初發現鈾、鐳等放射性物質的是下列何者？(A) 愛因斯坦 (B) 居禮夫婦 (C) 佛洛伊德 (D) 克里蒙梭。
- () 38. 有關義大利建國四個重要的人物的敘述，下列何者正確？(A) 伊曼紐二世曾組織「青年義大利黨」，鼓吹國家統一 (B) 首相馬志尼運用外交與軍事手段，排除奧國、法國的勢力 (C) 國王加富爾實施君主立憲，積極富國強兵 (D) 紅衫軍將領加里波底收復義大利南部。
- () 39. 西元1919年出席巴黎和會的「三巨頭」，分別是哪三個國家的代表？(A) 英、法、俄 (B) 英、美、法 (C) 英、美、日 (D) 美、英、中。
- () 40. 第二次世界大戰侵略的軸心國是哪三國？(A) 英、法、俄 (B) 美、日、英 (C) 德、奧、義 (D) 德、義、日。
- () 41. 「冷戰」時期始於何時？終於何時？(A) 蘇聯建立共產政權至東歐民主化 (B) 二次大戰結束後至蘇聯解體 (C) 二次大戰結束後至德國宣告正式統一 (D) 韓戰爆發後至九一一事件。
- () 42. 義大利墨索里尼的極權政權是哪一個政黨建立的？(A) 青年義大利 (B) 布爾什維克 (C) 法西斯 (D) 納粹。
- () 43. 二次大戰後出現的「第三世界」國家指的是？(A) 位於非洲的國家 (B) 擁有核子武力的國家 (C) 伊斯蘭國家 (D) 不與美蘇結盟的新興國家。
- () 44. 宋喬安搜尋了「羅斯福、邱吉爾、史達林」的資料，她準備報導的專題應該是：(A) 二次大戰同盟國的領袖 (B) 巴黎和會三巨頭 (C) 三國協約如何形成 (D) 帶領國家走出經濟大恐慌的領袖。
- () 45. 下列哪一位政治人物，二戰後曾先到中國調停國共衝突，最後以失敗收場，之後主導了西歐國家振興經濟的計劃？(A) 馬歇爾 (B) 凱末爾 (C) 邱吉爾 (D) 羅斯福。

請閱讀短文並回答第46-50題：

第二次世界大戰剛結束，在這段時期，雖然分歧和衝突嚴重，但對抗雙方都儘力避免導致世界範圍的大規模戰爭（世界大戰）爆發，其對抗通常通過局部代理人戰爭、科技和軍備競賽、外交競爭等“冷”方式進行，因此稱之為“冷戰”。

- () 46. 冷戰的形成是哪兩個強國的對立？(A) 中、美 (B) 法、德 (C) 英、法 (D) 美、蘇。
- () 47. 承上題，下列何者並非冷戰的產物？(A) 日俄戰爭 (B) 韓戰 (C) 越戰 (D) 柏林圍牆。
- () 48. 冷戰時期發生多次的危機，最後均化險為夷，哪一次是因為蘇聯興建飛彈基地所造成的？(A) 糧食危機 (B) 柏林危機 (C) 古巴危機 (D) 石油危機。

資料一：1918年11月，德皇退位、國家戰敗，使他內心充滿仇恨，他看清自己的使命，就是要恢復日耳曼民族的光榮。

資料二：一開始，德國人低估他，後來全世界的人都低估他，這是個非常可怕的錯誤……

- () 49. 請判斷資料一、二敘述的是下列何者？(A) 俾斯麥 (B) 列寧 (C) 希特勒 (D) 墨索里尼。
- () 50. 關於這位人物的敘述何者正確？(A) 他領導法西斯黨 (B) 他曾迫害大量的猶太人 (C) 廢除凡爾賽條約，重簽平等新約 (D) 入侵荷蘭，揭開第二次世界大戰的序幕。