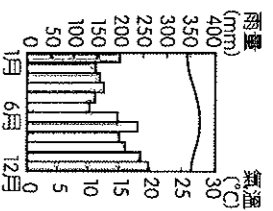


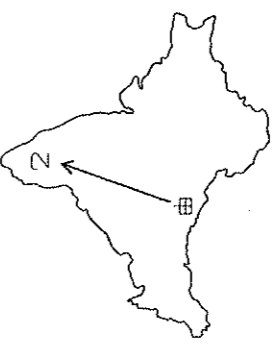
一、單題 (每格 2.5 分, 共 47.5 分)

- 右圖為亞洲某地「氣候圖」，依其溫度、雨量特徵判斷，此都市最可能是下列何者？  
(A) 中南半島—曼谷 (B) 南洋群島—新加坡  
(C) 朝鮮半島—首爾 (D) 印度半島—加爾各答
- 國家地理雜誌探險隊的成員，對中南半島的湄公河流域展開溯溪探源之旅，請問：該團隊最後會進入中國哪一地形區？  
(A) 橫斷山脈 (B) 嶺南丘陵 (C) 藏南縱谷 (D) 雲貴高原



- 受到自然與人文因素的影響，東南亞地區有許多國家的首都多屬於港埠型都市。」請問：若要佐證上文中提及的理論，最不適合舉下列哪個城市為例？  
(A) 菲律賓：馬尼拉 (B) 新加坡：新加坡  
(C) 印尼：雅加達 (D) 泰國：永珍

- 右圖為「印度半島簡圖」，乘飛機由甲往乙飛時，地表所呈現的景觀為何？  
(A) 山地→平原→高原  
(B) 高原→平原→山地  
(C) 高原→山地→平原  
(D) 山地→高原→平原



- 東南亞的人文景觀十分豐富，充滿多元文化的特性。請問：這種現象和該地區何種地理條件的關係最大？  
(A) 位置 (B) 氣候 (C) 地形 (D) 土壤

	(A) 地形	(B) 氣候	(C) 降雨	(D) 宗教
中南半島	多火山地震	熱帶季風	多對流雨	伊斯蘭教盛行
南洋群島	平原廣大	熱帶雨林	多鋒面雨	佛教為主

- 小花整理了一份資料，將某一性質相近的產業分布區整理如右表，請問：表中『☆』最適合填入下列哪一個地點？  
(A) 邦加羅爾 (B) 新德里  
(C) 加爾各答 (D) 孟買

北京	中關村
台灣	竹科
舊金山	矽谷
印度	☆

- 菲律賓的蘇祿是世界著名的海盜窩，他們每每乘著盛行風揚帆到印尼的婆羅洲、巴拉灣等地肆虐，因此這些島嶼的居民都稱此盛行風為「海盜風」。若依海盜們所航行的方向判斷，這些海盜最常出沒的季節應該是什麼時候？  
(A) 春 (B) 夏 (C) 秋 (D) 冬。
- 東南亞由於氣候濕熱，非常適合進行熱帶栽培的種植，因此此地理老師請大家回去研究熱帶栽培業所具有的特徵，以下誰的研究結果是正確的？  
(A) 小楷：為東南亞地區自古以來的傳統產業  
(B) 小瑜：容易受到國際市場價格的影響，風險高  
(C) 小樂：所種植出來的作物，主要是為了供應國內市場需求  
(D) 小蔣：為了增加收入，一塊土地上會種植不同的熱帶作物

- 承上題，下列經濟物產中，何種作物最不可能分布於東南亞？ (A) 椰子 (B) 咖啡 (C) 橡膠 (D) 棉花
- 「印度河流域中，以北部地區的農業活動最為發達，大量的河渠灌溉工程使得昔日原為游牧活動的草場，變成一大片肥沃的農田。」上文中提及的地區若持續推動此一產業模式，未來將可能面臨何種環境問題？  
(A) 土石崩塌 (B) 地層下陷  
(C) 土壤鹽鹼化 (D) 臭氧層破洞

- 印度人口眾多，但貧富差距與教育資源分配不均，知識份子與文盲有兩極化的現象，全國將近 4 億的貧民對印度造成沉重經濟負擔，請問：印度有如此社會現象的背景為何？  
(A) 民族、宗教複雜 (B) 採行種姓制度  
(C) 與巴基斯坦對立 (D) 曾受英國殖民

- 馬爾地夫總統曾向聯合國提出嚴重抗議，希望他們正視全球暖化的問題，因該國許多沿海低地已沒入水中。依緯度位置及地勢判斷，該國島嶼成因和臺灣哪一個島相同？  
(A) 綠島 (B) 東沙島 (C) 金門列嶼 (D) 澎湖群島
- 印度傳統產業以棉麻紡織及鋼鐵工業為主，主要受哪一工業區位因素影響？  
(A) 原料 (B) 市場 (C) 動力 (D) 交通

- 附表為巴基斯坦與孟加拉兩國的比較，請問哪些項目敘述正確？ (A) 甲 (B) 乙 (C) 丙 (D) 丁。

選項	(甲)	(乙)	(丙)	(丁)
國家	巴基斯坦	印度	孟加拉	孟加拉
位置	恆河流域	平原	小麥	佛教
地形	平原	高原	水稻	伊斯蘭教
主要糧食	小麥	水稻	佛教	伊斯蘭教
宗教	佛教	伊斯蘭教	印度教	印度教

- 印度半島可分為三季，下列有關於季節特色的描述中，何者完全正確？

項目	(A)	(B)	(C)	(D)
月份	11-2 月	11-2 月	3-5 月	6-10 月
名稱	乾季	涼季	熱季	雨季
特徵	盛行東北季風	高山阻擋西北季風	無風狀態	盛行東南季風，降水量多

- 印度的軟體工業相當盛行，成為該國重要的產業活動之一。請問：印度發展軟體工業的有利條件主要為哪些？  
(甲) 使用英語 (乙) 工資低廉 (丙) 社會平等 (丁) 海運便利  
(A) 甲乙 (B) 丙丁 (C) 甲丁 (D) 乙丙
- 近年來印度及巴基斯坦兩國間常有軍事衝突發生，使其成為南亞地區穩定發展的一大隱憂。上述兩國產生衝突的原因，與下列何者的關係最密切？  
(甲) 民族不同 (乙) 宗教信仰 (丙) 土地主權 (丁) 爭奪礦藏  
(A) 甲丁 (B) 乙丙 (C) 乙丁 (D) 丙丁
- 印度半島位於亞洲，它有『亞洲次大陸』之稱。這個稱呼是因為印度半島在下列哪一方面自成範圍？  
(A) 水系 (B) 氣候 (C) 地形 (D) 宗教

二、題組 (每格 2.5 分, 共 52.5 分)

\* 附圖為板塊示意圖，請根據此圖回答下列問題。

圖例 — 板塊邊界 ▲ 活火山 · 震央



- 關於板塊名稱與代號的配對，下列何者正確？

- (A) 甲——歐亞板塊 (B) 乙——太平洋板塊  
(C) 丙——印澳板塊 (D) 丁——菲律賓海板塊

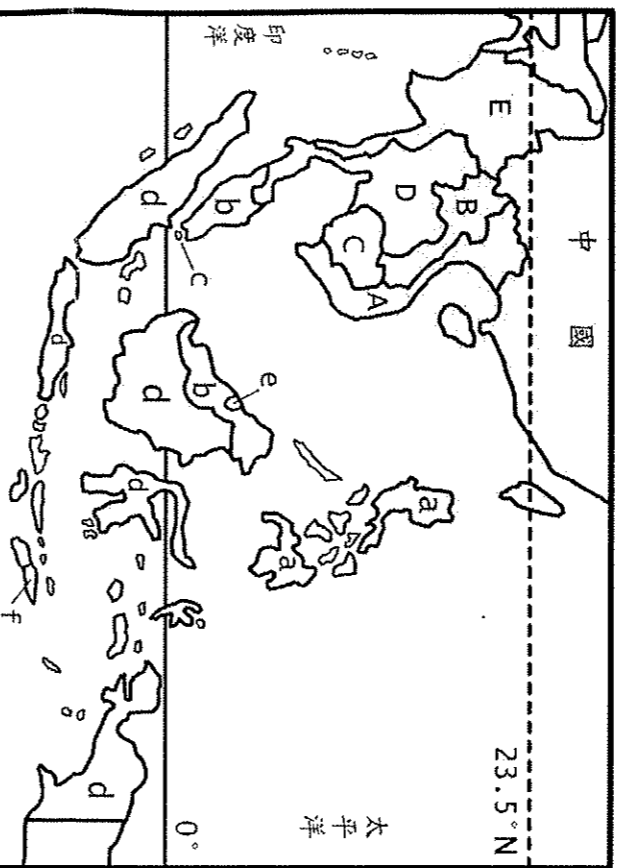
- 「2004 年 12 月 26 日，發生於印尼蘇門答臘島西部外海，芮氏規模 9.3 的強烈地震引起巨大的海嘯，重創東南亞及南亞等地區。」由上文判斷，此一海嘯發生在哪個海域？  
(A) 地中海 (B) 太平洋 (C) 大西洋 (D) 印度洋

- 承上題，造成南亞大海嘯的主要成因，與哪個板塊的擠壓運動有關？  
(A) 甲乙 (B) 甲丙 (C) 甲丁 (D) 丙丁



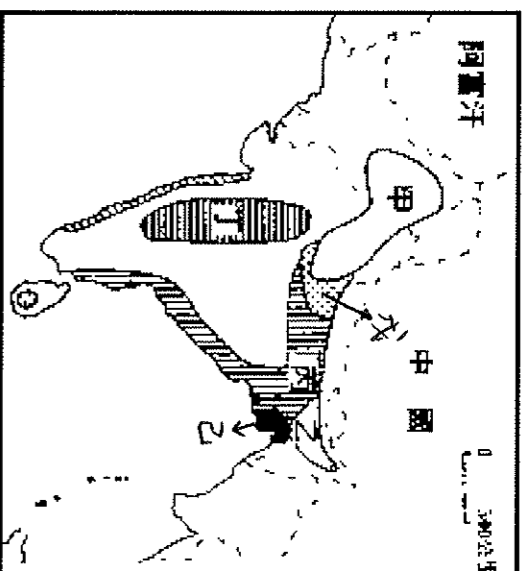
- \*2016 年台灣新政府上任後，表示為了減少對中國的依賴，將推動新南向政策，鼓勵企業前往投資東協國家。除了企業合作外，政府也鼓勵企業積極推動國內的食品認證，其標章如右圖，並積極培育雙向人才。請問：
23. 新南向政策中，鼓勵企業前往投資的地區所擁有的優勢投資環境不包括下列何者？  
 (A) 豐富的資源 (B) 廉價的勞工  
 (C) 進步的技術 (D) 便利的海運
24. 上文中提及『東協』的英文縮寫為何？  
 (A) EU (B) WTO (C) APEC (D) ASEAN
25. 通過右圖標章認證的食品銷售到哪一國家時，其銷售量可能相對較低？  
 (A) 緬甸 (B) 印尼 (C) 汶萊 (D) 馬來西亞

\*附圖是東南亞簡圖。



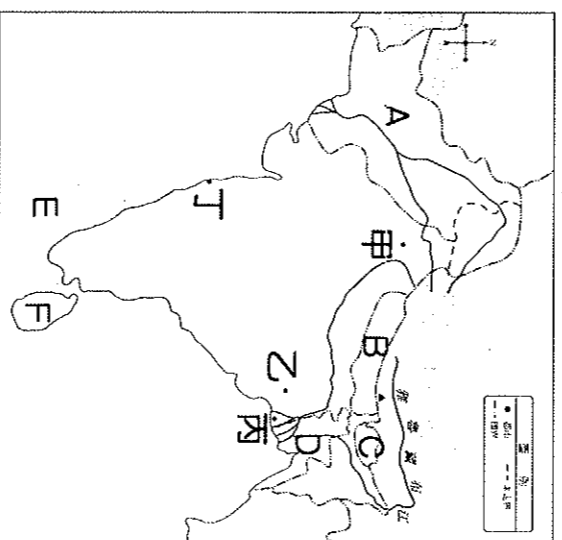
26. 南洋群島有「海上十字路口」之稱，主要是聯絡哪兩個海洋間的交通？  
 (A) 大西洋、太平洋 (B) 印度洋、日本海  
 (C) 太平洋、印度洋 (D) 大西洋、印度洋
27. 承上題，因扼守麻六甲海峽，成為東南亞經濟最發達的國家，有「東方十字路口」之稱的是哪個國家？  
 (A) a (B) b (C) c (D) d
28. 小偉看到網友的分享：「吳哥窟深受印度史詩和神話影響，形成特殊的建築景觀，實在太美了！我真想再去一次！」請問：根據上文判斷，網友所描述的國家應是下列何者？  
 (A) A (B) B (C) C (D) D
29. 『A、D、E』等國的精華區皆位於何處？  
 (A) 山間盆地 (B) 河口三角洲  
 (C) 山麓沖積扇 (D) 涼爽山區。
30. 小康到某地旅遊，發現當地隨處可見金碧輝煌、尖角高聳的廟宇及佛塔。請問：小康是到下列何國旅遊？  
 (A) a (B) b (C) c (D) d
31. 東南亞由於位置的關係，呈現多元文化特色。其中哪個國家因鄰近中國，深受漢化影響最深，因此，生活習慣和臺灣較接近，許多外籍配偶來自此地？  
 (A) A (B) B (C) a (D) b
32. 『a國』的瑪莉為了更好的生活，到臺灣工作，由於中文不好，所以在與雇主溝通時，常以故鄉的美式英語輔助。她的故鄉過去曾被歐洲某個國家占領，殖民者帶來的宗教，現在也成為瑪莉的信仰，週日時，她常到教堂望彌撒。試問：瑪麗的家鄉應曾被哪個國家殖民過？  
 (A) 葡萄牙、英國 (B) 西班牙、英國  
 (C) 西班牙、美國 (D) 葡萄牙、美國

\*附圖為南亞農產分布圖，圖中甲、乙、丙、丁分別代表四種主要農業產區。



33. 下列圖中各區與主要種植的作物配對，何者正確？  
 (A) 甲—稻米 (B) 乙—茶葉 (C) 丙—小麥 (D) 丁—黃麻。
34. 乙區的年降水量居全球之冠，主要影響因素為何？  
 (A) 緯度、地形 (B) 地形、季風  
 (C) 緯度、季風 (D) 地形、距海遠近
35. 甲、戊、丙三地的農業景觀不同，主要影響因素為何？  
 (A) 降水量 (B) 氣溫 (C) 政策 (D) 勞力
36. 乙、己區兩地的農業景觀不同，主要影響因素為何？  
 (A) 降水量 (B) 地形 (C) 政策 (D) 勞力

\*下圖為南亞地區簡圖，如附圖所示，圖中A~F為國家，甲~丁為都市。請問：。請問：



37. 『A國』大部分為熱帶沙漠氣候，其成因為何？  
 (A) 涼流經過 (B) 高山阻擋水氣  
 (C) 距海遙遠 (D) 副熱帶高氣壓籠罩
38. 小丸想要到印度著名的電影聖地，有「寶萊塢」之稱的城市參觀，那麼她應該到附圖中哪個都市去？  
 (A) 甲 (B) 乙 (C) 丙 (D) 丁。
39. 小丸在旅途接近尾聲時，想購買南亞著名的「錫蘭紅茶」做為禮物，那麼他應該到附圖中哪個國家去採買？  
 (A) B (B) C (C) E (D) F
40. 全球暖化使得喜馬拉雅山冰河融化，可能為印度大平原帶來豐沛的灌溉水源，但恆河下游哪一個地勢低窪的國家勢必遭淹水之苦？(A) B (B) C (C) D (D) F