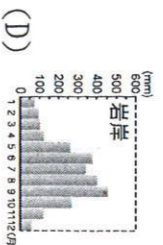
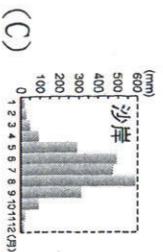
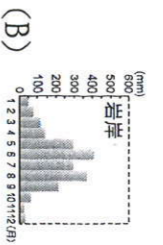
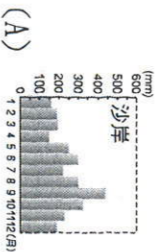
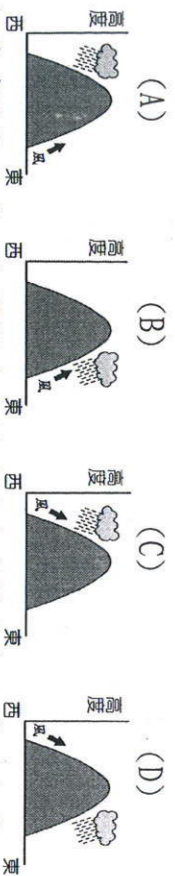


※選擇題，每題 2 分

01. 臺灣依據自然與人文地理條件，可分成北部、中部、南部和東部四大區域。臺灣唯一不靠海的縣，被劃分於哪個區域內？(A) 北部區域 (B) 中部區域 (C) 南部區域 (D) 東部區域
02. 承上題，行政區劃中直轄市數量最多和最少的區域分別為何？(A) 北部、南部 (B) 中部、東部 (C) 南部、中部 (D) 北部、東部
03. 臺南七股鹽山素有「熱帶雪景」的美譽，鹽田的分布和海岸性質及氣候特徵有密切的關聯。下列哪張示意圖，最能表示臺灣南部區域自然環境適合發展曬鹽活動？

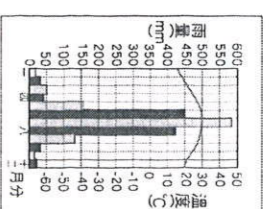


04. 花蓮縣位於臺灣東部，除了觀光業發達外，也有工業活動的分布。過去花蓮縣的工業類型大多屬於哪種工業區位條件？(A) 原料 (B) 勞工 (C) 市場 (D) 交通
05. 在成功嶺受訓的阿勳，在新訓中心結訓後抽到金門服役。若以海運最短距離考量，此時阿勳要到哪個港口搭船前往金門保國衛民？(A) 基隆港 (B) 臺中港 (C) 高雄港 (D) 花蓮港
06. 由「一府二鹿三艋舺」這句俗諺來看，臺灣早期聚落的發展方向，應為下列何者？(A) 由南部往北部發展 (B) 由東部往西部發展 (C) 由內陸往沿海發展 (D) 由山地往平原發展
07. 澎湖縣的產業活動受到自然環境的影響，農業發展有限。請問：澎湖農業發展受限的主因為下列何者？【甲】降水量少 【乙】土石流失 【丙】風力強勁 【丁】技術落後
(A) 甲乙 (B) 丙丁 (C) 乙丁 (D) 甲丙
08. 近年來政府積極推動國土綜合開發計畫，請問施行該計畫的主要目的為何？(A) 全力發展重工業 (B) 發展策略性工業 (C) 減少區域間的發展差距 (D) 縮短各階層人民貧富差距
09. 台灣行政區依照人口劃分，目前共有六個直轄市的敘述，針對台灣的直轄市，下列敘述何者錯誤？(A) 台南縣市合併後升格為直轄市 (B) 人口成長率最高的是桃園市 (C) 人口數最多的是台北市 (D) 台南市屬於熱帶季風氣候
10. 臺東在夏季時常有「焚風」出現。請問：下列何者最適合用來說明臺東發生焚風的情形？



11. 為爭取觀光客，金門縣政府設計了許多特殊行程讓遊客體驗，試問下列何者不可能？(A) 海底溫泉體驗 (B) 戰地史蹟體驗館 (C) 高粱酒製程展 (D) 洋樓建築大賞
12. 大甲媽祖繞境進香已是臺灣著名的宗教活動，每年由臺中大甲鎮瀾宮出發，一路向南到嘉義新港奉天宮，全部路線主要經過臺灣的何種地形？(A) 高原 (B) 平原 (C) 臺地 (D) 丘陵。

13. 日治時期，臺灣總督府為開發阿里山的森林資源而開闢了阿里山鐵路，當時哪個城市最可能因伐木業的興盛而繁榮？(A) 新竹 (B) 臺中 (C) 嘉義 (D) 高雄。
14. 承上題，該城市在台灣區域畫分上屬於哪個區域？(A) 北部區域 (B) 中部區域 (C) 東部區域 (D) 南部區域

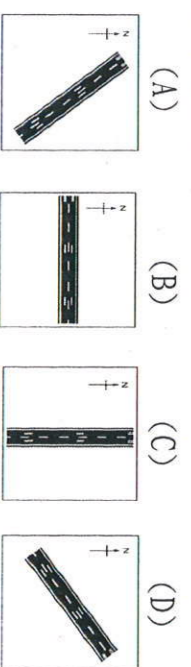


15. 右圖為某市的氣候圖，根據圖中資料判斷，下列敘述何者正確？(A) 年溫差約 28°C (B) 乾溼季節分明 (C) 年降水量約 580 mm (D) 屬副熱帶季風氣候。
16. 九份房屋獨特的黑屋頂，是用油毛氈鋪上一層厚厚的柏油，重量夠，不會被風吹走，也防漏水，可適應冬季溼冷的氣候。請問：九份冬季主要的降水類型為何？(A) 鋒面雨 (B) 颱風雨 (C) 地形雨 (D) 對流雨
17. 地理課時老師讓同學分享去臺灣東部區域的旅遊經驗，下列哪一位同學的敘述正確？
(A) 小靖：我到清水斷崖時，看到雪山山脈緊臨太平洋
(B) 小晴：我到蘭嶼參加阿美族的豐年祭
(C) 小芝：我到綠島見識到達悟族飛魚季的盛況
(D) 小甯：我去臺東知本時，在當地飯店內的溫泉池泡湯

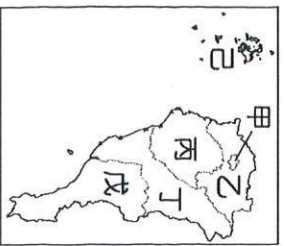
18. 台灣各地因為自然環境及產業發展的差異，造成各區域人口數量及密度大不相同，關於台灣人口相關敘述，下列何者錯誤？(A) 北部地區人口居全台之冠 (B) 金馬地區人口密度低於東部 (C) 原住民比例最高的縣市為台東縣 (D) 以第一級產業為主的縣市人口老化程度較高
19. 臺灣各地教育程度受到產業結構、教育資源而有空間差異，其中臺北市居冠外，新竹市平均教育程度也領先臺灣各縣市。請問：形成此種現象的主因為何？(A) 位置居南、北交通中點 (B) 為歷史古都，教育學府眾多 (C) 為航空重鎮，交通建設發達 (D) 為高科技產業實驗區所在。



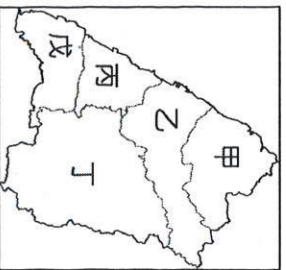
20. 基隆市與桃園市為臺灣北部兩大對外交通門戶，這兩個縣市主要的交通運輸功能依序為何？(A) 海運、鐵路 (B) 海運、空運 (C) 空運、公路 (D) 鐵路、公路
- ※連接北部區域的桃園國際機場捷運已通車，將有利於北部區域產業的整合，以增加臺灣的競爭力，路線如附圖所示。請問：
21. 桃園國際機場跑道的興建受到臺灣天氣的影響甚大，若為了避免側面強風所帶來的威脅，其跑道設計方向以下列何者最為適合？



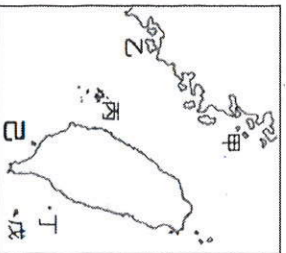
22. 機場捷運的路線規畫主要連接臺灣最大的對外國際機場及政經重心之間的交通往來，將有效增加物流的運送效率，帶動周圍產業的興起。若以其路線判斷，對於哪一產業活動的串聯幫助最大？(A) 鋼鐵業 (B) 電子業 (C) 紡織業 (D) 石化業。



圖一



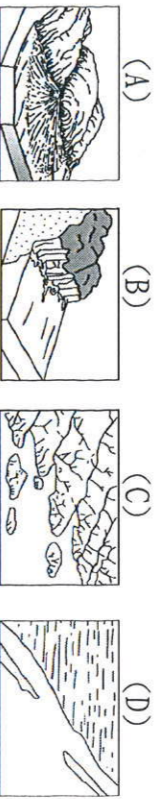
圖二



圖三

※南部區域平原廣大，是臺灣重要農耕地帶，也是臺灣最主要的重工業發展區域，圖一為台灣南部簡圖，回答23-27題：

23. 臺灣南部區域沿海的產業活動受到地形的影響，盛行養殖漁業，養殖的虱目魚更是聞名全國。請問：當地沿海地區主要以何種地形為主？



24. 南部區域目前為臺灣最主要的重工業中心。請問：該產業的發展和下列哪一項建設的關係最大？ (A) 高雄港 (B) 國際機場 (C) 捷運系統 (D) 臺灣高鐵。

25. 目前南部區域哪一個縣市正積極發展觀光業，壯觀的柱狀玄武岩吸引許多遊客前來？ (A) 乙 (B) 丁 (C) 己 (D) 戊

26. 附圖中的哪一個縣市沿海珊瑚礁地形，成為著名的浮潛聖地，全年遊客如織？ (A) 甲 (B) 丙 (C) 丁 (D) 戊

27. 下列哪個地形不屬於南部地區？ (A) 埔里盆地 (B) 中央山脈 (C) 恆春台地 (D) 嘉南平原

※圖二為台灣中部簡圖，回答28-31題：

28. 暑假天氣相當炎熱，小原希望先到涼爽的溪頭森林遊樂區避暑，在風光明媚的景色下，展開他的中部之旅。小原第一站應該是到附圖中何處？ (A) 甲 (B) 丙 (C) 丁 (D) 戊

29. 平原廣大，稻米產量豐富，田尾鄉花卉種植冠全臺。請問田尾鄉在附圖何處？ (A) 甲 (B) 乙 (C) 丙 (D) 戊

30. 花花想去參加「客家桐花祭」，遊客庄，賞桐花，她上網在google map 中查詢旅遊路線、住宿地點，應該點選右圖中的何處才是最佳選擇？ (A) 甲 (B) 乙 (C) 丙 (D) 丁

31. 中部區域農業最發達的是濁水溪沖積扇，該地最可能位於圖中的哪個地區？ (A) 甲 乙 (B) 丙 戊 (C) 乙 丙 (D) 丁 戊

※臺灣是由許多大大小小的島嶼所組成，圖三為臺灣及其離島的相對位置圖。請參照圖三回答32-34題：

32. 小偷到「丙」地參加攝影比賽，他用數位相機將所見到的各種景觀拍攝下來。請問，下列哪一種景觀最有可能會出現在他拍攝的照片中？ (A) 菜宅 (B) 八八坑道 (C) 芹壁村 (D) 地下屋

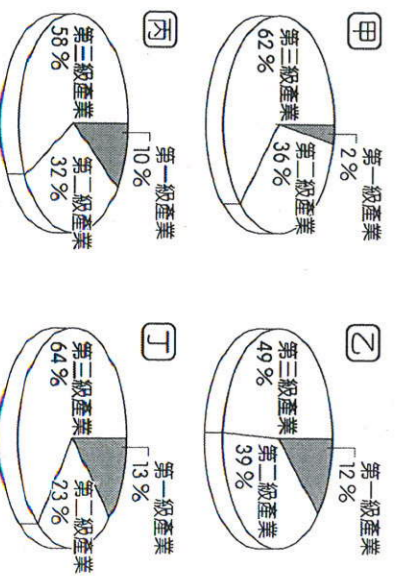
33. 圖中丁和戊島在區域畫分上屬於何區域？

(A) 北部區域 (B) 中部區域 (C) 南部區域 (D) 東部區域

34. 「沿海丘陵由於海水上昇沉入海中，較高的山頭露出海面形成島嶼」。參考圖三，下列哪個島嶼的成因與題目敘述相同？

(A) 甲 (B) 丙 (C) 丁 (D) 己

※下圖為臺灣各區域產業就業人口比例圖，回答35-38題：



35. 臺灣四個區域的產業皆以哪一級產業為主？

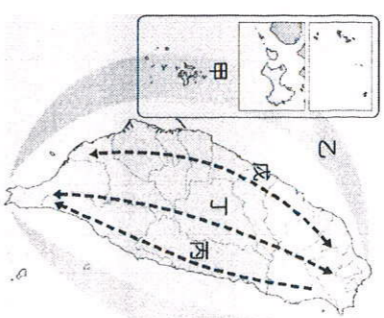
(A) 第一級 (B) 第二級 (C) 第三級 (D) 無共通性。

36. 丁區的第二級產業比例為四個區域中最低，可見工業較不發達，它應是臺灣哪一區域的產業結構？ (A) 北部區域 (B) 中部區域 (C) 南部區域 (D) 東部區域。

37. 承上題，丁區第三級產業所占比例高，其最可能的產業發展為何？ (A) 商業 (B) 運輸業 (C) 觀光業 (D) 金融業

(A) 甲 (B) 乙 (C) 丙 (D) 丁。

※民國99年通過的「國土空間發展策略計畫」，將全國分為「三軸、海環、離島」等地區。圖中甲~戊分別代表這些地區。回答39-42題：



39. 形式封閉、交通不便，如「陸上離島」，但自然環境優美、觀光資源豐富，政府規劃該軸帶將樂活、養生休閒等概念融入產業中。請問該軸帶為圖中何者？

(A) 甲 (B) 乙 (C) 丙 (D) 丁

40. 上圖中戊區未來著重的發展方向為何？ (A) 以養生休閒的生活型式為主 (B) 強調都市與創新產業的發展 (C) 以生態資源保育為重心 (D) 強調自然與人文環境的保全為主

41. 臺灣的經濟建設中，下列何者最具有使北、中、南、東四大區域均發展的功能？ (A) 開發新市鎮 (B) 興建核能發電廠 (C) 興建臺北大眾捷運系統 (D) 建立環島鐵路系統

42. 金門、馬祖地區因位居外島，發展不若本島快速。若要提升金馬地區的經濟發展，應先朝下列哪個方向進行較為適合？ (A) 建設高速鐵路 (B) 加強基礎建設 (C) 提高民眾識字率 (D) 推動高科技產業

※附表為臺灣四大區域人口占總人口的比例變化資料。請問：

(單位：%)

時間 (西元)	1811	1893	1966	2015
甲區域	13.25	30.13	32.90	45.0
乙區域	17.59	26.41	29.30	25.0
丙區域	69.15	43.23	33.40	28.0
丁區域	-	0.23	4.40	2.0

43. 附表中「甲」最可能為下列哪個區域？ (A) 北部區域

(B) 中部區域 (C) 南部區域 (D) 東部區域。

44. 附表中「丁」最可能為下列哪個區域？ (A) 北部區域 (B) 中部區域 (C) 南部區域 (D) 東部區域。

45. 由上述二題以及表中資料，可判斷出臺灣出現了哪項區域差異擴大的現象？ (A) 東部區域人口老化 (B) 人口向北部區域集中 (C) 中部區域人口外移嚴重 (D) 南部區域人口比例最高。

※參考圖四，將下列區域特色填入對應區域的代號。

46. 因蔣渭水高速公路通車後，縮短行車時間，帶動觀光業發展。

(A) 甲 (B) 乙 (C) 丙 (D) 丁

47. 舞鶴茶園，無毒農業。

(A) 甲 (B) 乙 (C) 丙 (D) 丁

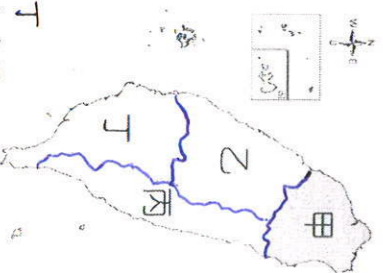
48. 太魯閣國家公園。

(A) 甲 (B) 乙 (C) 丙 (D) 丁

49. 臺灣最早發展的文化古都，近年來發展科技產業。(A) 甲 (B) 乙 (C) 丙 (D) 丁

50. 因交通便捷，成為臺灣蔬果、花卉專業生產區。

(A) 甲 (B) 乙 (C) 丙 (D) 丁



圖四