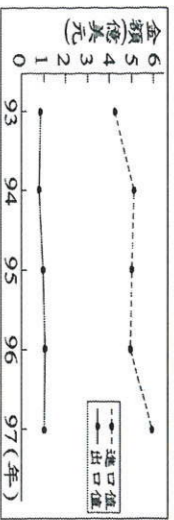


專有專師幫... 最新 NBA 球賽... 心理師幫... 修改編敘說... 小說改編... 主持人與來賓探討核四... 轉播最小... 電視台「FOX 體育台」... 評論分析... 新的好聲音(B)...

- 一、單選題：每題 2.5 分
1. 2019 屏東燈會首次牙人、法國、光秀、還有海燈會... 和表演... 打，大內方國圖... 燈... 活動... 推廣... 國際貿易概況... 根據...



- (A) 水果類貿易呈現出超狀態 (B) 水果生產水公司... 但... 公和社... 2011 年... 3. 我國生產水... 4. 2017 年... 5. 人造... 6. 技報... 7. 全... 8. 普... 9. 下... 10. 化... 11. 的...

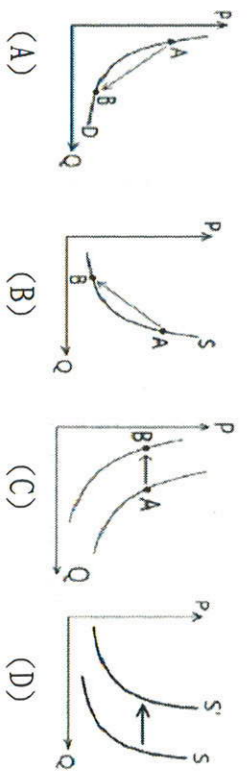
Table with 2 columns: 投資工具 (Investment Instrument) and 獲利金額 (萬元) (Profit Amount in 10,000 NT dollars). Rows include 存款 (100), 基金 (80), 債券 (25), 股票 (50).

- 12. 右表... 13. 若... 14. 近... 15. 他... 16. 自... 17. 因... 18. 文... 19. 量... 20. 果... 21. 客... 22. 眾...

Table with 2 columns: 餅乾 (Cookie) and 可頌 (Croissant). Rows include 熊大 (5), 莎莉 (5).

二、題組，每題 2.5 分

(一) 世界各國自 2005 年開始就有感染非洲豬瘟案例出現... 歐洲、非洲、俄羅斯、非洲、歐洲... 21. 上述現象最能顯示下列何項概念... 22. 非洲豬瘟在肉代替... 使得當地民眾不敢吃豬肉...



商品	價格	喜愛程度	銷售量
(甲) 波霸鮮奶	50 元	♥♥♥	120 杯
(乙) 黑糖薑茶	45 元	♥♥	60 杯
(丙) 波霸醇紅茶	35 元	♥♥♥	80 杯

23. 我國為展示防疫決心，立法院近日三講修正通過《動物傳染病防治條例》部分條文，未違反規帶肉品入境，最重而新步。以上敘述可以用哪個法則來解釋接下來的民眾對豬肉的消費行為？(A) 預期心理 (B) 需求法則 (C) 分散風險 (D) 比較利益

24. 某家媒體新聞標題「網傳洩寶消費大眾，相關單位唯恐造成非洲豬瘟的防疫出現漏洞、疫情擴散，依照奶香公秩序，對該家媒體開罰 20 萬元。上述相關單位為下列何者？
(A) 行政院新聞局 (B) 國家通訊傳播委員會
(C) 公平交易委員會 (D) 地方法院

(二)《人肉搜索》這部電影描述一父親因 16 歲女兒電腦蹤跡，報警後在 37 小時後仍一無所獲，大衛決定從女兒的現面來尋她的下落，藉由 FB、IG、信箱等等，因此發現女兒面而自時似乎她願諸多好友，但實際上她卻常一個孤單的並非關自而從要證明自己跟上了熱門新聞，這搜尋過程也引來更多自而嘲演般的言論……

註：網路使用者透過網路搜尋工具查詢他人隱私訊息，並將結果公佈在網路平台上的行為俗稱為人肉搜索

25. 這部電影點出人肉搜索常以公佈個人資訊做為懲罰或制裁他人不當行為的方式，常有逾越尺度上的疑慮，往往演變為他人另一種形式的群眾暴力，請問上文提到人肉搜索(B)應為成最權(C)受益權(D)平等權

26. 承上題，為保護民眾的個人資訊不被任意使用，侵害相關權益，我國政府制定何項法律來規範？(A)《民法》(B)《刑法》(C)《個人資料保護法》(D)《個人資料保護法》

(三)羅中為慶祝 75 屆校慶將舉辦園遊會，全校緊鑼密鼓籌劃，各班攤位皆有不同銷售策略。下表是某四個班級的銷售策略：

甲班：配合無塑運動，不提供任何餐具	乙班：推出快樂頌套餐，隨餐附獎，獎項為折扣額度，最大獎為免費
丙班：提供線上預購和	丁班：適逢夏季飲料最好賣，準備多
外送服務	

27. 上表中何班的銷售策略運用了「供給法則」的概念？
(A) 甲 (B) 乙 (C) 丙 (D) 丁

28. 承上題，何班的消費策略與「綠色消費」的概念有關？
(A) 甲 (B) 乙 (C) 丙 (D) 丁

29. 校慶時學生提供的商品需求(B)生產者的商品供給(C)生產者是？(A) 消費者需求(D)消費者的生產要素供給

(四)手搖飲料打卡聖地「老虎堂」，超特別的黑糖漸層超像虎紋，使用獨家「虎式手炒黑糖」，採用台灣本地糖為原料，經由完美比例組成，每日新鮮炒製，所炒出的黑糖口感分明有層次，香氣十足，木薯澱粉製成的珍珠粉圓每 4 小時就會煮一次，新鮮的黑糖珍珠鮮奶加上飲料杯上獨特的店家老虎紋招牌，短短一年擴店數家，在去年遭離職員工踢爆手炒黑糖其實是使用黑糖濃縮糖漿，店家推出「買一送一」活動後力挽狂瀾，人氣和討論度不降反升，今年老虎堂決心將黑糖珍珠奶茶推上國際，繼香港、菲律賓，下一步將於韓國展店。試營運當天，店門前就排滿來嚐鮮的韓國年輕人，即便天氣不佳，當日準備的黑糖珍珠奶還是在短時間就賣完。

30. 根據上文，請問下列敘述何者正確？(A) 試營運當天當天可拍照課出黑糖珍珠的稀少性，為自由財(B) 考慮到為誰生產「生課出上題(C) 黑糖虎紋漸層為生產潮風是為一活動是生產要素中的企業才能(D) 店家推出「買一送一」活動是供給法則

31. 上述提到老虎堂被員工爆料，並非使用宣稱的手炒，而是用桶裝濃縮黑糖漿，且成分含焦糖色素，涉及廣告不實，可以依據哪條法律向哪個政府申訴？(A) 公平交易法；(C) 消費者保護法；(B) 消費者保護法；(D) 消費者保護法；(C) 消費者保護法；(D) 消費者保護法

32. 阿軒是老虎堂的員工，他把該店排行前三名飲料的價錢、及當天銷售量和顧客平均喜愛程度列成附表，請選出正確的選項：

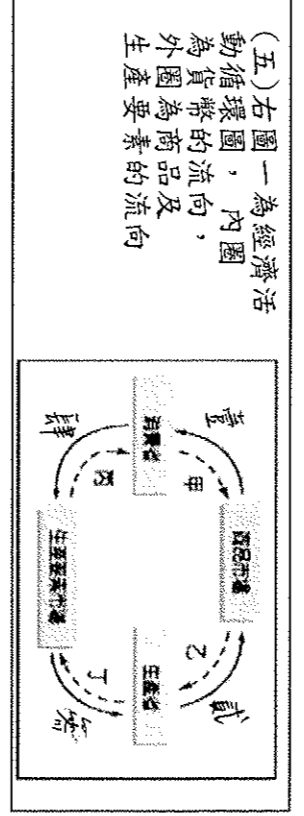
(A) 晨著 45 元去消費，依據喜愛程度機會成本最低的選擇為甲商品 (B) 依據喜愛程度，三個商品的需求量會最多，丙最高需求產品 (C) 依據需求法則，甲商品的需求量會多為賺取最高利潤產品 (D) 若三種飲料成本皆相同，店家為承上題，波霸鮮奶一杯 50 元，是貨幣何種功能？

33. (A) 交易媒介 (B) 價值儲存 (C) 價值衡量 (D) 債務清償

34. 老虎堂所屬的臺北店及中店，依據市場供需求狀況而調整店內黑糖珍珠奶的價格，其商品數量，則這兩家店於價格調整若以珍珠奶茶代表供需求情況，最可能為下列何者？

		(A)		(B)	
		需求	供給	需求	供給
臺北店	○	○	○	○	○
中店	○	○	○	○	○

		(C)		(D)	
		需求	供給	需求	供給
臺北店	○	○	○	○	○
中店	○	○	○	○	○



35. 松言和早雲志向是烘焙師，假日時兩人一同上網到人力市場行登錄錄用，爾問：是後順利得到知銀行的市場分類？(A) 行獲得品市場 (B) 生產要素市場 (C) 有形市場 (D) 無形市場

36. 承上題，(A) 甲店 (B) 乙店 (C) 丙店 (D) 丁店 請問：此行為符合經濟循環哪一項？(A) 壹 (B) 貳 (C) 參 (D) 肆

37. 關於各項工作的行為與圖片敘述，下列何者錯誤？(A) 兩人應徵工作的行為，對應圖中的肆 (B) 面試完的兩人至餐廳吃飯，角色出爐的麵包放在架上販售，角色為生產者，(C) 麵包店老闆將剛出的氣 (D) 老闆販賣麵包所獲得的收入，幣流向對應圖中的丁

38. 麵包店老闆決定要依專長指派工作給兩人，便讓松言和早雲限時製作店內招牌甜甜圈和可頌，結果如表二所示。

	松言	早雲
甜甜圈	9個/3小時	4個/2小時
可頌	12個/2小時	15個/3小時

(六)Google(網路服務)一支內部影片《自私的帳本》(The Selfish Ledger)外流，影片描述的未來，大眾每天使用手機時的狀況會變成數據紀錄，AI(人工智慧)會透過不斷累積個人的數據資料，進一步影響用戶目標、思緒、行為。一開始系統會提供簡單的良性價值給使用者選擇，例如減肥、環保。當使用者選好目標後，每次互動時 Google 都會引導你朝目標邁進，如：購買有機的本地產品、選擇環保交通工具，逐漸引導的行為，最終藉由引導群體行為的改變，解決氣候、貧困、疾病等巨大的全球問題。

39. 上文提到數據的蒐集是從個人使用手機的狀況而來，這些數據將成為「帳本」，供公司任意使用亦可轉移資料給同行，進一步影響每個人的思想和決策，這顯示出資訊科技發達達成了下列何種隱憂？(A) 社群互動影響國家資訊安全 (B) 網路犯罪成為新興社會問題 (C) 資訊公開可能侵犯個人隱私 (D) 資訊氾濫造成內容真偽難辨。

40. 上述文章是由網路發布，其主要目的在發揮傳播媒體的何項功能？(A) 提供訊息 (B) 休閒娛樂 (C) 監督政府 (D) 教育文化