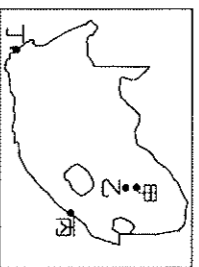


題組：每題2分

(一) 2010年世界盃足球賽在南非舉行，南非藉此體育賽事的舉辦向世界發聲，證明南非已朝現代化前進。請問：

() 1.當足球強國巴西遠渡重洋來到南非參賽，則需搭機飛越哪一個海洋？ (A)大西洋 (B)太平洋 (C)印度洋 (D)北極海。

() 2.南非世界盃賽事於6月中開幕，右圖中的哪一個比賽場地的賽事，可能正值雨季，容易因雨而延誤賽事進行？ (A)甲 (B)乙 (C)丙 (D)丁。

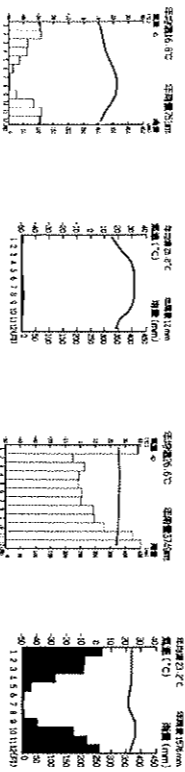


() 3.南非為非洲境內經濟狀況較佳的國家，因實施種族隔離政策，造成南非的族群對立情形為何？(A) 非裔 VS. 亞裔 (B) 非裔 VS. 歐裔 白人 (C) 伊斯蘭教徒 VS. 基督教徒 (D) 英國後裔 VS. 法國後裔。

() 4.非洲大陸是由多個族群組成，國內族群衝突不斷。造成這種現象的主要原因為何？ (A)地形阻隔 (B)殖民歷史 (C)宗教傳播 (D)區域發展不均。

(二) 巧克力的原料——「可可」取自可可樹，可可樹種植範圍在赤道南北緯20度之間，象牙海岸是世界最大的生產地，透過國際貿易賺取外匯，但交易過程中，西方國家或跨國企業壟斷市場，打壓交易價格。請問：

() 5.可可種植生長條件判斷，最可能分布哪一種氣候？ (A) (B) (C) (D)



() 6.可可種植屬於「殖民式經濟」是歐洲殖民分洲時產生的農業型態，此農業的特色為何？ (A)種植多元農作物 (B)農產品以外銷為導向 (C)屬於粗放農業 (D)大量生產糧食作物。

() 7.非洲發展「殖民式經濟」造成的負面影響，「不包括哪一項？ (A)單一經濟作物造成糧食不足 (B)資金受歐美跨國企業掌控 (C)價格易受國際市場波動影響 (D)小規模栽種，勞工失業率高。

(三) 北極區和南極洲的緯度範圍都在 66.5°~90°，其自然景觀不盡相同。請問：

() 8.北極地區和南極洲呈現「寒漠」景觀，與哪一因素最相關？(A) 暖流經過，乾燥少雨 (B) 氣溫低，蒸發微弱 (C) 風力強，侵蝕旺盛 (D) 凍土層，寸草難生。

() 9.關於南極的敘述何者正確？(甲)以海洋為中心(乙)風勢強勁，冰河地形發達(丙)可看到從事科學研究的科學家(丁)當地原住民——因紐特人 (A)甲乙 (B)乙丙 (C)丙丁 (D)甲丁。

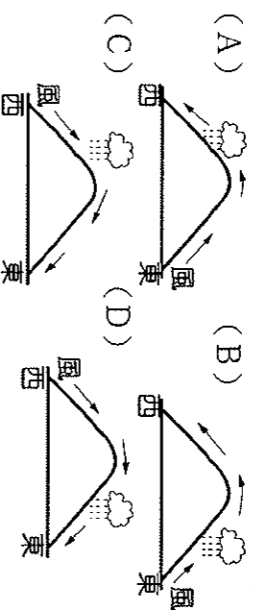
() 10.南極的年均溫比北極低，造成兩極溫度差異與哪些因素關係最密切？(甲)海陸性質(乙)植被分布(丙)地勢高低(丁)緯度位置 (A)甲乙 (B)丙丁 (C)甲丙 (D)乙丁。

() 11.因紐特人由原本的傳統漁獵活動正轉變為以何種產業活動為主？ (A)製造業 (B)運輸業 (C)石化業 (D)資訊業。

(四) 紐西蘭位於水半球中心，人口稀少成為該國的優勢，因為自然環境保存良好。請問：

() 12.紐西蘭氣候類型為何者？ (A) 溫帶海洋性氣候 (B) 溫帶地中海型氣候 (C) 熱帶莽原氣候 (D) 夏雨型暖溼氣候。

() 13.承上題，主要降雨情況最接近下列何者？



() 14.關於紐西蘭的南島敘述，何者『有誤』？ (A) 以冰河地形為主 (B) 為最大都市商港所在 (C) 氣候終年有雨 (D) 緯度分布較高。

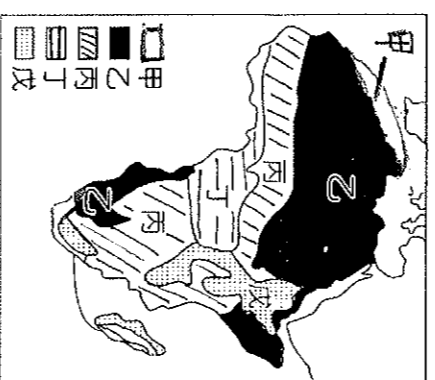
() 15.紐西蘭北島氣候較為溫暖，成為主要的人口集中地區，受到何種因素的影響，？ (A)地勢較低 (B)植被多元 (C)暖流經過 (D)緯度較低。

() 16.紐西蘭畜牧業發達，但因人口稀少，採用何種方式？ (A)欄牧 (B)游牧 (C)粗放式 (D)山牧季移。

(五) 附圖為非洲的氣候區圖，請回答下列問題：

() 17.非洲的氣候呈南北對稱分布，受到何種地理環境的影響？ (A)緯度位置分布 (B)經度位置分布 (C) 海陸位置分布 (D)地形對稱分布。

() 18.圖中哪一個氣候區的氣候，其年均溫較低？(A) 乙 (B)丙 (C)丁 (D)戊。



() 19.從圖中甲區向丁區移動，途中經過地區的氣候特徵有何變化？ (A) 終年少雨→夏雨冬乾→夏乾冬雨→終年有雨 (B) 終年有雨→夏雨冬乾→夏乾冬雨→終年少雨 (C) 夏乾冬雨→終年有雨→夏雨冬乾→終年少雨 (D) 夏乾冬雨→終年少雨→夏雨冬乾→終年有雨。

() 20.非洲一望無際的大草原上見識到難得一見的動物遷徙景觀，會出現在圖中哪一區？ (A)甲 (B)乙 (C)丙 (D)丁。

() 21.承上題，造成該區野生動物遷徙活動最主要的原因為何？(A)沙漠廣布(B)主要雨季在夏季 (C) 位於低緯地區 (D)人類獵殺。

() 22.圖上的哪一區，才能觀賞到最多種類型的天然植物？ (A)甲 (B)乙 (C)丙 (D)丁。

() 23.游牧為非洲的傳統耕作型態，有利於人地關係的協調，可適應非洲當地的何種氣候環境？ (A)甲 (B)乙 (C)丙 (D)丁。

(六) 「茉莉花革命發生於2010年末至2011年初，起因於非洲突尼西亞一名水果攤販的自殺事件，而引爆了民眾

長期累積的不滿情緒，人民透過社群網站，及手機通訊串聯上街示威，推翻總統班阿里，堪稱『○○○世界』近代第一場人民革命。延燒到鄰近的埃及、利比亞、阿爾及利亞等國」(資料來源：改寫自《聯合報》，記者田思怡，2011年1月16日)請問：

() 24.茉莉花革命的發生後，影響到國際市場上哪一項商品的價格波動不斷？ (A)鑽石 (B)石油 (C)椰棗 (D)咖啡。

() 25.突尼西亞等國位於非洲何處？ (A)北部非洲 (B)西部非洲 (C)中部非洲 (D)東部非洲。

() 26.文中「○○○世界」是指下列何者？ (A)日耳曼 (B)蘇丹人 (C)伊斯蘭 (D)猶太教。

(七)帛琉是大洋洲諸多島嶼的其中一個島，首創以自然保育為目的的警詞加入入境程序，以約束旅客維護當地環境及尊重在地文化。請問：

() 27.大洋洲上的島嶼主要以經緯線畫分為

三大島群。以國際換日線與哪條緯線為界？ (A)緯線0度 (B)北緯23.5度 (C)南緯23.5度 (D)南緯30度。

() 28.帛琉位於圖中三大島群中的哪一區？ (A)玻里尼西亞 (B)美拉尼西亞 (C)密克羅尼西亞。

() 29.大洋洲上的諸島產業以海上活動為主。這些島嶼分布於下列哪一個海洋當中？ (A)大西洋 (B)太平洋 (C)印度洋 (D)地中海。

() 30.若想到達帛琉，從哪一洲出發距離最近？ (A)非洲 (B)歐洲 (C)亞洲 (D)南美洲。

() 31.帛琉目前面臨哪一項滅國的危機？ (A)海平面上升，國土消失 (B)產業人口外移，經濟蕭條 (C)火山噴發，島嶼沉沒 (D)政治動盪，外族入侵。

(八)請依據附圖，回答下列問題。

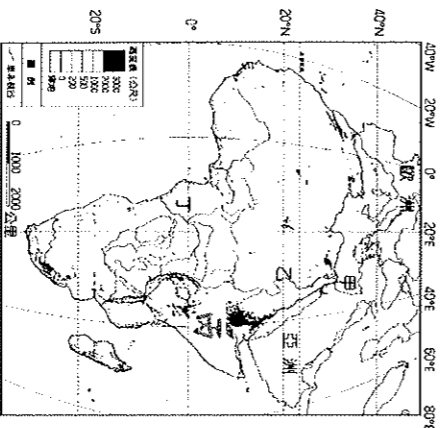
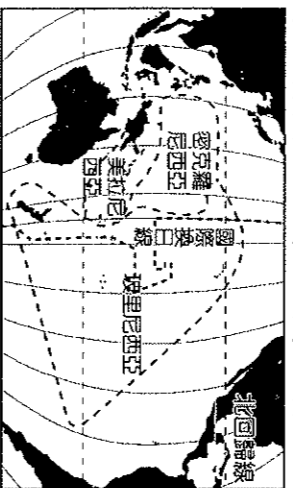
() 32.「甲」是蘇伊士運河，連接哪兩地？(甲)地中海(乙)大西洋(丙)紅海(丁)黑海 (A)甲乙 (B)丙丁 (C)甲丙 (D)乙丁

() 33.關於「乙」河流定期氾濫與哪一地理現象最相關？ (A)上游全年雨量豐沛 (B)上游地勢高雪量豐富 (C)上游有堰塞湖，湖水定期滿溢 (D)上游降雨乾濕季分明。

() 34.「乙」河流沿岸最可能看到下列何種景象？ (A)人們多在咖啡園中工作 (B)騾子為當地主要獸獸 (C)到處可見到佛教寺廟 (D)灌溉水渠遍布於農田中。

() 35.關於「丁」河流的敘述，何者正確？ (A)全年水流量最穩定 (B)下游航運發達 (C)河水注入印度洋 (D)上游修築亞斯文高壩。

() 36.中國江蘇與非洲肯亞因「鄭和下西洋」屆滿 600



年，正式簽訂締結友好城市。當初鄭和是經過哪一個海洋才抵達非洲東岸？ (A)印度洋 (B)大西洋 (C)太平洋 (D)地中海。

() 37.右圖的地形，大多分布非洲何處？(A)甲 (B)乙 (C)丙(D)丁。

() 38.承上題，該地區的地形，主要受哪一種地形作用力而形成？ (A)火山噴發 (B)斷層作用 (C)河流侵蝕 (D)風力侵蝕。

(九)學校利用寒假期間到澳洲地區進行校外教學旅行。附圖為澳洲氣候分布圖，請問：

() 39.學校校外教學到澳洲，當時處於何種季節？(A)春季 (B)夏季 (C)秋季 (D)冬季。

() 40.旅行當中發現澳洲當地工業興起，和該地區具有何種工業發展區位條件關係最大？ (A)原料充足 (B)交通便利 (C)技術進步 (D)勞工眾多。

() 41.附圖中丙區的氣候特徵為何？ (A)乾燥炎熱 (B)乾溼分明 (C)夏乾冬雨 (D)高溫多雨。

() 42.呈上題，形成丙區氣候如此特徵，其成因與下列何者關係密切？ (甲)背西風 (乙)副熱帶高氣壓壟罩 (丙)暖流經過 (丁)涼流經過。(A)甲乙 (B)丙丁 (C)甲丙 (D)乙丁。

() 43.附圖中哪一區的氣候和美國加州相似，陽光普照、氣候宜人的地區？(A)甲 (B)乙 (C)丙 (D)丁。

() 44.附圖中哪一個地區迎東南信風較為溼潤，是澳洲的精華區？ (A)甲 (B)乙 (C)丙 (D)丁。

() 45.乙、丙兩區的氣候以下列何者為界，畫分為迎風坡的精華區及背風坡的農牧區？ (A)大分水嶺 (B)西部高原 (C)南回歸線 (D)大令河流域。

() 46.到大堡礁潛水時遺失照相機，順著洋流漂流，最有可能在哪一個城市尋獲？ (A)達爾文 (B)奧克蘭 (C)雪梨 (D)伯斯。

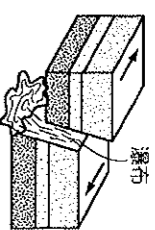
() 47.呈上題，照相機順著洋流漂流，此洋流應該是哪一股洋流？ (A)西澳洋流 (B)東澳洋流 (C)南太平洋洋流 (D)西風漂流

(十)附圖為鹿特丹到舊金山的二條航線，甲航線為目前的航線，距離較短的乙航線，多處於冰封狀態，夏季時可容許船隻航行。請問：

() 48.乙航線暢通後，使哪一個國家來自船隻通行費的收入減少？ (A)埃及 (B)新加坡 (C)俄羅斯 (D)巴拿馬。

() 49.若乙航線暢通後，更突顯出使哪一個海域的重要性？ (A)大西洋 (B)太平洋 (C)北極海 (D)地中海。

() 50.甲航線與乙航線皆會經過下列哪兩大洋？ (A)大西洋與太平洋 (B)太平洋與印度洋 (C)印度洋與地中海 (D)大西洋與印度洋。



——甲航線 ……乙航線