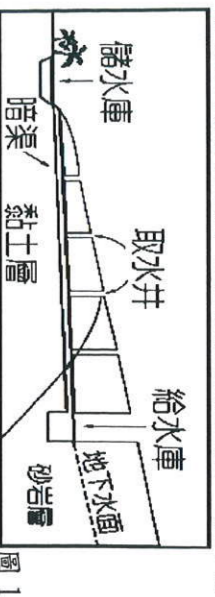


壹、題組 (每題 2 分)  
 ◎ 中國各地的自然環境不同，因此農業活動出現差異。下圖 1 是中國某地區利用坎兒井進行灌溉農業生產。請回答 1-3 題：



01. 該地居民興建坎兒井以取水使用，請問：此地區應位於下列何地？  
 (A) 內蒙古高原 (B) 吐魯番窪地 (C) 青藏高原 (D) 四川盆地。
  02. 居民修建「暗渠」主要的目的為何？(A) 防止水土流失 (B) 開發礦產 (C) 保持水質純淨 (D) 避免水源蒸發。
  03. 坎兒井主要是利用哪些水源以提供農業活動使用？(A) 河水、湖水 (B) 雪水、海水 (C) 雪水、地下水 (D) 湖水、地下水。
- ◎ 下圖 2 為日本工業區分佈，請回答 4-7 題：

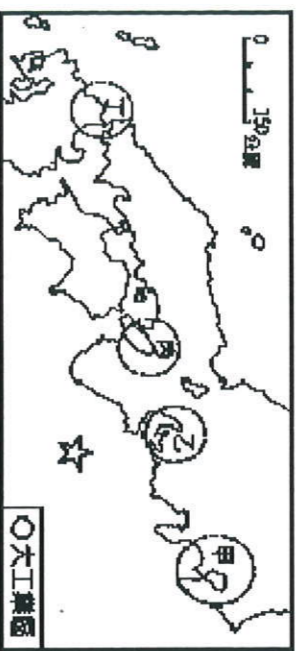


圖 2

04. 根據圖 2 中資料判斷，其工業區主要分佈於哪兩個大島上？(A) 北海道、本州 (B) 本州、四國 (C) 四國、九州 (D) 九州、本州。
  05. 日本主要的工業區進出圖 2 中「☆」海域都非常方便，請問此海域是指下列哪一個海域？(A) 日本海(東海) (B) 大西洋 (C) 太平洋 (D) 印度洋。
  06. 承上題，請問造成此種工業區分佈的特色，與下列何者有關？(A) 接近礦產區 (B) 方便大量使用本地原料 (C) 充分利用廉價水電 (D) 便於原料的進口和產品的出口。
  07. 日本的第一大都市——東京，位於圖 2 中哪個工業區及平原？(A) 甲，關東平原 (B) 乙，濃尾平原 (C) 丙，近畿平原 (D) 丁，濃尾平原。
- ◎ 下圖 3 為朝鮮半島簡圖，第二次世界大戰之後，此區分成南北韓兩個國家，兩國目前以停戰線劃出的非軍事區為界。請回答 8-13 題：



圖 3

08. 朝鮮半島因其地理位置位於哪兩個國家之間，(甲)越南(乙)俄羅斯(丙)日本(丁)中國，因而有「東亞橋樑」之稱？(A) 甲丙 (B) 乙丁 (C) 甲乙 (D) 丙丁。
09. 請問圖 3 各個代號所代表的地形或海域，何者正確？(A) 乙是黃海 (B) 乙是日本海(東海) (C) 甲是圖們江 (D) 乙是長白山脈。
10. 朝鮮半島的哪一項地理特徵和該半島脊梁山脈偏於東側關係最為密切？(A) 南北互異的經濟發展 (B) 位居大陸與島嶼間的橋樑位置 (C) 全境均屬季風氣候 (D) 都市與人口的分佈多在西部。
11. 下列有關南北韓的地理環境比較，何者與緯度高低的關係最為密切？(A) 南韓地勢較低 (B) 南韓糧食生產較多 (C) 北韓礦產較豐富 (D) 北韓軍事工業較具規模。
12. 南北韓間的停戰線大約在？(A) 東經 38 度 (B) 北緯 83 度 (C) 北緯 38 度 (D) 北緯 17 度。
13. 請問下列關於南北韓的比較何者不正確？

項目	(A) 氣候	(B) 可耕地面積	(C) 政治體制	(D) 首都
南韓	副熱帶季風	較多	民主	首爾
北韓	溫帶季風	較少	共產	平壤

◎ 圖 4 為中國西部地區的簡圖，請回答 14-24 題：

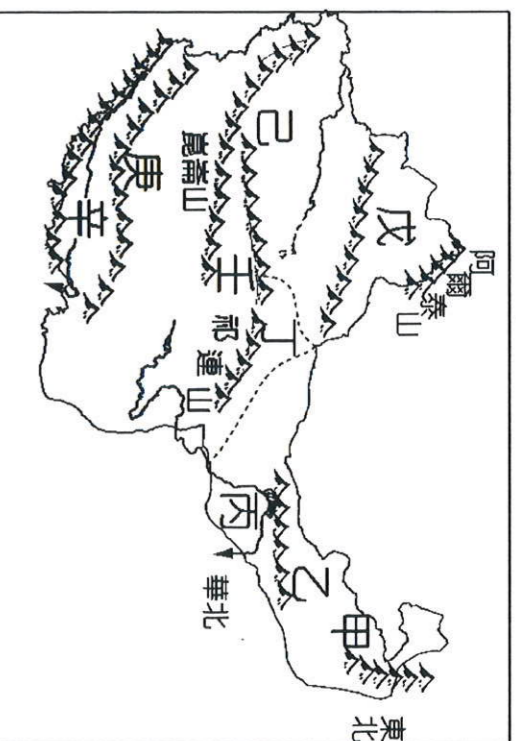

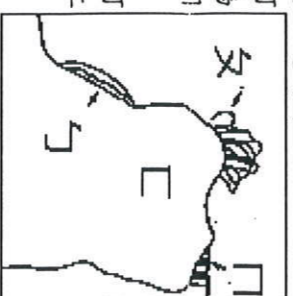


圖 4

14. 由甲經乙至丁，景觀變化應為下列何者？(A) 平原→高原 (B) 乾燥→溼潤 (C) 草原→沙漠 (D) 麥田→稻田。
15. 圖 4 中哪一個地形區有「聚寶盆」之稱？(A) 丙 (B) 丁 (C) 戊 (D) 壬。
16. 承上題，此一稱號是形容當地具有下列哪種優勢？(A) 礦產豐富 (B) 森林茂盛 (C) 農業發達 (D) 商業發達。
17. 圖 4 中「己」區，呈現出的氣候圖應為下列中何者？



18. 承上題，圖 4 中「己」區的氣候成因與下列何者關係較大？(A) 距海遙遠 (B) 高壓籠罩 (C) 日照強烈 (D) 地處高緯。
19. 右圖為圖 4「丙」區的放大圖，右圖中何處因提供水源灌溉種植水稻，而被稱為「塞上江南」？(A) 乙 (B) 丙 (C) 丁 (D) 戊。
20. 承上題，灌溉水源主要是引自於哪一條河流？(A) 淮河 (B) 塔里木河 (C) 雅魯藏布江 (D) 黃河。



21. 圖 4 中「戊、己」兩區由於地理位置的影響，隨著交通日漸便利，成為中國新興的工業地帶，經濟重要性日益顯著。請問：此情形和「戊、己」兩區緊鄰下列何處有關？(A) 西亞 (B) 中亞 (C) 南亞 (D) 東南亞。
22. 圖 4 中「戊」和「己」的特色的比較表，請問表中何項有誤？

(A) 地形區	(B) 降水量	(C) 主要宗教	(D) 產業
準噶爾盆地	較多	藏傳佛教	以畜牧為主
塔里木盆地	較少	伊斯蘭教	以農業為主

23. 圖 4 中「丁」地過去是中原一帶通往西域的必經之路，主要是因為該地具有哪一優越的地理條件？(A) 氣候溫和和濕潤，容易通行 (B) 盛產石油，獲利良多 (C) 盛產稻米，糧食補給充足 (D) 有綠洲城市供商隊休息和交易。
24. 承上題，丁區地形的成因與下列何最接近？



25. 日本企業目前多採取何種經營方式以維持市場上的競爭力？(A) 跨國企業結構 (B) 引進優質勞工 (C) 降低環保標準 (D) 設定進口配額限制。
26. 日本陸續將製造業裝配工廠轉移到中國等海外國家，最主要因素為下列何者？(A) 政治不穩 (B) 市場萎縮 (C) 工資上漲 (D) 關稅障礙。

◎烤五花肉是韓國最平民的料理，除了好吃之外，據說還有一種特殊的民俗療法。在沙塵暴發威的季節，季風從蒙古沙漠吹來，帶來大量沙塵，讓人不知不覺吸進許多粉塵，甚至眼睛乾癢、喉嚨發乾症狀。據說肥豬肉具有清理喉嚨中細微粉塵的功用，因此韓國人在沙塵暴季節會吃烤五花肉。最韓式的吃法是把五花肉烤的微焦，接著拿起生菜，將沾醬的五花肉放置其上，配上大蒜、蔥絲、泡菜包起來後一口吃掉，滋味最美妙。(選自首爾趴趴GO)請回 27-30 題：


27. 上文中寫到「沙塵暴發威的季節，季風從蒙古沙漠吹來」，請判斷這時候朝鮮半島的季風風向為何？(A)西南季風(B)東南季風(C)西北季風(D)東北季風。

28. 文中提及沙塵暴的來源，除了從蒙古來之外，還有可能來自中國哪一個行政區？(A)新疆維吾爾自治區(B)吉林省(C)遼寧省(D)廣西壯族自治區。

29. 為了防止沙塵暴持續惡化造成不經濟的效益，下列何者不是中國針對這沙塵暴問題所提出來的解決方案？(A)三北防護林(B)退耕還牧(C)退牧還林(D)退田還湖。

30. 泡菜是韓國民眾一年四季不可或缺的食物。請問：泡菜文化的由來和朝鮮半島哪一項自然因素最相關？(A)梅雨季長，食物保存不易(B)降水量稀少，無法種植蔬菜(C)冬季嚴寒，缺乏新鮮蔬菜(D)夏季酷熱，食物容易敗壞。

◎下圖 5 為中國青藏高原地區地形剖面圖。請回答 31-35 題



31. 圖 5 中的箭頭指向何方？(A)東(B)西(C)南(D)北。

32. 西藏的政經中心，被稱為「日光城」的拉薩，此名稱由來與下列何者有關？(A)佛教聖地(B)空氣稀薄(C)氣候炎熱(D)降雨量多。

33. 承上題，拉薩位於圖 5 中何處？(A)甲(B)乙(C)丙(D)丁

34. 拉薩氣候特徵可以用下列哪一句話來形容？(A)一年無四季，一日見四季(B)一山有四季，十里不同天(C)四時皆是夏，一雨變成秋(D)風和日麗，四季均如春。

35. 下列哪一描述最能形容圖中「丙」區的生活特色？(A)夏季那達慕大會，舉辦賽馬、射箭、摔跤比賽(B)浩瀚戈壁風颯響，風吹草低見牛羊(C)山青水綠青稞香，犏牛覓草好日光(D)朝穿皮襖午穿紗，抱著火爐吃西瓜。

◎下圖 6 是為日本風向及洋流示意圖，請回答 36-40 題：

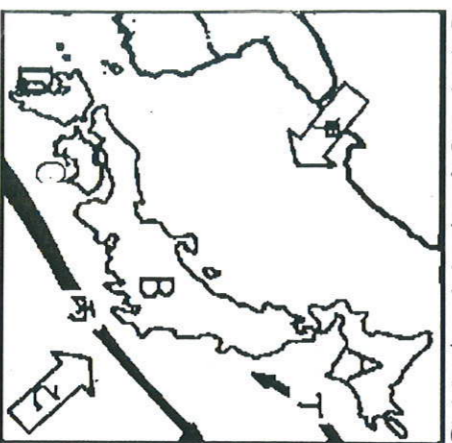


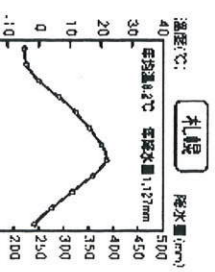
圖 6

36. 春季為日本著名的賞櫻季節，吸引來自世界各地的觀光客前往。依開花預測時間：D 開花時間最早，A 開花時間最晚。請問這個現象和下列哪一個因素最有關係？(A)地形(B)經度(C)距海遠近(D)緯度。

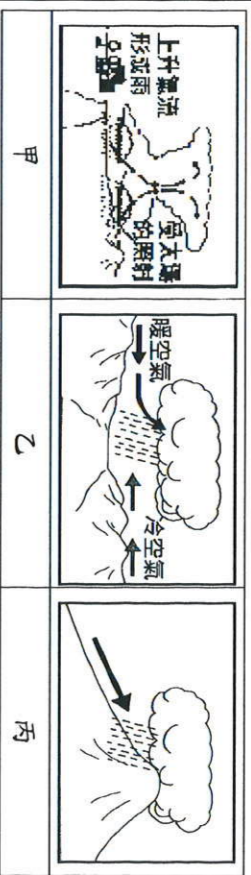
37. 圖 6 中哪兩個代號箭頭，為日本帶來豐富的漁業資源？(A)甲、丙(B)乙、丁(C)甲、乙(D)丙、丁。

38. 承上題，關於日本發展漁業的條件，下列哪一項不正確？(A)四面環海(B)捕撈技術發達(C)港灣島嶼眾多(D)海岸平直多瀉湖。

39. 右圖是日本札幌的氣候圖，冬季水氣豐沛，主要是歸功於圖 6 中那個箭頭所帶來的水氣？(A)甲(B)乙(C)丙(D)丁。



40. 承上題，其冬季主要降雨類型為下列何者？(A)甲(B)乙(C)丙。



貳、單選題 (每題 2 分)

41. 內蒙古高原自古以畜牧生活為主，然而近年來隨著時代的變遷也出現了變化，改變了原有的傳統文化與生活，這些變化不包括下列哪一項？(A)水平游牧改為農業耕作(B)牲畜產品由自給自足轉為商業性活動(C)開採鐵礦發展鋼鐵工業(D)利用地方特色來發展觀光。

42. 日本富士山以完美錐狀火山型態聞名，因而列入世界遺產。請問富士山的形成原因，與下列哪一項日本特色的成因相同？(A)北海道是日本著名的賞雪勝地(B)311 大地震被喻為是日本二戰後傷亡最慘重的自然災害(C)日本的漁貨量排名居世界前茅(D)日本以稻米為主食。

43. 青藏鐵路從西寧至拉薩全長 1956 公里，是全球知名的鐵路，其知名原因除了是世界海拔最高、線路最長的高原鐵路以外，更因為其興建過程須克服多種困難。上述提及建造時的困難，最不可能為下列何者？(A)颱風(B)高山症(C)凍土(D)生態保育區。

44. (甲)中國北部區域；(乙)朝鮮半島；(丙)日本群島。上列三地，其緯度相近，年溫差卻有所差異。其年溫差由大至小依序排列為何？(A)甲乙丙(B)乙甲丙(C)乙丙甲(D)丙乙甲。

45. 日本疆域境內最南端的「沖之鳥島」德日圓進行加固工程。請問：近年來日本政府在意為下列何者？(A)土地利用(B)國防安全(C)生態保育(D)經濟海域。

46. 內蒙古地區西側多為游牧為主，東側多為放牧為主，請問：造成此情形主要是受到下列哪一項因素的影響較大？(A)土壤特性(B)降雨多寡(C)氣溫高低(D)地形起伏。

47. 青藏高原呈現寒漠景觀，這種氣候特色最主要是受到下列哪一項因素的影響？(A)風向(B)緯度(C)地形(D)距海遠近。

48. 中國西部區域自然條件雖然較差，但蘊藏豐富的資源，下列哪項敘述何者正確的？(A)內蒙古高原盛產石油，帶動石化工業的發展(B)新疆地區稀土金屬礦豐富，為高科技與綠能產業的重要原料(C)青藏高原上日光充足，可利用太陽能發電(D)青海湖盆地最大鹹水湖，可利於水力發電。

49. 南韓的產業政策帶動了整體經濟的成長。請問：目前南韓經濟發展的主要原動力來自於下列何者？(A)外資企業(B)海外投資(C)大型財團(D)中小企業。

50. 下圖中「甲」地的年雨量較多，最主要的來源為何？(A)太平洋西北季風(B)太平洋西南季風(C)印度洋西南季風(D)印度洋東北季風。

