


一、單一選擇題(1-25 兩分，26-45 每題 2.5 分)

1. 附表分別是四個國家的出生率與死亡率，哪一個國家的社會增加率最高？

國別	甲	乙	丙	丁
移入率(‰)	29	48	18	10
移出率(‰)	13	20	9	14

- (A) 甲 (B) 乙 (C) 丙 (D) 丁。
2. 人口素質可由哪項資料作為判斷？(A) 移出率 (B) 死亡率 (C) 教育程度 (D) 稻米自給率。
3. 附圖為臺灣在民國 40 ~ 65 年的人口出生率和死亡率的曲線變化圖。根據圖中資料判斷，下列民國哪一年的人口自然增加率最低？



- (A) 40 年 (B) 45 年 (C) 50 年 (D) 60 年。

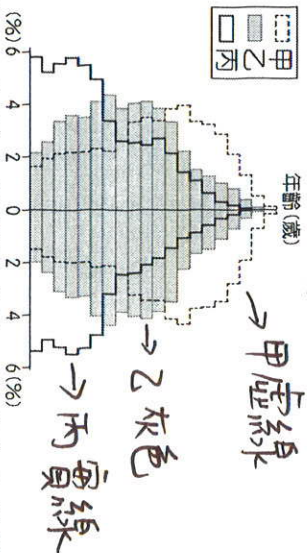
4. 人口分布受到各種自然及人文因素的影響，如下列哪一地區的人口密度相對最低？(A) 中央山脈 (B) 林口臺地 (C) 臺北盆地 (D) 嘉南平原。
5. 臺灣人口分布具有何種特色？(A) 集中於大都市 (B) 南部多於北部 (C) 東部多於西部 (D) 集中於高山區
6. 台灣、巴西等地適合種植咖啡，請問咖啡適合的環境條件為何？(A) 熱帶 (B) 溫帶 (C) 寒帶 (D) 高山。
7. 若想正確掌握近年來臺灣的扶養比變化趨勢，由下列哪一張圖來判斷最恰當？

(A) (百萬人口)

(B) (百分率)

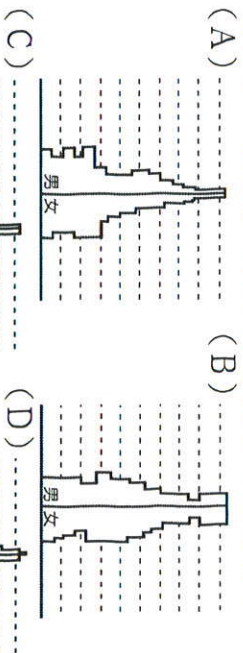
壯年人口

圖為該國不同時期的人口金字塔，該國出現上述倍伴高機最可能是因為其人口結構如何轉變？

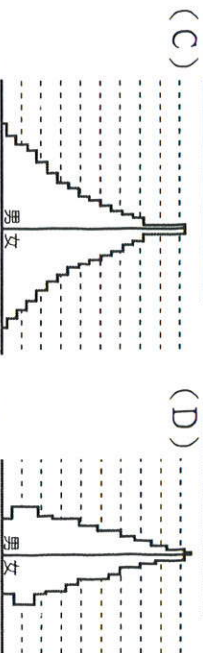


- (A) 由甲轉變成乙 (B) 由甲轉變成丙 (C) 由乙轉變成甲 (D) 由乙轉變成丙。

13. 根據路透社的報導，由於乾旱造成糧食作物普遍乾枯死亡，某地約 2 千 3 百萬的災民需要援助，而居高不下的自然增加率使該地饑荒問題雪上加霜。根據上述的敘述判斷，該地區的人口結構呈現何種狀態？



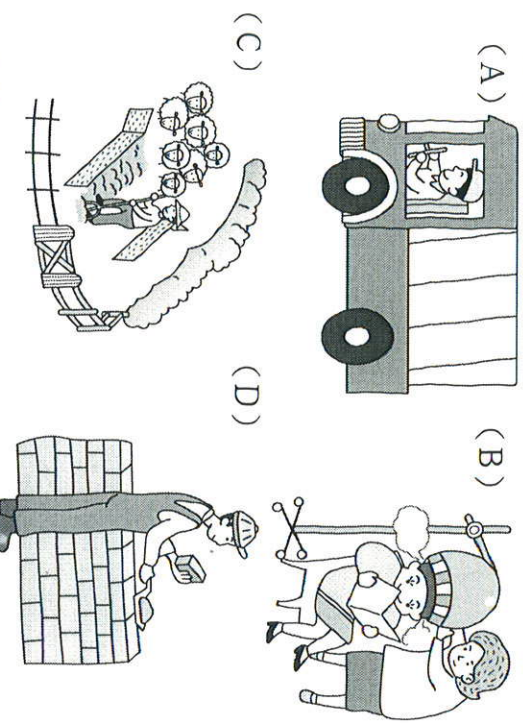
14. 710 班的人口性別比為 107，根據這項資料判斷，該班具有下列何種人口結構？(A) 男性人口比女性多 (B) 女性人口比男性多 (C) 男、女比例差不多 (D) 老、幼年人口不多。



23
21
60
80
90

國家	第一級產業	第二級產業	第三級產業
陳瑋國	31%	38%	31%
陳昀國	17%	35%	48%
陳謙國	42%	30%	28%
陳禎國	29%	22%	49%

- (A) 陳瑋國 (B) 陳昀國 (C) 陳謙國 (D) 陳禎國。
21. 臺灣最有利於農業發展的自然條件為何？(A) 地形(B) 面積(C) 土壤(D) 氣候
22. 臺灣光復後，彰化蔗田面積逐漸縮減，改種何種作物以獲取較高的利潤？(A) 花卉(B) 檳榔(C) 茶(D) 熱帶水果。
23. 下列為四種不同的工作型態。請問：哪一種工作屬於第二級產業？

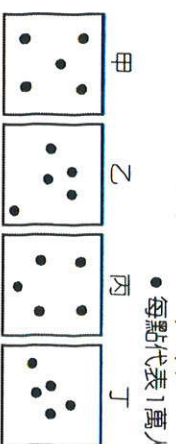


- (A) (B) (C) (D)
24. 臺灣北部地形以丘陵、臺地為主，最適合哪一種經濟作物的生長？(A) 茶(B) 甘蔗(C) 花生(D) 香蕉。
25. 哪項農業的發展正好符合現代人注重飲食安全的需求？(A) 機械化耕作(B) 有機農業(C) 密集栽種(D) 米食推廣
26. 甘蔗的糖分主要由光合作用形成，台灣糖廠在何地數量最多？(A) 雪山山脈(B) 桃園台地(C) 新竹丘陵(D) 嘉南平原。
27. 臺灣素有「水果王國」之稱，請問：臺灣水果種類豐富多元的主要因素為下列何者？(A) 季風氣候，乾溼分明 (B) 位處低緯，地形高低落差大 (C) 交通革新，運輸便利(D) 夏雨冬乾，日照充足
28. 農業活動依其特性分為集約農業及粗放農業，下列有關兩者特性的比較，何者正確？

	農場規模	勞力投入	單位面積產量
(甲) 集約農業	大	多	多
(乙) 粗放農業	小	少	多
(丙) 集約農業	小	多	多
(丁) 粗放農業	大	少	多

- (A) 甲 (B) 乙 (C) 丙 (D) 丁。
29. 台灣加入 WTO 後，對農業造成嚴重衝擊，主因為何？(A) 稻米生產過剩(B) 生產成本高、農地狹小(C) 飲食習慣改變(D) 早期台灣封鎖國外市場。
30. 下列有關現今臺灣畜牧業的敘述，何者正確？(A) 趨向專業化與現代化經營(B) 畜牧型態多為放任家畜在草原上活動的放牧型態(C) 臺灣主要的畜牧區分布於北部(D) 政府並不鼓勵酪農業的發展
31. 臺灣的產業活動由第一級產業轉變為以二、三級產業活動為主，原因為何？(A) 氣候變遷(B) 人口老化(C) 產業轉型(D) 地層下陷。
32. 若非洲豬瘟疫情跨大至臺灣，將對何種產業活動的衝擊最大？(A) 林業(B) 漁業(C) 畜牧業(D) 農業。

33. 有利於中、南部牧場將相關商品運往北部都市的因素為下列何者？(A) 產品品質優良 (B) 交通運輸改進 (C) 地狹人口稠密 (D) 開闢海運運輸。
34. 畜牧業的發展受到自然及人文因素的影響，附圖中哪一個地區的畜牧業活動類型最可能為欄牧？



- 1:1000 1:2500 1:5000 1:10000
- (A) 甲 (B) 乙 (C) 丙 (D) 丁。
35. 「日本近年來出現一種『漁師體驗』活動，遊客除了可跟漁夫一同出海捕魚，享用生魚片，來當『一日漁夫』的觀光客。」上述活動最適合為說明下列何者的實例？(A) 環境的永續經營 (B) 休閒農業的興起 (C) 精緻農業的推廣 (D) 商業性農業崛起。
36. 在日本，臺灣毛豆在日本的市占率達 42%。請問：臺灣毛豆進軍日本最有利的競爭條件為何？(A) 產品價格低(B) 保存日期長(C) 日本關稅低(D) 精緻優良品質
37. 台灣稻米供過於求，除了受國人飲食習慣改變的影響之外，和下列哪一項因素的關係最密切？(A) 國際糧食價格升高 (B) 政策輔導農業轉型 (C) 大規模機械化耕作 (D) 單位面積產量下降。

二、題組

- ◎2017 年 3 月，菲律賓漁業暨水產局局長在訪問中指出，菲國漁民受到臺灣漁船作業所影響的海域，最可能位於下列何處？(A) 黃海(B) 太平洋 (C) 巴士海峽 (D) 臺灣海峽
39. 歐洲聯盟對臺灣在其鄰近海域所從事的漁業活動高舉黃牌警告，要求我國政府改善過度捕撈的問題。請問：歐洲聯盟所指的漁業類型應為下列何者？(A) 養殖漁業 (B) 沿岸漁業 (C) 近海漁業 (D) 遠洋漁業。
- ◎過去太平山林場興盛帶動著羅東的發展。羅東林業園區原為羅東出張所，為太平山林場之製材作業、貯木場、營林辦公廳與職員宿舍，園區內完整保存林業設施、聚落、貯木作業設施、載運機具等。民國 10 年完成太平山林林運材鐵道，自土場銜接天送埤、歪仔歪至竹林車站。請問：

40. 哪項不是當時太平山伐木興盛的條件為何？
(A) 雨量充沛 (B) 多山地 (C) 觀光旅遊(D) 珍貴樹種
41. 臺灣林業停擺近三十年，林業長期萎縮，目前全臺僅剩八萬名林農、四家林業合作社。請問：林地資源多轉型為下列何種利用方式？(A) 交通開發 (B) 休閒遊憩 (C) 資源開採 (D) 聚落發展。
42. 當時鐵路運輸木材及乘客時，最可能看到的景象為？
(A) 農民辛勤耕耘稻田 (B) 平原段廣種蓮霧 (C) 鐵路跨越冬山河 (D) 三星梨園相片。
- ◎2019 屏東燈會首度以非生肖主題燈成功吸引千萬民眾賞燈，以東港知名特產為設計元素，配合大鵬灣域之絕美海景，像是夢幻國度。展期結束後，將主燈留置於現地，讓燈會的觀光效益無限延伸。

43. 文中的非生肖主題燈為東港知名特產，最可能為下列何者？(A) 蓮霧 (B) 芒果 (C) 黑鮪魚 (D) 鯨魚。
44. 大鵬灣附近魚塭廣布，可能為何種海岸地形？(A) 斷層 (B) 沙岸 (C) 岬灣 (D) 珊瑚礁。
45. 觀光業為第幾級產業？(A) 一(B) 二(C) 三(D) 四