

※選擇題，每題 2 分，共 50 題

1. 聖羅倫斯河是北美洲最重要的航運線，擁有很高的航運價值，對於北美洲的經濟發展有相當重要的地位。聖羅倫斯河的重要性來自於下列何種因素？

- (A) 沿岸石油豐富
- (B) 暖流經過，冬不結冰
- (C) 溝通大洋且腹地廣大
- (D) 流經北美精華區域

2. 南美洲亞馬孫河流域的氣候相當溼熱多雨，因此孕育出相當豐富的生物景觀。該地區的降水類型最接近下列何者？

- (A) _____
- (B) _____
- (C) _____
- (D) _____



3. 南美洲擁有很多世界之最，下列同學的敘述，何者**錯誤**？

- (A) 寥寥：世界最大的熱帶雨林區是亞馬孫雨林
- (B) 軒軒：世界上國土面積最長的國家是祕魯
- (C) 小晉：世界流量最大的河流是亞馬孫河
- (D) 小毅：世界最長的山脈為安地斯山脈

4. 美國、墨西哥的邊境區設立許多工廠，這些工廠的設立與下列哪個組織關係最密切？ (A)EU (B)OPEC (C)APEC (D)NAFTA

5. 承上題，墨西哥在組織當中的扮演的角色比較接近歐盟中哪一區域？ (A)北歐 (B)東歐 (C)西歐 (D)南歐

6. 【甲】氣候濕熱，熱帶面積廣大 【乙】歐洲資本家大量投入資金 【丙】大量使用機械化耕作 【丁】利用當地勞工。上述中那些是中南美洲發展熱帶栽培養的有利條件？

- (A) 甲乙丙 (B) 乙丙丁 (C) 甲乙丁 (D) 甲丙丁

7. 中南美洲許多國家都市化程度較部分已開發國家為高，請問其主要原因為何？ (A)鄉村推力大 (B)都市拉力大 (C)對外貿易發達 (D)經濟發展快速。

8. 15、16世紀地理大發現時期，遠渡重洋到美洲的歐洲人，他們航行至美國的路途中，會遇到何種風向的逆風？

- (A) 東風 (B) 西風 (C) 東北風 (D) 西南風

9. 佐佐整理美洲的氣候資料，發現南美洲沒有溫帶大陸性氣候，查證資料後發現原因應該為何？ (A)南美洲無寒流經過 (B)副熱帶高壓影響範圍太大 (C)中高緯度陸地面積小 (D)南美洲大部分地區背東南信風

10. 關於南美洲國家與其生產的重要農礦產配對，下列何者正確？ (A)古巴-棉花 (B)巴西-鐵礦 (C)委內瑞拉-橄欖 (D)墨西哥-金礦

11. 牙買加的藍山是西加勒比海最高的山，位於北緯25度~南緯25度之間的咖啡帶。純正的藍山咖啡產量非常少，因此市場價格昂貴。請問：下列關於藍山咖啡產業的相關敘述，何者正確？ (A)屬於粗放農業 (B)主要分布在中緯度高山 (C)產地初步加工後出口 (D)易受龍捲風影響產量

12. 美國某連鎖咖啡店推出城市杯，杯上圖案為美國太空總署負責訓練太空人跟太空任務監控的地方。請問：此城市杯應該是指下列哪一個城市？ (A)紐約 (B)華盛頓 (C)休士頓 (D)西雅圖

13. 印加古文明馬丘比丘及祕魯等國重要都市都位在安地斯山脈上，其主要原因為何？ (A)山間盆地氣候涼爽 (B)受福克蘭寒流影響 (C)位於西風背風側 (D)受副熱帶高壓籠罩

14. 智利境內氣候複雜，由北而南分別是：熱帶沙漠、溫帶地中海型及溫帶海洋性氣候。上述情形和下列哪項因素關係

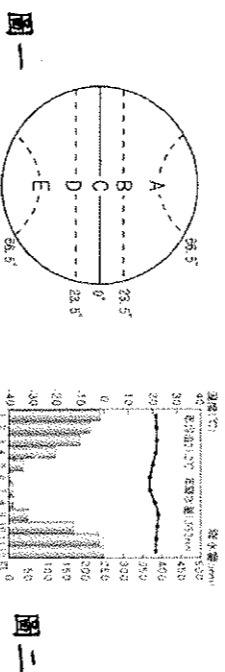
最密切？

- (A) 地形相對複雜多變
- (B) 國土跨越緯度範圍大
- (C) 國土不受季風調節
- (D) 國土跨越經度範圍大

15. 美國與加拿大邊界的五大湖，是全球面積最大的淡水湖群，有「北美洲地中海」之稱。請問：五大湖形成的原因與下列哪一種海岸地形形成原因「相同」？ (A)台灣的岬灣海岸 (B)希臘的谷灣式海岸 (C)挪威的峽灣海岸 (D)琉球嶼的珊瑚礁海岸

16. 南美洲各國主要語言為西班牙語，只有哪個國家以葡萄牙語為國語？ (A)阿根廷 (B)巴西 (C)智利 (D)哥倫比亞

17. 位於阿根廷境內的巴塔哥尼亞高原為典型的沙漠氣候，影響該地區呈現此氣候特徵的因素為何？ 【甲】居西風的背風側 【乙】沿海有寒流流經 【丙】深居內陸距海遠 【丁】副熱帶高壓籠罩 (A)甲乙(B)甲丙(C)乙丙 (D)丙丁



18. 圖一為地球緯線簡圖。圖中哪條緯線未經過中南美洲？ (A)B (B)C (C)D (D)E

19. 圖二為南美洲某都市的氣候圖。關於此氣候圖的敘述，下列何者正確？ (A)夏雨冬乾的熱帶草原氣候 (B)夏乾冬雨的溫帶地中海型氣候 (C)多雨的熱帶雨林氣候 (D)適合發展農、牧的草原氣候。

20. 承上題，此張氣候圖應該分布於圖一哪兩個區域之間？ (A)AB之間 (B)BC間 (C)CD間 (D)DE間

21. 美國當地機械化農業發達，該地區從事機械化農作的主要原因為何？ (A)面積廣大、勞工眾多 (B)土壤貧瘠、交通不便 (C)工業進步、農作多樣 (D)農地廣大、工資較高

22. 安地斯山脈的氣候特色，最可能用中國哪句氣候諺語來說明？ (A)四時皆是夏，一雨變成秋 (B)朝穿皮襖午穿紗，抱著火爐吃西瓜 (C)一山有四季，十里不同天 (D)天無三日晴，地無三里平

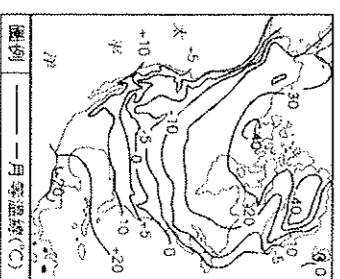
23. 下列針對北美洲與中南美洲自然環境的敘述，何者正確？ (A)兩洲的東側均為地震好發帶 (B)兩洲劃分大致以墨西哥巴拿馬運河為界 (C)兩洲氣候皆涵蓋熱帶、溫帶及寒帶 (D)兩洲的第一長河分別為密西西比河及亞馬孫河

24. 傑克在電影台看到了一部經典電影，電影中描述著西元1912年4月15日號稱「永不沉沒」的豪華郵輪鐵達尼號，因撞到冰山，在加拿大東側紐芬蘭外海沉船。請問：這些冰山主要來自格陵蘭，順著哪一道洋流南下？ (A)親潮 (B)福克蘭寒流 (C)拉不拉多寒流 (D)加利福尼亞涼流

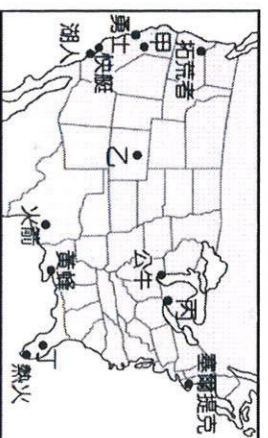
25. 右圖是北美洲一月的等溫線分布圖。從圖中可看出西岸地區較同緯度的東岸溫度高出許多，造成這種現象的主要原因為何？

- (A) 洋流性質不同
- (B) 地形分布不同
- (C) 人口多寡不同
- (D) 海岸類型不同

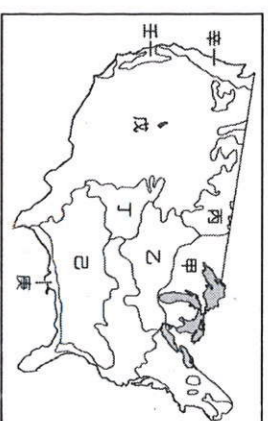
26. 「猛烈的風暴常出現在美國大平原中部，這種帶有雷暴的積雨雲向下伸展成漏斗雲，以逆時針方向旋轉，破壞力驚人。」請



要藉由這次旅行欣賞幾場熱血沸騰的球賽。圖七是他喜歡的球隊，請參考圖七回答下列問題：



圖七

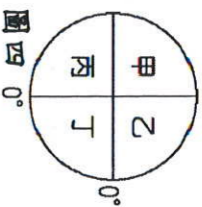


圖八

- 問：文中所描述的氣象災害最常出現於哪一時節？
 (A)1~3月 (B)4~6月 (C)7~9月 (D)10~12月
27. 中南美洲自十六世紀起因歐人殖民，深受拉丁文化影響，請問：當地哪種人文現象的形成與被殖民較「無」關係？
 (A)人口集中低緯高地 (B)居民多信仰天主教 (C)多經營熱帶栽培業 (D)發展出港埠型城市
28. 美國的白人開拓史，最早是1620年來自英國的清教徒，搭乘『五月花號』登陸美洲大陸，請問他們登陸地點在圖三何處？ (A)甲 (B)乙 (C)丙 (D)丁。

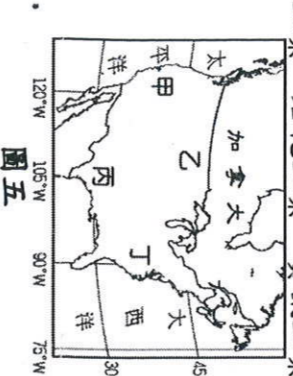


圖三

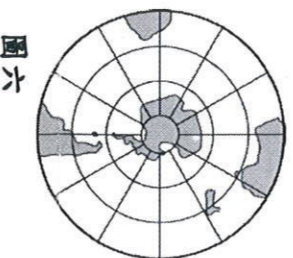


圖四

29. 美國太空總署所發射的太空梭預計於明日清晨降落於美國本土亞利桑那州的沙漠，在太空梭上的全球定位圖中，該地區的地理位置應位於圖四中何處？ (A)甲 (B)乙 (C)丙 (D)丁
30. 參考圖四，從台灣穿越地心到達地球的另一端，最有可能是在下列何處？ (A)北美洲 (B)南美洲 (C)西歐 (D)南歐
31. 美國為世界重要的工業國家，其境內的工業分布依東部、南部、西部排列，依序為何種類型？ (A)資訊工業、石化工業、傳統重工業 (B)石化工業、資訊工業、傳統重工業 (C)石化工業、傳統重工業、資訊工業 (D)傳統重工業、石化工業、資訊工業



圖五

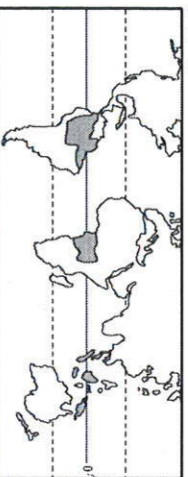


圖六

32. 美國的疆域面積廣大，境內分為數個不同的時區，跨年倒數時間各地不同。請問：圖五中哪一個地區的跨年倒數時間最早？ (A)甲 (B)乙 (C)丙 (D)丁
33. 南極洲是地球上最難親近的地方之一，若想拍攝南極洲壯麗的冰河景觀，參考圖六，考量最近距離，應該前往哪一個國家？ (A)巴西 (B)南非 (C)智利 (D)澳洲
34. 下表為智利中部溫帶地中海型氣候的成因，其中哪一個最為正確？ (A)甲 (B)乙 (C)丙 (D)丁

	甲	乙	丙	丁
6月	西風	低氣壓	信風	高氣壓
12月	高氣壓	西風	高氣壓	西風

35. 地球上地理位置的分布會影響各地區的氣溫及雨量，形成各種不同的氣候類型。附圖為某地理學者所繪製的氣候分布圖，請根據圖中資料加以判斷，該地區的氣候類型最能為下列何者？



- (A)熱帶莽原氣候 (B)熱帶季風氣候 (C)熱帶雨林氣候
 (D)熱帶沙漠氣候
36. 副熱帶高壓影響多種氣候類型，下列選項中，何者不屬於其影響範圍？ (A)熱帶沙漠 (B)溫帶地中海氣候的夏季 (C)熱帶莽原的冬季 (D)溫帶海洋性的夏季

※小諺準備展開一場美洲圓夢之旅，身為NBA球迷的小諺想

37. 小諺預計欣賞湖人隊的比賽，請問當地的氣候特色為何？
 (A)全年有雨 (B)夏乾冬雨 (C)夏雨冬乾 (D)全年乾燥

38. 熱火隊當初在命名時，考慮到大家對於邁阿密的印象就是熱。請問，當地的氣候應該為何？ (A)溫帶大陸性氣候 (B)熱帶莽原 (C)夏雨型暖溫帶氣候 (D)溫帶地中海型氣候

39. 小諺發現NBA並非所有隊伍主場都在美國，下列哪個隊伍即是此例？ (A)底特律活塞隊 (B)紐約尼克隊 (C)華盛頓巫師隊 (D)多倫多暴龍隊

- ※小諺久聞北美洲農業帶的盛名，也見識到愛吃肉的美國人對於牛肉的大量消費，在美國旅遊期間，他一邊品嚐著美式食物，一面追朔食物的來源，請參考圖八回答問題：

40. 到達美國的第一餐，小諺吃了牛排套餐，他想起在台灣也可以吃到美國牛肉，請問美國的畜牧帶主要為在途中何處？ (A)甲 (B)乙 (C)丙 (D)戊

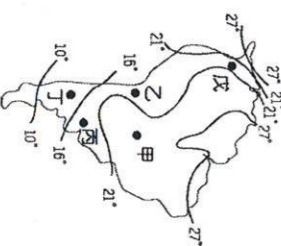
41. 和小諺同行的友人告訴他，美國牛肉是以玉米當作飼料，此種飼養方式反而讓牛的胃培養出新型的大腸桿菌。請問，玉米帶的位置為圖中何處？ (A)甲 (B)乙 (C)丙 (D)丁

42. 小諺想起自己曾經看過一部小說《湯姆叔叔的小屋》描寫黑人被販賣到美國農莊為奴，辛苦耕種某種植物的故事，請問該種植物分布於上圖何處？ (A)甲 (B)乙 (C)丙 (D)辛
- ※結束了北美洲的旅行，小諺一路往南來到中美洲，明顯感受到自然環境及人文環境有相當大的不同。

43. 小諺參訪的交通地位相當重要的巴拿馬運河，看見大型船隻利用水閘克服地形問題，請問巴拿馬運河是聯絡哪兩大海洋的捷徑？ (A)大西洋、印度洋 (B)太平洋、印度洋 (C)大西洋、太平洋 (D)墨西哥灣、加勒比海

44. 承上題，在這些拉丁美洲的邦交國中，經濟發展普遍不佳的原因為何？ (A)依賴農產出口，易受市場價格波動 (B)勞動人口不足 (C)交通建設不夠便利 (D)生產作物以糧食作物為主，無法從中獲利

- ※南美洲的輪廓呈現倒三角形的特色，影響當地的氣候分布。右圖為該地區的等溫線分布圖，請由圖中資料回答相關問題：



45. 根據圖中氣溫分布判斷，下列敘述何者正確？ (A)緯度越高氣溫越高

- (B)此圖應為南美洲年溫差等溫線圖 (C)洋流並未對此區域氣溫造成影響 (D)甲點氣溫介於21-27°C之間

46. 圖中戊點較其他同緯度地區氣溫低，其最主要的原因為何？ (A)寒流經過 (B)強風侵襲 (C)地勢高聳 (D)高壓籠罩
- ※請從下列參考選項中找出相對應的國家代碼：

- A 巴西 B 委內瑞拉 C 秘魯 D 阿根廷 E 古巴 AB 巴拿馬
 47. 南美洲OPEC會員國 49. 彭巴草原畜牧業發達
 48. 全世界最大高原 50. 印加帝國觀光資源