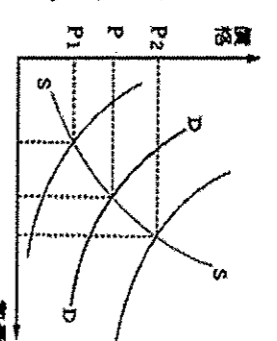


一、單選題

1. 世界各國大都由政府發行貨幣，目的是提供社會大眾一種安全可靠、價值穩定和廣被接受的支付工具，其制度的良窳影響國計民生甚鉅。因此我國發行貨幣的組織為下列何者？
(A) 財政部 (B) 台灣銀行 (C) 中央銀行 (D) 經濟部
2. 承上題，我國發行貨幣的組織特色有：(甲) 主要往來對象為我國所有民眾及機關(乙) 發行信用卡以促進經濟流通(丙) 是隸屬於立法院管轄(丁) 必須控制貨幣發行量，以維持物價穩定(戊) 保管國家黃金、外匯(己) 需輔助監督全國金融機構業務。上述有幾項是正確的？
(A) 3 個 (B) 4 個 (C) 5 個 (D) 6 個
3. 下列有關於貨幣功能的配對，正確的有幾個？(甲) 小緯徹夜排隊買韓國女團的簽名會套票，一套價值 5000 元-價值衡量(乙) 曉瞳的手機價值 1 萬元-交易媒介(丙) 小吳為女兒開立儲蓄帳戶，做為未來就學的基金-價值儲存(丁) 小安不小心摔壞小捷的杯子，當場以 200 元賠償小捷-清償債務
(A) 4 個 (B) 3 個 (C) 2 個 (D) 1 個
4. 農曆春節時，各家超商、量販店推出各式各樣年菜的預購目錄，目錄上有各家名店年菜的預購優惠價格，超商、量販店這項服務是發揮哪一項經營原則？(A) 研發新產品
(B) 內部人事考核 (C) 市場風險評估 (D) 企業合作
5. 智妍決定自行創業賣咖啡，廣告傳單上標明「一杯 100 元」，結果乏人問津。據此判斷，均衡價格可能是多少元？
(A) 110 元 (B) 120 元 (C) 80 元 (D) 0 元
6. 承上題，智妍所開的咖啡店，是屬於何種企業經營型態？
(A) 獨資企業 (B) 合夥企業 (C) 連鎖企業 (D) 股份有限公司
7. 「世紀後期隨著對外的邪風鬥開啟後，東歐優質的人力和較為低廉的工資成為吸引西方企業的優勢，因文化相似相似的優勢使得其快速融入歐盟經濟體，成為 21 世紀最受矚目的投資天堂。」上述為某投資公司的廣告介紹，請根據文中資料判斷，東歐國家的何項生產要素具有優勢？(A) 自然資源 (B) 勞動 (C) 資本 (D) 企業才能
8. 「許多民眾普遍認為大醫院醫療品質較好，不論症狀輕重就到大醫院掛號，導致大醫院常出現看診壅塞，使得醫護人力吃緊和造成資源浪費的問題。」根據上文陳述的現象，下列何者提出的因應對策，是運用「需求法則」的概念？(A) 補助小型診所購買醫療設備 (B) 提高各大醫院門診掛號費用 (C) 增加醫護待遇補足醫療人力 (D) 限制各大醫院每日看診人數
9. 報載：有名員工只以一封 e-mail 草草告知公司要辭職，業者將其七天薪水全部以一元硬幣支付，造成該名員工心生不滿。但該名員工又不能拒領，這是因為一元硬幣具有何種特性？
(A) 交易媒介 (B) 數量足夠 (C) 無限法償 (D) 價值儲存
10. 自由競爭市場的價格是由市場機能所推動的？
一項交易的價格也是由市場機能所推動的？
(A) 花爸每天開車北上工作，沿途付了不少「高速公路的通行費」
(B) 柚子在情人節這天買花，卻赫然發現「玫瑰花價格漲了數倍」
(C) 花媽個性節儉，每月「繳交水電費」都要錙珠必較。
(D) 橘子 18 歲後，自己打工買了一台機車，每年都要為她的愛車「繳納牌照稅」。
11. 身為國中學生，下列哪一種方法有助於減少自己的碳足跡，為地球盡一份心力？(A) 購買包裝完整的商品 (B) 多爬樓梯、少搭電梯 (C) 冷氣只要想開就開，開到 18 度消暑 (D) 使用免洗碗筷較衛生

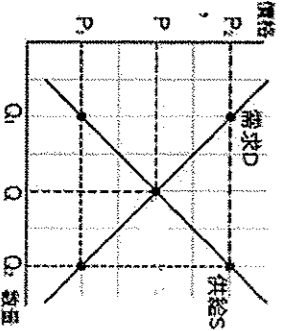
12. 下列提高利潤的策略，何者與其他三者不同？(A) 遊樂區為慶祝兒童節，舉辦國中以下孩童入園免費的促銷，提升入園人數 (B) 百貨公司舉辦五月天簽名會，吸引五月天粉絲增加消費 (C) 餐廳業者減少刊登報紙廣告經費，改發送電子郵件宣傳 (D) 民生物價飛漲，小吃店老闆忍痛維持原價，意外獲得更多外送訂單

13. 附圖是中國豬肉的供給曲線 S 和需求曲線 D。中國近日多地出現「非洲豬瘟」疫情，民眾不敢吃豬肉，轉而購買雞肉代替，根據上述內容判斷，在其他條件不變的情況下，此時豬肉的價格 P 最有可能發生什麼變化？(A) 移往 P1 方向 (B) 移往 P2 方向 (C) 維持在 P (D) 無法預測



14. 承上題，民眾不敢吃豬肉，轉而購買雞肉代替。根據上述，中國的市場上將出現何種狀況？(A) 豬肉商為增進消費者信心，增產促銷降價 (B) 撲殺可能得病的豬隻，避免傳染擴散，豬肉價格不變 (C) 雞肉成為肉類消費的主流，價格下跌 (D) 人們害怕買到病死豬，因此減少購買豬肉，使得豬肉價格下跌
15. 新聞廣場週年慶期間，推出滿五千元送五百元的促銷口號，曾愛買一口氣刷卡湊足滿額贈，共花了 5,000 元，則下列何者敘述正確？(A) 價格影響了曾愛買的購買意願，這是供給法則 (B) 共花了 6000 元，此時「元」代表價值儲存的工具 (C) 刷卡完成交易，滿足了信用卡延遲支付的功能 (D) 信用卡又稱塑膠貨幣，所以它也算是貨幣
16. 好的企業，在追求利潤的同時，也兼顧了員工、消費者、供應商和社會等相關的利益。下列敘述總共有幾項是企業呼應上述的表現？(甲) 民眾到超商回收廢棄電池可抵扣消費金額。(乙) 公司每年補助員工旅遊、運動、醫療費 3 萬元。(丙) 企業推動閱讀專車，下偏鄉送弱勢孩子圖書。(丁) 讓員工超時加班是給員工賺錢的機會。(戊) 為提供顧客最佳服務，24 小時 line 員工 (A) 2 (B) 3 (C) 4 (D) 5 項
17. 下列何者「消費行為」與「消費因素」的配對是正確的？(A) 資訊展快到了，那時一定更便宜，所以現在先不買一所得高低 (B) 國際紙漿價格上漲，賣場衛生紙一拿出來就被買走了一商品價格 (C) 領到年終獎金時，會花費在奢侈品或旅遊上一個人偏好 (D) 各家網站因應雙 11 推出大特價，民眾瘋狂搶購一商品價格
18. 歐萊德髮妝產品落實「自然、純淨、環保」，堅持採用天然、安全的產品原料，包裝瓶身達到可百分之百再生分解利用的材質，達到包裝減碳 80% 的目標。上述公司的做法最符合下列何者？(A) 遵守法令規章 (B) 提升勞資關係 (C) 注重維護員工福利 (D) 重視環保節能

19. 右圖為青菜的需求 D 與供給 S 曲線圖，在其他條件不變的情況下，下列有關「價格與供給量的變化」之敘述，何者正確？
(A) 價格下跌，供給量由 Q1 → Q2，將呈現供不應求的狀況
(B) 價格上漲，供給量由 Q1 → Q2，導致產品過剩現象
(C) 價格由 P1 → P2，供給量增加，導致生產短缺
(D) 價格由 P1 → P2，需求量增加，造成供過於求的狀況



20. 關於企業型態與投資經營的原則，下列敘述何者正確？

- (A) 企業透過與其他企業合作來增加生產成本(B) 企業投資，可擴充生產規模、提升產品品質、提高生產利潤
- (C) 生產者使用的各項生產要素時所支付的代價，就是「投資」(D) 股份有限公司的資產若不足承擔虧損時，須以共同經營者的私人財產來支付

二、題組

(一) 愛琳想在甲、乙、丙三景點中選擇一處販售珍珠奶茶，她的評估結果如右表所示。

景點	一日販售數量(杯)	每杯售價(元)	營業日數(天)	一日營業成本(元)
甲	100	40	3	800
乙	110	50	2	1000
丙	90	30	4	600

21. 根據上述，請問：甲、乙、丙三處的總銷貨收入分別為多少？
 (A) 4000、5500、2700 (B) 9600、9000、8400
 (C) 3200、4500、2100 (D) 12000、11000、10800
22. 根據上表，哪個景點的單日利潤比較高？
 (A) 甲(B) 乙(C) 丙(D) 一樣高

23. 若僅考量總利潤，根據表中內容判斷，愛琳選擇這三處景點的機會成本，其排序應為下列何者？
 (A) 甲 > 乙 > 丙
 (B) 丙 > 乙 > 甲 (C) 乙 = 丙 > 甲 (D) 甲 > 乙 = 丙

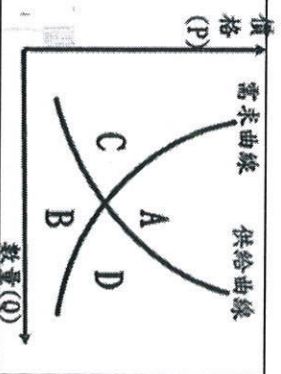
(二) 日劇《陸王》描述百年足袋老舖「小鈞屋」，所謂的足袋就是將大拇指與其他四指分開來的分趾襪，在穿著和服配上木屐時都會穿到，(甲)因傳統分趾襪面臨需求減少，營收大量減少的狀況下，因某個契機，(乙)第四代社長宮澤想到可以利用自家製作足袋的縝密手工，引進新技術，來打造新式又耐用的馬拉松跑鞋。

24. 請問：根據甲的敘述，傳統分趾襪的市場出現下列何種現象：
 (A) 供不應求(B) 供需均衡(C) 供過於求(D) 無法判斷。
25. 根據乙的敘述，社長宮澤的做法主要考慮到哪一項課題？
 (A) 生產什麼(B) 如何生產(C) 為誰生產 (D) 何地生產
26. 根據文中敘述，「小鈞屋」引進新技術，落實了下列哪一個企業經營原則？
 (A) 從事投資行為(B) 建立考核管理制度
 (C) 具備風險管理(D) 進行企業合作

(五) 請閱讀文章，並回答下列問題，選出正確答案：
 小亭寒假時到韓國自由行，旅遊書上建議：先不要在國內把兌換韓元會比較划算。到了韓國，小亭首先到明洞用美金兌換韓元，1美金可兌換到1129韓元，吃完飯後接著逛街時，看到很多商家發放廣告傳單，裡面剛好有她想買的品牌(丁)折價券和(戊)贈品兌換券，於是她趕快到店裡挑選買的商品，因為得太多，拿出(己)信用卡來結帳。離開明洞前到超商買了(庚)T-money卡，類似國內的(辛)悠遊卡，儲值後，搭車回飯店就變得很方便。

27. 上述文章(甲)~(辛)中，屬於「法定貨幣」的有幾項？
 (A) 3項 (B) 5項 (C) 7項 (D) 8項。
28. 從文中得知，美金和韓元相較，何種貨幣的價值較高？
 (A) 美金(B) 韓元(C) 相同(D) 無從比較。
29. 下列有關悠遊卡的說法，較為正確的是：
 (A) 又稱為「法定貨幣」，由政府負責發行(B) 卡片本身具有一定價值，是為「商品貨幣」(C) 是一種交易媒介，具備價值儲存的功能(D) 和「信用卡」一樣，都具有延遲支付功能

(三) 請依據下列各題敘述，判斷其所屬的市場供需狀況，在供需曲線圖(右圖)選出其正確位置

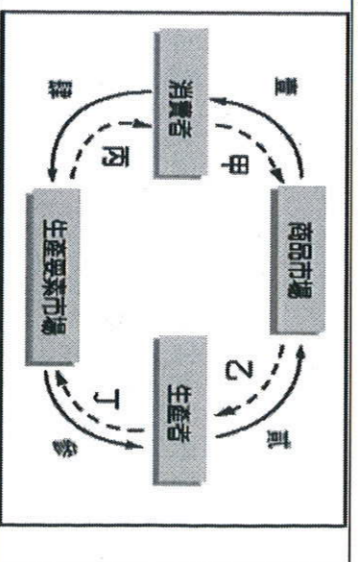


30. 日劇《拿破崙之村》，劇中描述日本一個高齡化的村落，一個公務員為了行銷村中生產過剩的稻米，居然分別寫信給梵蒂岡教宗，希望與他們分享村落中好吃的稻米，當時稻米市場供應狀況位於何處？
 31. 歌唱節目總決賽，門票市場供應狀況位於何處，讓民眾不惜買黃牛票？
 32. 穀賤傷農」意即商品供過於求時造成農民的利益受到損害。這個情況用上方圖表示，應該會在哪個區域？
 33. 承上題，此時市場上會出現什麼現象？
 (A) 通貨膨脹更嚴重
 (B) 消費者會減少購買(C) 農產品價格上升(D) 農夫會考慮減少生產

(四) 台灣光復初期(民 34~38 年)，物資缺乏、物價飛漲，政府以大量發行貨幣因應，結果造成貨幣數量大增、但物資卻有限，更加刺激物價上漲。這段時間，物價漲了 1000 多倍，民不聊生。在這種情況下，民 38 年，政府改革幣制，發行新台幣，規定以舊台幣 4 萬元兌換新台幣 1 元，才使得混亂的經濟的以安定下來。請問：

34. 根據上文敘述，當時的台灣經濟可能正面臨了什麼問題？
 (A) 通貨膨脹 (B) 生產過剩 (C) 通貨緊縮 (D) 惡性競爭。
35. 承上題，人民通常採取何種方式來因應？
 (甲) 囤積商品 (乙) 增加儲蓄 (丙) 用現金換黃金(丁) 以實物交易代替貨幣交易
 (A) 甲乙丙(B) 乙丙丁(C) 甲丙丁(D) 甲乙丁。
36. 當上述經濟問題發生時，會發生下列哪些狀況？
 (甲) 相同貨幣金額能買到的商品數量變多(乙) 領固定薪水的人，生活水準降低(丙) 民眾儲蓄率下降 (丁) 老闆惜售商品
 (A) 乙丙(B) 乙丁(C) 甲乙丁(D) 乙丙丁。

(六) 下圖為經濟活動循環圖，內圈為貨幣的流向，外圈為商品及生產要素的流向



37. 政府宣布明年元旦起，基本工資時薪將從新台幣 140 元調到 150 元，雇主應依法調整，若違反規定將處以罰鍰 2~30 萬。上述基本工資調整最直接影響圖中哪兩個項目？
 (A) 甲 乙 (B) 乙 丙 (C) 丙 丁 (D) 甲 丁
38. 日本人對「味道」一向非常靈敏，有廠商看這樣的嗅覺商機，推出一系列消臭貼身衣物，還有一款消臭內褲，號稱穿上後，短時間內就可以吸收放屁的臭味，跟尷尬說再見。請問：業者推出此商品，是屬於上圖何位置？
 (A) 壹(B) 貳(C) 參(D) 肆
39. 金本最近在找工作，他準備了多封履歷參加政府舉辦的就業博覽會。請問：上述行為代表了圖中哪項敘述？
 (A) 壹(B) 貳(C) 參(D) 肆
40. 民亨到炸雞店買了一份雞排當作晚餐。請問：下列敘述何項正確？
 (A) 炸雞店屬於生產要素市場(B) 民亨購買雞排需要支付丁(C) 民亨是生產要素市場的需求者(D) 民亨支付的費用會成為生產者的乙