

※選擇題，每題 2 分，共 50 題

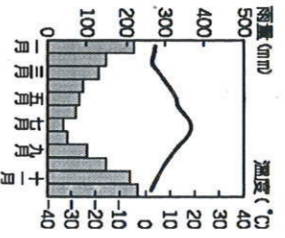
1. 歐洲的主要山脈有【甲】阿爾卑斯山【乙】斯塔地那維亞山【丙】庇里牛斯山【丁】喀爾巴阡山等山脈。請問：西歐與南歐大致以下列何者為分界？(A)甲乙 (B)甲丙 (C)乙丙 (D)丙丁

2. 西亞的地形以高原為主體，其中哪個高原與非洲相連，後因紅海斷層陷落而分離，形成半島？(A)阿拉伯高原 (B)伊朗高原 (C)阿富汗高原 (D)安納托利亞高原

3. 有關歐洲區域統合敘述何者正確？(A)參加歐盟的國家全部使用歐元做為統一貨幣 (B)所有歐洲國家皆為歐盟成員 (C)總部設於英國首都倫敦 (D)會員國之間取消關稅促進貨物流通

4. 關於中亞五國的敘述，下列何者正確？(A)位於亞洲及非洲貿易往來的要道 (B)哈薩克為中亞主要石油生產國 (C)高原為地形主體 (D)五國包含哈薩克、烏茲別克、伊朗、塔吉克、吉爾吉斯

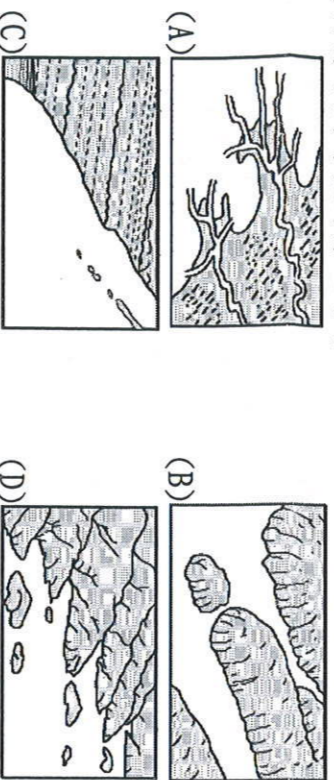
5. 右圖為西亞地區的一種氣候類型，請問主要分布在哪些地方？(A)紅海周邊 (B)波斯灣周圍 (C)黑海附近(D)裏海附近



6. 承上題，造成這種氣候類型的主要原因為兩個行星風系的風帶季移，請問這兩個行星風系與其影響季節分別為何？

- (A)夏季—西風帶；冬季—東北信風帶 (B)夏季—副熱帶高壓帶；冬季—赤道低壓帶 (C)夏季—赤道低壓帶；冬季—西風帶 (D)夏季—副熱帶高壓帶；冬季—西風帶

7. 希臘自古即以航運貿易著稱，其發展航運的最主要優勢是因為擁有下列哪種海岸地形？



8. 【甲】V型谷 【乙】U型谷 【丙】峽灣【丁】谷灣，以上四地形中，主要受冰河作用影響而形成的是哪兩種？

- (A)甲丙 (B)甲丁 (C)乙丙 (D)乙丁

9. 歐洲地形景觀豐富，請將「歐洲分區」與「地形特徵」做正確的配對。(A)東歐——有三大半島深入地中海 (B)西歐——地形主體是歐洲大平原 (C)南歐——北部為高原，南部多盆地 (D)北歐——多石灰岩景觀

10. 西亞地區的各產油國結合世界其他產油國，共同組成哪個組織，以維護產油國利益，穩定國際石油價格？

- (A)OPEC (B)WHO (C)APEC (D)WTO

11. 西亞地區因氣候乾燥，水資源珍貴，如伊朗高原的居民，為避免水分蒸發，將高山雪水引入地下，發展出坎井系統。請問：中國在下列何處也可見到相同的灌溉方式？(A)內蒙古高原 (B)塔里木盆地 (C)河套平原 (D)藏南縱谷

12. 歐洲國家中，以東歐各國在經濟上發產較為落後，請問：這些國家經濟發展較差的原因，與下列何者關係最密切？

- (A)缺乏礦產資源 (B)共產制度影響 (C)氣候較為寒冷 (D)土壤貧瘠，農業發展困難

13. 中亞大部分地區屬乾燥的沙漠氣候，其成因最主要為下列何者？(A)涼流流經 (B)副熱帶高壓籠罩 (C)距海遙遠 (D)位居信風的背風側

14. 中亞境內大量引用河水，導致某內陸湖泊面積逐漸縮減，造成許多環境問題。請問：這座湖泊叫做什麼？(A)死海

(B)裏海 (C)黑海 (D)鹹海

15. 承上題，該湖泊面積大幅度縮小的主要原因為何？


- (A)圍湖造田 (B)種植棉花 (C)湖泊淤積 (D)地層下陷

16. 下列哪一項不是歐洲國家目前主要面臨的人口問題？

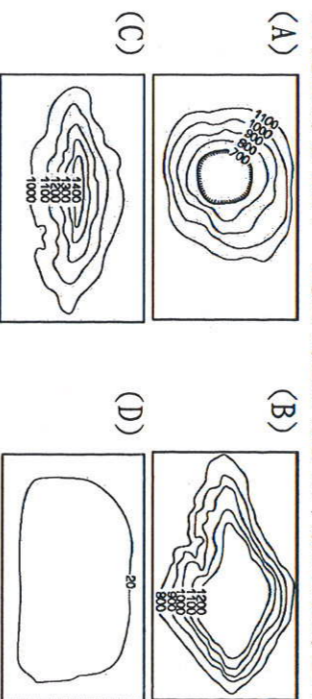
- (A)性別比失衡，男性人口遠多於女性 (B)少子化現象明顯 (C)人口高齡化 (D)扶養比提高

17. 西亞地區的建築物大多如右圖所示，牆很厚、門窗很小，這和下列哪項因素最為相關？

- (A)氣候環境 (B)宗教信仰 (C)政府法令 (D)產業活動。

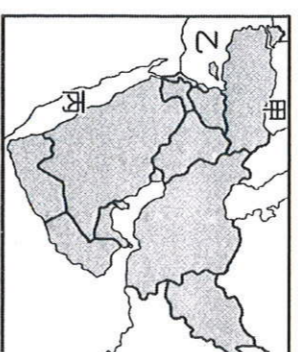


18. 歐洲人口分布平均，還因為歐洲是以什麼地形為主？



19. 西亞位於歐、亞、非三洲及五海交界帶，因此，戰略及交通地位重要。右為西亞位置圖，圖中的甲、乙、丙分別為哪三個海？

- (A)地中海、黑海、鹹海 (B)裏海、紅海、黑海 (C)黑海、地中海、紅海 (D)鹹海、裏海、地中海



20. 歐洲的「高緯與高山地區」常見冰河地形，依此推論，歐洲哪個區域和哪座山的冰河地形最為完整？(A)東歐、庇里牛斯山 (B)西歐、喀爾巴阡山 (C)南歐、亞平寧山 (D)北歐、阿爾卑斯山

21. 歐洲地區的降水量呈現由西向東遞減的趨勢，且愈往東年溫差也愈大，此一現象與下列何項因素關係最為密切？

- (A)地勢高低 (B)河流流向 (C)盛行風向 (D)寒流經過

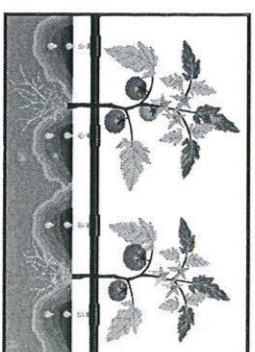
22. 西亞缺乏水源灌溉的乾燥地區，居民以游牧生活為主。貝都因人目前在哪個地區從事傳統的游牧生活方式？

- (A)伊朗高原 (B)阿富汗高原 (C)阿拉伯半島 (D)地中海沿岸

23. 承上題，造成西亞地區氣候乾燥的原因為何？

- (A)緯度太高 (B)副熱帶高壓籠罩 (C)距海遙遠 (D)寒流經過

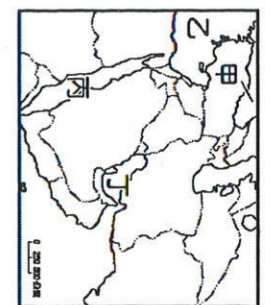
24. 右圖為滴灌示意圖。滴灌農業是現代科技的產物，因灌溉水源直接輸送到農作物根部，可有效減少水分蒸發，達到節水功效，也避免土壤鹽鹼化的問題。請問：研發出滴灌技術的國家為下列何者？(A)以色列 (B)黎巴嫩 (C)伊拉克 (D)阿拉伯聯合大公國。



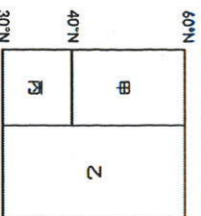
25. 義大利得以發展汽車及大理石等工業，主要是與阿爾卑斯山提供何者優良工業區位條件有關？(A)原料：石油 (B)動力：水力 (C)交通：U型谷 (D)勞工：廉價勞工

26. 南歐的農業以灌溉農業為主，這和下列哪一因素的關係最為密切？(A)土壤過於貧瘠 (B)農業人口流失 (C)生長季適逢乾季 (D)增強作物抗病力

27. 承上題，依照南歐地區氣候判斷，該地的農作物可能為下列何者？(A) 葡萄 (B) 咖啡 (C) 可可 (D) 稻米
28. 南歐有三座半島分別是：【甲】巴爾幹半島、【乙】伊比利半島、【丙】義大利半島。美參加地中海郵輪豪華之旅是從西班牙向希臘出發，經過的半島順序為何？
(A) 甲乙丙 (B) 甲丙乙 (C) 乙甲丙 (D) 乙丙甲



29. 能源問題已成為目前世界經濟發展的隱憂，其中西亞因為石油蘊藏量相當豐富，因此成為世界各國所關注的焦點，一有風吹草動便影響了國際的原油價格。請問：西亞地區以附圖中哪一個海域附近的石油蘊藏量最多？(A) 甲 (B) 乙 (C) 丙 (D) 丁



30. 右圖為歐洲氣候分布簡圖，圖中丙區所代表的氣候為何？
(A) 溫帶地中海型氣候
(B) 溫帶大陸性氣候
(C) 溫帶海洋性氣候
(D) 高地氣候。

31. 南歐因冬季較歐洲其他地區溫暖，吸引其他歐洲人民前往遊憩，觀光業發達。請問：該區冬溫較高的主要原因為何？
(A) 緯度 (B) 地形 (C) 洋流 (D) 距海遠近

32. 古代蘇美人、巴比倫人等曾在兩河流域地區創造輝煌的文明，對後世影響很大。請問：兩河流域的範圍大部分是今日那個國家？(A) 土耳其 (B) 伊拉克 (C) 伊朗 (D) 阿富汗
33. 世界航運要道—「直布羅陀海峽」，控制那兩個海域的交通往來？(A) 紅海、地中海 (B) 黑海、裏海 (C) 地中海、黑海 (D) 大西洋、地中海

34. 伊拉克大舉入侵科威特，引發波斯灣戰爭，探討其背後的原因，應為下列何者？(A) 爭奪石油 (B) 宗教信仰不同 (C) 爭奪水源 (D) 少數民族獨立問題

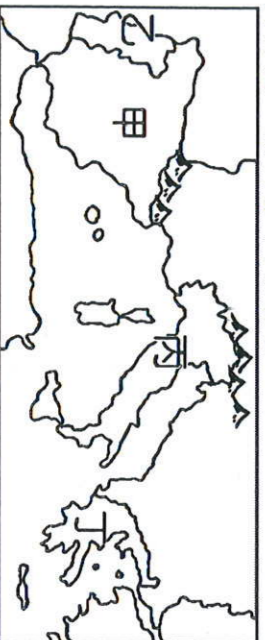
※歐洲位於中緯度溫帶地區，自然環境優越，為西方思想文明的發源地及工業革命的起源。附圖為歐洲某月等溫線分布圖，請回答下列問題：



35. 歐洲的氣溫分布特色對當地的活動及聚落分布影響甚大。請問：影響歐洲氣溫分布的主要因素除了緯度外，尚包括下列何者？(A) 地形 (B) 植被 (C) 洋流 (D) 河川
36. 圖中各點的緯度差異不大，但氣溫差異甚大。請問：圖中戊點的氣溫最可能為下列何者？
(A) 2 °C (B) -4 °C (C) -8 °C (D) -11 °C。

37. 造成北歐海岸附近等溫線往上移動的成因為何？
(A) 西風吹拂 (B) 陸地地勢較高 (C) 北大西洋暖流經過 (D) 河川較多，改變海水溫度

※下圖為南歐簡圖，南歐具有豐富多元的文化，各個國家也別具特色，請回答下列問題：



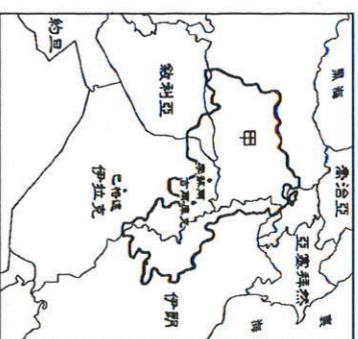
38. 圖中哪個國家擁有許多舉世聞名的古蹟—比薩斜塔、羅馬競技場？(A) 甲 (B) 乙 (C) 丙 (D) 丁

39. 曾經殖民過澳門的國家為？(A) 甲 (B) 乙 (C) 丙 (D) 丁
40. 小雲想親自看看某國家的特色節日—蕃茄節，她應該要到哪個國家？(A) 甲 (B) 乙 (C) 丙 (D) 丁

41. 花蓮的大理石加工廠若欲前往南歐某國家，了解當地大理石工業的發展及展銷方式，應該前往何國考察較適宜？
(A) 甲 (B) 乙 (C) 丙 (D) 丁

42. 某國發行的歐元，硬幣上表現出奧林匹亞運動會對該國的意義。請問：此硬幣最可能由哪個國家所發行的？
(A) 甲 (B) 乙 (C) 丙 (D) 丁

※下圖為西亞國家的簡圖，深色區域為庫德族的分布區，而該民族在 1988 年遭到伊拉克的攻擊後，數萬族人被迫進入圖中甲國避難，請問：



43. 附圖中的甲國應該為下列何者？(A) 伊朗 (B) 以色列 (C) 科威特 (D) 土耳其。

44. 承上題，庫德族在當地生存了許多年，多依水草而居，依此判斷，該民族的主要畜牧方式應是什麼？
(A) 游牧 (B) 欄牧 (C) 酪農業 (D) 放牧。

※「一條河穿過沙漠，無疑是上帝的恩賜，但它帶給大地的綠色太狹窄，人們對它的爭奪超過它能提供的能量，那麼多崗樓的槍眼逼視著幾乎乾涸的河水，僅是一河之渡，卻充滿了緊張……。」請問：

45. 文中所描述的「河」，最可能是西亞的哪條河川？
(A) 錫爾河 (B) 底格里斯河 (C) 約旦河 (D) 印度河
46. 該河川沿岸國家長期紛爭不斷，衝突的原因除了爭奪水資源外，尚包括下列何者？(A) 族群與宗教信仰差異 (B) 親視鄰國的石油資源 (C) 脫離殖民的獨立運動 (D) 喀什米爾的領土爭議

※歐洲多位於中緯度地帶，其氣候類型以溫帶氣候為主。附表有四種溫帶地區的氣候類型特色，請根據表中資料回答下列問題：

氣候類型	氣候特徵	年溫差	雨量分布
甲	夏涼冬暖	小	全年有雨
乙	夏熱冬寒	大	夏雨冬乾
丙	夏熱冬寒	大	終年乾燥
丁	夏熱冬暖	不大	夏乾冬雨

47. 歐洲的氣候類型中，不包括表中的哪一種氣候特色？
(A) 甲 (B) 乙 (C) 丙 (D) 丁。

48. 附圖為歐洲簡圖，圖中丁處的氣候類型應為表中的何種氣候？
(A) 甲 (B) 乙 (C) 丙 (D) 丁。

49. 歐洲境內哪一個地區的海岸主要為峽灣地形，因此形成天然良港，有利於對外海運發展？(A) 西歐 (B) 南歐 (C) 東歐 (D) 北歐

50. 造成歐洲氣候條件優於世界其他洲的原因下列項目中正確的有幾項？【甲】西風吹拂 【乙】暖流經過 【丙】山脈走向對盛行風的阻隔較小 【丁】副熱帶高壓籠罩全境 (A) 1項 (B) 2項 (C) 3項 (D) 4項

