


※選擇題 1-20 題每題 2.5 分 題組 21-45 題每題 2 分

1. 東南亞位於亞洲的東南端，其地理位置正好位於下列哪兩個海洋的必經之地？(A)太平洋、大西洋 (B)太平洋、北極海 (C)太平洋、印度洋 (D)印度洋、大西洋
2. 承上題，下列哪個國家恰好位在此處重要的交通位置，近年來更成為重要的轉口貿易港？(A)印尼 (B)馬來西亞 (C)泰國 (D)新加坡
3. 中南半島緊鄰中國，這兩個區域的主要地形關係為何？(A)地形平坦、缺乏國界 (B)山河分布、一脈相承 (C)高山阻擋、地形隔離 (D)河川分布、形成天然界河
4. 斯里蘭卡位於熱帶氣候區內，而受到經度位置的影響，時間較臺灣晚 3 個小時。請根據上文資料判斷，下列哪一個島嶼最可能是斯里蘭卡？(A)甲 (B)乙 (C)丙 (D)丁。



5. 印度大平原從東到西種植的作物依序為：水稻與黃麻→水稻與小麥或小米輪作→小麥和小米輪作。上述現象的形成與那一因素關係最密切？(A)雨量多寡 (B)距海遠近 (C)氣溫高低 (D)地形起伏
6. 長久以來，東南亞一直是歐美強權的殖民地，也造成了東南亞充滿殖民色彩。請問，下列那一東南亞人文特徵與其殖民歷史較無關連？(A)熱帶栽培業發達 (B)人口密度高 (C)多港埠型都市 (D)宗教和語言多元
7. 下列四區域中，屬於熱帶季風氣候的有幾個區域？【甲】東印度群島【乙】菲律賓群島【丙】馬來半島【丁】中南半島【戊】印度半島 (A) 2 (B) 3 (C) 4 (D) 5
8. 孟買為印度第一大港，人口眾多且工商業發達，自英國殖民時期起，即為物品的進出口港。關於這個印度大都市的敘述，何者錯誤？(A)位於印度半島西側 (B)印度最大電影製片「寶萊塢」所在位置 (C)高科技產業發達有「印度矽谷」的稱號 (D)接近棉花產地，棉紡業發達
9. 中南半島的精華區主要集中在下列何種地形上？(A)高原 (B)三角洲 (C)河川上游 (D)山間盆地
10. 南亞西部有面積廣大的乾區域，境內更有塔爾沙漠。請問，造成此區域乾燥的主因為何？(A)副熱帶高壓籠罩 (B)緯度太高 (C)距海遙遠 (D)地勢低窪
11. 東南亞近赤道地區一年之中每天的天氣預報幾乎都是：「上午晴，下午雨，之後再晴。」請問：上述所稱的「雨」，其降雨類型應為下列何者？

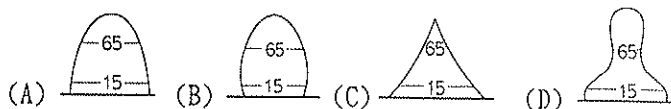


12. 錫蘭紅茶、阿薩姆紅茶為世界知名的茶品，此兩種紅茶的產地皆位於南亞。請問，南亞茶葉生產區的地理環境為何？(A)恆河、印度河上游區域 (B)背風坡的德干高原 (C)乾燥的塔爾沙漠 (D)南亞東部濕熱多雨的丘陵區
13. 南海主權爭議始終未有定案，最近海域緊張升高！南海周圍的國家都宣稱擁有主權。請問：宣稱擁有主權的國家應

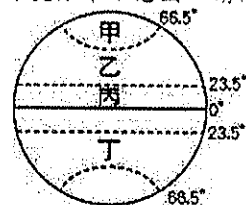
- 不包括下列哪一國？(A)寮國(B)越南 (C)中國(D)菲律賓
14. 下列關於東南亞熱帶栽培業的敘述，何者錯誤？(A)利用當地濕熱的氣候 (B)種植的作物以經濟作物為主 (C)殖民母國刻意加強港口建設易形成港埠型都市 (D)價格穩定，不易受市場影響
  15. 東南亞經濟發展的主要產業活動中，不包括下列何者？(A)採礦業 (B)酪農業 (C)稻作農業 (D)熱帶栽培業
  16. 大雄一家人想到印度旅遊，不知道何時去比較適合，以下是朋友們給的意見，何者正確？(A)小夫：12月去最好，因為天氣涼爽 (B)胖虎：要5月去，因為是春天，氣候溫和 (C)靜香：1月最好不要去，印度氣候很寒冷 (D)小叮嚀：3~5月是雨季不要去
  17. 承上題，南亞涼季的形成原因與下列那一地區的氣候特徵的成因類似？(A)台灣夏季西北雨 (B)宜蘭冬雨 (C)日本西岸冬季降雪 (D)四川盆地冬季溫暖
  18. 印度半島和臺灣一樣都有北回歸線經過，但臺灣冬季較為寒冷，而印度半島冬季卻較溫暖。請問：造成印度半島這種氣候現象的主要因素為何？(A)陸塊面積廣大 (B)沿海暖流調節 (C)北有高山屏障 (D)人口數量較多
  19. 許多伊斯蘭教國家把穆罕默德的生日訂為國定假日，全國均放假一天。而下列哪個國家在當天仍須正常上班？(A)泰國 (B)印尼 (C)馬來西亞 (D)汶萊
  20. 峇里島是印尼著名的旅遊勝地，附圖中舞者所表演的是當地著名的峇龍舞。請問：峇里島主要受哪個文化影響而深具特色？(A)佛教文化 (B)天主教文化 (C)伊斯蘭教文化 (D)印度教文化。



- ※新聞報導：「在印度孟買的市區，每戶動輒 430 萬盧比(約新臺幣 306 萬元)的豪宅區附近，就是貧民窟，許多居民來自鄉村，而有一半以上的貧民窟居民，住在連廁所都沒有的簡陋小屋中。」
21. 由上述新聞報導的資料可得知，印度正面臨下列何種社會問題？(A)貧富差距大 (B)都市數量少 (C)種姓階級消失 (D)生產技術落後。
  22. 印度社會雖有上述隱憂，但其人口數量高居世界第二，未來的勞力人口充足，故被喻為「金磚四國」之一。其現今的人口金字塔應為下列何者？

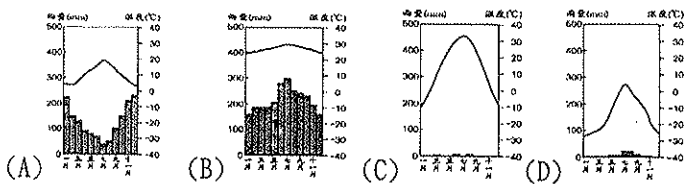


※附圖為全球重要緯度分布示意圖。請問：

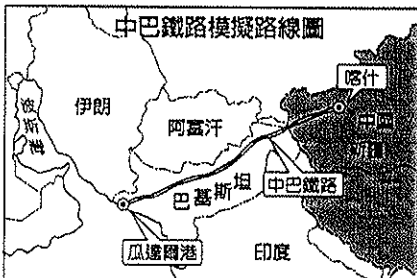


23. 依位置判斷，東南亞大部分地區應該位在圖中哪個地區？(A)甲 (B)乙 (C)丙 (D)丁。
24. 承上題，在這樣的緯度位置影響之下，當地人的房屋多闢建為以下何種形式？(A) (B) (C) (D)
25. 若依東南亞所在緯度判斷，下列哪張氣候圖比較可能出現在東南亞？



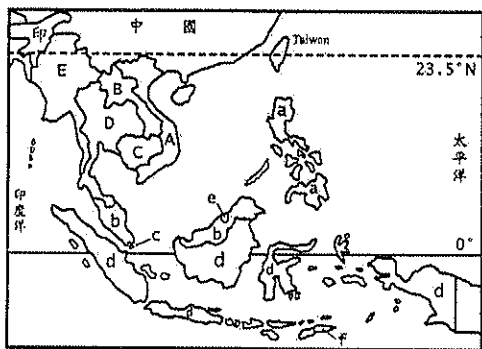


※近年來中國計畫在西部邊疆打通一條新的絲綢之路(如下圖),興建中國和巴基斯坦之間的跨國鐵路網。中國希望藉由這個計畫讓巴基斯坦成為中國進口重要資源的轉運站。請問:



26. 附圖中巴鐵路的規畫路線,沿途及起始點都市的主要宗教信仰特色為何? (A)星期日需進教堂禱告 (B)居民禁食牛肉 (C)宗教經典為社會戒律 (D)社會階級分明。
27. 這條中巴鐵路所經過的地區主要生產何種經濟作物? (A)黃麻 (B)茶葉 (C)咖啡 (D)棉花。

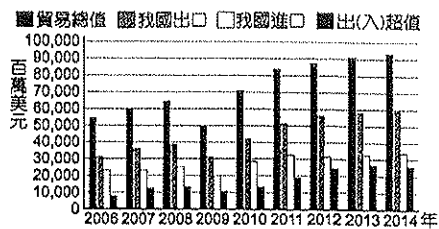
※下圖為東南亞國家簡圖,依據下圖代碼回答問題:



28. 全世界穆斯林人數最多的國家為下列何國? (A)a (B)b (C)d (D)e
29. 某國可以說是呈現東西交融的成果。因地緣關係受中華文化影響相當明顯,近年來更因與中國在南海的糾紛,危及台商在該國的安全。此國為? (A)A (B)B (C)D (D)E
30. 世界文化遺產-吳哥窟所在的國家為? (A)A (B)B (C)C (D)D
31. 某國被稱為「微笑國度」,是虔誠的小乘佛教國家,甚至當地速食店的麥當勞叔叔都出現右圖的姿勢。丙國為? (A)A (B)D (C)b (D)d
32. a國受到西班牙殖民的影響,主要信奉的宗教為何? (A)伊斯蘭教 (B)佛教 (C)天主教 (D)印度教
33. 著名的樂高積木樂園即將在東南亞開幕,屆時b國著名的地標,如雙子星大樓等皆會被做成維妙維肖的積木展示。上述的丁國應為下列何者? (A)泰國 (B)印尼 (C)馬來西亞 (D)新加坡

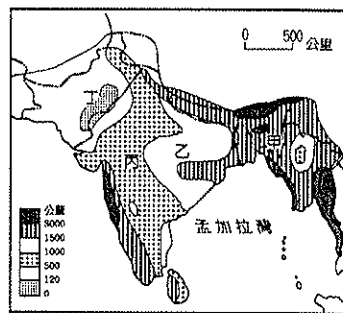


※隨著交通革新的發展,國際分工越趨頻繁,因此世界各國紛紛尋求不同的國家進行合作,增加自己的競爭力。近數十年來臺灣在面臨產業轉型的過程中,和東南亞國家之間的關係越趨密切,直接反映在彼此之間的貿易額上。附圖為臺灣與東南亞國家雙邊貿易的情況,請問:



34. 從附圖可知進口金額持續成長,若以東南亞的產業發展來看,我國出口至東南亞的主要商品,應該不包括下列何者? (A)鋼鐵製品 (B)農產品 (C)醫療化學品 (D)電子產品。
35. 東南亞國家近年來經濟發展快速,內需市場快速擴張,這使我國出口東南亞的商品出現變化,轉為以提供當地市場消費為主。請問:若我國想要加強與東南亞國家的合作,可加強與哪一區域組織的貿易談判?(A)世界衛生組織(B)東南亞國協(D)世界貿易組織(D)聯合國。
36. 根據上文,臺灣商人前往東南亞設廠投資,提升企業競爭力,主要是受到哪一工業區位的吸引? (A)資金 (B)勞力 (C)技術 (D)土地

※下圖為南亞地區的降雨量分布圖,請根據圖中資訊與代號回答下列問題:



37. 甲區為南亞雨量最多的地方,最可能的原因為何? (A)地形、緯度 (B)風向、地形 (C)洋流、地形 (D)風向、緯度
38. 丙區位於德干高原背風側,盛產何種作物? (A)棉花 (B)水稻 (C)黃麻 (D)甘蔗
39. 承上題,丙區的農業經營方式與主要栽種的作物與下列何地「相同」? (A)關東平原 (B)中國新疆 (C)朝鮮半島 (D)東印度群島
40. 造成丙區乾燥及甲區濕潤的季風,為何種方向的風? (A)東北 (B)東南 (C)西北 (D)西南
41. 丁區的沙漠,為印度與何國的交界? (A)孟加拉 (B)不丹 (C)巴基斯坦 (D)尼泊爾

※附圖為南亞國家示意圖。請將圖上各國的代號填入正確敘述句中。



42. 為珊瑚礁島,旅遊業與漁業為其經濟重心。 (A)甲 (B)乙 (C)戊 (D)己
43. 印度教為國教,種姓制度充斥社會各層面。 (A)甲 (B)乙 (C)丙 (D)丁
44. 位於恆河出海處,地勢低窪,夏季水患嚴重。 (A)丙 (B)丁 (C)戊 (D)己
45. 舊稱錫蘭,紅茶為其特產。(A)甲 (B)丁 (C)戊 (D)己