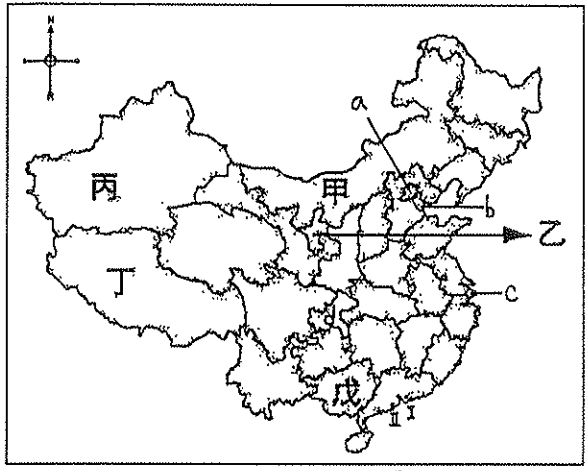
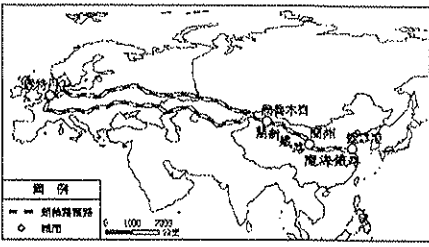
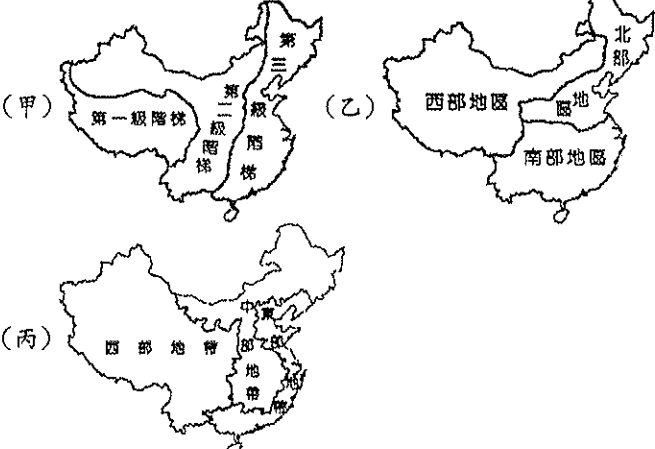


一、題組 (每格 2.5 分, 共 60 分)

*請根據右方中國行政區圖, 回答下列問題(甲-戊; a-d; I-II 分別代表一種省級行政區):



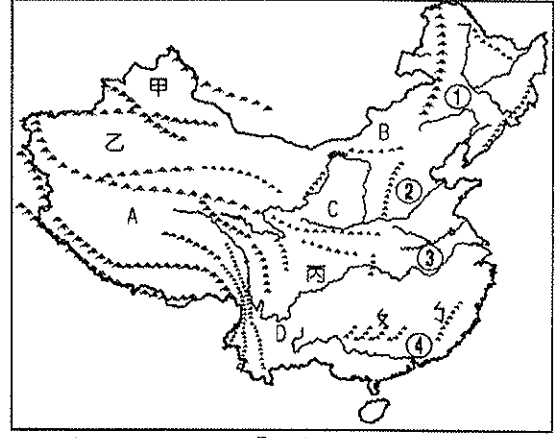
- 著名速食店中的蛋塔曾經風靡全臺。「II區」也有這種特色蛋塔, 是因該地長期受到下列哪一個國家統治的影響? (A) 日本 (B) 韓國 (C) 西班牙 (D) 葡萄牙
 - 西元 2008 年中國在首都舉辦奧運後, 留下如「鳥巢」、「水立方」等特殊造型的建築物, 如欲參觀這些建築, 應前往圖中的哪一城市? (A) a (B) b (C) c (D) d
 - 中國的面積相當廣大, 其中哪一個行政區正好位於歐亞大陸的中心點, 為中國最大行政區, 地位相當重要, 也是早期絲路必經的地區? (A) 甲 (B) 乙 (C) 丙 (D) 丁
 - 中國境內, 哪一個自治區因位於嶺南丘陵, 居民多以梯田方式從事農業活動, 梯田規模磅礴壯觀, 被譽為「世界梯田之冠」? (A) 乙 (B) 丙 (C) 丁 (D) 戊
 - 中國神舟一號太空火箭在空中飛行 21 小時後, 打算找一個遼闊平坦, 荒蕪人煙的地點降落。請問: 太空船選擇降落的地點最可以是圖上的何處? (A) 甲 (B) 戊 (C) C (D) I
- *中國依區域特性差異可分為不同的地理區, 其畫分方式如附圖所示。請由圖中資料回答下列問題:




- 以經濟發展的條件來看, 「丙圖」中, 中國三大經濟帶的發展程度由高到低排列依序為何? (A) 西部、中部、東部 (B) 東部、中部、西部 (C) (D) 中部、東部、西部
- 下列哪個省級行政區位於「甲圖」中的第一級階梯區? (A) 西藏自治區 (B) 天津市 (C) 重慶市 (D) 新疆維吾爾自治區
- 中國三大區域中, 哪個區域擁有省、直轄市、自治區與特別行政區等四種省級行政區? (A) 北部區域 (B) 南部區域 (C) 西部區域 (D) 三大區域皆有
- 由圖判斷, 北部、南部兩區的主要地理界線為下列何者? (A) 大興安嶺 (B) 太行山 (C) 長江 (D) 秦嶺

*附圖為中國新絲路鐵路路線圖, 為區域間重要的交通要道, 利於中國與其他國家進行貿易往來, 帶動區域的發展。

- 由圖中路線判斷, 將有利於哪兩洲的經濟活動? (A) 亞洲、非洲 (B) 亞洲、大洋洲 (C) 亞洲、美洲 (D) 亞洲、歐洲
 - 中國歷史上發展出「陸上絲路」和「海上絲路」, 可通往世界其他國家進行貿易。這和中國位置的何種特性有關? (A) 面海背陸 (B) 橫跨經度大 (C) 鄰國眾多 (D) 主要位於中緯度帶
- *小鐵參加「超級大富翁」電視節目比賽, 此次比賽題目內容皆來自右方「中國地形分布圖」(甲-丙; ㄅ-ㄨ; ①-④; A-D 分別代表一種地形):



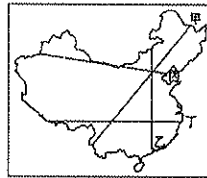
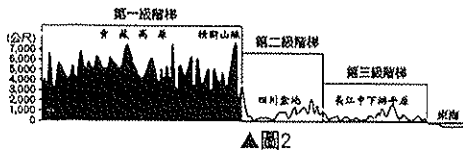
- 第一關: 中國境內某地區「形勢封閉, 終年溼氣重; 河川匯流, 灌溉充足, 加以氣候溫和, 因此農產種類繁多、產量豐富, 有『天府之國』的美名。由於中醫認為麻辣有驅風除溼之效, 當地因而發展出善用麻辣、菜色豐富的飲食文化。」上文所述為圖中何地? (A) 甲 (B) 乙 (C) 丙 (D) D
- 第二關: 中國境內各地的地形大不相同, 圖中ㄅ、ㄨ處的地形主要為下列何者?



- 第三關: 跟著小說《西遊記》的腳步, 探訪了中國某一地理區, 右圖為該地理區的地形剖面圖。根據圖中資料判斷, 應是到達何處? (A) 甲 (B) 乙 (C) 丙 (D) ㄅ
- 第四關: 黃河上游原為清澈的河水, 在中游流經哪一區後, 成了「一碗水, 半碗泥」的混濁水質? (A) A (B) B (C) C (D) D

- 小鐵闖至第五關, 此為「保險線」題, 若答對, 不論接下來是否答對, 將保證前五題所累積的 20 萬獎金一定得到, 小鐵為求正確, 選擇使用「call out」, 他應打給住何處的親友, 因當地經濟最為發達, 最可能有家用電話、有線電視及可供搜尋之網際網路? (A) A (B) ③ (C) 甲 (D) 乙
- 第五關: 至 D 區, 將能體會到唐代文學家韓愈筆下「水作青羅帶, 山如碧玉簪」石灰岩地形的真實意境, 而其形成原因為下列何者? (A) 風蝕作用 (B) 冰蝕作用 (C) 溶蝕作用 (D) 河積作用
- 小鐵一路過關斬將, 但於第十關時功虧一簣未能成為真正的超級大富翁, 讓小鐵失敗的題目為: 此區是全國最大的平原。然而氣候稍嫌寒冷, 生長季較短, 加上人口不多, 因此農夫多使用機械化的方式耕田。請問: 此區可能在何處? 若答對, 你或許也能成為下一任超級大富翁! (A) ① (B) ② (C) ③ (D) ④

*附圖2為中國地勢三級階梯的剖面圖，請由圖中資料回答下列問題：



▲圖1

19. 圖2中國地勢三級階梯的剖面圖，是依圖1中甲~丁哪條剖面繪製而成？(A)甲(B)乙(C)丙(D)丁

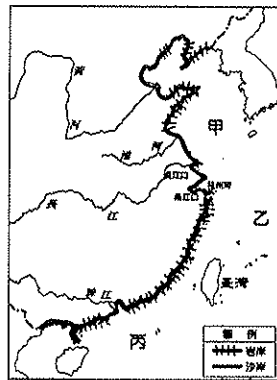
20. 中國第三級階梯的山脈以何種走向為主？

(A) (B) (C) (D)

21. 承上題，這些山脈的形成主要受歐亞板塊和下列哪一板塊之間推擠的影響最大？(A)印澳板塊(B)太平洋板塊(C)北美板塊(D)非洲板塊

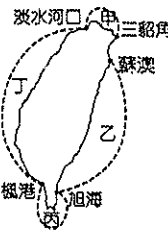
22. 中國第二級階梯主要是由哪兩種地形構成？(A)平原、丘陵(B)高原、臺地(C)盆地、高原(D)山地、高原

*中國的海岸線綿長，島嶼眾多。下圖是中國沙岸和岩岸分布圖，甲、乙、丙為三大線海。請依圖回答下列問題：



23. 美國專家透過最新衛星照片指出：中國正在某個線海興建第3條可供軍機起降的跑道，到時中國將有能力威脅該線海附近的國家，將會更深入東南亞海運的心臟地帶，影響到越南及菲律賓的經濟海域。試問該線海應該是指何者？(A)甲(B)乙(C)丙。

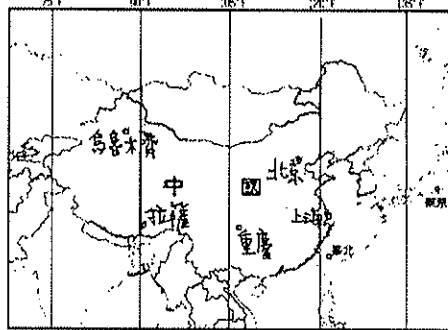
24. 「來自上海的中國觀光客到臺灣環島遊覽，他們發現臺灣部分海岸類型和長江中下游平原的海岸極為相似。」上文上海觀光客所描述的海岸最可能是右圖中的哪個區域？(A)甲(B)乙(C)丙(D)丁



二、單題 (每格 2.5 分, 共 40 分)

25. 青藏高原上湖泊遍布，又被稱為湖泊高原，藏語稱湖泊為「錯」，如位於藏北高原的「納木錯」為全世界最高的鹹水湖。請問：這些湖泊的成因多可能為何？(A)風力侵蝕(B)斷層陷落(C)河流侵蝕(D)海水侵蝕

26. 2012年，阿德在上海迎接新的一年曙光時，利用即時通訊和遠在拉薩的小蓋聊天。依附圖判斷，阿德會告訴小蓋大約再幾個小時後，她就可以見到太陽升起？



(A) 1小時(B) 2小時(C) 3小時(D) 6小時

27. 隨著經濟上的勢力不斷擴張，中國對亞太區域各方面的影響力亦逐漸增強。請問：下列哪一個國家若發生戰亂問題，最可能使中國將陸軍遷移至與該國接壤最近的軍事駐地，以備不時之需？(A)日本(B)北韓(C)菲律賓(D)印尼

28. 晴郎在旅遊筆記中寫到：「此處多鹽湖，蒙古語有『鹽澤』之意，乘小火車經過萬丈鹽橋，而此橋實際上是一條在鹽湖上全部用鹽鋪設的公路，全長32公里。」由上文描述判斷，晴郎應是到下列哪一個地點旅行？(A)四川盆地(B)東北平原(C)珠江三角洲(D)柴達木盆地

29. 中國的人文活動發展和各地的氣候條件有關。請問：中國的氣候優良和下列哪一項地理位置有關？(A)位居中緯度(B)位於東半球(C)距太平洋近(D)位於北半球

30. 右表為世界國土面積前五大的國家相關資料，依表中資料判斷，哪一個國家最有可能是中國？

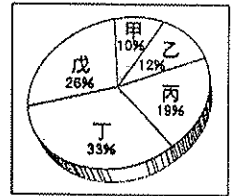
| 國家 | 甲 | 乙 | 丙 | 丁 | 己 |
|-----------------------------|-------|------|-------|-----|------|
| 土地面積 (萬 km ²) | 1,707 | 963 | 960 | 998 | 846 |
| 人口密度 (人 / km ²) | 8.1 | 31.6 | 138.5 | 3.3 | 23.6 |

(A)甲(B)乙(C)丙(D)丁

31. 中國設立了兩個特別行政區，主要是鑑於這兩個地區的哪些特性和中國內部出現差異，因此設立省級單位加以治理？(A)由少數民族組成(B)特殊的地形景觀(C)特殊的生活形態與經濟制度(D)悠久的歷史文化

32. 服雄的祖父由臺南返回中國新疆的烏魯木齊老家探親，為了配合當地時間，他的手錶應如何調整？(A)調快2個小時(B)調慢2個小時(C)調慢3小時(D)不用調整

33. 右圖是中國五大地形面積比例圖，依圖中百分比來判斷，「丁和戊」最有可能是哪兩種地形？(A)山地和高原(B)山地和平原(C)盆地和高原(D)丘陵和平原

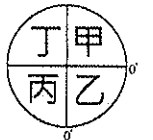


34. 阿仁和仁媽利用暑假前往中國旅遊，下列他們所遊歷的地區中，何者的行政區層級較其他三者低？(A)武漢(B)西藏(C)香港(D)上海

35. 中國的行政區眾多，位於東部的行政區大多面積較小，而位於西部則面積廣大，造成此現象的原因是什麼？(A)氣候差異(B)地形起伏(C)人口密度(D)政治政策

36. 筱筠撰寫一篇有關中國某區域文化特色的報告，部分內容寫道：「該地交通運輸主要靠陸路，不僅絕對高度可達3,000公尺，道路起伏也大。其中還有許多的『單邊路』，一邊緊貼著直插雲天的懸崖峭壁，另一邊瀕臨刀劈斧削般的深澗。這樣的條件下，要長途運送必須依賴馬匹，故有獨特的『馬幫文化』。」該報告的主題最可能是下列何者？(A)雲南商隊(B)福建茶商(C)江蘇鹽商(D)蒙古駝運

37. Google網站上有提供呈現世界各地的衛星影像，給大眾使用。若我們在該網站上想尋找中國的地理位置，應於右圖何處地區搜尋？



(A)甲(B)乙(C)丙(D)丁

38. 下列關於中國地形特徵的敘述，何者正確？

(A)由東向西呈階梯狀下降(B)地勢有利海洋水氣由東向西深入內陸(C)以平原為主體(D)配合河川流向，興建東西向的運河

39. 京杭大運河為中國東部主要的人工運河，對各地之間的貨物運送幫助極大。請問：該運河所連接的河川水系中不包括下列何者？(A)黃河(B)珠江(C)長江(D)海河

40. 下列為四張中國重要山脈與地形區的相對位置圖，其中，何者北方的方位標示應指向圖中右側？

