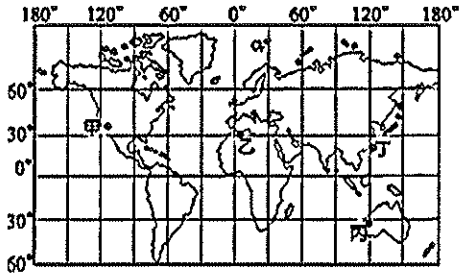


一、選擇：每題2.5分

() 1. 關於地表海陸分布的特色，下列敘述何者「不」正確？ (A)海陸面積比例約為7:3 (B)陸地大多分布於北半球 (C)陸半球的陸地面積大於海洋面積 (D)太平洋的面積是三大海洋中最大。

() 2. 地球上的氣候類型依其緯度的位置不同而分為熱帶、溫帶、寒帶氣候。其分界線主要為下列哪些？ (A)本初經線、赤道 (B)赤道、回歸線 (C)本初經線、極圈 (D)回歸線、極圈。

() 3. 各地的氣候特色受到地理位置的影響甚大，附圖為世界各地主要的都市位置所在，其中哪一個都市在7月分時的月均溫最低，為當地的冬季？ (A)甲 (B)乙 (C)丙 (D)丁。



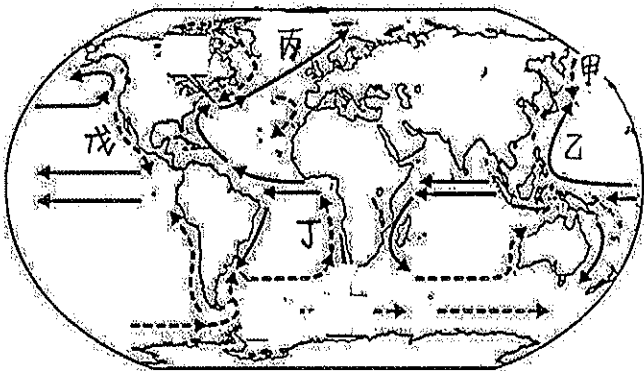
() 4. 麥當勞漢堡店準備在全球推出豬肉滿福堡，在下列哪一個地區最可能會因居民信仰習慣影響而銷售不佳？ (A)東亞 (B)西亞 (C)北美 (D)中南美

() 5. 季風氣候，其成因主要與下列哪一項因素最有關係？ (A)洋流的性質 (B)緯度的高低 (C)地勢的高低 (D)大範圍的海陸性質差異

() 6. 世界人口分布較稠密的地區為何？ (甲)季風亞洲 (乙)北歐以外的歐洲 (丙)熱帶雨林區 (丁)北美洲東部 (A)甲乙丙 (B)甲乙丁 (C)甲丙丁 (D)乙丙丁

二、題組：每題2.5分

(一) 附圖為海陸分布與洋流簡圖。請問：



() 7. 「黑潮」位於圖中哪一個洋流？ (A)甲 (B)乙 (C)丙 (D)丁。

() 8. 「涼流」是由中緯度海域流向低緯度熱帶海域的洋流。圖中何者是涼流？ (A)甲 (B)乙 (C)丙 (D)丁。

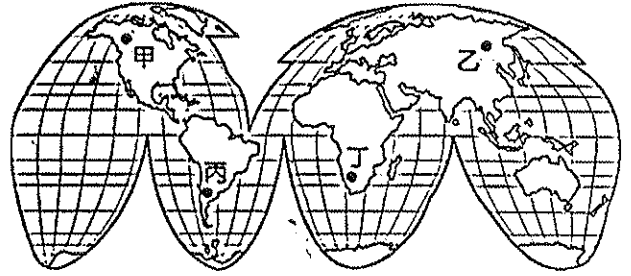
() 9. 圖中甲~戊共有幾個洋流屬於暖流？ (A)2 (B)3 (C)4 (D)5。

() 10. 挪威位於高緯度北歐地區，港口冬天不結冰的原因是，哪一個洋流流經過？ (A)乙 (B)丙 (C)丁 (D)戊。

() 11. 承上題，該洋流的名稱是什麼？ (A)墨西哥灣流 (B)北太平洋洋流 (C)北大西洋洋流 (D)拉布拉多洋流。

() 12. 下列選項中洋流屬性相同者為何？ (A)乙丙 (B)乙丁 (C)丙丁 (D)甲戊。

(三) 知名航海家娜美在偉大的航道探險，尋找各種傳說中的寶藏，她征戰過五大洲、三大洋，因此對世界各地的環境瞭如指掌。附圖為世界簡圖，請問：



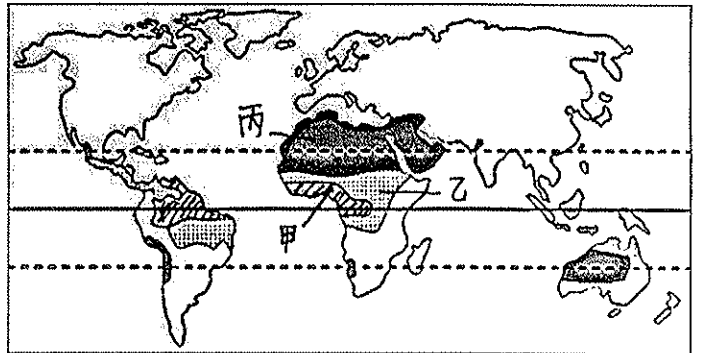
() 13. 娜美一開始從附圖中的乙地出發，一路向正東方直行前往藏寶圖中的大陸。她所經過的海域及到達的陸地應為何？ (A)太平洋、歐洲 (B)太平洋、北美洲 (C)大西洋、歐洲 (D)大西洋、非洲。

() 14. 娜美在某日的航海日誌中記載：「航行到甲地船突然失去動力，只能順著洋流向北航行。」依內容判斷，此洋流為何？ (A)北大西洋洋流 (B)北太平洋洋流 (C)阿拉斯加洋流 (D)加利福尼亞洋流。

() 15. 魯夫一行人航行到丙大陸時，看到全世界最長的山脈是哪一座？ (A)喜馬拉雅山 (B)阿爾卑斯山 (C)洛磯山脈 (D)安地斯山脈

() 16. 魯夫在航行的途中，他觀察到：(甲)北極因紐特人利用狗拉雪橇 (乙)印尼的人住高架屋 (丙)印度的人多不吃牛肉 (丁)臺灣的房屋一樓有騎樓設計。哪一現象與自然環境較「不」相關？ (A)甲 (B)乙 (C)丙 (D)丁。

(六) 附圖中甲乙丙分屬不同的氣候區。請問：



() 17. 圖中丙區氣候形成主要是受哪一種因素影響？ (A)位於赤道無風帶 (B)東北信風吹拂 (C)盛行西風吹拂 (D)副熱帶高氣壓籠罩。

() 18. 「此地雨量稀少且集中於夏季，乾溼季明顯，林木稀少，以高大的草類為主。」圖中哪一區符合以上敘述？ (A)甲 (B)乙 (C)丙

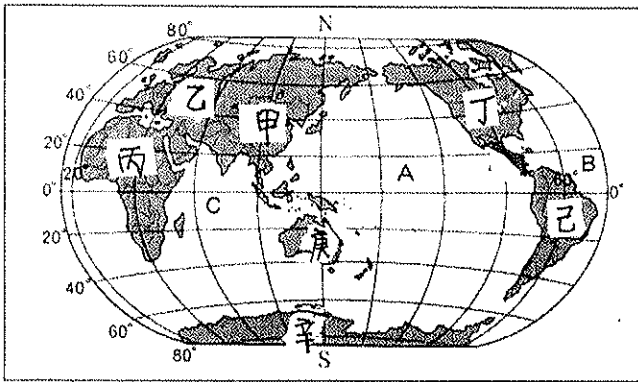
() 19. 圖中的甲地區人口密度相當低，人口數量也不多。影響該地區人口分布特色的最主要因素為何？ (A)治安不佳 (B)地形崎嶇 (C)乾燥少雨 (D)氣候溼熱。

() 20. 承上題，該地區的氣候特徵為何？ (甲)終年高溫 (乙)終年多雨 (丙)夏雨冬乾 (丁)生物多樣化 (戊)動物作季節性遷徙。 (A)甲乙丁 (B)甲丙丁 (C)甲乙戊 (D)丙丁戊。

() 21. 由甲到丙氣候區降雨分布有何特色？ (A)終年少雨 (B)終年多雨 (C)由多到少 (D)由少到多

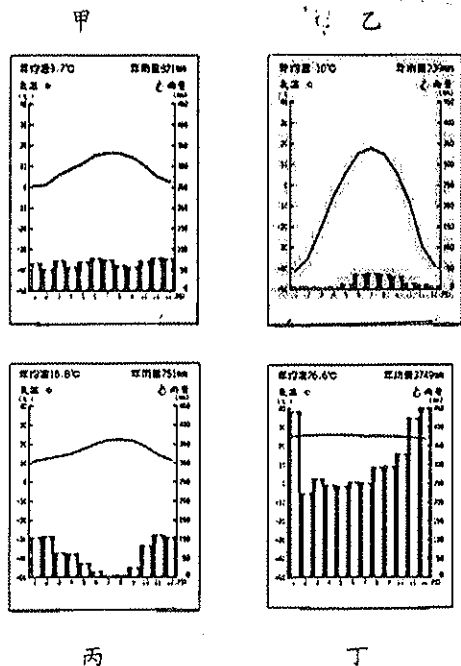
() 22. 圖中三種氣候區氣候特徵中有何共同特色？ (A)都有副熱帶高氣壓籠罩 (B)植被稀少 (C)降雨豐富 (D)終年高溫

(四) 附圖為世界海陸分布簡圖，其中甲~辛為各大洲，A~C為三大洋。請問：



- () 23. 各大洲中，哪一洲的面積最大？ (A) 甲 (B) 丙 (C) 丁 (D) 辛。
- () 24. 水半球中心在紐西蘭，該國位於哪一大洋？ (A) A (B) B (C) C
- () 25. 陸半球中心在法國，該國位於哪一洲？ (A) 甲 (B) 乙 (C) 丁 (D) 庚。
- () 26. 第一批從歐洲移居到美洲的移民，須乘船橫渡哪一個大洋？ (A) A (B) B (C) C。
- () 27. 人口成長速度最快是分布在哪兩洲？ (A) 甲丙 (B) 乙丙 (C) 丁己 (D) 乙己。
- () 28. 撒哈拉沙漠位於哪一洲？ (A) 甲 (B) 乙 (C) 丙 (D) 己。
- () 29. 濱臨印度洋的陸地有哪些洲？ (A) 甲庚丁己 (B) 乙丙丁己 (C) 丙庚己辛 (D) 甲丙辛庚。
- () 30. 哪一洲擁有世界上最高的山脈？ (A) 甲 (B) 丙 (C) 丁 (D) 己。
- () 31. 承上題，該山脈成因為何？ (A) 外營力，河川堆積 (B) 外營力，板塊擠壓 (C) 內營力，河川堆積 (D) 內營力，板塊擠壓
- () 32. 辛區僅有少數的科學研究人員進駐於此。其最主要的原因為何？ (A) 面積廣大 (B) 地勢高峻 (C) 氣候嚴寒 (D) 水源稀少。

(七) 下列為世界氣候圖，請回答 35~40 題：



- () 34. 下列哪些為年溫差極大的氣候類型？ (A) 甲 (B) 乙 (C) 丙 (D) 丁
- () 35. 哪些氣候的降水呈現夏乾冬雨的特性？ (A) 甲 (B) 乙 (C) 丙 (D) 丁
- () 36. 乙圖氣候類型的降雨主要受那些因素影響 (a) 西風 (b) 東北信風 (c) 暖流 (d) 涼流 (A) ac (B) ad (C) bc (D) bd
- (五) 目前世界上主要有基督宗教、伊斯蘭教、印度教和佛教等四大宗教。請問：
- () 37. 基督宗教主要分布在下列哪些洲？ (A) 歐洲、亞洲 (B) 歐洲、美洲 (C) 亞洲、澳洲 (D) 非洲、歐洲。
- () 38. 亞洲面積廣大，東亞主要信奉的宗教為下列何者？ (A) 伊斯蘭教 (B) 基督宗教 (C) 佛教 (D) 印度教。
- () 39. 伊斯蘭教的清真寺，主要分布地區中『不』包括下列何者？ (A) 西亞 (B) 東南亞 (C) 北非 (D) 澳洲。
- () 40. 在某國可看到牛隻漫步在街道上，人車會禮讓牛通過，與當地的宗教信仰有關。該國多數信奉的宗教為何？ (A) 印度教 (B) 基督宗教 (C) 佛教 (D) 伊斯蘭教。

- () 33. 下列哪些為終年有雨的氣候類型？ (A) 甲乙 (B) 乙丙 (C) 丙丁 (D) 甲丁