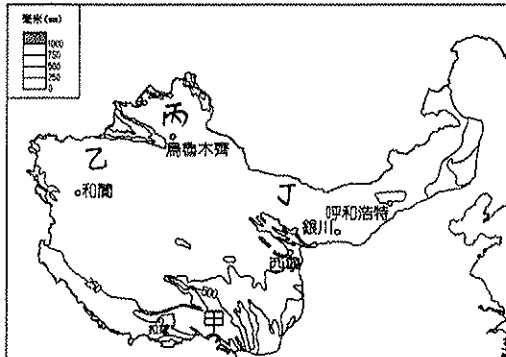


一、單題 (全卷皆為單選題，每題 2 分)

1. 中國西部地區受到自然環境影響，多以哪一種傳統生活方式為主？(A)農耕(B)捕魚(C)畜牧(D)採礦
2. 邊疆民族居住的西部地區氣候較為乾燥，和哪一項因素的關係較大？(A)距海遙遠(B)洋流經過(C)日照強烈(D)地處高緯
3. 青藏鐵路穿越3個自然保護區，請問在可可西里保護區中，曾因毛皮保暖而遭大量獵殺的動物為何？(A)犛牛(B)駱駝(C)喀什米爾羊(D)藏羚羊
4. 新疆瓜果香甜的主要原因為？(A)雨量充沛(B)日溫差大 (C)基因改造 (D)汙染較少
5. 附圖為中國西部地區的年雨量分布圖，圖中甲地的年雨量較多，最主要的來源為何？



- (A)太平洋西南季風 (B)太平洋東南季風 (C)印度洋西南季風 (D)印度洋東南季風。
6. 見上圖，何處夏季氣溫較低？(A)甲(B)乙(C)丙(D)丁
7. 「因為溫室效應增強，喜馬拉雅山的融雪短期內可能會引起『周圍國家』的河流氾濫，造成水災。」請問：中國哪一個地理區所受到的影響最為直接？(A)準噶爾盆地(B)藏南縱谷(C)雲貴高原(D)塔里木盆地
8. 承翰若要前往中國草原氣候區觀賞一望無際的牧場，應該前往下列哪一個地點？

地點	年雨量 (mm)	一月月均溫 (°C)
A	1,460	15.2
B	874	3.7
C	683	-4.7
D	354	-8.1

9. 下列為四張中國重要山脈與地形區的相對位置圖，其中，何者北方的方位標示應指向圖中右側？
 - (A) 黃土高原 華北平原
 - (B) 四川盆地 長江中下游平原
 - (C) 塔里木盆地 準噶爾盆地
 - (D) 內蒙古高原 東北平原

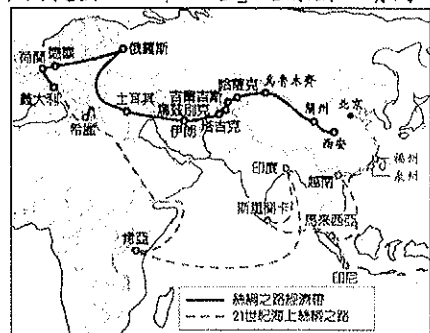
10. 由於地理環境不同，中國各地傳統的居住方式有異，下列哪一種民居方式最能適應游牧的生活？(A)高腳屋(B)窯洞 (C)蒙古包 (D)土樓
11. 若要前往中國西北遊玩，最不會看到何種景觀？(A)語涵：我們會騎著傳統交通工具駱駝前往(B)昱鈞：景觀由西到東是從草原變成沙漠(C)岑五：坎兒井灌溉的哈密瓜非常香甜(D)翔證：經濟特區喀什貿易往來頻繁
12. 塔里木盆地由死亡之海變希望之海是因為何種產業開發？(A)農業漸盛(B)旅遊收入(C)開發石油(D)棉花紡織
13. 河西走廊的綠洲農業，分布的地區多為何種地形？(A)三角洲(B)沖積扇(C)湖泊沿岸(D)盆地中央
14. 清末林則徐曾被派往新疆，他曾記下見到的設施：「沿途

多土坑，……能引水橫流者，由南而北，漸引漸高，水從土中穿穴而行，……。」文中是指下列哪一水利設施？(A)渠道(B)水庫(C)坎兒井(D)河堤。

15. 中國青藏地區的拉薩位於海拔 3,650 公尺處，被稱為「日光城」，此名稱由來與下列何者有關？(A)佛教聖地(B)空氣稀薄 (C)殖民影響 (D)降雨量多。
16. 藏南縱谷的谷底氣候較為溼熱。請問：根據當地的環境特色判斷，該地區主要生產下列哪一項作物？(A)棉花(B)玉米(C)稻米 (D)青稞。
17. 2017 年中國與印度在兩國邊界的洞朗地區爆發爭議，雙方迅速陳兵邊境，局勢一觸即發。請問：中國與印度以何者作為天然國界？(A)雅魯藏布江 (B)岡底斯山 (C)阿爾泰山 (D)喜馬拉雅山。
18. 西套平原成為寧夏回族自治區的精華地帶，和當地的哪一種特色關係最大？(A)採礦 (B)水利 (C)交通 (D)觀光。
19. 日本境內的工業發展因為下列哪一項條件的影響，故工業區的設立多具有節省交通運費支出的考量？(A)氣候溫暖多變，農林漁業發達 (B)缺乏礦產資源，出口貿易發達 (C)沖積平原土地肥沃，人口稠密 (D)河短流急，上游利於水力發電。
20. 下列哪項不是日本漁業發達的原因？(A)漁產汙染少 (B)四面環海 (C)寒暖流交會 (D)飲食習慣。
21. 中國鄭州和東京緯度相當，但年溫差比東京大，其影響因素主要為？(A)地形起伏 (B)海陸位置 (C)季風方向 (D)洋流差異
22. 「為花，當為櫻花」請問如果在 5 月 10 日左右前往日本賞櫻，可能是到哪個地區呢？(A)北海道 (B)本州 (C)四國 (D)九州。
23. 下列哪項韓國產品最可能因為韓劇而帶動買氣？(A)日立冷氣 (B)飛利浦刮鬍刀 (C)大同電鍋 (D)三星手機
24. 朝鮮半島的大都市主要分布在西部地區，請問影響此一分布差異的主因為何？(A)地形種類 (B)政策安排 (C)緯度高低 (D)洋流流向。
25. 柴達木盆地有聚寶盆之稱，是形容當地有哪項優勢？(A)畜牧發達(B)森林多(C)礦產豐富(D)商業繁榮。
26. 新疆居民修建坎兒井主要的目的為何？(A)開發礦產 (B)防止水土流失 (C)避免水源蒸發 (D)保持水質純淨

二、題組

(一)附圖為中國提出「一帶一路」路線圖。請問：



27. 依圖中資料判斷，「絲綢之路經濟帶」在中國境內經過的地形區包括下列何者？(A)華北平原 (B)河西走廊 (C)青海湖盆地 (D)藏北高原。
28. 由圖中可知，下列哪一行政區位於中國和歐洲國家之間的必經之地，重要性相當明顯？(A)新疆維吾爾自治區 (B)內蒙古自治區 (C)西藏自治區 (D)廣西壯族自治區
- (二)南韓天然資源不豐富，由政府強力介入扶植大型企業集團的發展，因此成長快速並威脅到日本的經濟地位。請問：
 29. 1960 年代南韓和臺灣同列為亞洲四小龍之一，發展初

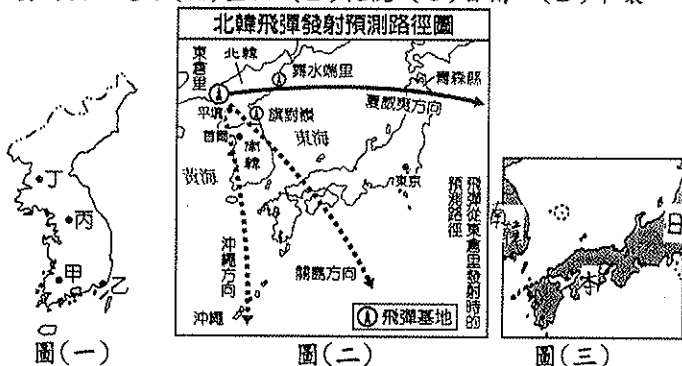
期多以何種類型的產業活動為主？(A)加工出口業
(B)汽車產業 (C)資訊工業 (D)鋼鐵業。

30.附圖為臺灣和南韓的經濟指標比較圖，可以發現兩者差異不大。請問：目前臺灣和南韓在哪一項重點產業的競爭最為激烈？(A)鋼鐵業 (B)汽車業 (C)電子業 (D)金融業



31.隨著南韓國家經濟的發展與轉型，南韓現在重點在於發展何種類型的產業結構為主？(A)勞力密集
(B)原料密集 (C)技術密集 (D)動力密集。

32.目前南韓積極加入區域性經濟組織，加強和周圍國家的合作關係。下列哪一個港口隔著海峽和日本相望，為兩地間重要的出口港？(A)釜山 (B)札幌 (C)首爾 (D)平壤



(三)近年來由於北韓積極發展飛彈、核武技術，再加上不斷試射、放話恐嚇等，對周遭的國家造成嚴重影響。請問：

33.北韓的飛彈主要鎖定南韓重要的政治及經濟都市，其中，南韓的首都位於圖(一)中何處，因此應為飛彈防禦的重點所在？(A)甲 (B)乙 (C)丙 (D)丁。

34.生活方式的差異為南北韓歧見的主要來源，附表為南、北韓的比較，其中何者正確？

	(A)農業	(B)工業	(C)制度	(D)產業
北韓	年可一獲	重工業為主	共產制度	大財團為主
南韓	年可二獲	軍火工業	社會主義	國營企業盛

35.圖(二)為北韓飛彈發射預測路徑圖，除了南韓外，下列哪一國家正好位在其飛彈路徑上，受到的威脅最大？

(A)臺灣 (B)菲律賓 (C)日本 (D)俄羅斯。

36.南北韓停戰線大致與哪條緯線相符？(A)23.5° N
(B)38° N (C)38° S (D)66.5° S。

(四)日本和南韓同為東北亞的工業大國，兩國卻因為島嶼(附圖三中圈選地區)的主權出現紛爭。請問：

37. 2012年8月，南韓總統曾登上該島嶼宣示主權，引起日本方面強烈的抗議。依時間判斷，當時該地區盛行的風向為何？(A)東北風(B)西北風(C)東南風(D)西南風

38.在南韓總統登島事件後，該島嶼緊接著受到氣候災害的侵襲，因此南韓軍方曾派戰機前往巡視，再次表達其強硬的立場。當時的氣候災害最可能為下列何者？(A)氣候乾旱
(B)颱風風災 (C)寒流降雪 (D)沙塵暴

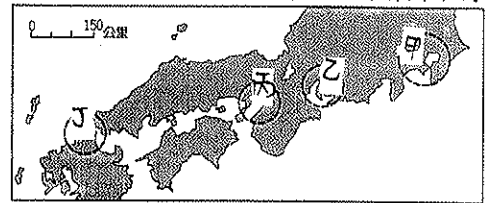
39.臺灣和日本皆發生小島主權的爭議，除了疆域領土主張外，經濟上的利益更是重點。依規定經濟海域所主張的範圍為多少浬？(A)12浬(B)60浬(C)120浬(D)200浬

(五)臺灣的鴻海集團和日本夏普合作，希望可藉由兩集團之間的合作交流，促進相關產業的競爭力。請問：

40.鴻海為世界著名的電子廠，大力投資入主日本企業夏普，可以獲得的生產條件最可能為下列何者？(A)廉價勞工

(B)進步技術 (C)工廠土地 (D)礦產原料。

41.夏普是日本八大電子產品工業公司之一，總部設立於大阪。若鴻海總裁要前往大阪視察，則應該到附圖中何處？

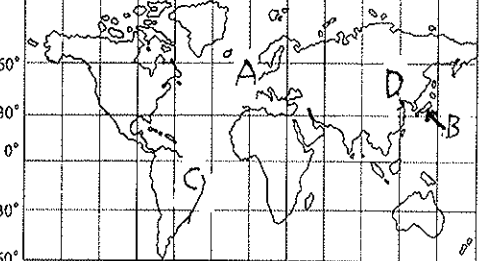


(A)甲 (B)乙 (C)丙 (D)丁。

42.日本登錄世界文化遺產有12處，從日本歷史發展判斷，何處擁有的文化遺產最多？(A)甲 (B)乙 (C)丙 (D)丁

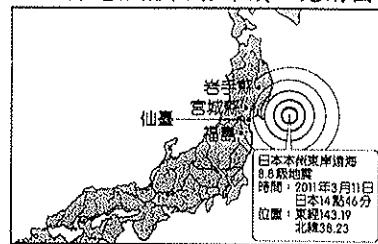
(六)2020年年奧運會將於日本東京舉行。請問：

43.請問東京的標示為附圖中哪一地點？



44.東京位在本州島最大平原，與埼玉、千葉、神奈川構成都會區，請問此最大平原為？(A)關東平原(B)濃尾平原
(C)近畿平原 (D)關西平原

(七)日本在2011年發生「311大地震」，震央位於日本東北方。由於地震規模達芮氏9.0，引發了大海嘯，造成一萬五千人以上罹難，並引起核能輻射外洩，見附圖。請問：



▲圖(一)

45.依圖內容判斷，311大地震是發生在哪一個海洋上的淺層地震，造成了嚴重的傷亡情況？(A)日本海(東海)
(B)黃海 (C)太平洋 (D)南海。

46.「311大地震」的發生，其成因與下列何者有關？

(A)國土寬廣(B)四面環海(C)板塊活動(D)火山噴發。

47.大地震重創日本的經濟，因核電廠的災害，造成許多工廠被迫限電，導致生產量大減。依日本產業發展情形判斷，將對國際市場上哪一項商品的貿易買賣造成相當影響？(A)成衣(B)汽車(C)石化(D)玩具

(八)日本為亞洲最主要的工業國家，其工業發展特色受自然環境的限制相當大，因而發展出獨特的工業活動。請問：

48.日本受其環境條件的限制，目前發展工業的特色中，不包括下列何者？(A)出口貿易為主 (B)勞力密集產業
(C)原料仰賴進口 (D)沿海工業發達。

49.日本對外的出口產品種類眾多，形成大量的貿易順差。請問：依日本對外輸出的工業產品特性判斷，下列何者所占的比例最小？(A)汽車 (B)電腦 (C)塑膠 (D)手機。

50.附表為日本和其他國家的進出口貿易情況，其中與下列何者之間的貿易狀況呈現入超？

	甲國	乙國	丙國	丁國
出口	2500	2000	1800	36000
進口	1000	2300	500	21000

(A)甲國 (B)乙國 (C)丙國 (D)丁國。