

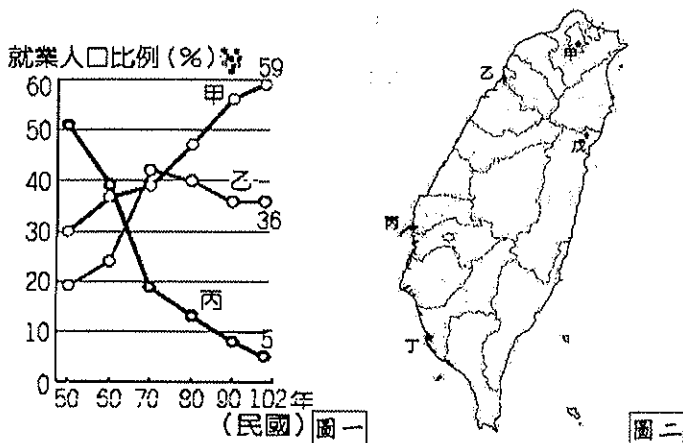
壹、題組 (每題 2 分)

◎臺灣便利商店遍地開花，是真正的臺灣之光。據業者統計，臺灣超商已正式突破 1 萬家大關，密度世界第一，平均 2000 人就有 1 家超商。請回答 1-2 題：

1. 上文中的便利商店是屬於下列哪一種商業型態？(A)批發 (B)量販(C)零售(D)無店舖。
2. 以下有關超商經營模式的敘述，何者不正確？(A)分布密集，方便消費(B)散裝販賣，利於購買(C)以量制價，價格便宜(D)宅配影印，服務多元。

◎下圖一為臺灣三級產業就業人口比例統計圖。請回答 3-5 題：

3. 下列哪一職業屬於「甲」產業？(A)電子工程師(B)台北捷運司機(C)溫室葡萄種植(D)食品廠作業員。
4. 在下列何時第二級產業活動較為發達，就業人數最多？(A)50 年(B)60 年(C)70 年(D)90 年。
5. 從 50 年來臺灣三大產業的就業人口比例變化，可看出什麼現象？(A)臺灣人力資源較充足(B)從事第一級產業的人口逐年增加(C)臺灣人口素質較高(D)臺灣經濟發展程度較佳。



◎上圖二為台灣工業區分布簡圖，甲~戊代表工業區。請回答 6-10 題：

6. 「提供免徵關稅等優惠和完整的工業設施，更有便利的港口交通條件，豐沛的人力資源，專門吸引外資在區內投資設廠，對 50 年代的臺灣經濟發展有相當大的推進作用。」文中提及的工業類型主要分布於圖二中何處？(A)甲(B)乙(C)丙(D)丁。
7. 臺灣工業區大多分布於西部，主因是東部何種環境影響？(A)交通依然不便(B)礦產資源不豐(C)氣候過於溼熱(D)平原太過狹小。
8. 圖二中「丙」為下列哪一工業區？(A)新竹科學園區(B)六輕石化工業區(C)楠梓加工出口區(D)和平水泥工業區。
9. 圖二中「戊」工業區主要分布於花蓮，其區位因素是？(A)政府政策鼓勵(B)花蓮平均工資較低(C)花蓮電力較便宜(D)花蓮盛產石灰石。
10. 圖二中有關「乙」區的產業特色敘述，下列何者正確？(A)勞力密集度高(B)產品附加價值高(C)技術密集度低(D)能源密集度高。

◎「玉兔文具工廠」從 1947 年創辦至今，曾經歷風光員工超過 500 人，也曾面臨挫折變遷與衝擊，尤其當大多數鉛筆廠都遷往中國尋求第二春時，玉兔始終堅持根留臺灣，並在產品上標上臺灣製造的字樣，並且轉型為觀光工廠—「玉兔鉛筆學校」仿造 60、70 年代的教室陳設，擺放舊式課桌椅、福利社、鉛筆商店，由專人示範鉛筆製作流程，透過 DIY 方式，讓遊客了解鉛筆製造流程，並開放訂購名片筆、結婚筆、個性筆，提供具有文化深度的鉛筆探索之旅。請回答 11-13 題：

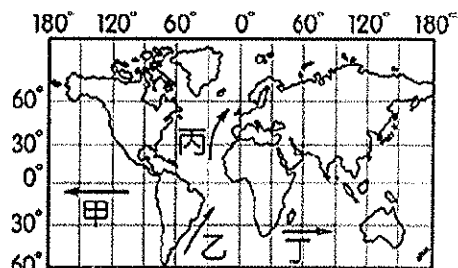
11. 該工廠開放遊客參觀，遊客可實地了解鉛筆製造過程，並參與 DIY 活動，還可以購買喜愛的商品。上文提及業者措施融合了哪些產業類型？(A)一、二級(B)一、三級(C)二、三級(D)一、二、三級。

12. 該工廠開放訂購名片筆、結婚筆、個性筆……等不同形狀的鉛筆，業者這種做法的目的是為了下列何種原因？(A)提高附加價值(B)降低生產成本(C)縮小城鄉差距(D)減少運輸路程。

13. 上文中提到「當大多數鉛筆廠都遷往中國尋求第二春」，主要是因為中國具備哪一區位優勢？(A)消費市場廣大(B)工業技術高(C)政府政策穩定(D)工資成本低廉。

◎每年「冬至」前後是海洋烏魚洄游季節，烏魚隨著東北季風及○○洄游至台灣西部海域進行產卵，而台灣捕烏魚最高紀錄是由高雄茄萣興達港保持。在烏魚的魚汛期，茄萣人掛念的都是烏魚，街道上曝曬的也是澄黃耀眼的烏魚子，可以說此時是漁民們的「黃金季節」，茄萣可說是「烏魚子的故鄉」。近年來當地亦結合觀光，舉辦「烏魚文化祭」。請回答 14-18 題：

14. 茄萣捕烏魚為業的漁民，應屬於第幾級產業活動？(A)一(B)二(C)三。
15. 根據上文，茄萣漁民捕撈烏魚，應屬於下列何種漁業類型？(A)遠洋漁業(B)近海漁業(C)沿岸漁業(D)養殖漁業。
16. 「烏魚隨著東北季風及○○洄游至臺灣西部海域進行產卵」請問：○○最可能會下列何者？(A)暖潮(B)黑潮(C)親潮(D)中國沿岸流。
17. 承上題，○○的流動方向與下圖中的四股洋流，何者性質相似？(A)甲(B)乙(C)丙(D)丁。



18. 當地居民結合觀光產業，成功的吸引許多外縣市遊客前來茄萣觀光旅遊。上述情形對於下列哪一個行業的幫助最小？(A)畜牧業(B)旅館業(C)運輸業(D)餐飲業。

◎工廠為求降低成本，追最高利潤而選擇有利的生產位置，稱之為區位。請回答 19-24 題：

19. 麵包工廠的區位選擇與下列何種較相同？(A)玩具工廠(B)大理石工廠(C)玻璃工廠(D)紡織工廠。
20. 高雄地區是臺灣重工業的中心，煉鋼、石化、造船工業多聚集於此，其設廠主要考量的因素為何？(A)原料(B)交通(C)技術(D)動力。
21. 新竹科學工業園區設置的區位條件主要為下列哪些因素？(A)原料、技術(B)交通、市場(C)市場、動力(D)政策、勞工。
22. 下列何種產業較適合動力區位？(A)煉鋁工廠(B)冰淇淋工廠(C)蔗糖廠(D)成衣工廠。
23. 南方澳漁港船隻捕獲的鯖魚產量相當高，也成為鯖魚罐頭的主產地。請問：鯖魚罐頭工廠屬於何種工業區位？(A)市場區位(B)政策區位(C)原料區位(D)勞工區位。
24. 近來麥當勞、肯德基等速食業相繼促銷低價的早餐，這些速食業的區位選擇主要是考慮哪項因素？(A)原料(B)交通(C)勞力(D)市場。

◎臺灣的經濟發展被喻為奇蹟，各時期工業歷多次轉型過程才造就今日臺灣的經濟榮景。請回答 25- 28 題：

25. 臺灣過去曾有「鞋子王國」、「雨傘王國」等稱號。請問：這些稱號皆與發展哪種類型的工業有關？(A)輕工業(B)重工業(C)高科技工業。
26. 臺灣在民國 60 年代推動十大建設，當時發展的重點工業不包括下列何者？(A)鋼鐵工業(B)紡織工業(C)造船工業(D)石化工業。
27. 民國 70 年代，臺灣工業活動由於受到哪些因素的影響，傳統工業面臨轉型？(甲)勞工不足(乙)環保意識高漲(丙)工資上漲(丁)資金不足(A)乙丙(B)甲丁(C)丙丁(D)甲乙。

28. 「2016年愛迪達環保運動鞋款上市，取材自海洋回收的寶特瓶，而將寶特瓶纖維細緻化技術用的都是來自臺灣，目前的技術，臺灣領先全球。」由上文敘述可知，臺灣目前的工業發展具有下列哪一特色？(A)能源密集高(B)勞力密集高(C)研發與創新(D)自創品牌。

◎16世紀時，葡萄牙人看到臺灣島上滿布青翠的森林，讚揚臺灣為Ilha Formosa(美麗的島嶼)，過去林業在臺灣佔有重要地位，木材外銷曾為臺灣賺取巨額外匯收入。請回答29-30題：

29. 請問下列因素哪些是造成臺灣森林資源豐富的原因？(甲)氣候多雨(乙)交通便利(丙)地形多山(丁)人口稀少。(A)甲乙(B)甲丁(C)甲丙(D)丙丁。

30. 關於目前臺灣的林業資料，何者是正確的呢？(A)推廣休閒遊憩的森林遊樂區(B)臺灣仍大量外銷木材，來增加外匯收入(C)全面禁止人民進入森林區(D)集中砍伐天然林。

◎表一是四個國家在國際貿易上的情形，表二是某年臺灣與其他地區的貿易資料。請回答31-34題：(單位：億美元)

國家	甲	乙	丙	丁
出口	98	123	23	160
進口	45	120	107	103

表一

國家	美國	英國	日本	香港
出口	285	32	144	307
進口	209	16	459	18

表二

31. 請問表一中有幾個國家在國際貿易上是出超的？(A)4個(B)3個(C)2個(D)1個。

32. 請問表二中臺灣對哪一個地區的貿易出超最多？(A)美國(B)英國(C)日本(D)香港。

33. 臺灣與日本目前的貿易情形，與表一中的哪個國家最類似？(A)乙國(B)甲國(C)丁國(D)丙國。

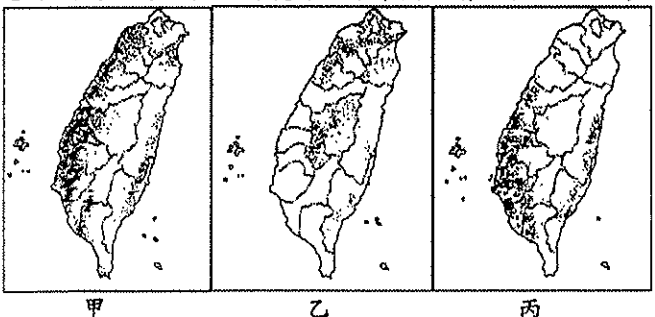
34. 臺灣對於國際貿易依賴程度甚高，其原因與下列哪些因素有關？(A)缺乏自然資源(B)地勢起伏山多田少(C)人口密度高(D)勞力不足。

◎Global Fishing Watch 推出了第一份全球層級的漁業捕撈產業開放資料，並以地圖視覺化漁船的行駛軌跡，以及各國捕獲量紀錄。光是亞洲四大地區，就捕撈全球逾8成的魚，而其中臺灣名列第5大捕撈王國。請回答第35~36題：

35. 臺灣適合發展捕撈漁業的條件有下列哪些？(甲)東岸大陸棚面積大於西岸(乙)港灣、島嶼眾多(丙)沿海有寒、暖流交會(丁)有大河流入海洋，正確的是(A)乙丙(B)甲丙(C)甲乙(D)乙丁。

36. 根據臺灣漁業現況，下列敘述哪一個是正確的？(A)臺灣四面環海漁業資源相當的豐富，所以不怕漁源枯竭的問題(B)屏東縣林邊鄉地區因為近海漁業發達，導致地層下陷，經常淹水(C)水源遭受工廠排放重金屬汙染，引發綠牡蠣事件(D)沿岸漁業的船隻常誤入菲律賓海域，引起糾紛。

◎下圖為台灣三種主要農作物分布圖。請回答37-40題：



37. (甲)氣候溫暖(乙)雨量充足(丙)平原廣大(丁)四面環海，上述哪些項目是臺灣發展農業的有利條件？(A)甲乙(B)乙丙(C)丙丁(D)甲丁。

38. 何者為臺灣最重要的糧食作物？(A)甲(B)乙(C)丙。

39. 有關「丙」圖農作物的敘述，下列何者正確？(A)產值逐年提升(B)會影響山坡地的水土保持(C)分布於平原地區(D)臺灣最重要的經濟作物。

40. 由圖可發現，茶樹主要分布在哪種地形？(A)丘陵、山地

(B)平原、高原(C)盆地、平原(D)高原、山地。

貳、單選題(每題2分)

41. 附表中對於集約農業和粗放農業的比較，哪一項正確？

	(A)	(B)	(C)	(D)
	農場面積	單位面積投入的勞力	單位面積產量	總產量
集約農業	較大	較少	較高	較高
粗放農業	較小	較多	較低	較低

42. 彰化縣田尾鄉被譽為「花的故鄉」，目前花卉種植超過五百項，百分之九十的居民從事園藝的工作。請問：彰化地區花卉的發展除了市場需求外，尚包括下列哪一項產業條件的改變？(A)交通運輸革新(B)外籍勞工移入(C)就業結構轉型(D)勞動人口老化。

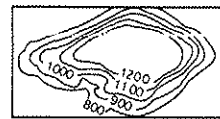
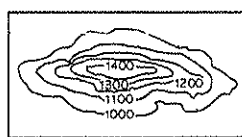
43. 近年來臺灣興起許多新商業型態，下列敘述何者正確？(A)網路購物因可節省店租成本，因此價格更具競爭力(B)傳統菜市場屬於批發與零售兼具的性質，可以大量或零散的選購(C)量販店賣場廣大，為了吸引更多入，大多設置地價較貴的市中心(D)批發商提供多元化的服務，有逐漸取代傳統雜貨店的趨勢。

44. 下列何者並非現今臺灣農業轉型的主要方向？(A)高品質、高附加價值的精緻農業(B)結合地方文化與觀光而興起的休閒農業(C)推動農業永續經營的有機農業(D)提高外國農產品進口的關稅，保護本國農業。

45. 臺灣透過國際貿易曾創下令人矚目的經濟奇蹟，其中在民國70年代時更擠身為「亞洲四小龍」之一。請問：與臺灣同列其中的國家「不包括」下列何者？(A)日本(B)香港(C)南韓(D)新加坡。

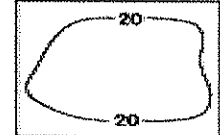
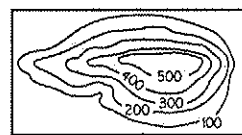
46. 下列哪一種自然環境能夠產出最多樣的水果，具有成為水果王國的條件？

(A)南緯5° (B)北緯40°



(C)南緯40°

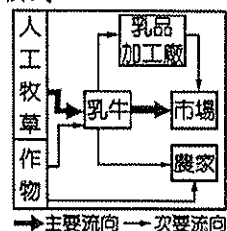
(D)北緯5°



47. 臺灣加入世界貿易組織後，為何許多農產品無法和外國競爭，主因為何？(A)農村勞力大量外流(B)臺灣農產品的品質不佳(C)農業生產成本太高(D)稻米生產過剩。

48. 下列關於臺灣畜牧業的發展敘述中，何者有誤？(A)依地理環境條件而言，臺灣的畜牧方式多屬於放牧(B)主要的畜牧區大多分布於中部以及南部地區(C)早期畜牧業是農家的副業(D)朝向專業化與現代化的經營模式。

49. 附圖為臺灣某一產業的活動流程，請由圖判斷該產業應該為何？(A)精緻農業(B)休閒農業(C)養殖業(D)酪農業。



→主要流向 →次要流向

50. 附圖為海底地形剖面示意圖，圖中哪一點位於大陸棚區？(A)甲(B)乙(C)丙(D)丁。

