

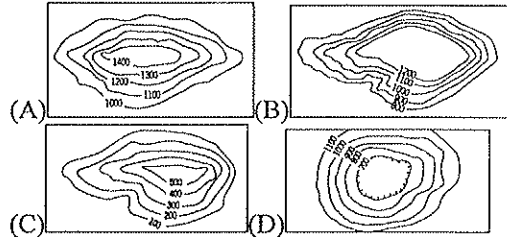
宜蘭縣立羅東國中 106 學年度第一學期八年級地理科第三次段考試卷

選擇題：每題 2 分，請用 2B 鉛筆作答

班級： 座號： 姓名：

- 班上四位同學針對「華南的地形」分別說出自己的印象。請問：哪位的說法不正確？(A)小美：「地形由西向東緩降」(B)小玄：「西側為高原縱谷區」(C)小絃：「東側以丘陵為主體」(D)小語：「沿海缺乏平原及河口三角洲」。
- 一月時，住在重慶地區的小涵前往武漢旅遊，發現武漢的溫度竟然比重慶還要低溫。主要原因為何？(A)重慶是盆地地形，熱氣不易散去(B)武漢距海較遠，溫差較小(C)重慶北有高山阻擋南下寒風(D)武漢地勢高聳，氣溫偏低。
- 中國南部區域的哪項自然條件，較適合農業發展？(A)多石灰岩，土壤肥沃(B)地形多山，起伏較大(C)緯度較低，生長季長(D)海岸曲折，島嶼眾多。
- 下列對於長江三峽大壩描述何者不正確？(A)經由調節性蓄水，減少水患發生(B)提高經濟效益，如南水北調、水力發電、運輸成本(C)大壩附近地勢低的人文與自然景觀淹沒消失(D)因下游人口較多，故大壩位於長江下游一帶。
- 下列有關長江流域的敘述，何者正確？(A)上游四川盆地被譽為「魚米之鄉」(B)中游兩湖盆地有「天府之國」之稱(C)下游長江三角洲盛產糧食，有俗諺：「湖廣熟，天下足」(D)出海口上海市是中國最大工商都市。
- 秦嶺與淮河為中國南北地理分界線，下列何者符合南部區域的敘述？(A)一月月均溫 0°C 以上(B)年降水量小於 750mm (C)糧食作物以小麥為主(D)陸運為主，水運不發達。
- 圖甲~丁為中國四種水系圖。請問：華南地區河流眾多，下列選項何者能代表「福建省」與「橫斷山脈」的水系型態？(A)甲乙(B)乙丙(C)丙丁(D)甲丁。

- 小瑄：我這裡因為鋒面滯留，一連下了好幾天的雨(C)小嫻：我家四季如夏，只是有時午後會下雷陣雨(D)小玆：我很喜歡夏天，因為這裡冬天總是冰天雪地。
- 中國雲南、貴州是塊地表崎嶇的高原，請問：造成該區地表崎嶇、破碎的主要作用力為何？(A)雨水的溶蝕(B)冰河的侵蝕(C)波浪的侵蝕(D)風力的侵蝕。
 - 承上題，交通不便對當地人文環境所產生的影響，最明顯的是人口集中在壩子，請問「壩子」的地形型態為下列何者？



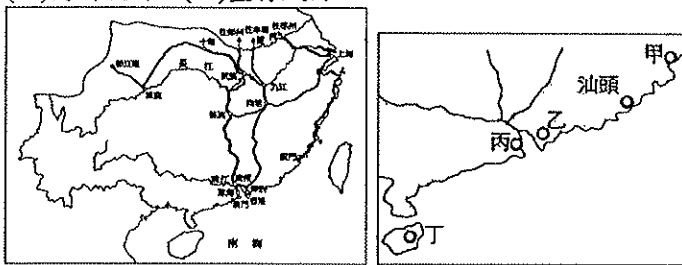
- 壩子昆明以「春城」著稱，因其溫差小，氣候宜人，請問：昆明夏無酷暑的原因主要為下列何者？(A)地形封閉(B)雨量較少(C)距海太遠(D)地勢較高。
- 下表為華中主要城市的氣候資料。造成表中這三個城市最冷月均溫差距的主要因素為何？(A)緯度(B)地形(C)洋流(D)距海遠近。

都市	一月均溫	七月均溫	年降水量
上海	3.7°C	27.8°C	1,111mm
武漢	4.3°C	28.5°C	1,222mm
重慶	7.6°C	28.2°C	1,138mm

- 俊諺上網查閱家鄉的家鄉海岸如下圖，他的家鄉應該是中國的哪個省分？(A)江蘇(B)河北(C)福建(D)四川。



- 圖甲~丁為中國四種水系圖。請問：華南地區河流眾多，下列選項何者能代表「福建省」與「橫斷山脈」的水系型態？(A)甲乙(B)乙丙(C)丙丁(D)甲丁。
- 上海原在黃浦江畔興建河港，後來在杭州灣外的島嶼興建洋山港，作為上海貨物進出的主要窗口。請問：興建洋山港是為了解決什麼問題？(A)人口過於膨脹(B)泥沙淤積嚴重(C)水質日漸惡化(D)經濟日漸蕭條。
- 左下圖(一)為中國南部地區的鐵路路線圖，影響南部地區鐵路分布的最主要因素為何？(A)地勢高低(B)山脈走向(C)河川流向(D)盛行風向。



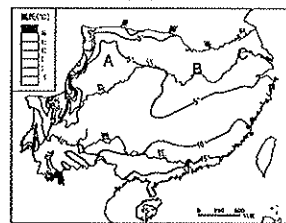
圖(一)

圖(二)

※1980年代起，中國在華南沿海設立經濟特區，請問：

- 中國首先在華南沿海設立經濟特區的原因，和下列哪一因素最不相關？(A)工資低廉(B)動力充足(C)海運便利(D)有利吸收外資。
- 中國沿海經濟特區的主要發展產業應為何？(A)重工業(B)服務業(C)加工出口業(D)高科技工業。
- 右上圖(二)中，哪個經濟特區距離香港最近，進出口貿易額最高？(A)甲(B)乙(C)丙(D)丁。
- 中國東部海岸像是一張弓，長江流域就是一支箭。哪個都市位於弓和箭的「T」字支點上？(A)廣州(B)上海(C)武漢(D)天津。
- 有四位同窗好友，長大後透過臉書在今年7月初再度聯繫上，請依據他們的聊天內容判斷哪位同學現在住在華中地區？(A)小晴：最近颱風來襲，不方便出遠門和大家見面(B)

- 承上題，該地海岸地形的形成與下列何種作用最有關係？(A)陸地上升(B)河川堆積(C)海水面上升(D)波浪侵蝕。
- 下圖為中國南部地區一月等溫線圖，圖中等溫線的分布大致呈東西向平行排列，此現象主因為何？(A)季風風向(B)面積大小(C)距海遠近(D)緯度高低。




- 下表中國四個都市比較，何者正確？(A)甲(B)乙(C)丙(D)丁。

都市	特徵
(甲)北京	腹地廣大，港闊水深，是北部貨物進出港
(乙)天津	市區西北的中關村，有中國矽谷之稱
(丙)上海	市區有許多俄羅斯風情的建築
(丁)香港	世界重要轉口港、航空站及金融中心

- 農作物收穫次數的多寡和該地區緯度的分布有關。依此判斷，下列哪個中國地理區的作物收穫次數可能最多？(A)華北平原(B)東北平原(C)珠江三角洲(D)長江三角洲。
- 香港與澳門皆為中國南部地區的重要城市，下列何者不是兩個城市的共同特色？(A)位於珠江出海口(B)曾受外國人管理(C)為中國特別行政區(D)發展博弈產業。
- 下列何者並非東北農業的主要特色？(A)平原面積廣大(B)機械化程度高(C)土壤不甚肥沃(D)現為中國重要的農作產地之一。

26. 下圖是中國北緯30度附近的地形剖面圖。請問此剖面線最可能經過哪個地區？ (A)華南地區 (B)華中地區 (C)華北地區 (D)東北地區。

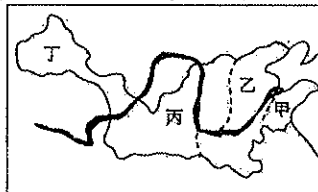


27. 中國農業部門的官員形容中國某一地形區的區域特色是：「地勢低平、沖積土壤肥沃，生長季不長，年可二穫，因此成為中華文化的發源地。」請問：該地區最適合生產下列何種糧食作物？ (A)甘薯 (B)水稻 (C)小麥 (D)玉米。
28. 陳先生要到中國東北遊玩，事先蒐集資料以準備行李，附表中的哪一個都市最可能為東北的氣候狀況？

都市	一月月均溫	七月月均溫
甲	3.7°C	28.8°C
乙	-4.7°C	26.0°C
丙	15.2°C	28.2°C
丁	-19.7°C	22.7°C

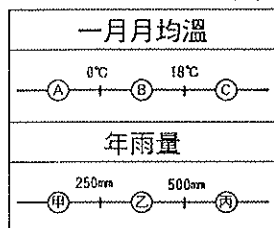
(A)甲 (B)乙 (C)丙 (D)丁。

※附圖為黃河主流流路簡圖。甲~丁代表不同地形區。



29. 「該地形區因風積黃土質地鬆軟，黃河流經此區，支流帶入大量泥沙，使黃河成為世界上含沙量最高的河流。」文中該區域應為圖中哪個地形區？ (A)甲 (B)乙 (C)丙 (D)丁。
30. 黃河流域內各地區的降水量有明顯差異。圖中哪個地區的降水量明顯少於其他三區？ (A)甲 (B)乙 (C)丙 (D)丁。
31. 「該區由黃河、淮河與海河共同沖積，土壤肥沃，是中國北方的糧倉。」為哪個地形區？ (A)甲 (B)乙 (C)丙 (D)丁。
32. 由黃土的來源地和黃土高原的相對位置分析判斷，哪個季節帶來的風沙量最多？ (A)春季 (B)夏季 (C)秋季 (D)冬季。
33. 由冷高壓的風向判斷，黃土高原上的窯洞，為了避免惱人的風沙吹進屋內，門窗的方向應該開向何方？ (A)東北方 (B)西北方 (C)東南方 (D)西南方。
34. 「農業雖年僅一穫，但目前已為中國最重要的玉米、大豆產區，而水稻的產量亦逐年提升。」請問：引文所描述的地方，最可能出現在下列何地？ (A)東北平原 (B)華北平原 (C)四川盆地 (D)長江中下游平原。

35. 左下圖(三)為中國氣候分類示意圖。北部區域應屬於下列何種氣候配對類型？ (A)A-甲 (B)A-丙 (C)B-乙 (D)C-乙。



圖(三)

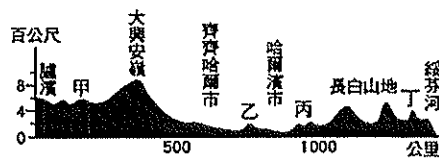
	甲	乙	丙	丁
一月月均溫	0°C	18°C	18°C	18°C
平均年雨量	200	400	500	100
今年年雨量	160	360	100	40

表(四)

36. 右上表(四)四個地區中，哪一個地方的水旱災發生機率最大？ (A)甲 (B)乙 (C)丙 (D)丁。
37. 下列何者不是中國北部區域的陸上鄰國？ (A)日本 (B)蒙古 (C)北韓 (D)俄羅斯。
38. 阿幸的父親在中國東北哈爾濱設立一家專門製作高級家具的工廠，為了方便外銷業務，他的家族同時在家具進、出口的港口設立了辦事處。請問：這個辦事處的設立地點最可能是在哪個城市？ (A)北京 (B)天津 (C)大連 (D)瀋陽。
39. 中國華北地區礦產資源豐富，住在山西的陳老闆原本計畫年

初時想利用水運，將一公噸煤礦運至京津唐工業區。後來，陳老闆取消水運運輸，改以鐵路作為運輸方式。請問：陳老闆取消水運的主要原因為何？ (A)河川結冰 (B)河水氾濫 (C)年溫差大 (D)颱風侵襲。

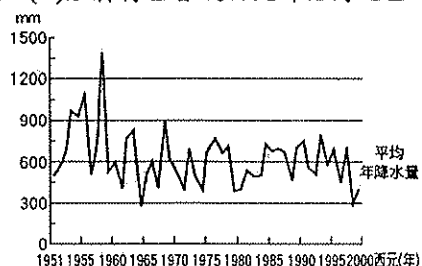
40. 下圖是東北的地形剖面圖。請問：圖中哪點的附近降水量最多？ (A)甲 (B)乙 (C)丙 (D)丁。



41. 華北平原以黃河河堤為分水嶺，為世界上少有的景象。請問：這和黃河下列哪一個特性關係較大？ (A)流速減緩，泥沙淤積 (B)坡度較陡，河川侵蝕 (C)河床狹窄，沖刷力強 (D)河道斷流，流量減少。
42. 左下圖(七)為中國煤、鐵、石油的分布狀況。下列中國的地理現象中，何者與此空間分布的關係最密切？ (A)長江流域開發較早、人口密集 (B)北部交通運輸以陸運為主 (C)北部的重工業較南部發達 (D)經濟特區皆設於北部沿海地區。

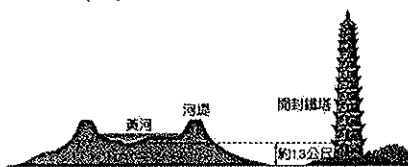


圖(七)

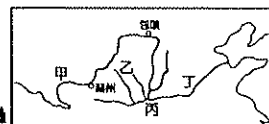


圖(八)

43. 右上圖(八)為華北地區歷年來的年降水量變化圖。依據圖中資料判斷，該地在下列哪個年分可能出現旱災，導致農產有大幅減少的狀況？ (A)1958年 (B)1965年 (C)1976年 (D)1988年。
44. 中國東北有廣大的平原，但因開發較晚各地發展懸殊。下列哪個地區，昔日有「北大荒」之稱，今日成為「北大倉」？ (A)三江平原 (B)遼河平原 (C)鴨綠江平原 (D)松嫩平原。
45. 承上題，昔日的「北大荒」，是因為哪項環境因素開發困難，而成為荒地？ (A)土壤貧瘠，生產力低 (B)緯度高，生長季短 (C)地勢低窪，沼澤遍布 (D)雨量變率大，多水、旱災。
46. 請問圖(九)的這種現象主要出現於圖(十)中的何處？



圖(九)



圖(十)

- (A)甲 (B)乙 (C)丙 (D)丁。
47. 中國東北早期為主要的工業發展地區，近年因下列哪些因素的影響而漸沒落？(甲)缺乏效率(乙)員工罷工(丙)設備老舊(丁)工廠外移 (A)甲乙 (B)甲丙 (C)乙丁 (D)丙丁。
48. 近年來黃河下游容易發生斷流的現象，最嚴重的可能是什麼季節？ (A)春季 (B)夏季 (C)秋季 (D)冬季。
49. 承上題，中國目前對於黃河斷流的問題正利用多種方法加以處理，其中不包括下列何者？ (A)退田還湖 (B)南水北調 (C)節約用水 (D)植樹造林。
50. 筱青在網路上認識來自中國東北的網友，他給了下圖的線索，請問：他來自於哪一城市？

線索一：清入關前的皇宮所在地
線索二：聯繫東北與華北的交通樞紐
線索三：鄰近鞍山鐵礦產區，重工業發達

- (A)哈爾濱 (B)瀋陽 (C)大連 (D)長春。