

班 座 號： \_\_\_\_\_ 姓 名： \_\_\_\_\_

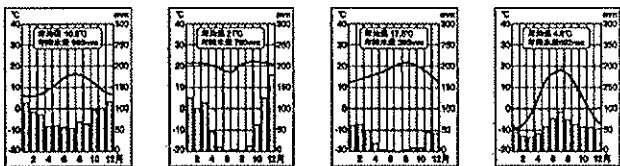
一、單題 (每格 2 分, 共 58 分)

1. 荷蘭雖然面積不大, 但國家發展卻具有特色。下列有關荷蘭的敘述, 何者正確? (A) 高地國 (B) 棉花王國 (C) 日不落國 (D) 萊茵河門戶
2. 李老師要求同學針對歐洲兩大水運動脈進行歸納整理, 請問: 哪項正確?

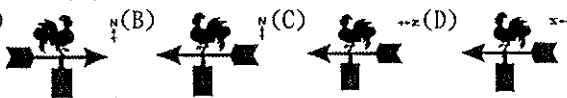
河川	(A) 河川長度	(B) 終點	(C) 流經國家數	(D) 發源地
萊茵河	短	裏海	多	阿爾卑斯山
多瑙河	長	黑海	少	喀爾巴阡山

3. 西歐國家的工業發展和當地的礦藏開發關係相當密切, 附表有關西歐各國礦產的敘述, 何者最為正確? (A) 英國 (B) 法國 (C) 德國 (D) 盧森堡
4. 歐洲為工業革命的發源地, 工商業發達。請問: 最早展開工業革命的國家, 其主要氣候類型為下列何者? (A) (B) (C) (D)

	英國	法國	德國	盧森堡
礦產	煤、石油	煤、天然氣	鐵、石油	煤、鐵



5. 小丸子與爺爺到風景如畫的瑞士旅行, 古靈精怪的她對風景沒興趣, 反而覺得屋頂上公雞造型的風向標十分可愛。由上述推測, 小丸子當時看見的公雞, 比較可能是下列哪個圖示?



6. 承上題, 如果回國時要選擇一項紀念品送給她的爸爸, 可以選擇下列何者? (A) IKEA 家具 (B) PHILIPS 家電用品 (C) 徠卡相機 (D) 勞力士機械手錶

7. 附表是針對英國和日本二島國的比較, 表中哪一項目的內容完全正確?

項目	英國	日本
(A) 海陸位置	大西洋東側	太平洋西側
(B) 氣候類型	溫帶海洋性	溫帶海洋性
(C) 國家體制	共和國	君主國
(D) 區域結盟	2016年公投通過脫離歐盟	為東南亞國協會員國

8. 北歐的社會福利來自於人民的納稅錢, 近年來由於下列何項因素的影響, 該地區的稅率愈來愈高? (A) 資源耗盡 (B) 政府貪汙 (C) 軍事對抗 (D) 高齡社會

9. 北亞和北歐兩者的緯度相同, 但北亞的氣候是「冷乾」, 北歐的氣候卻是「冷溼」。兩者的氣候有此差異, 影響的因素為右表何者? (A) 甲乙 (B) 乙丙 (C) 丙丁 (D) 甲丙

項目	說明
甲	西風
乙	洋流
丙	人口多寡
丁	地勢

10. 阿良與女友在十二月前往北歐旅行, 他們在北歐最不可能看見下列哪種現象? (A) 永晝 (B) 永夜 (C) 冰河 (D) 暴風雪

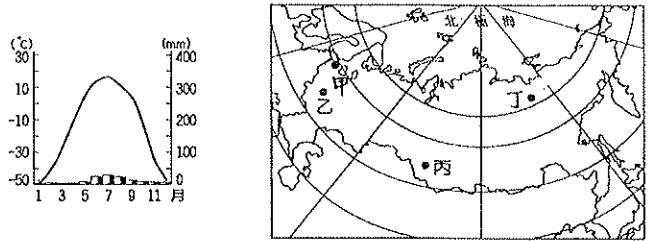
11. 東歐素有「歐洲火藥庫」之稱, 而西亞戰亂頻傳也引發諸多「中東危機」。請問: 下列何者不是兩者相似的衝突原因? (A) 戰略地位 (B) 族群複雜 (C) 石油開採 (D) 宗教多元

12. 俄羅斯境內的西伯利亞地廣人稀, 人口分布不均。請問: 當地人口多分布於下列何處? (甲) 河川沿岸地區 (乙) 南部溫暖地區 (丙) 鐵路沿線地區 (丁) 太平洋沿岸地區 (A) 甲乙 (B) 乙丙 (C) 甲丙 (D) 乙丁

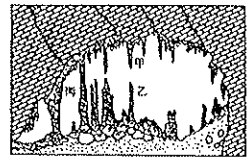
13. 美國某公司看中歐盟市場發展的潛力, 預計到波蘭去設廠, 相關產品以銷售歐、美國家為主。請問: 若根據其投資設廠位置判斷, 則其生產的主要商品應該為下列何者?



14. 俄羅斯各地的氣候不同, 左圖為某地區的氣溫雨量圖。試問其分布地點最可能位於右圖中何處? (A) 甲 (B) 乙 (C) 丙 (D) 丁




15. 右圖為某地形示意圖, 該圖最可能出現在東歐「甲」國家, 及在中國「乙」地區也能看得到, 請問「甲」、「乙」分別是? (A) 丹麥、廣東省 (B) 希臘、福建省 (C) 芬蘭、雲南省 (D) 斯洛維尼亞、廣西壯族自治區



16. 東歐北部的地形以平原為主, 南部則多山地、丘陵。此種現象以哪座山脈為分界線? (A) 阿爾卑斯山 (B) 亞平寧山 (C) 喀爾巴阡山 (D) 庇里牛斯山

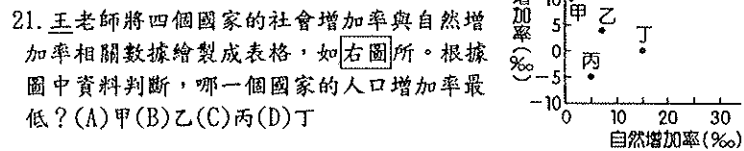
17. 東歐年降水量的空間分布變化, 可以用下列哪張圖來呈現?



18. 俄羅斯總理欲從首都前往美國白宮拜訪美國總統, 基於最短距離考量, 他的飛機應會經過哪一處海域? (A) 大西洋 (B) 印度洋 (C) 北極海 (D) 太平洋

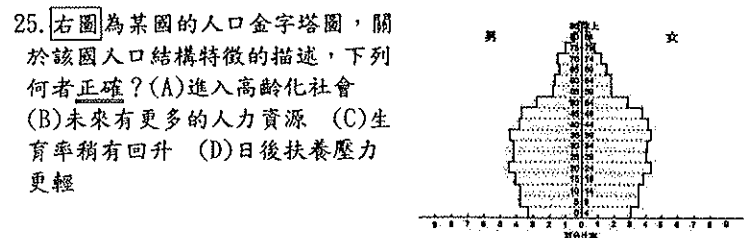
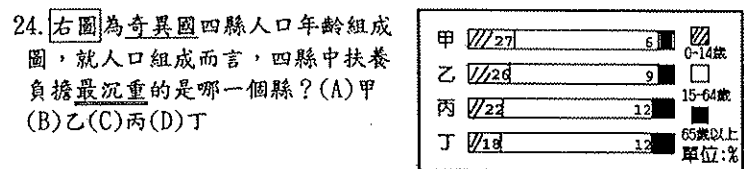
19. 俄羅斯是全世界面積最大的國家, 領土橫跨歐、亞兩洲, 境內多達 11 個地方時區。這種現象的產生和哪項地理環境關係最大? (A) 地勢起伏太大 (B) 位於高緯區 (C) 南北所跨緯度大 (D) 東西所跨經度大

20. 承上題, 請問歐、亞界山為何? (A) 斯堪地那維亞山、阿爾卑斯山 (B) 阿爾卑斯山、烏拉山 (C) 克爾巴阡山、高加索山 (D) 烏拉山、高加索山



21. 王老師將四個國家的社會增加率與自然增加率相關數據繪製成表格, 如右圖所。根據圖中資料判斷, 哪一個國家的人口增加率最低? (A) 甲 (B) 乙 (C) 丙 (D) 丁
22. 台鐵公司為了考量遊客開車行經花蓮至宜蘭時, 可能面臨蘇花公路落石坍塌的危險, 而規畫了人車同行(小汽車上火車)的服務, 請問: 此段服務主要利用下列哪一段鐵路線? (A) 南迴鐵路 (B) 北迴鐵路 (C) 縱貫鐵路 (D) 花東鐵路

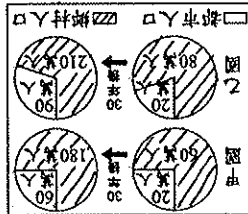
23. 颱風過後蔬菜價格大漲, 造成民生問題嚴重。若要了解中部區域農業產地的狀況, 應前往右圖中哪些縣市探訪? (A) 甲、乙 (B) 丙、戊 (C) 甲、丁 (D) 乙、戊



26. [附表] 為粗放與集約農業比較表，其中哪項描述是正確的？

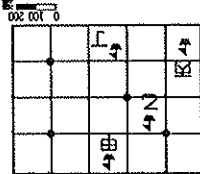
粗放農業	集約農業
(A) 每位農民平均耕地面積	大
(B) 單位面積產量	較低
(C) 單位面積內資本投入量	較高
(D) 單位面積內勞力投入量	較低

27. [右圖] 是甲、乙兩國都市人口和鄉村人口



占全國人口比例的統計圖。圖中顯示三十年後，甲、乙兩國的都市化程度有何改變？(A) 僅甲國提高 (B) 僅乙國提高 (C) 甲、乙兩國皆提高 (D) 甲、乙兩國皆未提高

28. 臺灣遠洋漁業的作業範圍遍及全球，卻也常因為深入他國經濟海域而產生糾紛。[附圖] 中的黑點分別為四個島國的位置，圖中哪一艘作業漁船最可能出現上述情況？(A) 甲 (B) 乙 (C) 丙 (D) 丁。



29. 業者會依照物品特性選擇最適當的運輸方式，以提高經濟效益，下列四種不同商品的運輸方式，哪一項最為適當？(A) 日本出口大量汽車至台灣-空運 (B) 屏東新鮮鮮果運送至台北餐廳-海運 (C) 彰化田尾花卉送至台灣各大城市-空運 (D) 基隆港送煤礦至林口發電廠-鐵路

二、題組 (每格 2 分，共 42 分)

\* 歐洲有很多國家，且各國皆有其發展的特色。[右圖] 為歐洲主要國家的分布簡圖，請根據附圖中資料，回答下列問題：

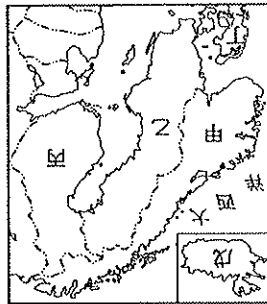


30. 「時尚與工藝的結合在該國充分呈現，引領世界的設計與高科技的航空工業、高速鐵路、時尚產業，造就了強勁的經濟實力。」請問：上述中指的為下列哪一個國家？(A) 甲 (B) 乙 (C) 丙 (D) 戊

31. 歐洲境內哪一個國家由於資源豐富，技術進步，再加上發達的水運網，成為今日歐盟工業實力最強的國家？(A) 甲 (B) 乙 (C) 丙 (D) 戊

32. 歐洲自然、人文景觀豐富，觀光業是各國重要的財政來源之一。請問：下列組合何者正確？(A) 甲-阿爾卑斯山、蘇黎世美術館 (B) 丙-倫敦塔橋、大笨鐘 (C) 戊-風車群、鬱金香花田 (D) 庚-羅浮宮、艾菲爾鐵塔

33. 有許多音樂家活躍於此，包括莫札特、貝多芬，有「音樂之都」為首都的國家是？(A) 甲 (B) 乙 (C) 丙 (D) 丁



\* 近年來，走訪北歐的人數與日俱增。到了北歐，可以參觀安徒生的童話王國，享受潔雪的樂趣、遊覽壯麗的峽灣景色等，豐富的自然與人文資源，使得北歐成為旅遊勝地。請問：

34. 「丙國在這種限制下，要架設多少電線杆，拉多少電話線，才能構成完整的通訊網？解決之道就是發展無線通訊網路，只要成本低廉的點狀基地台，不必高成本架設電線杆。」根據丙國的地理條件上文所提到的限制，最有可能是下列何者？(A) 土壤貧瘠、地質脆弱 (B) 山勢陡峭、河短流急 (C) 湖泊眾多、地廣人稀 (D) 峽灣發達、海岸曲折

35. 「北海小英雄」為著名的航海卡通，敘述來自甲國的維京人海盜故事。請問：甲國當地利於出海活動的主因下列何者正確？(A) 位置繁忙的北太平洋航線 (B) 多灣形成的天然良港 (C) 港口冬不結冰 (D) 控制波羅的海、北海的通航門戶

36. 五國之中，能分享北海油田採探權的有哪些國家？(A) 甲、乙、丙、丁 (C) 甲、丁 (D) 丁、戊

37. HBO 知名影集「冰與火之歌」中出現的奇幻世界，冰山與火山並存，廣大荒蕪的冰原上出現溫泉水湖與鮮紅的熔岩火山口。若依下列各國的自然環境判斷，上述場景應是在哪一國家實景拍攝的？(A) 乙 (B) 丙 (C) 丁 (D) 戊。

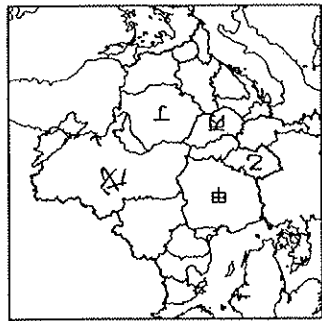
38. 此圖為歐洲大陸奧斯堪地那維亞的輪廓，可謂「北歐陸橋」，又名為「歐洲的十字路口」，以酪農業為主，也有「歐洲牧場」之稱的國家？(A) 甲 (B) 乙 (C) 丁 (D) 戊

39. 諾貝爾獎每年均在斯德哥爾摩進行頒獎典禮，2012 年榮獲諾貝爾文學獎的中國作家莫言獲新領獎，必須先申請哪一個國家的簽證？(A) 甲 (B) 乙 (C) 丙 (D) 丁

\* [右圖] 為歐主要國家的地理位置。請問：

40. 小名與小華報名參加東歐蜜月旅行，下列何者可能會是他們多親到的景點或表演？(A) 甲-聖誕老人村 (B) 乙-布拉格廣場 (C) 丙-樂高樂園 (D) 丁-芭蕾舞天鵝湖

41. 戊國和俄羅斯間屢次發生衝突，卻導致西歐國家的民衆生活出現不便。請問：這和戊國具有哪一項特色的關係最大？(A) 鐵路線中間站 (B) 水運交通匯點 (C) 油氣管線通道 (D) 光纖網路中間站



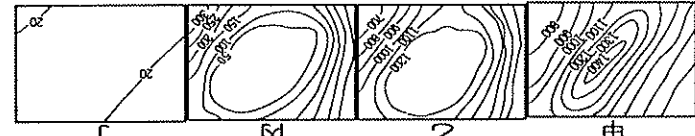
42. 現正看到新聞對東歐某國的專題報導，介紹內容如下：「這個國家的歷史充滿辛酸血淚，因位於前蘇聯與德國兩大強國之間，成為兩國權力拉扯的對象。二次大戰時，德國納粹政權曾在其境內建立「屠殺營」，今日已被列為世界文化遺產名錄，記錄著人類歷史上的狂妄、殘酷的一頁……。」上述是針對哪個國家的報導？(A) 甲 (B) 乙 (C) 丙 (D) 丁

\* 旅遊節目《時尚玩家》前進俄羅斯拍攝，除了參觀紅場附近色彩繽紛的建築外，還搭乘西伯利亞鐵路前往俄羅斯東方的符拉迪沃斯托克(海參崴)。請問：

43. 時尚玩家團隊由臺灣千里迢迢來到俄羅斯，首先先拍攝紅場附近的聖巴西爾教堂。根據教堂建築的型態判斷，當地盛行的宗教應該為何？(A) 基督教 (B) 天主教 (C) 伊斯蘭教 (D) 東正教

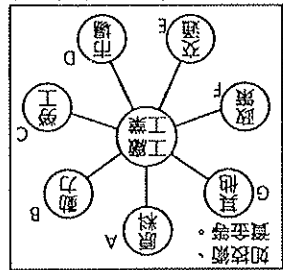
44. 時尚玩家團隊規畫由當地的政經中心城市搭乘火車前往西伯利亞，那麼主時應前往下列何處搭火車？(A) 聖彼得堡 (B) 莫斯科 (C) 海參崴 (D) 維科揚斯克。

45. 時尚玩家團隊搭火車前往符拉迪沃斯托克(海參崴)，經過西伯利亞地區，依[圖七]資料判斷，他們所見到的地形景觀順序為何？(A) 甲乙丁 (B) 乙甲丙 (C) 甲丁乙 (D) 丁乙甲



46. 時尚玩家團隊在搭火車的漫長旅程中，窗外最常見到的一片白色大地，偶爾會出現密集的森林。請問：上述的森林最可能為下列何種林木？(A) 針葉林 (B) 常綠林 (C) 混合林 (D) 闊葉林

\* [附圖] 是影響工業發展的因素圖。請問：



47. 1990 年代，歐洲共產政權瓦解後，東歐各國多憑藉哪一項條件，吸引西歐資金投入，發展經濟？(A) 廉價勞動力 (B) 廉價土地 (C) 廉價能源 (D) 廉價交通

48. 瑞典汽車工業的蓬勃發展主要是藉助何種工業區？(A) 甲 (B) 乙 (C) 丙 (D) 戊

49. 冰島的煉鋁工業相當發達，成為當地重要的收入來源。請問：冰島發展煉鋁最有利的條件為？(A) 甲 (B) 乙 (C) 丙 (D) 戊

50. 加爾各答至孟買海岸，西伯利亞鐵路沿線是北亞重要的工業區分布帶，此區的工業區位主要是下列何者？(A) ABC (B) AFG (C) ABE (D) DEF