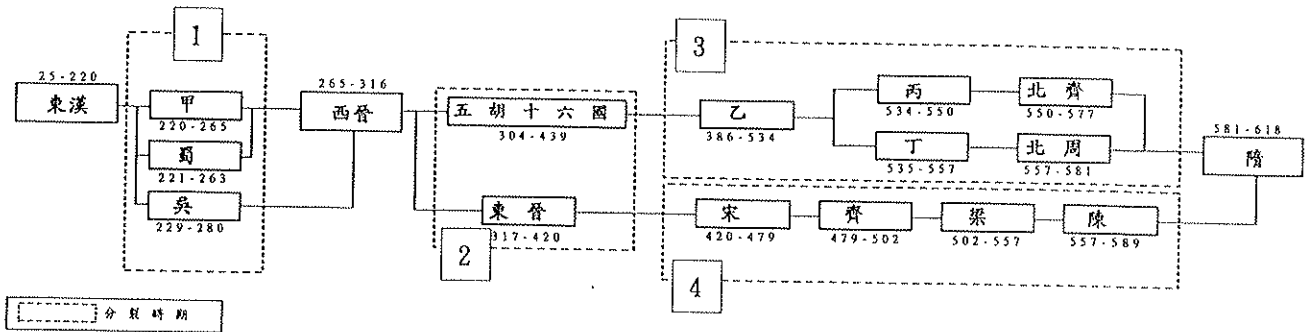
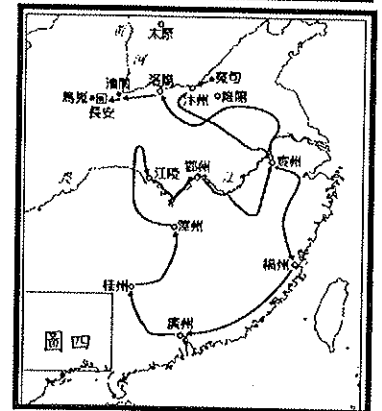
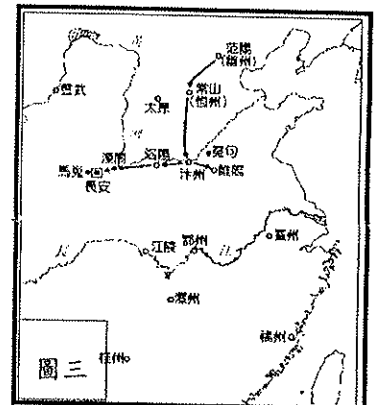
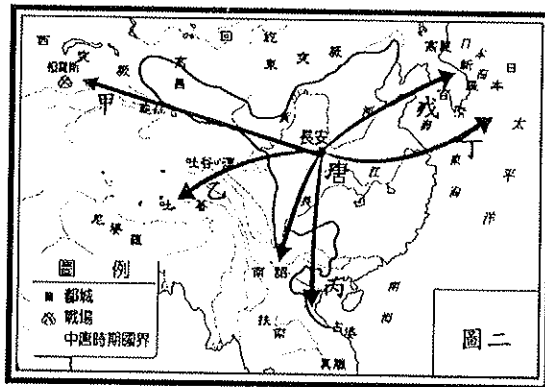
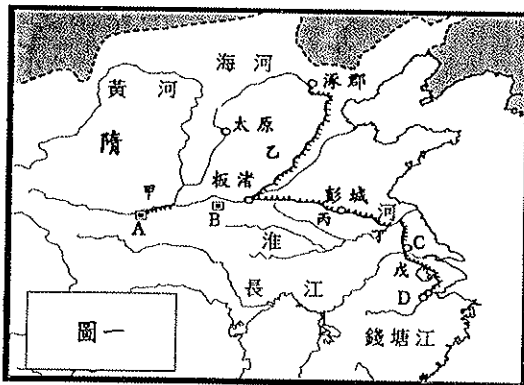


一、圖表題組題：每題 2 分，共 28 題，占 56 分。

(一) 中國的魏晉南北朝時期，體現了「合久必分，分久必合」的道理。請依據下表回答 1-12 題：



- () 1. 請問「魏」晉南北朝中的「魏」是指表中何處？(A)甲 (B)乙 (C)丙 (D)丁。
- () 2. 承 1.，上題中的魏又是指下列何者？(A)曹魏 (B)北魏 (C)東魏 (D)西魏。
- () 3. 承 2.，該朝代的建國者是下列何人？(A)曹操 (B)曹丕 (C)司馬炎 (D)司馬睿。
- () 4. 下列哪一胡族結束五胡十六國的分裂，開啟乙朝代呢？(A)匈奴 (B)鮮卑 (C)羯 (D)氐 (E)羌。
- () 5. 表中有 1、2、3、4 一共四個分裂時期，「依序」分別是指下列何者？(A)三國、五胡亂華、南朝、北朝 (B)三國、北朝、五胡亂華、南朝 (C)三國、五胡亂華、北朝、南朝 (D)三國、北朝、南朝、五胡亂華。
- () 6. 下列哪一件史事導致第 1 個分裂時期的出現呢？(A)赤壁之戰 (B)黃巾之亂 (C)八王之亂 (D)永嘉之禍。
- () 7. 下列哪一件史事導致第 2 個分裂時期的出現呢？(A)赤壁之戰 (B)黃巾之亂 (C)八王之亂 (D)永嘉之禍。
- () 8. 承 7.，上述此禍事的性質是 (A)外患入侵 (B)宗室叛變 (C)軍人叛亂 (D)人民起義。
- () 9. 表中共有幾個朝代，曾將首都定於今日南京？(A)5 (B)6 (C)7 (D)8 個。
- () 10. 「菩薩皇帝」會出現在下列哪一個分裂時期？(A)1 (B)2 (C)3 (D)4。
- () 11. 胡漢融合的現象會在下列哪一個分裂時期最為明顯？(A)1 (B)2 (C)3 (D)4。
- () 12. 下列哪一件史事導致乙分裂為丙、丁呢？(A)大封宗室為王 (B)實施漢化政策 (C)中國經濟重心南移 (D)匈奴攻陷洛陽。



(二) 圖一為隋代運河示意圖，甲、乙、丙、丁、戊，分別代表五條運河；A、B、C、D，分別代表四座城市，請根據圖一回答 13-17 題：

- () 13. 隋文帝為了使物資能順利運補至首都，因而開鑿哪一條運河？(A)甲 (B)乙 (C)丙 (D)丁。
- () 14. 承 13.，此運河為下列何者？(A)通濟渠 (B)廣通渠 (C)永濟渠 (D)邗溝。
- () 15. 承 13.，首都為圖中何處？(A) A 城 (B) B 城 (C) C 城 (D) D 城。
- () 16. 若想利用隋朝開鑿的運河，連接黃河與長江，需要利用哪兩條運河？(A)丙—永濟渠、丁—江南河 (B)丙—廣通渠、丁—通濟渠 (C)丙—通濟渠、丁—邗溝 (D)丙—邗溝、丁—江南河。
- () 17. 隋煬帝為了三征高麗，開鑿哪條運河？(A)乙 (B)丙 (C)丁 (D)戊。

(三) 圖二為唐文化向外傳播示意圖，甲、乙、丙、丁、戊分別代表五條傳播路線，請根據圖二回答 18-21 題：

- () 18. 「大化革新」與下列哪一條路線有關？(A)甲 (B)乙 (C)丙 (D)丁。
- () 19. 「君子國」與下列哪一條路線有關？(A)乙 (B)丙 (C)丁 (D)戊。
- () 20. 「文成公主」與下列哪一條路線有關？(A)乙 (B)丙 (C)丁 (D)戊。
- () 21. 「造紙術」西傳與下列哪一條路線有關？(A)甲 (B)乙 (C)丙 (D)丁。

(四)圖三為唐代兩大亂事的分布圖，請根據圖三及圖四回答 22~28 題：

- () 22. 圖三是指下列哪一件史事？(A)玄武門之變 (B)貞觀之治 (C)安史之亂 (D)黃巢之亂。
- () 23. 承 22.，此亂事的性質為 (A)外患入侵 (B)宗室叛變 (C)軍人叛亂 (D)人民起義。
- () 24. 圖四是指下列哪一件史事？(A)玄武門之變 (B)貞觀之治 (C)安史之亂 (D)黃巢之亂。
- () 25. 承 24.，此亂事的性質為 (A)外患入侵 (B)宗室叛變 (C)軍人叛亂 (D)人民起義。
- () 26. 圖三，造成唐代 (A)由盛轉衰 (B)由衰轉盛 (C)開元之治 (D)走向滅亡。
- () 27. 圖四，造成唐代 (A)由盛轉衰 (B)由衰轉盛 (C)開元之治 (D)走向滅亡。
- () 28. 發生在圖三與圖四之間的史事為 (A)開皇之治 (B)開元之治 (C)貞觀之治 (D)牛李黨爭。

二、名詞配合題：每題 2 分，共 13 題，占 26 分。

A. 唐三彩 B. 吳道子 C. 李白 D. 柳公權 E. 清談 AB. 雲岡石窟 AC. 玄學 AD. 杜甫 AE. 張陵
BC. 張角 BD. 莫高窟 BE. 三玄 CD. 景教 CE. 摩尼教 DE. 佛教

- () 29. 一種拋開現實、崇尚玄妙哲理的談論
- () 30. 研究三玄的學問
- () 31. 易經、老子、莊子
- () 32. 詩聖
- () 33. 詩仙
- () 34. 畫聖
- () 35. 以黃、綠、褐三色為主的工藝品，色彩絢麗，題材豐富
- () 36. 唐代著名的書法家
- () 37. 創五斗米道
- () 38. 創太平道，黃巾之亂的起事者
- () 39. 建於五胡十六國時期，以佛教壁畫與彩塑雕像聞名
- () 40. 唐代傳入中國的宗教，為波斯人所創，在長安建有寺廟
- () 41. 唐代傳入中國的宗教，屬於基督教的派別

三、大考體驗題：每題 2 分，共 9 題，占 18 分。

- () 42. 中國歷代選用人才的方式各有不同，「九品官人法」在魏晉南北朝實施了三百多年，它對當時造成何種影響？
(A)出現布衣卿相，平民百姓獲得重用 (B)鞏固世族地位，社會階層缺乏流動 (C)建立察舉制度，名儒講學蔚為風尚 (D)形成科舉制度，文人競相獵取功名。
- () 43. 老師評論某個時代知識分子的表現時說到：「由於政權的腐化黑暗，政治秩序始終無法建立。他們對現實政治感到灰心，為了避免得罪當權者，紛紛轉而談玄說理，清談之風因此大盛，事實上這也是對現實環境的一種消極反抗。」此一時代最可能是下列何者？(A)春秋戰國 (B)秦末漢初 (C)魏晉時期 (D)五代十國。
- () 44. 聯合國教科文組織將中國洛陽龍門石窟、大同雲岡石窟，以及敦煌莫高窟列為世界文化遺產，這三處世界文化遺產具有下列何項共同特色？(A)帝王陵寢的經典建築 (B)佛教藝術的代表古蹟 (C)石灰岩地形的特殊景觀 (D)隋唐運河貿易的重要遺址。
- () 45. 「中國史上，某位皇帝考量原根據地的農業生產落後，且北方外族威脅漸弱，為有效擴張勢力，因此將都城像南遷徙到漢文化的重鎮。遷都後，因貴族與大臣反彈，甚至起而叛亂，皇帝剷除反對勢力後，更加大力推行漢化。」上文所述最有可能是下列何事？(A)北魏孝文帝定都洛陽 (B)隋文帝營建大興 (C)唐高祖定都長安 (D)唐玄宗遷都洛陽。
- () 46. 有一位史家曾在他的著作指出：「這一條動脈的暢通與停滯，足以決定唐、宋國運的盛衰隆替，其關係的密切簡直有如真正的動脈之於身體那樣。」他所說的「動脈」應是指下列何者？(A)馳道 (B)運河 (C)長城 (D)絲路。
- () 47. 小河在課堂報告說「當時，原本屯駐在邊疆的胡人將領趁機叛變，戰禍蔓延黃河南北。亂事平定後，叛軍餘黨及平亂有功的將領卻又擁兵據地，造成日後中央無法完全控制地方的局面……。」他在敘述下列哪一場變亂？
(A)八王之亂 (B)永嘉之禍 (C)安史之亂 (D)黃巢之亂。
- () 48. 唐代玄奘對佛教中國化的貢獻極大，最主要是因他有下列何種重要作為？(A)廣建佛寺、佛塔 (B)首創禪宗一派 (C)有系統地翻譯佛經 (D)新闢西行取經的捷徑。
- () 49. 西元 717 年，有一位日本使者來到中國首都學習儒學、律令、禮儀等。請問，這位學者可在京城看到什麼樣的景象？
(A)酒館雇用褐髮碧眼、面容姣好的胡女賣酒 (B)東市是達官貴人的住宅區 (C)西市則是胡商落腳的住宅區 (D)夜市人來人往非常熱鬧。
- () 50. 赤壁之戰後，決定了魏、蜀、吳三分天下的局面，若以地理區域劃分，當時蜀(蜀漢)的根據地位於今日何處？
(A)華北平原 (B)珠江三角洲 (C)四川盆地 (D)長江三角洲。