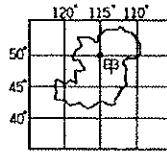


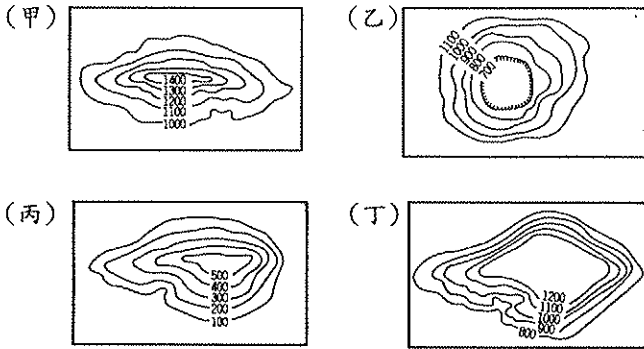
※選擇題，每題 2 分，共 50 題

1. 【甲】雨水侵蝕 【乙】河川堆積 【丙】火山活動 【丁】風力侵蝕 【戊】板塊運動 【己】斷層陷落等都是地形作用。請問其作用力屬於外營力的有 (A) 甲乙丁 (B) 丙戊己 (C) 乙丙己 (D) 丁戊己。

2. 右圖中甲點的絕對位置是：(A) 115°E, 50°N (B) 115°W, 50°S (C) 115°W, 50°N (D) 115°E, 50°S。



3. 依照等高線判斷，台北市屬於下列哪一類型的地形？(A) 甲 (B) 乙 (C) 丙 (D) 丁。



4. 一張地圖用 5 公分代表實際長度 20 公里，請問該張地圖的比例尺是 (A) 1:20 (B) 1:2000000 (C) 1:4 (D) 1:400000

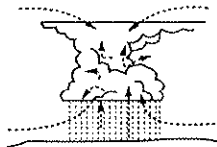
5. 台灣總共有六個直轄市，包含：【甲】高雄市【乙】台中市【丙】新北市【丁】台南市【戊】台北市【己】桃園市，請問這六個都市中，哪些屬於熱帶季風氣候？

(A) 甲、乙 (B) 丙、己 (C) 甲、丁 (D) 乙、戊

6. 台灣為季風氣候，請問夏天與冬季季風風向分別為何？

(A) 夏↑冬↓ (B) 夏↘冬↙ (C) 夏↗冬↖ (D) 夏↖冬↗

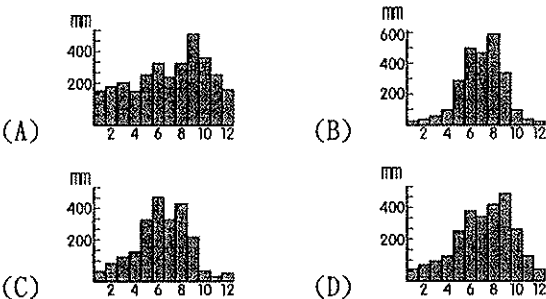
7. 楊老師在黑板上講解臺灣某種降雨特色，並繪製如右圖的示意圖。請問：這種降雨類型最常出現在哪一季節？



(A) 春 (B) 夏 (C) 秋 (D) 冬。

8. 小芮想利用中秋連假去拜訪以火山、地熱著稱的國家公園，請問此國家公園應該為何？(A) 太魯閣國家公園 (B) 墾丁國家公園 (C) 陽明山國家公園 (D) 雪霸國家公園

9. 河川的水量變化影響航運甚大，臺灣早期的萬華（艋舺）之所以能成為主要的河港都市，其雨量的分佈應為下列何者？

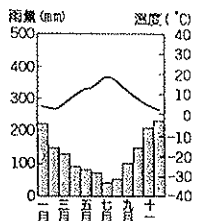


10. 臺灣原本與歐亞大陸相連，但冰河期過後海面上升，使得臺灣跟歐亞大陸中間出現了臺灣海峽，把臺灣跟歐亞大陸隔開。因此，上述造成臺灣哪種生態特色？

(A) 特有種比例高 (B) 秋、冬為候鳥過境棲地 (C) 魚類資源豐富 (D) 植物生態系呈垂直變化

11. 若欲到歐洲觀賞特殊的石灰岩地形景觀，應選至何處才能得到？(A) 斯堪地那維亞半島 (B) 巴爾幹半島 (C) 義大利半島 (D) 伊比利半島。

12. 右圖為西亞地區的一種氣候類型，請問主要分布在哪些地方？(A) 紅海周邊 (B) 波斯灣周圍 (C) 黑海附近 (D) 伊朗的大部分地區。



13. 承上題，造成這種氣候類型的主要原因為兩個行星風系的風帶季移，請問這兩個行星風系與其影響季節分別為何？

(A) 夏季—西風帶；冬季—東北信風帶 (B) 夏季—副熱帶高壓帶；冬季—赤道低壓帶 (C) 夏季—赤道低壓帶；冬季—西風帶 (D) 夏季—副熱帶高壓帶；冬季—西風帶。

14. 有關西亞的敘述：「土耳其為歐亞陸橋」、「位於歐、亞、非三洲鄰接地帶」、「自古為歐洲、亞洲往來必經之地」上述句子皆顯示出西亞何項特徵？(A) 地理位置重要 (B) 人文景觀單一 (C) 淡水資源缺乏 (D) 宗教信仰複雜。

15. 下表為西亞、中亞的整理，何者正確？

	(A)位置	(B)主要氣候	(C)主要地形	(D)環境問題
西亞	緯度較高	溫帶沙漠	高原	地層下陷
中亞	緯度較低	熱帶沙漠	盆地	波斯灣石油污染

16. 西亞主要族群為【甲】人，宗教信仰以【乙】為主。請問：【甲】、【乙】依序應填入下列何組？

(A) 波斯人、猶太教 (B) 猶太人、猶太教 (C) 阿拉伯人、伊斯蘭教 (D) 土耳其人、伊斯蘭教

17. 梵蒂岡因其具備何項特殊條件，第二次世界大戰期間，德軍及英美聯軍皆未入其內，使其免受戰火波及？(A) 文明最早起源地 (B) 天主教精神中心所在 (C) 藝術文物典藏眾多 (D) 世界面積最小的國家。

18. 小佐是個虔誠的伊斯蘭教徒，將教義中的念、禮、齋、課、朝落實在日常生活中，下列選項何者「不屬於」這些規範內容？

(A) 每日要做五次禮拜 (B) 齋戒月要日落後才能進食 (C) 在健康及經濟狀況允許下一生要到耶路撒冷朝拜一次 (D) 成年教徒要將部分所得奉獻給伊斯蘭教相關機構

19. 西亞地區因氣候乾燥，水資源珍貴，如伊朗高原的居民，為避免水分蒸發，將高山雪水引入地下，發展出坎井系統。請問：中國在下列何處也見到相同的灌溉方式？(A) 內蒙古高原 (B) 塔里木盆地 (C) 河套平原 (D) 藏南縱谷

20. 西亞地區的各產油國結合世界其他產油國，共同組成哪個組織，以維護產油國利益，穩定國際石油價格？(A) WTO (B) WHO (C) APEC (D) OPEC

21. 下列關於南歐各國的特色和品牌配對，何者正確？

(A) 西班牙—聖家堂 (B) 葡萄牙—法拉利跑車 (C) 希臘—聖彼得大教堂 (D) 義大利—鬥牛

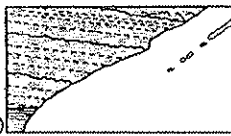
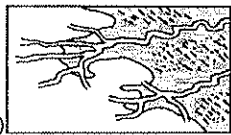
22. 歐洲的主要山脈有 (甲) 阿爾卑斯山 (乙) 斯堪地那維亞山 (丙) 庇里牛斯山 (丁) 喀爾巴阡山等山脈。請問：西歐與南歐大致以下列何者為分界？(A) 甲乙 (B) 甲丙 (C) 乙丙 (D) 丙丁

23. 西亞的地形以高原為主體，其中哪個高原與非洲相連，後因紅海斷層陷落而分離，形成半島？(A) 阿拉伯高原 (B) 伊朗高原 (C) 阿富汗高原 (D) 安納托利亞高原

24. 臺灣食用油爆發造假事件後，原本就熱銷的義大利進口「橄欖」油更是狂賣，人類至少在兩千年前就知道利用橄欖，榨取其果核中的油脂成為食用油，今更成為當紅的健康油，因而橄欖油被譽為「地中海的液體黃金」。依產地氣候條件判斷，其發展農業最大的限制為何？(A) 氣候嚴寒，日照不足 (B) 地形崎嶇，農業發展受限 (C) 生長季與雨季無法配合 (D) 暖流流經，氣候潮濕多雨。

25. 中亞境內，因為土地開發需要水源，引用某內陸湖泊的湖水後，使得湖泊面積逐漸縮減，造成許多環境問題。請問：這

- 座湖泊叫做什麼？ (A)死海(B)地中海(C)黑海(D)鹹海
26. 「此國位於地中海進入大西洋的通道，也扮演西方文明由地中海文明轉移到大西洋文明的關鍵角色，開啟『大航海時代』的來臨。」符合上述介紹的是下列哪個國家？  
(A)西班牙 (B)希臘 (C)義大利 (D)英國
27. 「滴灌」是將一定數量的水和養分輸送到植物根部的灌溉方法，目前世界最大生產滴灌產品的公司位於以色列。請問：以色列研發出「滴灌」技術，主要與哪項原因有關？  
(A)作物品種較不耐旱 (B)作物種植區的地形較崎嶇  
(C)作物種植區的岩層較為堅硬 (D)作物種植區的氣候較為乾燥
28. 有關歐洲區域統合敘述何者正確？ (A)參加歐盟的國家全部使用歐元做為統一貨幣 (B)所有歐洲國家皆為歐盟成員 (C)總部設於英國首都倫敦 (D)會員國之間取消關稅促進貨物流通
29. 「西元79年，義大利那不勒斯東部的維蘇威火山噴發，奪走了龐貝城數以千計的人命。如今，科學家說，與維蘇威火山隔著海灣對望的『超級火山』一旦噴發，那不勒斯三百萬人口恐遭不測。」請問：義大利多火山地形，主要是受下列何者的影響？ (A)地勢較高 (B)板塊運動 (C)西風吹拂 (D)洋流流經
30. 歐洲地形景觀豐富，請將「歐洲分區」與「地形特徵」做正確的配對。 (A)東歐——有三大半島深入地中海 (B)西歐——地形主體是歐洲大平原 (C)南歐——北部為高原，南部多盆地 (D)北歐——多石灰岩景觀
31. 希臘自古即以航運貿易著稱，其發展航運的最主要優勢是因為擁有下列哪種海岸地形？



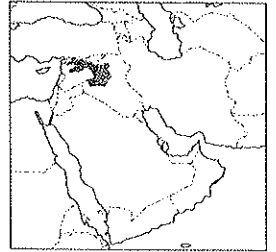
32. 下列哪一項不是歐洲國家目前主要面臨的人口問題？  
(A)性別比失衡，男性人口遠多於女性 (B)少子化現象明顯  
(C)人口高齡化 (D)撫養比提高
33. (甲)V型谷 (乙)U型谷 (丙)峽灣 (丁)谷灣，以上四種地形中，主要受冰河作用影響而形成的是哪兩種？  
(A)甲丙 (B)甲丁 (C)乙丙 (D)乙丁
34. 中亞地區的農業以灌溉農業為主。請問：其重要的經濟作物為何？ (A)小麥 (B)橄欖 (C)可可 (D)棉花
35. 哈薩克礦產豐富，是中亞地區工業較發達的國家，近年更因石油開採，提升其經濟發展。由哈薩克興建輸油管至中國，以下列哪個省區最具位置優越性？ (A)新疆 (B)西藏 (C)內蒙古 (D)雲南
36. 西亞地區的建築物大多如右圖所示，牆很厚、門窗很小，這和下列哪項因素最為相關？ (A)氣候環境 (B)宗教信仰 (C)政府法令 (D)產業活動。
37. 中亞大部分地區屬乾燥的沙漠氣候，其成因最主要為下列何者？  
(A)涼流流經 (B)副熱帶高壓籠罩 (C)距海遙遠 (D)位居信風的背風側
38. 承上題，在中國哪個地區也有出現類似中亞當地的地理景觀？(A)藏南谷地(B)藏北高原 (C)塔里木盆地(D)內蒙古高原
39. 西歐和北歐的氣候較同緯度的其他地區溫暖潮濕，主要是受到下列何種自然因素的影響？(A)地形崎嶇 (B)暖流經過 (C)緯度偏高 (D)季風吹拂



40. 附圖漫畫是描述西亞地區兩個民族自古以來的糾紛。請問：造成兩個民族紛爭的原因不包括下列何者？ (A)宗教 (B)水源 (C)石油 (D)領土
41. 西亞的畜牧業為當地傳統的產業活動，該地區多以何種方式進行牧業活動？  
(A)放牧 (B)欄牧 (C)游牧 (D)酪農業



- ※聖戰組織伊斯蘭國(簡稱 IS)近年來快速竄起，其行徑令國際社會聞之色變，例如：將西方人質及基督徒以公開斬首的方式處決、綁架日本商人及記者的勒贖事件等，都震驚全球。附圖深色區塊為 IS 的主要分布區。請問：



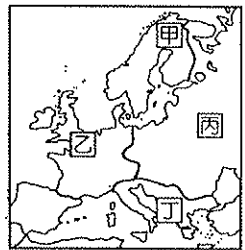
42. 若由圖中的資料加以判斷，IS 和下列哪一個西亞國家的位置最靠近，威脅其邊境安全最嚴重？ (A)沙烏地阿拉伯 (B)伊朗 (C)伊拉克 (D)阿富汗。
43. IS 的主要經濟來源之一為占領鄰近國家的何種資源生產基地，然後在黑市中出售以換取現金？ (A)煤礦 (B)金礦 (C)鐵礦 (D)石油。
44. IS 由於曾斬首非洲大國埃及的基督教徒而遭到制裁，埃及派多架飛機轟炸 IS 根據地的彈藥庫。請問：埃及轟炸機執行任務時，其飛行方向大致為下列何者？  
(A)東北方 (B)西北方 (C)東南方 (D)西南方。

- ※歐洲多位於中緯度地帶，其氣候類型以溫帶氣候為主。附表有四種溫帶地區的氣候類型特色，請根據表中資料回答下列問題：

氣候類型	氣候特徵	年溫差	雨量分布
甲	夏涼冬暖	小	全年有雨
乙	夏熱冬寒	大	夏雨冬乾
丙	夏熱冬寒	大	終年乾燥
丁	夏熱冬暖	不大	夏乾冬雨

45. 歐洲的氣候類型中，不包括表中的哪一種氣候特色？  
(A)甲 (B)乙 (C)丙 (D)丁。

46. 附圖為歐洲簡圖，圖中丁處的氣候類型應為表中的何種氣候？  
(A)甲(B)乙(C)丙(D)丁。



47. 歐洲境內哪一個地區的海岸主要為谷灣地形，因此形成天然良港，有利於對外海運發展？ (A)西歐 (B)南歐 (C)東歐 (D)北歐

48. 造成歐洲氣候條件優於世界其他洲的原因下列項目中正確的有幾項？(甲)西風吹拂(乙)暖流經過(丙)山脈走向對盛行風的阻礙較小 (丁)副熱帶高壓籠罩全境  
(A)1項 (B)2項 (C)3項 (D)4項

- ※「位於歐、亞兩洲內陸交界處，是世界最大湖泊，有『小波斯灣』之稱。因擁有豐富的礦產資源，被譽為『第二個中東』。近年來，身價水漲船高，深受外國勢力關注，使中亞地區的戰略地位更為重要。」請問：

49. 文中的湖泊應是指下列何者？ (A)鹹海 (B)紅海 (C)裏海 (D)黑海

50. 該湖泊有「小波斯灣」的美譽，是因為蘊藏下列哪項礦產資源？ (A)石油 (B)鑽石 (C)鐵砂 (D)黃金