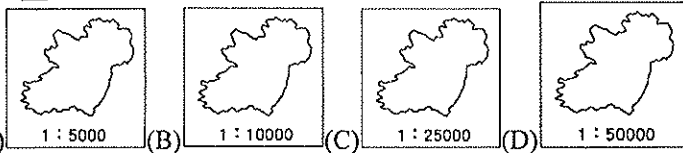


宜蘭縣立羅東國中 106 學年度第一學期七年級地理科第一次段考試卷

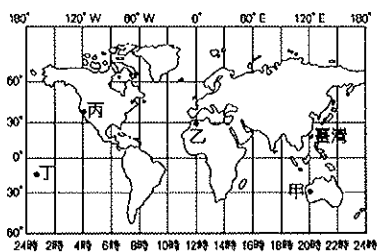
選擇題：每題 2 分，請用 2B 鉛筆作答

班級： 座號： 姓名：

- 下列是一則租屋廣告，其中哪項表示出該房屋的「絕對位置」？(A)地址：幸福縣中央市和平路一段 66 號 (B)捷運車站就在東南方，步行 10 分鐘即可到達 (C)位於森林公園的正對面 (D)市場就在附近，隔壁就是快樂國小。
- 下列哪項是「相對位置」的描述？(A)臺北市位於 121.5°，北緯 25° (B)澎湖位於嘉義西部外海 (C)班長的位置是第四行第五列 (D)小瑜家住在臺南市重慶路 5 號。
- 小芳拿著比例尺 1：200,000 的地圖旅行，當她發現地圖上離目的地尚有 3.5 公分，則實際的距離應該是多少公里？(A)7 (B)17 (C)71 (D)700。
- 比較(甲)0 度緯線 (乙)30 度緯線 (丙)回歸線 (丁)北極圈，這四條地理線的長度，由短到長依序排列為何？(A)甲乙丙丁 (B)乙甲丁丙 (C)丙甲乙丁 (D)丁乙丙甲。
- 2010 年底臺灣首次的五都選舉圓滿落幕，當時臺灣由兩個直轄市變為五個直轄市。以新制的行政區劃推判，下列哪個人不會變成新五都的市民？(A)新竹市的素珠 (B)臺北縣的麗美 (C)臺中市的志明 (D)臺南縣的士展。
- 臺灣的離島眾多，除澎湖、金門及馬祖外，其餘都隸屬臺灣本島的行政區下管轄，且管轄權多屬鄰近該島嶼的行政區，請問：東沙島、太平島最可能隸屬哪個行政區管轄？(A)臺北市 (B)新北市 (C)臺中市 (D)高雄市。
- (甲)臺南市 (乙)雲林縣 (丙)彰化縣 (丁)嘉義縣。若將上述各縣市由北到南排列出來，其正確順序為何？(A)甲乙丙丁 (B)乙丙甲丁 (C)乙丁丙甲 (D)丙乙丁甲。
- 某一漁船在臺灣附近的海域拋錨故障，發出求救訊號，其位置約在東經 122 度，北緯 20 度之處。請問：該漁船在臺灣的哪個方向？(A)東北 (B)東南 (C)西北 (D)西南。
- 下列四張是不同比例尺的島嶼地圖，哪張的島嶼實際面積最小？



- 下圖(一)為世界時區簡圖。下列哪一個地區比其他三地較早歡慶西元 2018 年的新年？(A)甲 (B)乙 (C)丙 (D)丁。



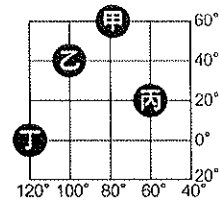
圖(一)

- 承第 10 題，圖(一)中甲、丙兩地的地理環境差異何者的說明有誤？

地點	(A)位置	(B)氣候	(C)時間	(D)季節
甲	東半球	溫帶	較早	不同
丙	西半球	寒帶	較晚	不同

- 「旅行就從地圖開始。先找一張世界地圖，看看所要到的地方，先找到它的(甲)緯度了解目的地和臺灣的時差，再看(乙)經度推測當地的氣候特色。接著閱讀當地(丙)大比例尺的街道圖，並從(丁)圖例計算旅遊景點與當地車站的距離...。」上列敘述中，何者正確？(A)甲 (B)乙 (C)丙 (D)丁。
- 將地表畫分為熱帶、溫帶、寒帶的主要依據為下列何者？(A)赤道、回歸線 (B)赤道、極圈 (C)本初經線、國際換日線 (D)回歸線、極圈。

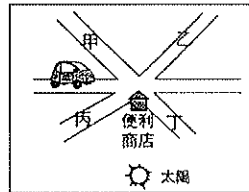
※下圖為甲乙丙丁在經緯線網格中分布的情形。請問 11~12 題：



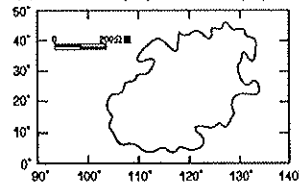
- 若丁地的時間為 4 月 20 日下午 5 點，則丙地的時間為何？(A)4 月 20 日凌晨 1 點 (B)4 月 20 日早上 9 點 (C)4 月 20 日下午 1 點 (D)4 月 20 日晚上 9 點。
- 甲、乙、丙、丁四地，哪兩地位在熱帶地區？(A)甲、乙 (B)乙、丙 (C)丙、丁 (D)甲、丁。
- 附表為臺灣四個地區在西元 2018 年 1 月 1 號的日出時間，最早看到日出的地區在蘭嶼，日出時刻為清晨 6 點 33 分。請問：在蘭嶼可以最早見到日出的主要原因為下列何者？(A)地勢高低 (B)緯度位置 (C)經度位置 (D)年降水量多寡。

地區	澎湖	嘉義	花蓮	蘭嶼
日出時間	6:44	6:40	6:36	6:33

- 王先生於某日早上開車到臺南去拜訪朋友，朋友告訴他，他的家位在交叉路口便利商店的西北方。請問：根據左下圖(三)，王先生到交叉路口後，應該轉向何處，才能順利抵達朋友家？(A)甲 (B)乙 (C)丙 (D)丁。



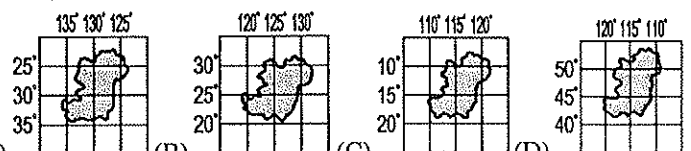
- 右上圖(四)是阿里山的地圖資料。請問：從這張地圖中無法得知哪種資料？(A)距離 (B)面積 (C)高度 (D)位置。



- 下列哪個縣市在臺灣的行政區劃中的層級較低？(A)臺北市 (B)南投縣 (C)嘉義市 (D)屏東市。
- 附圖為海域範圍示意圖，當船隻航行到圖中何處時，會因為侵犯沿海國家主權而遭到驅逐？(A)甲 (B)乙 (C)丙 (D)丁。



- 小智到日本北海道旅遊，發現當地的氣溫比臺灣低很多，造成這種氣溫差異的主要原因為何？(A)緯度的高低 (B)地勢的高低 (C)經度的不同 (D)海陸位置的差異。
- 太平島是臺灣最遠的離島，位在(114°E, 10°N)的位置，請問：將此島嶼納入版圖主要可以帶來哪項重要的效益？(A)增加領土面積 (B)增加國家公園 (C)擴大經濟海域 (D)島嶼數量增加。
- 下列四張假想的島嶼位置圖中何者與臺灣位在相同半球？

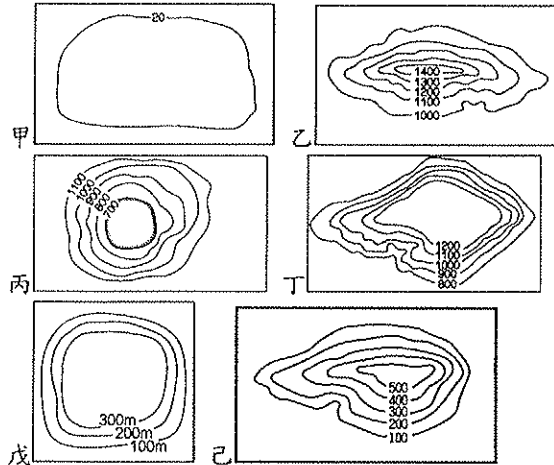


- 通過英國倫敦格林威治天文臺的經線為本初子午線。請問：下列何者為本初子午線？(A)經度 0 度 (B)經度 60 度 (C)經度 90 度 (D)經度 180 度。

背面尚有試題，請翻面作答

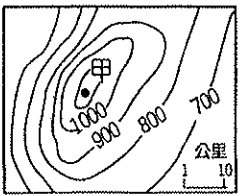
25. 阿兩早上搭乘從臺中開往墾丁的遊覽車，途中他發現車上某個遮陽窗簾故障了，而陽光又剛好直射那扇窗戶。若以車頭方向為前方，那個故障的窗簾位於遊覽車內哪邊的窗戶上？(A)前方 (B)後方 (C)左方 (D)右方。
26. 下列是地表上形塑地形的作用力，請問：哪些是屬於地球內部熱力的作用？(甲)風 (乙)地殼變動 (丙)流水 (丁)火山活動 (A)甲乙 (B)甲丙 (C)乙丁 (D)丙丁。

※臺灣主要地形的等高線地形圖如下，請問 27~31 題

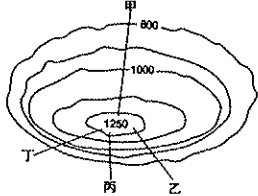


27. 哪些是臺灣居民主要生活空間的分布地？(A)甲乙 (B)甲丙 (C)乙丙 (D)丁戊。
28. 小楠外婆家附近的地形圖為戊。請問小楠的外婆家最不可能位於何處？(A)林口 (B)大肚 (C)八卦 (D)彰化。
29. 臺北市位於哪一種地形？(A)甲 (B)丙 (C)丁 (D)戊。
30. 臺灣的五大地形中，以哪種地形所占的面積最大？(A)甲 (B)乙 (C)丙 (D)丁。
31. 「這類的地形區通常都開闢梯田，或是種植茶樹、水果，增加農產量。」請問：上文主要是在描述下列哪種地形？(A)乙 (B)丙 (C)丁 (D)己。
32. 下列哪種地形的表示方法，是將不同高度範圍的區域，分別塗上不同的顏色，藉以表現不同的地形，以及高度的變化？(A)等高線圖 (B)地形剖面圖 (C)分層設色圖 (D)衛星影像。
33. 颱風來襲常造成臺灣山區爆發土石流、山崩等災害，使得山區聯外道路中斷。若是救難小組想要在最短時間內掌握最新災情，可使用哪種類型的地圖？(A)立體地形圖 (B)等高線地形圖 (C)分層設色圖 (D)衛星影像。
34. 根據文獻資料顯示：「荷蘭人建熱蘭遮城(今安平古堡)時，海浪就打在城堡邊；三百多年後的今日，安平古堡已離海岸線約 2 公里之遠。」造成上述變化，主要是因為當地的海岸受到下列何種作用影響？(A)堆積 (B)褶曲 (C)侵蝕 (D)風化。

35. 臺灣高山大多呈南北走向。請問：造成此現象最可能的原因是什麼？(A)板塊擠壓的方向 (B)河流堆積的位置 (C)位於北半球的位置 (D)火山噴發的位置。
36. 澎湖群島被國際旅遊寶典譽為不可不去的景點，在當地可以觀賞到下列哪一種珍貴的地形景觀？(A)冰河地形 (B)斷層地形 (C)火山地形 (D)石灰岩地形。
37. 左下圖(三)是某地的等高線地形圖。圖中「甲」地的高度最有可能是多少公尺？(A)1,036 (B)1,142 (C)1,357 (D)1,520。



圖(三)



圖(四)

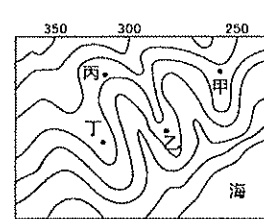
38. 右上圖(四)為一地的等高線圖。請問：圖中甲、乙、丙、丁四條小徑，哪條路線最適合老人家走？(A)甲 (B)乙 (C)丙 (D)丁。

39. 下列關於臺灣島內的地形分布狀況，何者錯誤？(A)地勢

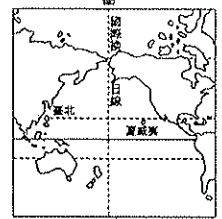
西高東低 (B)山地多分布於中央偏東 (C)西部多平原與丘陵 (D)中央山脈為臺灣脊梁。

40. 大雄、靜香在網路線上聊天，其對話如下：
大雄：「我住在臺灣唯一的內陸縣，群山環繞，山明水秀，空氣清新。」
靜香：「我住在臺灣唯一的島縣，四面環海，地勢低平，島嶼眾多。」
請問：大雄、靜香所居住的地區分別是下列哪兩個縣市？(A)南投縣、澎湖縣 (B)南投縣、宜蘭縣 (C)彰化縣、澎湖縣 (D)苗栗縣、金門縣。

41. 下圖(一)為某地區的等高線地形圖。小新全家利用假日到該地的河畔烤肉、戲水。依據此圖判斷，下列何者最可能是他們烤肉的地點？(A)甲 (B)乙 (C)丙 (D)丁。



圖(一)



圖(二)

42. 右上圖(二)中的國際換日線貫穿太平洋。假設今天臺北是 6 月 6 日早上，而此線右側的夏威夷應是下列哪個日期？(A)6 月 4 日 (B)6 月 5 日 (C)6 月 6 日 (D)6 月 7 日。
43. 臺灣河川常見的河流地形有：(甲)沖積平原(乙)三角洲(丙)瀑布(丁)沖積扇。若由上游至河口排列，其順序為何？(A)甲乙丙丁 (B)乙丙甲丁 (C)丙丁甲乙 (D)丙丁乙甲。
44. 臺灣島具有山勢高聳、地勢起伏大、山多平原少、3,000 公尺以上高山達百座之多等特性。這些特色主要是和下列哪項因素有關？(A)四面環海 (B)板塊擠壓 (C)位處低緯 (D)四季有雨。
45. 聖凱到太魯閣國家公園旅遊，導遊介紹該地區深切峽谷、崖壁陡峭的奇觀。請問：形成此峽谷景觀的主要因素為河流的哪種作用所導致？(A)河流侵蝕作用 (B)河流堆積作用 (C)河流搬運作用 (D)板塊推擠作用。
46. 上完地理課後，同學們對於臺灣的地形都有了初步的認識，幾位同學聚集在一起討論，誰的發言有誤？(A)柯南：我從小跟爸媽來臺居住，這裡因為地形種類單純，東西部交通便利 (B)步美：我外婆住在臺灣西部，這裡有平原也有一些臺地 (C)元太：臺灣主要有五大地形 (D)光彥：我老家在臺灣東部，那裡山峰連綿，山地面積廣大。

※小智利用暑假期間，請爸爸開車帶他去旅行。他們由臺南市出發，不久就進入山區，爸爸跟他說：「這條路就是景色優美的南橫公路，走到底我們就到臺東縣了。」請問 47-49 題：

47. 從小智爸爸的描述中，我們可以知道，南橫公路必須穿過下列哪座山，才能從臺灣西部到達東部？(A)大屯山 (B)雪山山脈 (C)海岸山脈 (D)中央山脈。
48. 到了臺東縣之後，他們行駛在平坦的道路上，繼續往花蓮縣的方向前進，沿途發現左右兩邊都有山脈，從右方的車窗望出，可以看見下列哪座山脈？(A)玉山山脈 (B)雪山山脈 (C)海岸山脈 (D)中央山脈。
49. 經過宜蘭縣後，他們從臺北市沿著高速公路南下回到臺南市，沿途會經過下列哪些地形區附近？(甲)宜蘭平原(乙)桃園臺地(丙)苗栗丘陵(丁)大肚臺地(戊)花東縱谷平原 (A)甲乙戊 (B)乙丙丁 (C)乙丙戊 (D)甲丙丁。

50. 住在高雄的依依利用網際網路，認識了世界各地的好朋友，有住在日本神戶(135°E)的福田，在美國舊金山(120°W)念書的瑪麗，住在英國倫敦(0°)的琳西，以及移民到澳洲雪梨(150°E)的曉光。請問：當依依在週末早上 10 點上線，與四名朋友通訊聊天時，哪個人所在的地點，大約是晚上 6 點的時候？(A)福田 (B)瑪麗 (C)琳西 (D)曉光。