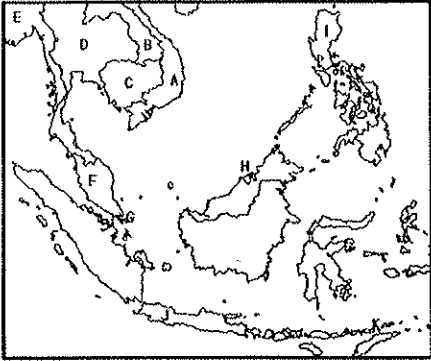


1. 對於東南亞的敘述何者正確?(甲)位於太平洋與印度洋之間(乙)由中南半島與印度半島組成(丙)因貿易與殖民背景文化多元(丁)全境位於中緯度地區(A)甲乙 (B)甲丙 (C)乙丙 (D)丙丁

◎下圖為東南亞簡圖，請回答 2-6 題



2. 阿薩辛是住在台灣的刺客，接到任務要找出潛伏在曼谷的聖殿騎士團成員，他該前往何處?  
(A)D (B)E (C)F (D)J
3. 阿薩辛想從台灣搭帆船，利用盛行風向前往東南亞最好在什麼季節?(A)春 (B)夏 (C)秋 (D)冬
4. 他最可能途經哪一海域?  
(A)麻六甲海峽 (B)爪哇海 (C)南海 (D)黃海
5. 下列對於此區敘述何者正確?  
(A)中南半島主要為佛教，是因為受西方殖民影響 (B)F 國是信仰伊斯蘭教為主，由阿拉伯人因為貿易傳入 (C)東南亞剩 I 國尚未加入為東南亞國協 (D)魚尾獅是 H 國的地標
6. 哪一個是中南半島上受中國文化影響最深的國家，曾經被法國殖民，在文化方面亦受其影響?  
(A)A (B)B (C)G (D)H
7. 下列何者不可能是去東南亞旅遊的行程?  
(A)緬甸參觀佛塔 (B)到斯里蘭卡認識錫蘭紅茶的產地 (C)去柬埔寨看世界遺產吳哥窟 (D)到越南水上市場買東西
8. 新聞標題「印尼火山爆發，火山灰影響航空交通，機場關閉航班取消」，此與下列何者最相關?  
(A)全年高溫多雨 (B)位於板塊交界帶 (C)人口眾多 (D)海運便利
9. 東南亞宗教多元，與何者關係最密切?  
(A)地形 (B)氣候 (C)位置 (D)產業
10. 中南半島的地形為中國哪一地理區的延伸?  
(A)喜馬拉雅山脈 (B)青藏高原 (C)橫斷山脈 (D)雲貴高原

11. 關於熱帶栽培業的敘述何者正確?

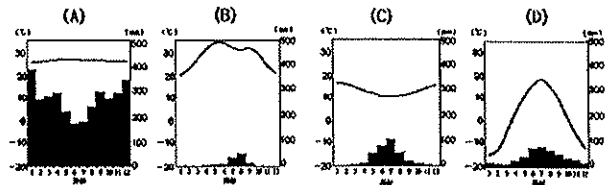
(A)種植的作物為經濟作物，以出口為導向，如小麥、玉米 (B)大規模機械化種植的方式經營 (C)受西方殖民影響而形成、需投入大量的資金 (D)粗放式耕作，但由於農場面積大所以產量高

12. 在國際貿易中，東南亞擁有什麼樣的區位?

(A)資金、技術 (B)勞工、交通 (C)原料、政策 (D)動力、資金

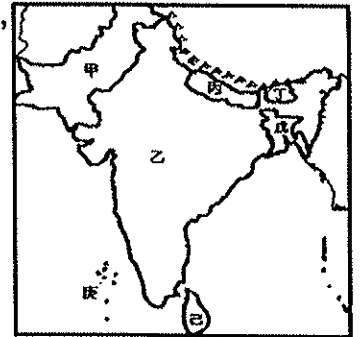
13. 「全世界最貴的咖啡，產於印尼，原料是用麝香貓吃下之後半消化再大便出來的咖啡豆做成的，在美國一杯可能高達 80 美元。」這與何種關係最密切?(A)信仰伊斯蘭教 (B)位於板塊交界帶(C)曾被西方國家殖民 (D)民族多元

14. 承上題，哪一張最符合此地的氣候圖?



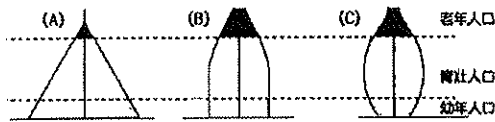
15. 從尼泊爾一路往南，到印度南部的邦加羅爾，圖中經過的地形依序為何? (A)高原→平原→盆地 (B)丘陵→平原→山地 (C)三角洲→平原→山地 (D)山地→平原→高原

◎右圖是南亞國家簡圖，請回答 15-19 題:



16. 南亞的宗教信仰何者正確?  
(A)甲、戊兩國印度教為主 (B)丙國佛教居多 (C)丁信仰印度教 (D)己國佛教為主
17. 乾燥地區過度灌溉可能導致土壤鹽鹼化，由此推測此問題在哪國最嚴重?  
(A)甲 (B)丙 (C)戊 (D)己
18. 某國觀光業發達，但由於國土地勢低受全球暖化影響，國土被海水淹沒區域日漸擴大，此國位於圖中何處?(A)丁 (B)戊 (C)己 (D)庚
19. 承上題，此國島嶼類型與哪個相同?  
(A)綠島 (B)金門 (C)琉球嶼 (D)龜山島
20. 印度半島為季風氣候區，請問其夏季盛行風向與下列哪個相同?  
(A)→ (B)↑ (C)↗ (D)↘

21. 想要選一個乾燥涼爽適合到南亞旅遊的季節，請問哪個月份較合適？  
 (A) 婦女節 (B) 勞動節 (C) 中秋節 (D) 聖誕節
22. 涼季的氣候特徵與哪一個因素關係最密切？  
 (A) 副熱帶高壓壟罩 (B) 北有高山屏障  
 (C) 季風迎風面 (D) 河流流經中部
23. 南亞的人口金字塔可能最接近下列何者？



24. 承上題，此人口金字塔與下列何者較無關係？  
 (A) 醫療資源缺乏，死亡率高 (B) 農業人口眾多  
 (C) 老年人口增加，邁入高齡化時期  
 (D) 勞動人口經濟負擔沉重
25. 小朋友在介紹東南亞時的描述，誰說錯了？(A) 小丸子：泰國屬於熱帶季風氣候區，降雨集中夏季 (B) 小玉：南洋群島全部屬於熱帶雨林氣候區，降雨類型為對流雨 (C) 大野：東印度群島跨越赤道兩側，印尼位於這個地區 (D) 杉山：台灣有許多外籍移工來自東南亞
26. 若參加一個由印度教徒舉辦的「體驗印度飲食文化」活動，下列何者不太可能在活動當中出現？(A) 吃香辣咖哩 (B) 嫩煎牛肉佐鮮烤時蔬 (C) 體驗用手抓飯 (D) 喝添加了香料的奶茶
27. 用無人機從孟加拉沿著恆河往上游飛，拍攝到的作物種類依序最可能為下列何者？  
 (A) 黃麻→小麥→咖啡 (B) 棉花→小米→茶葉  
 (C) 黃麻→水稻→小麥 (D) 茶葉→甘蔗→樟腦
28. 承上題，影響作物種類轉變的主要原因？  
 (A) 氣溫 (B) 雨量 (C) 人口 (D) 殖民歷史
29. 對於港埠型都市的敘述，何者正確？  
 甲. 受殖民影響形成 乙. 位置通常較內陸  
 丙. 利於貨物出口 丁. 如：奈比多、河內  
 (A) 甲乙 (B) 甲丙 (C) 乙丙 (D) 丙丁
30. 小吧漆到南亞某國自助旅行，不僅連日大雨，還遇上洪水，幸好被當地居民及時救援，他們說因為國家位於三角洲這個季節常淹水，請問他最可能是哪個季節去哪個國家？  
 (A) 雨季，巴基斯坦 (B) 熱季，斯里蘭卡  
 (C) 雨季，孟加拉 (D) 涼季，印度
31. 對於種姓制度的敘述何者正確？  
 (A) 鼓勵不同種姓的人互相通婚，生下來的小孩的種姓可以往上升一階 (B) 貴族與武士為最高

- 階的種姓 (C) 不滿自己種姓可以參加晉級考試更改種姓的位階，促進社會階層向上流動  
 (D) 造成印度社會貧富差距大，阻礙社會發展
32. 「流遍中南半島的某河川由於上游興建多座水壩，導致下游國家河川流量減少，農作物歉收、民生用水不足」，上述上、下游國家可能是？(A) 寮國、孟加拉 (B) 中國、越南 (C) 中國、菲律賓 (D) 柬埔寨、印尼

33. 此為某地傳統建築型態，影響此建築型態的主因為何？



- (A) 地勢平坦 (B) 氣候濕熱  
 (C) 河短流急 (D) 土壤貧瘠
34. 印度的軟體工業與跨國電信客服產業發達，其優勢為何？甲. 英語為官方語言 乙. 工資低廉 丙. 文化多元 丁. 國民識字率高 戊. 與歐美的時差 (A) 甲丙丁 (B) 甲乙戊 (C) 乙丙丁 (D) 乙丁戊
35. 快放暑假了，大家分享自己暑假的出國旅遊計畫，哪個人的計畫可能實現上有困難？  
 (A) 日向：去馬來西亞參觀橡膠園  
 (B) 影山：到巴基斯坦體驗種茶生活  
 (C) 研磨：前往泰國參觀四面佛  
 (D) 黑尾：從尼泊爾登喜馬拉雅山
36. 印度半島有「次大陸」之稱，原因為何？  
 (A) 次等大陸的簡稱 (B) 地勢較低  
 (C) 地形阻隔 (D) 民族複雜
37. 乾燥地區易形成沙漠，塔爾沙漠的成因有幾項正確？甲. 背信風 乙. 位於季風末端 丙. 涼流經過 丁. 副熱帶高壓籠罩 戊. 高山屏障  
 (A) 2項 (B) 3項 (C) 4項 (D) 5項
- ◎根據下圖，依題目回答 37-40 題
38. 塔爾沙漠的位於圖中何處？  
 (A) 甲 (B) 乙  
 (C) 丙 (D) 丁
39. 被印度人視為母親河，並且相信人死後把骨灰丟到河裡可以有更好的來世的河川？  
 (A) A (B) B (C) C (D) D
40. 小小兵在看南亞降水量分布圖時，發現☆兩側雨量有明顯差異，請問原因與降與類型為何？  
 (A) 迎風與背風；地形雨 (B) 距海遠近；鋒面雨  
 (C) 對流旺盛；對流雨 (D) 位於低緯；地形雨

