

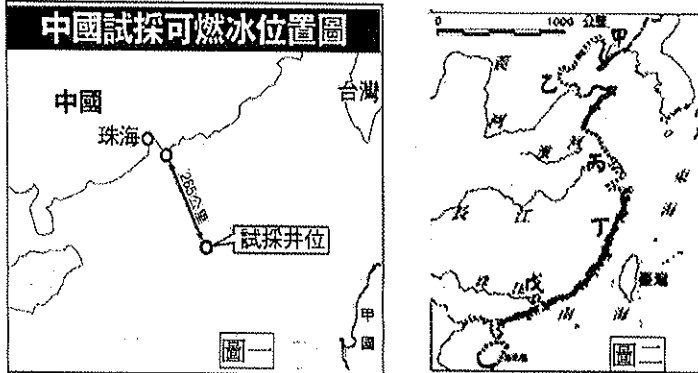
查、題組 (每題 2 分)

◎中國在 5 月 18 日宣布,已在某海域北部進行「可燃冰」試採成功(如圖一所示),下一步將擴大試採的範圍,而此舉也引發圖中甲國的不滿抗議。國際分析指出中國成功開採可燃冰可能會掀起新一輪資源爭奪戰,令該地區局勢升溫。請回答 1-2 題:

01. 圖中的試採井位為哪一海域?(A)黃海(B)東海(C)南海(D)渤海。
02. 依中國的鄰國位置判斷,提出抗議的「甲」國最可能是哪一個國家?(A)菲律賓(B)印度(C)俄羅斯(D)南韓。

◎下圖二為中國沙岸及岩岸地形分布圖。請回答 3-4 題:

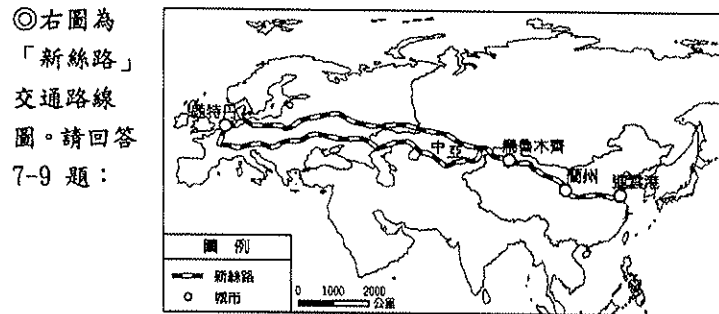
03. 沙岸和岩岸大致以下列何處為分界線?(A)杭州灣(B)廈門灣(C)珠江口(D)膠州灣。
04. 根據圖二判斷,較適合發展曬鹽或養殖漁業的是哪幾處海岸?(A)甲戊(B)乙丙(C)丙丁(D)甲丁。



◎附表為國土面積前六大的國家的資料。請回答 5-6 題:

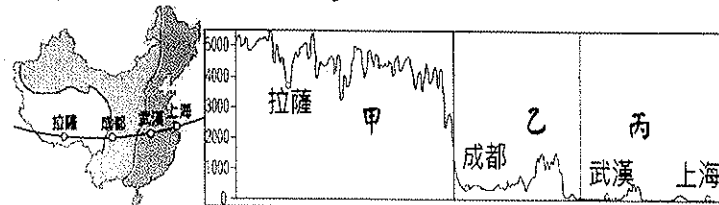
國家	甲	乙	丙	丁	戊	己
土地面積 (萬 km ²)	1,709	982	960	998	774	851
人口密度 (人 / km ²)	8.3	33	143.1	3.5	3.0	24.2

05. 請依表中資料判斷,哪一個國家最有可能是中國?(A)甲(B)乙(C)戊(D)己。
06. 全球國土面積排名——甲、乙、丁,應分別為下列哪些國家?(A)美國、巴西、俄羅斯(B)美國、澳洲、巴西(C)俄羅斯、美國、加拿大(D)俄羅斯、加拿大、美國。



07. 「新絲路」此條交通路線在考量效率和成本之下,應該是下列哪一種交通方式?(A)鐵路(B)河運(C)空運(D)公路。
08. 「新絲路」為中國與西方聯絡的主要交通要道,目的是想要加強中國與哪一洲的貿易往來,利於經濟整合?(A)美洲(B)非洲(C)澳洲(D)歐洲。
09. 「新絲路」從蘭州到烏魯木齊,途中會經過中國哪些行政區?(A)廣東、廣西(B)山西、陝西(C)湖北、湖南(D)甘肅、新疆。

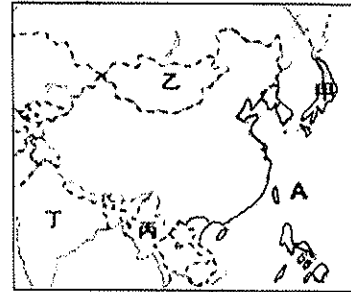
◎請依據下圖回答 10-12 題:



10. 右上圖是沿著中國拉薩-成都-武漢-上海所繪製的地圖,是用來表示地表起伏的一種方法,稱作?(A)地形剖面圖(B)航空照片(C)分層設色圖(D)等高線地形圖。

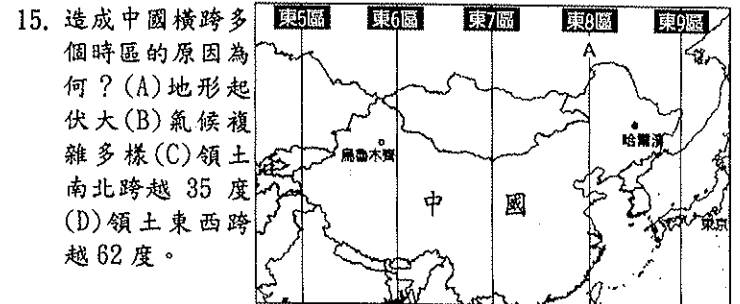
11. 圖中箭頭所指的方向為何?(A)東(B)西(C)南(D)北。
12. 下列何者是圖中「乙」地形區的特徵?(A)風力堆積的黃土層(B)有豐富的風蝕地貌(C)地勢平坦遼闊,多草原(D)形勢封閉,盆底開闢許多梯田,農業發達。

◎下圖是中國位置與其鄰國分布圖。請回答第 13~14 題:



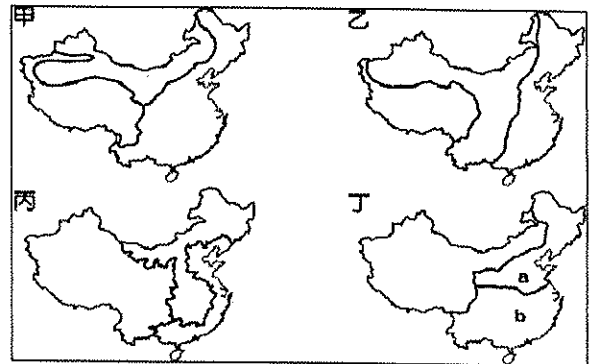
13. 在中國東邊的代號 A 海域是?(A)太平洋(B)大西洋(C)印度洋(D)北極海。
14. 下列有關中國的鄰國何者敘述正確?(A)甲為北韓(B)乙是俄羅斯(C)丙為緬甸(D)丁是越南。

◎下圖為中國時區圖。請回答 15-19 題:



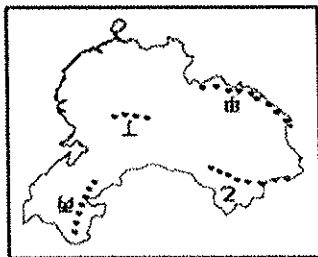
15. 造成中國橫跨多個時區的原因為何?(A)地形起伏大(B)氣候複雜多樣(C)領土南北跨越 35 度(D)領土東西跨越 62 度。
16. 圖中的「A」應為經線幾度?(A)60°E(B)90°E(C)120°E(D)180°E。
17. 中國為了方便管理,全國以下列哪個城市的時間作為統一的標準時間?(A)北京(B)天津(C)上海(D)重慶。
18. 住在東京的小新利用暑假前往中國烏魯木齊旅遊,為了配合目的地所在國家的時間,他應該將手錶時間做下列何種調整?(A)調快 1 小時(B)調慢 1 小時(C)調快 3 小時(D)調慢 3 小時。
19. 當哈爾濱早晨 6 點天剛亮時,烏魯木齊當地的景觀最可能為下列何種情形?(A)同時天亮(B)日正當中(C)夕陽西下(D)繁星點點。

◎下圖為四種中國地理區的劃分簡圖。請回答 20-24 題:



20. 圖中何者最適合呈現中國經濟發展的區域特色?(A)甲(B)乙(C)丙(D)丁。
21. 哪一張圖最適合說明中國主要河川流向多為由西向東流?(A)甲(B)乙(C)丙(D)丁。
22. 「丁」圖的命名最適合下列哪個名稱?(A)中國三級階梯(B)中國三大經濟帶(C)中國三大區域(D)中國三大氣候區。
23. 承上題,「丁」圖中 a、b 兩區的主要界線為何者?(A)秦嶺、淮河(B)長江、珠江(C)黃河、秦嶺(D)大興安嶺、長城。

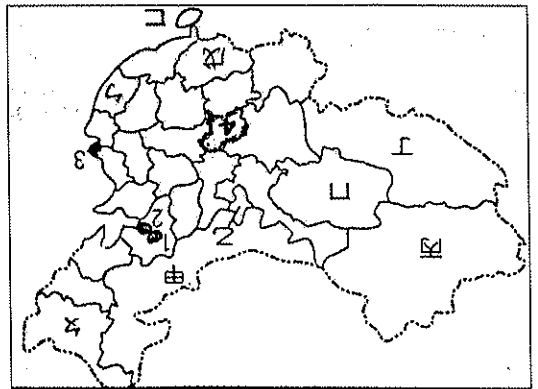
◎下圖是中國主要山脈的分布圖。請回答 24-27 題：



24. 由圖得知，中國西部山脈多呈現「東—西」走向。請問：這種現象與下列哪項因素有關？(A) 冰河侵蝕 (B) 緯度高低 (C) 距海遠近 (D) 板塊運動。
25. 圖中哪一座山脈是世界最高的山脈？(A) 甲 (B) 乙 (C) 丙 (D) 丁。

26. 承上題，該山脈主要是哪兩個板塊推擠而成？(甲) 太平洋板塊 (乙) 印澳板塊 (丙) 歐亞板塊 (丁) 菲律賓海板塊 (A) 甲乙 (B) 甲丙 (C) 乙丙 (D) 丙丁。
27. 「丙」山脈是哪兩個地形區的分界線？(A) 黃土高原、四川盆地 (B) 準噶爾盆地、塔里木盆地 (C) 內蒙古高原、東北平原 (D) 四川盆地、雲貴高原。

◎下圖為中國行政區圖，包括直轄市、省、自治區和特別行政區。請回答 28-35 題：

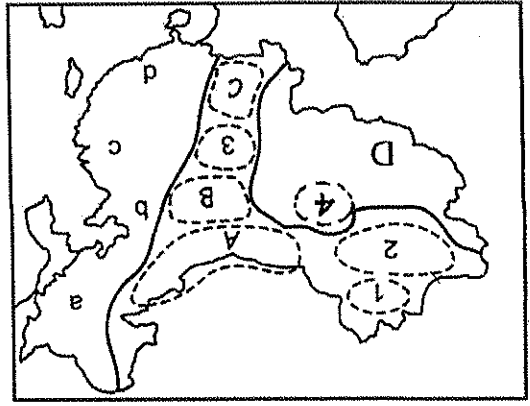


28. 由圖可知，中國省級行政區面積大者多在西北部，小者多在東南部，造成此現象的原因為何？(A) 山脈走向 (B) 人口多寡 (C) 氣候差異 (D) 共產政體。

29. 漢河縣北極村是中國緯度最高的村鎮，是中國唯一可觀賞到北極光的地方。請問漢河位於哪一個行政區？(A) 遼寧省 (B) 吉林省 (C) 內蒙古自治區 (D) 河北省。
30. 何者因為和臺灣的距離最近，因此最有利於兩地之間的交通和貿易往來？(A) 遼寧省 (B) 安徽省 (C) 江西省 (D) 河南省。

31. 何者全境在北回歸線以南，可以感受中國的熱帶風情，有「中國夏威夷」的稱號？(A) 遼寧省 (B) 安徽省 (C) 江西省 (D) 河南省。
32. 自治區是因為具有什麼特殊的條件？(A) 經濟特別發達 (B) 曾被殖民的歷史 (C) 工業大城市 (D) 少數民族人口眾多。
33. 內蒙古高原的游牧民族在哪个自治區 (A) 甲 (B) 乙 (C) 丁 (D) 戊。

34. 若想要體驗獨特的藏族文化，應前往哪個自治區最能有所收穫？(A) 甲 (B) 丙 (C) 丁 (D) 戊。
35. 1-4 是中國的直轄市，下列哪一項敘述不符合事實？(A) 1、2 兩都市位在華北平原 (B) 3 為中國首都，也是最大都市 (C) 面積最大、升級最晚的直轄市是 4 (D) 3 和 4 瀕臨長江。



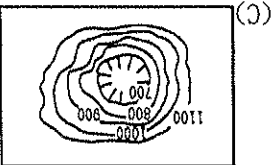
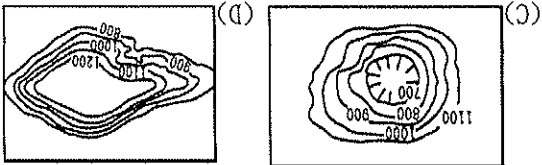
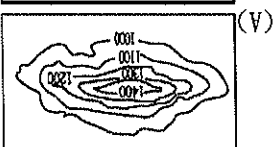
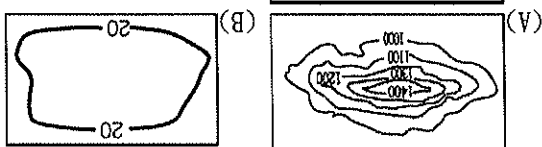
◎下圖為中國地形分布圖，圖中代號分別代表不同地形區。請回答 36-43 題：

36. 「d」是中國南部的人口稠密區，其名稱是下列何者？(A) 東北平原 (B) 華北平原 (C) 長江中下游平原 (D) 珠江三角洲。

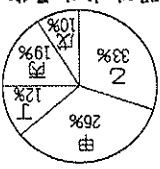
37. 承上題，「d」平原的形成原因是下列何者？(A) 河流沖積 (B) 板塊擠壓 (C) 風力堆積 (D) 冰河侵蝕。
38. 何者是中國面積最大的盆地，且分布著中國第一大沙漠—塔克拉瑪干沙漠？(A) 1 (B) 2 (C) 3 (D) 4。
39. 茶卡湖低淺的湖面上都是鹽的白色結晶，當地人將這座湖稱為「鹽海」。請問：茶卡鹽湖位於哪座盆地，該盆地因礦產資源豐富，被譽為「聚寶盆」？(A) 1 (B) 2 (C) 3 (D) 4。
40. 「峰林、殘丘、石林、伏流」等石灰岩地形在哪个地區最有名？(A) A (B) B (C) C (D) D。

41. 承上題，形成這種地形最主要的營力作用是什麼？(A) 溶蝕作用 (B) 風蝕作用 (C) 冰蝕作用 (D) 河川侵蝕。
42. 何者是中國地勢最高峻，相對高度最大，有「世界屋脊」之稱？(A) A (B) B (C) C (D) D。
43. 「B」區因土質疏鬆，水土流失極為嚴重，形成千溝萬壑的地貌？請問：「B」區應是哪一地形區？而該區的地區地形，其成因應為何者？(A) 青藏高原；板塊擠壓 (B) 黃土高原；河川侵蝕 (C) 華北平原；強風吹蝕 (D) 四川盆地；斷層陷落。

44. 廣西龍縣縣地多丘陵，為了增加耕地面積，當地居民如何因應以增加耕地面積？(A) 填湖造陸 (B) 廣闊梯田 (C) 興建水庫 (D) 建造攔沙壩。
45. 中國農業發達、人口密集的精華區是位於下列何種地形？



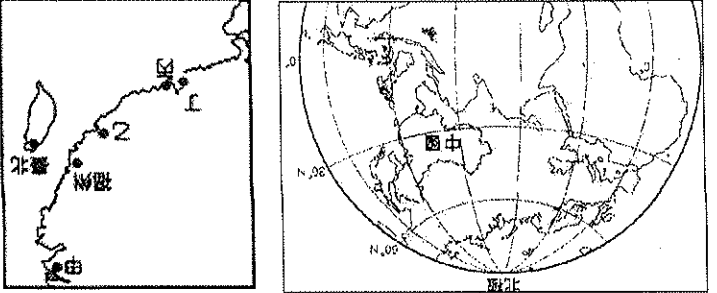
46. 右圖是依中國五大地形比例所繪製的圓餅圖，圖中的甲、乙兩區域分別代表哪兩種地形？(A) 高原、丘陵 (B) 高原、山地 (C) 盆地、山地 (D) 平原、盆地。



47. 青藏高原是中國湖泊分布最密集的地區，請問造成此果實的主要原因？(甲) 冰河侵蝕 (乙) 雨水溶蝕 (丙) 斷層作用 (丁) 流水侵蝕。正確的是？(A) 甲乙 (B) 乙丙 (C) 丙丁 (D) 甲丙。
48. 下列有關「京杭大運河」特色的敘述：(甲) 主要溝通華北平原和長江中下游平原 (乙) 位於中國地勢第二階梯中 (丙) 連接了長江、黃河、淮河、海河、錢塘江 5 個水系 (丁) 受河川流向影響，運河大致呈南北走向。正確的有幾項？(A) 1 項 (B) 2 項 (C) 3 項 (D) 4 項。

49. 下圖三為中國位置圖，依圖中位置判斷，下列敘述何者正確？(A) 位在北半球、西半球 (B) 大部分圖上在中緯度 (C) 領土跨越寒、溫、熱三氣候帶 (D) 北極圈經過北部地區。
50. 「十九世紀經濟因鴉片戰爭開啟，將此地劃歸給英國成為屬地，從而開通港口發展，直至西元 1997 年才回歸中國，並以『一國兩制』方式經營之。」請問以上文字是下圖四

中哪一城市的描述？(A) 甲 (B) 乙 (C) 丙 (D) 丁。



圖四

圖三