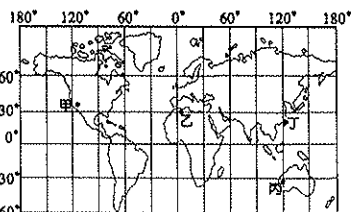


1. 地球上主要的氣候帶分為熱帶、溫帶、寒帶地區。請問：畫分這些氣候帶的主要依據為何？【甲】赤道 【乙】回歸線 【丙】極圈 【丁】本初經線  
(A)甲乙 (B)乙丙 (C)丙丁 (D)甲丁

2. 各地的氣候特色受到地理

位置的影響甚大，而形成不同的季節變化。圖一為世界各地主要的都市位置所在，其中哪一個都市在7月分時的月均溫最低，為當地的冬季？(A)甲 (B)乙 (C)丙 (D)丁



圖一

3. 承上題，針對圖一乙點的氣候特色，下列敘述何者**正確**？  
(A)降雨受到東北信風的影響 (B)此種氣候多分布在陸地東岸 (C)夏天為雨季 (D)夏天受到副熱帶高壓影響。

4. 小昱從非洲地區赤道出發，一路往北前進，依序會經過哪些熱帶氣候？(A)雨林→沙漠→海洋性 (B)莽原→地中海型→大陸性 (C)沙漠→雨林→地中海型 (D)雨林→莽原→沙漠

5. 關於溫帶沙漠的成因，下列同學的敘述何者**錯誤**？

- (A)佑佑：由於副熱帶高壓籠罩，下沉空氣導致乾燥少雨。  
(B)皓皓：可能是因為地處背風側，因而少雨。  
(C)臻臻：沿岸有寒流或是涼流經過，氣流穩定不降雨。  
(D)慈慈：中國的塔克拉瑪干沙漠因地處內陸，所以是乾燥的溫帶沙漠。

6. 若依照降雨的季節分布，下列氣候類型中，共有幾項屬於夏雨冬乾的氣候類型？【甲】溫帶季風 【乙】熱帶雨林 【丙】溫帶大陸性氣候 【丁】溫帶地中海型 【戊】極地氣候 【己】熱帶莽原 (A)2項 (B)3項 (C)4項 (D)5項

7. 亞洲為七大洲中面積最大的一洲，四周主要的地形區中，包含了【甲】印度半島【乙】南洋群島【丙】阿拉伯半島【丁】日本群島【戊】朝鮮半島。請問，哪些地區位於東北亞？(A)甲乙 (B)乙丙 (C)丙丁 (D)丁戊

8. 附表為日本東、西兩岸的比較，何者**錯誤**？

項目	(A)	(B)	(C)	(D)
	瀕臨海洋	冬季降雨	夏季降雨	工業區
東岸	日本海	少	多	多
西岸	太平洋	多	少	少

9. 關於日本氣候的敘述，何者**正確**？(A)日本和同緯度的中國城市相比較，冬季較冷，夏季較熱 (B)冬季時，東部較西部常發生大雪 (C)親潮為日本帶來溫暖、潮濕的氣候影響 (D)大多屬於溫帶季風氣候

10. 小宏打算利用寒假跟家人到日本參觀世界文化遺產-合掌屋，建築屋簷多為傾斜設計，其目的為方便積雪滑落。請問：當地冬季凝結降雪的水氣源於哪個海域？  
(A)黃海 (B)南海 (C)日本海 (D)太平洋。

11. 日本311大地震後，位於本州東側的福島電廠受到損害，導致日本漁產有受到核污染的疑慮。為此，北海道的漁產公會提到：「民眾可以安心食用北海道的水產，因為根據洋流流向，和輻射不可能由水流帶往北海道。」請問：上文中提到的洋流為何？  
(A)親潮 (B)黑潮 (C)中國沿岸流 (D)北大西洋暖流

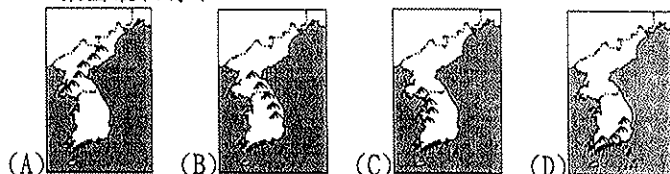
12. 日本第一高峰富士山，高度雖比台灣第一高峰玉山來得低，但富士山頭卻終年積雪，造成此現象的主要原因為何？(A)生長季較長 (B)雨量較少 (C)緯度較高 (D)開發程度較高

13. 東北亞亞包含南、北韓和日本三國，這三個國家在地理環境上的共通點為何？(A)皆為位於太平洋東側的國家 (B)皆為溫帶季風氣候 (C)皆為中國的陸上鄰國 (D)皆為群島國

14. 附表為南、北韓的農業環境比較，哪一項**正確**？

項目	(A)	(B)	(C)	(D)
	生長季	年均溫	年雨量	耕地面積
北韓	短	高	多	大
南韓	長	低	少	小

15. 太白山脈可說是朝鮮半島的脊梁，其分布位於與下列哪一張圖最相符？

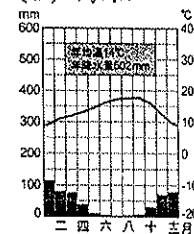


16. 承上題，北韓與中國的分界為何？

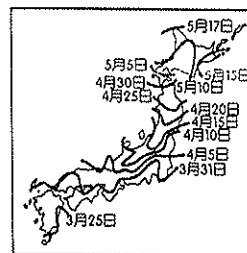
- (A)大興安嶺 (B)38°N (C)太白山 (D)鴨綠江

17. 右圖是萱萱地理報告所找到的資料

圖，依此圖判斷，這次地理報告的主題最可能是哪種氣候類型？  
(A)熱帶雨林 (B)溫帶沙漠  
(C)溫帶地中海型 (D)熱帶莽原



18. 日本一年一度的櫻花季，替日本帶來可觀的觀光商機。小杰打算和父母利用清明連假到日本賞櫻。根據右圖資料，小杰應前往何處賞櫻？(A)本州 (B)四國 (C)九州 (D)北海道




19. 承上題，影響櫻花開放的時間和下列哪一選項的原因相同？

- (A)西岸冬季降雪 (B)日本東側漁業資源豐富 (C)台灣北部冬季降雨 (D)南韓比北韓生長季長

20. 「這個城市舊名漢城，位於漢江畔，昔日為朝鮮李氏王朝的首都，今日為南韓的首都，為朝鮮半島上最大的都市，也是全國交通經濟中心。」上文所描述的是下列哪一個城市？(A)平壤 (B)釜山 (C)首爾 (D)東京。

21. 高緯度地區的年均溫通常較低緯度低區低，這和下列哪項因素關係最大？(A)季風方向 (B)日照時間 (C)日照角度 (D)地勢高低

22. 緯度高低影響一地區的氣候變化狀況，請以下列氣候圖中的型態判斷，在不考慮其他因素時，何者距離赤道最近？

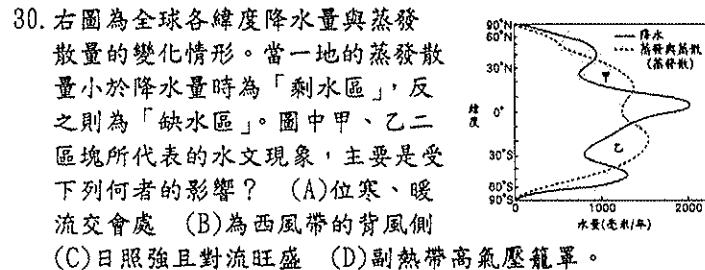


23. 歐亞非三洲為相連的陸塊，下列那兩座山為歐亞的分界山？【甲】烏拉山【乙】喜馬拉雅山【丙】高加索山【丁】長白山 (A)甲乙 (B)丙丁 (C)甲丙 (D)乙丁

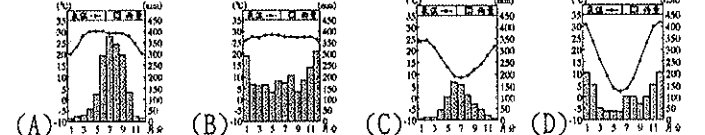
24. 下列何者最足以解釋日本能成為世界貿易大國和主要貿易順差國的主因？(A)出口高附加價值工業產品 (B)充分利用山地資源 (C)發展精緻農業帶來大量利潤 (D)致力於捕撈高經濟價值漁類。

25. 南韓早期以出口導向的輕工業為主，現今更以影視娛樂文化事業崛起。北韓境內的工業發展是以何種導向為主？  
(A)輕工業 (B)民生工業 (C)軍事工業 (D)加工製造業

26. 北韓糧產不足，常有饑荒的問題，除了因為生長季短的影響外，與下列何項因素關係密切？(A)政治制度 (B)暖流經過 (C)火山地震頻繁 (D)年降水量不足
27. 比較中國東北地區主要的工業都市與日本的主要工業都市分布的位置，分別屬於何種工業區位？(A)中國：市場；日本：動力 (B)中國：原料；日本：交通 (C)中國：勞工；日本：原料 (D)中國：勞工；日本：政策
28. 朝鮮半島上，無論南韓或是北韓，人口集中的精華區，大都分布在西側的黃海沿岸。此一事實與下列哪一因素關係最密切？(A)雨量較為豐富 (B)地勢較為平坦 (C)氣溫較為溫暖 (D)水系較為密集。
29. 在緯度40度以北的太平洋東岸，高空中發現源自於海洋另一邊中國內蒙的黃土塵埃懸浮顆粒。請問：下列何者最可能是這些黃土塵埃飄洋過海的原因？(A)颱風 (B)西南季風 (C)盛行西風 (D)東南信風。



31. 美美的家鄉位於南半球，而且當地冬季降雨比夏季多。下列哪一張圖最可能是小妮家鄉的氣候資料？

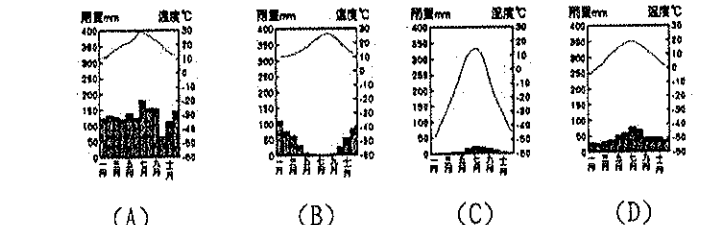


32. 小慈計畫從東北亞的日本一路向南沿著陸地開船航行至西亞的沙烏地阿拉伯。請問：在他的旅程中不會經過哪個海域的範圍？(A)大西洋 (B)印度洋 (C)太平洋 (D)南海

33. 下列亞洲各地理區與所在分區的配對，何者正確？(A)朝鮮半島屬於東南亞 (B)中南半島屬於中亞 (C)阿拉伯半島屬於西亞 (D)印度半島屬於東亞。
34. 亞洲沿海半島與島嶼中，有「東亞橋樑」之稱的是？(A)朝鮮半島 (B)中南半島 (C)印度半島 (D)南洋群島
35. 下列有關南韓的地理環境比較，何者與緯度高低的關係最為密切？(A)南韓地勢較低 (B)南韓糧食生產較多 (C)北韓礦產較豐 (D)北韓軍事工業較具規模

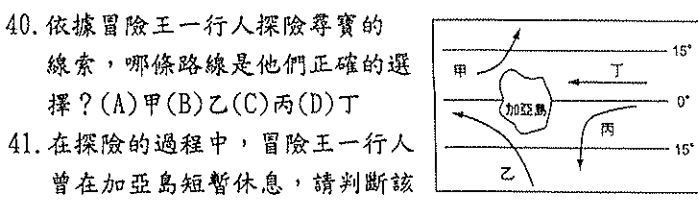
36. 南韓隊到臺灣來參加國際比賽時，總是會攜帶具有家鄉味的食物，尤其是泡菜更是不可缺少。請問：南韓當地盛行食用該食物的主要原因為何？(A)土壤貧瘠 (B)冬季氣候嚴寒 (C)降雨量少 (D)地形崎嶇。

37. 下列四張氣候圖中，哪一張與東北亞地區的氣候特徵最為類似？

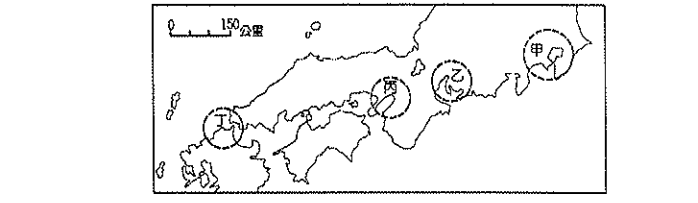


38. 亞洲地勢以哪裡為中心，向四周遞降，使河川呈放射狀入海？(A)青藏高原 (B)蒙古高原 (C)伊朗高原 (D)帕米爾高原
39. 亞洲範圍廣大，涵蓋多種氣候類型。請問，下列何種氣候後類型無法在亞洲看到？(A)季風氣候 (B)乾燥氣候 (C)溫帶地中海型氣候 (D)雨林氣候

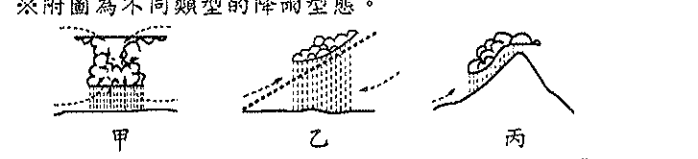
※冒險王在航海日誌上寫道，為了尋找傳說中的寶藏，他順著「涼流」的流向而順利找到黃金鄉的位置。下圖為冒險王當時所繪製的洋流分布圖。請問：



※下圖為日本重要工業區示意圖，依據題目回答下列問題：

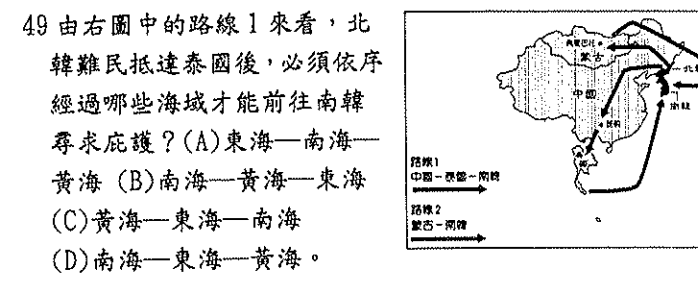


42. 2016年4月，臺灣的鴻海集團正式宣布入主日本企業夏普，大力投資入主日本企業夏普，可以獲得的生產條件最可能為下列何者？(A)廉價勞工 (B)進步技術 (C)工廠土地 (D)礦產原料。
43. 夏普為日本百年企業，屬於該國八大電子產品工業公司之一，總部設立於大阪。若鴻海總裁要前往大阪視察，則應該到附圖中何處？(A)甲 (B)乙 (C)丙 (D)丁
44. 日本大多數工業區集中在下列那一島？(A)九州 (B)本州 (C)四國 (D)北海道
45. 甲、乙、丙依序為日本哪三大平原？(A)關東、近畿、濃尾 (B)近畿、濃尾、關東 (C)濃尾、近畿、關東 (D)關東、濃尾、近畿



46. 赤道地區一年之中每天的天氣預報幾乎都是：「上午晴，下午雨，之後再晴。」請問：上述所稱的「雨」，其降雨類型應為下列何者？(A)甲 (B)乙 (C)丙
47. 溫帶地中海型氣候及溫帶海洋性氣候分布範圍皆為大陸西岸，其降雨型態應為下列何者？(A)甲 (B)乙 (C)丙
48. 日本西岸冬季降雪，屬於何種降水類型？(A)甲 (B)乙 (C)丙

※北韓為共產國家，實施極權統治且經濟發展落後，因此經常出現北韓民眾逃亡海外，成為國際難民以期獲得其他國家的政治庇護。附圖為北韓難民的主要脫逃路線，請問：



50. 由附圖來看，北韓難民最後大多前往同樣位於朝鮮半島上的南韓。南、北韓大致是以下列何者為界線，而形成兩個對立的政權？(A)東經128度 (B)北緯38度 (C)白山脈 (D)對馬海峽。