

一、單題(每題 2 分)

- () 1. 要判斷附表甲、乙兩聚落是都市或鄉村，哪項指標可作為最主要的依據？

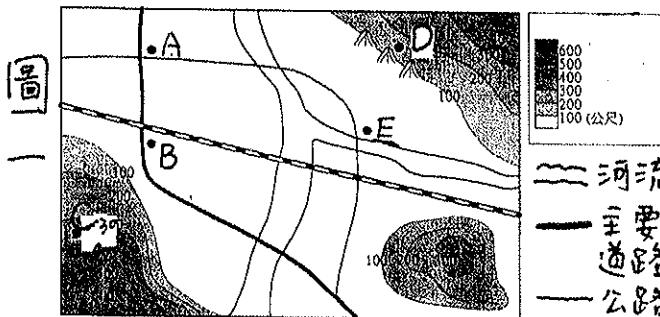
聚落	公車班次時間	人口總數	面積大小	職業結構
甲	15 分	8,800 人	159km ²	農 72%，非農 28%
乙	12 分	8,000 人	250 km ²	農 33%，非農 67%

(A)公車班次(B)人口總數(C)面積大小(D)職業結構

- () 2. 臺灣能夠在短時間內迅速邁向高度都市化國家，其主要原因為何？(A)九年國民義務教育的實施 (B)工商業發達，經濟繁榮(C)加入世界貿易組織(WTO)的結果(D)民主政治的推行


- () 3. 臺灣西部為都會區主要分布地區，其形成因素不包括下列何者？(A)經濟繁榮(B)交通方便(C)氣候優良(D)人口眾多

- () 4. 參考附圖一，甲、乙、丙、丁、戊五個聚落，哪個最有可能發展成較大都市？



季節 地區	夏季	冬季
A	79%	21%
B	78%	22%
C	62%	38%
D	90%	10%

表一



(A)甲、乙、戊 (B)甲、乙、丁 (C)乙、丁、戊 (D)甲、丙、戊

- () 5. 附表一為四個區域冬、夏降水量分配的百分比。哪個地區最能代表臺灣北部區域的降水特性？
- () 6. 請見右上道路標誌，如果要從宜蘭開車到台北，最快的方式是經由以下哪條道路？
- () 7. 臺北因經濟快速發展而與鄰近地區結合成大都會區，此與下列哪項因素較有關？(A)大量人口的移入 (B)行政區擴大 (C)實施都市擴張計畫 (D)都市更新計畫
- () 8. 若是俄羅斯要將石油賣給鄰近的中國，最適合的是哪種運輸方式？(A)空運 (B)河運 (C)海運 (D)管線
- () 9. 下列何者不屬於通訊的範圍？(A)電信 (B)郵政 (C)瓦斯管線 (D)電腦網路
- () 10. 「台灣好行」中部線由臺中站出發，經過埔里遊客中心、桃米坑(紙教堂)、日月老茶廠，最後到達日月潭風景區。請問該路線是採用哪種交通方式？(A)陸運 (B)海運 (C)空運 (D)管線
- () 11. 2010 年 1 月中美洲海地大地震發生時國際各國紛紛伸出援手，政府發起「送愛心到海地」活動，及時運送救援物資(藥品、救災糧食)以哪種交通方式最合適？(A)陸運 (B)海運 (C)空運 (D)管線
- () 12. 港口集中和分散貨物所能到達的地區稱為腹地。一個港口腹地的大小與下列何者關係最為密切？(A)緯度位置的高低 (B)勞力是否充足 (C)交通建設是否發達 (D)是否有充足的煤鐵礦
- () 13. 啟軒為製作「臺灣鐵路」報告，發現現有鐵路支線多在 1951 年前完成，當時作為農林礦業產品運輸，其主要考量為何？(A)運送速度為當時最快 (B)載運量大適合長途運輸 (C)可適應地形深入各地 (D)適合運送價值高的物品
- () 14. 下列哪種交通建設完工，使得旅運時間大幅縮短，彰化或雲林的蔬菜可以快速運輸至全臺各地，提供都會區所需，因此逐漸發展成為種植蔬菜的專業區？(A)高速公路 (B)高速鐵路 (C)捷運系統 (D)國際機場
- () 15. 「兩岸猿聲啼不住，輕舟已過萬重山。」李白到廣陵是乘坐哪種交通工具？(A)騎馬 (B)步行 (C)乘車 (D)坐船
- () 16. 「為朝永續城市邁進，改善空氣品質，臺北市辦理「週五綠色運輸日集點活動」，民眾於每週五使用綠色運具，即可依搭乘次數集點並在超商兌換購物金。」請問下列哪個選項符合文中的敘述？(A)為了集點，應該每天都搭公車上下課 (B)綠色運具指的是大眾運輸系統 (C)宜蘭縣也應興建捷運響應活動以符合效益 (D)捷運的運量小，適合短程運輸
- () 17. 下列哪一敘述跟氣候無關？(A)澎湖風力發電(B)台南早期發展曬鹽(C)墾丁冬季遊客仍多(D)北部高科技業發達
- () 18. 下列何者對臺灣東部區域的開發貢獻最少？(A)北迴鐵路(B)南迴鐵路(C)中山高速公路(D)中部橫貫公路
- () 19. 臺灣哪種大眾運輸的開通，讓「一日生活圈」已非難事？(A)高速公路(B)高速鐵路(C)捷運系統(D)日月潭覽車
- () 20. 修德是生活在清朝末年的艋舺商人，關於他的生活經驗，下列何者正確？(A)他可藉著劉銘傳大人所修築的鐵路，進入山區開伐木材 (B)淡水河流量穩定，他可藉由河運運輸貨品 (C)沿海海運不發達，他的貨品要賣到安平必須靠陸運 (D)到宜蘭必須翻山越嶺穿越中央山脈
- () 21. 有關臺灣四大區域的描述，下列何者正確？(A)北部的發展以臺北盆地為中心，是臺灣最大都會區 (B)八卦台地為中部人口最密集的地區 (C)南部夏乾冬雨的氣候，塑造出典型的鹽田及養殖漁業景觀 (D)東部緊鄰大西洋，原住民眾多
- () 22. 星如想要趁寒假安排戶外旅遊，那麼她最好選擇下列哪個城市，比較不會遇到雨天打壞了出遊的興致？(A)宜蘭 (B)基隆 (C)臺北 (D)臺南

- () 23. 西南部是臺灣典型的沙質海岸，在這裡可能看不到下列哪種景觀？(A)魚塭養殖(B)消波塊 (C)鹽田、鹽山 (D)岬角
- () 24. 臺灣南部有許多水利設施，如烏山頭水庫、嘉南大圳、曾文水庫等，這些水利設施的興建與當地哪種自然特徵最為相關？(A)年降水量少 (B)降水季節分布不均 (C)日照強烈、蒸發量大 (D)沿海地區地層下陷
- () 25. 雙心石滬、柱狀玄武岩地形、吉貝沙灘。請問這些景觀可能出現在哪裡？(A)花蓮(B)墾丁(C)鹿港(D)澎湖
- () 26. 臺灣南部河川遭受汙染的程度，往往比北部來得嚴重，其汙染物留滯在河床的原因，與南部河川的哪種特性最有關係？(A)流量變化較大 (B)河流坡度較陡 (C)河流長度較長 (D)流域面積較廣
- () 27. 「初鹿之夜，牧場唱情歌。紅頭嶼、三仙台，美麗的海岸」以上景觀可以在哪個縣市看到？(A)臺東縣 (B)雲林縣 (C)新北市 (D)金門縣
- () 28. 高雄港為何種地形改建？(A)灣澳地形(B)潟湖(C)珊瑚礁海岸(D)斷層海岸
- () 29. 母親節時仁誠買了一把炮彈殼為材料的菜刀給媽媽用，請問這把菜刀最有可能來自哪裡？(A)小琉球 (B)蘭嶼 (C)金門 (D)澎湖
- () 30. 下列哪些島嶼屬於大陸島？甲、金門 乙、馬祖 丙、龜山島 丁、琉球嶼 (A)甲乙丁(B)甲乙(C)乙丙丁(D)乙丙
- () 31. 根據行政院的資料顯示，臺北市地區的家庭平均年所得約為 160 萬元，遠較雲林縣約 80 萬元為佳。造成這兩個地區年收入高低不同，最主要的原因為下列哪項？(A)產業發展 (B)土地面積 (C)礦藏分布 (D)公車班次
- () 32. 澎湖縣因勞動力有老化的現象，使傳統漁業逐漸衰微。澎湖地區勞動力老化，主要是受下列哪項因素的影響？(A)家庭計劃推廣，出生率降低 (B)醫術進步，死亡率降低 (C)人口分布不均 (D)人口大量外流
- () 33. 金門風獅爺設立是為了鎮風擋煞，金門島最有可能在哪个位置看到較多的風獅爺？(A)西南(B)西北(C)東南(D)東北
- () 34. 台灣區域發展不均，請問下列哪一項並非縮小差距的對策？(A)因地制宜適性發展 (B)東部地區興建高速鐵路 (C)透過縣市合併來擴大行政區 (D)加強偏遠地區電力、自來水等基礎建設
- () 35. 花蓮坐火車到台東，下列哪事件可能不會發生？(A)右側看到中央山脈(B)站名用原住民語發音(C)台灣海峽海水湛藍 (D)池上車站月台販售便當

二、題組：(每題 2 分)

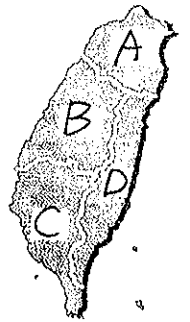
● 附表是某個地區三級產業就業人口的比例。請問：

- () 36. 該聚落最可能出現在下列何地？(A)臺北市文山區 (B)雲林縣古坑鄉 (C)宜蘭縣三星鄉 (D)屏東縣三地門鄉
- () 37. 下列哪個現象不會在該聚落出現？(A)人口大量外移 (B)人口死亡率低 (C)人口密度高 (D)環境汙染嚴重
- () 38. 此地區範圍有向外擴張的現象。下列何者為主要原因？(A)孩子上學較近(B)人口過於擁擠(C)工業區擴張(D)購物較方便

產業類型	第一級產業	第二級產業	第三級產業
就業人口比例	15%	40%	45%

● 「阮欲來去臺北打拚，聽人講啥咪好康的攏在那」這是閩南語歌曲《向前走》。請問：

- () 39. 歌詞反映出當時哪種現象？(A)工業化 (B)都市化 (C)鄉村化 (D)後工業化
- () 40. 歌詞中所謂的「好康的」，即是指哪種人口作用力？(A)推力(B)拉力(C)吸引力(D)排斥力
- () 41. 出了臺北車站後，下列哪種景觀較難看見？(A)人潮洶湧的街頭 (B)一大片的稻田 (C)高樓大廈林立 (D)為數眾多的汽機車



● 附圖為台灣分區圖。除 47. 50 題外請用附圖選項回答：

- () 42. 臺灣主要的花卉集中區，也是著名的公路花園是位於圖中哪個地區？
- () 43. 「無米樂」反應出臺灣臺南市後壁區稻農的心聲。請問：該片最有可能在圖中哪個地區拍攝？
- () 44. 目前轉型成為觀光性質的花蓮光復糖廠，是位於圖中哪個地區？
- () 45. 《天下雜誌》評比的一千大製造業、五百大金融業與一百大服務業的分布，主要集中在附圖的哪個區域？
- () 46. 苗栗地區隨處可見以客家文化做為主題的特色商店，苗栗是位於哪個區域？
- () 47. 這裡是台灣山地鄉最多的縣市，還有一條公路是全台灣唯一沒有中大型醫院的路，希望可以為原住民同胞提供更好的醫療服務，縮小城鄉差距，請問此路可能位在哪兩地區？(A)BC (B)CD (C)AB (D)AD
- () 48. 「台灣的糧倉、養殖漁業發達，超抽地下水而導致地層下陷」，此地區位於臺灣的哪個區域？
- () 49. 哪個地區港口擴建，加上周邊規劃眾多的工業區，已成為全臺鋼鐵、石化等工業的重鎮？
- () 50. 長久以來 D 區的工商業發展總是不如其他區域，原因可能為？(A)對外交通不便(B)氣候條件惡劣(C)政府計畫性打壓(D)居民排斥工商業