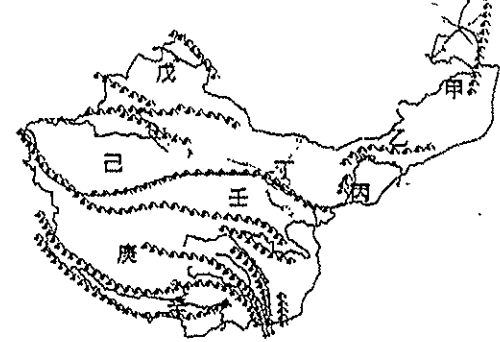


一、題組（每格 2.5 分，共 45 分）

*附圖為中國西部區域簡圖。請回答下列問題：



- 下列哪個敘述正確？(A)戊區為中國最大的沙漠區 (B)甲區水氣來自太平洋 (C)戊區水氣來自大西洋 (D)辛區的水氣來自北極海。
- 「己區」產的瓜果特別香甜，主要與何項環境因素有關？(A)日光充足，日夜溫差大 (B)土壤特別肥沃，富含礦物質 (C)以高山融化的雪水灌溉 (D)氣候乾燥少雨，多吸收地下水
- 承上題，當地有「地下長城」之稱的坎井，為一灌溉系統。下列關於坎井的敘述，何者正確？(A)主要是高地氣候區使用 (B)水源來自於內流河河水 (C)此構造可減少水分的蒸發 (D)此區引坎井的水來種植稻米為糧食
- 路克在地理雜誌上看到中國某一地形區成因的介紹，並附上右圖。請問：該雜誌最可能是在介紹哪個地形區？(A)乙 (B)丁 (C)庚 (D)戊



地盤

- 成吉思汗當年打敗花刺子模後，為了慶祝勝利，於是舉辦了有賽馬、射箭、摔跤和歌舞表演的「那達慕大會」。請問：那達慕大會是中國哪個地區少數民族每年夏季的重要盛會？(A)乙 (B)戊 (C)己 (D)庚
- 青稞粉是由青稞炒熟後磨製而成的，把青稞粉用酥油茶或青稞酒拌和，用手不斷在碗裡攪捏，揉合成團後用手往嘴裡送，是為「糌粑」。請問：青稞主要種植在圖中哪個地理區？(A)丙 (B)己 (C)庚 (D)辛。
- 請問：圖中何處呈現荒涼的「寒漠」景觀，而有「世界第三極」之稱？(A)丁 (B)己 (C)庚 (D)辛
- 位於第一級階梯，煤、石油、池鹽等資源豐富，有「聚寶盆」美稱的所指何地？(A)丁 (B)庚 (C)辛 (D)壬

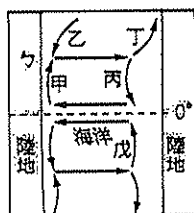
*右圖為河套地區圖，請根據此圖回答下列問題。

- 請問：造成此大彎曲的布套形狀，主要是受下列哪項因素影響？(A)泥沙堆積 (B)高原地形阻擋 (C)人為水利工程 (D)降水不均。
- 黃河河套地區溝渠縱橫，農業發達，其中以西套平原最為富庶。西套平原位於圖中何處？(A)甲 (B)乙 (C)丙 (D)丁
- 西套平原有「塞上江南」之稱，其栽植的主要糧食作物與下列哪個地區相同？(A)華北平原 (B)黃土高原 (C)藏南谷地 (D)長江三角洲



*右圖為某個假想地區的洋流圖。請問：

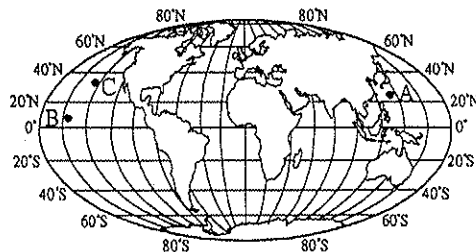
- 哪些洋流會造成沿海地區空氣穩定，對流不盛，形成較乾燥少雨的氣候？(A)甲丙丁 (B)乙丙戊 (C)甲乙戊 (D)乙丙丁
- 洋流依其性質的不同，而會影響一地的氣候



變化。造成北歐沿海一帶冬季不結凍的洋流，與圖中何者的性質相同？(A)乙 (B)丙 (C)丁 (D)戊

- 若依此圖判斷，圖中的「勺」地區可能擁有下列哪種豐富的資源？(A)漁業 (B)礦業 (C)林業 (D)農業

*附圖為世界簡圖，請問：



- 生物學家在一隻座頭鯨的背上裝置追蹤器，以觀察其全年的活動路徑！期望牠能參加一年一度的綠色博覽會賞鯨之旅活動。這隻座頭鯨從附圖 A 點出發，其間經過 B 點，再到 C 點。如果這隻座頭鯨如願到達，牠應是在哪兩個大陸之間活動？(A)亞洲、美洲 (B)美洲、歐洲 (C)非洲、歐洲 (D)澳洲、南極洲
- 關於地表的海陸特徵，下列敘述何者正確？(A)地球的海陸比例是海 3：陸 7 (B)北半球的陸地面積大於海洋 (C)南極洲為橫跨三大洋的一洲 (D)歐、非、北美三洲環繞北極海
- 若沿著赤道繞行地球一圈，不會經過下列哪個洲？(A)歐洲 (B)非洲 (C)美洲 (D)亞洲
- 關於世界七大洲、三大洋的敘述，下列何者正確？(A)非洲的面積最大 (B)南極洲有原住民——因紐特人 (C)美洲與歐洲之間的海洋為太平洋 (D)歐洲全境皆位於北半球

二、單題（每格 2.5 分，共 55 分）

- 西部地區主要分為蒙新、青藏兩區，兩者的分界大致與下列哪個地理分界相符？(A)中國一、二級農業區與二、三級農業區的分界 (B)中國季風氣候與高地氣候的分界 (C)中國主要水稻產區與小麥產區的分界 (D)中國地形第一級階梯與第二級階梯的分界
- 蒙古族自古以來多以拆遷兩便的「蒙古包」為主要居室，這種獨特的建築型態主要是為了適應哪種生活方式？(A)游牧 (B)漁獵 (C)採集 (D)農耕
- 中國新疆近年來因其豐富的天然資源而吸引許多大型企業前往投資設廠，但下列哪類型的產業在當地無法獲得充分的原料供應？(A)石油化學工業 (B)棉紡織業 (C)食品加工 (D)製茶業
- 內蒙古強勁的風力，造成當地特殊的地景。請問：下列哪些選項是因風力所形成的景觀？(甲)圓形蒙古包，減緩風勢 (乙)風力侵蝕，地形平坦 (丙)礫漠與沙丘 (丁)沙塵暴侵襲 (戊)溶蝕作用盛行 (己)河流流向由西向東 (A)甲乙丙丁 (B)甲乙戊己 (C)乙丙丁戊 (D)丙丁戊己
- 中國於一九八〇年代在內蒙古自治區開始增加人工草料種植的面積，為當地帶來許多的改變與影響，下列哪個改變與這個狀況較有直接相關？(A)畜牧方式由定居放牧轉為游牧 (B)改變山牧季移的移動時間 (C)畜牧牲畜數量減少 (D)由自給性畜牧轉為商業性畜牧。
- 河西走廊過去是中原一帶通往西域的必經之路，主要是因河西走廊具有哪個優越的地理條件？(A)盛產石油 (B)多種族雜處 (C)有連串的綠洲城市 (D)雨量稀少容易通行。
- 小新一家人坐火車到了青藏鐵路的終點——拉薩，導遊應該如何介紹這個城市才正確？(A)位於藏北高原上 (B)境內有布達拉宮 (C)有「春城」之別稱 (D)是西藏的第二大都市
- (甲)日照強烈 (乙)終年高溫 (丙)空氣稀薄 (丁)年溫差大，上述哪幾項是青藏高原氣候的特色？(A)甲乙 (B)甲丙

(C)乙丁 (D)丙丁

27. 「藏南縱谷有雅魯藏布江切出的山地缺口，夏季季風可夾帶水氣進入谷地，年降水量較多，利於發展農業，為西藏的精華區。」請問：此地的夏季季風風向為下列何者？(A)↙ (B)↘ (C)↗ (D)↖

28. 近年來全球提倡綠色能源，下列中國西部區域有關再生能源的配對，哪些選項正確？(甲)拉薩羊八井：地熱發電 (乙)青海湖：潮汐發電 (丙)新疆：風力發電 (丁)吐魯番窪地：水力發電 (A)甲乙 (B)甲丙 (C)乙丙 (D)丙丁。

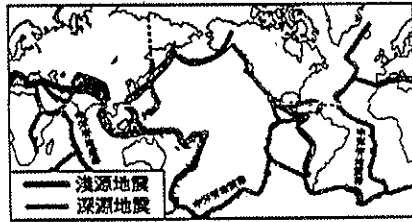
29. 中國西部區域國界線長，陸域鄰國眾多，少數民族又多跨境分布，故貿易往來頻繁。此區目前與鄰國貿易採行哪種方式？(A)設立貿易口岸 (B)設立經濟特區 (C)開放沿海城市 (D)設立科學園區

30. 西元2000年，中國開始推動「西部大開發」的政策，四大重點工程專案不包括下列哪項？(A)西氣東輸(B)西電東送 (C)青藏鐵路 (D)退田還湖

31. 中國西部區域發生沙塵暴的原因不包括下列何者？(A)住宅興建速度太快 (B)耕地面積過度擴張 (C)礦場過度開挖 (D)草原長期超限使用

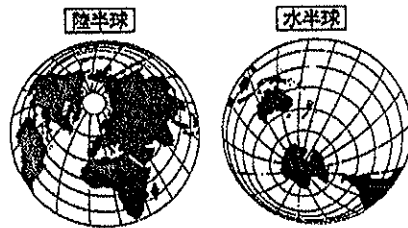
32. 近年來隨著□□建設的大量開展，使得中國西部區域與其他區域聯繫、交流大增且便利，但同時也浮現許多問題。上述的空格應填入什麼？且西部區域漸漸也出現哪種隱憂？(A)工業，區域內傳統文化的流失 (B)教育，少數民族與漢移民資源分配的潛在衝突 (C)農業，區域內傳統文化的流失 (D)交通，少數民族與漢移民文化差異的衝突

33. 附圖為世界的火山地震帶的分布情況，此圖與下列哪張圖最為相似？(A)世界海陸分布圖 (B)世界板塊分布圖 (C)世界行政區域圖 (D)世界地形分布圖

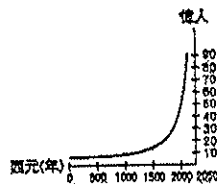


34. 小星參加地理知識競賽，有道題目為「世界之最」。下列為題目所舉出的「世界之最」，其中哪個選項是正確的？(A)世界最大的沙漠：塔克拉瑪干沙漠 (B)世界最高的山脈：安地斯山脈 (C)世界最大的雨林：亞馬孫雨林 (D)世界最大的高原：青藏高原

35. 附圖是水、陸半球的海陸分布圖(深色為陸地、淺色為海洋)。以下關於此圖的敘述，何者正確？(A)南極洲是水半球中心 (B)水半球的海洋面積約占55% (C)中國和美國皆位於陸半球 (D)陸半球的陸地較海洋面積大。

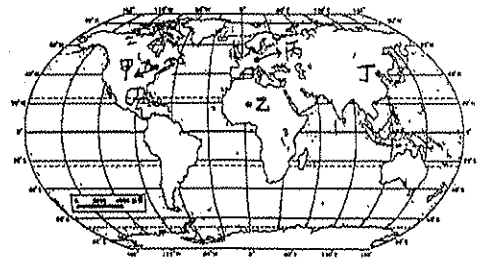


36. 附圖為世界人口成長圖。請問：從這張圖中可發現世界人口的成長具有下列何種特徵？(A)人口分布不均 (B)人口集中於平原地形 (C)人口倍增時間縮短 (D)人口成長速度緩慢。




37. 承上題，造成此特徵的原因不可能為下列何者？(A)科技進步，糧產增多 (B)醫療進步，壽命延長 (C)死亡率日益下降 (D)氣候變遷，適於人居的地區愈來愈多

38. 附圖是大雄在世界地圖上所標示的世界人口密集區，哪個位置是錯誤的？(A)甲 (B)乙 (C)丙 (D)丁。



39. 附圖為某個機場的指標，是專為某個宗教的信徒所準備的，此宗教必須每日朝參所在的方向朝拜五次，信仰此宗教的國家應該位於附圖(二)中的何處？(A)甲 (B)乙 (C)丙 (D)丁



圖(一)



圖(二)

40. 不同民族在不同環境孕育出多元文化，也反映在語言、宗教等內在精神層次上。請問：附圖中黑色地區的国家因宗教信仰的影響，大部分的居民具有下列哪一生活習性？(A)以法語為官方通行語 (B)將牛隻視為聖獸看待 (C)每周五上教堂做禮拜 (D)每日定時向聖地參加朝拜。

