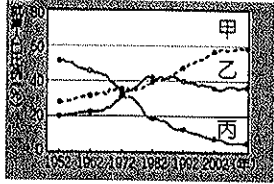


宜蘭縣立羅東國中 105 學年度第二學期七年級地理科第一次段考試卷

選擇題：每題 2 分，請用 2B 鉛筆作答

班級： 座號： 姓名：


- 關於各產業活動的敘述，下列何者正確？(A)第一級產業只包括農業 (B)第二級產業是取自於自然或培育利用者 (C)第三級產業即服務業 (D)服務業包括金融、運輸、貿易、營造業。
- 臺灣產業結構隨社會發展不斷變遷，左下圖(一)為臺灣三級產業就業人口比例圖，甲線段的產業活動所涵蓋的類型中，不包括下列何者？(A)觀光業 (B)金融業 (C)電子業 (D)運輸業。



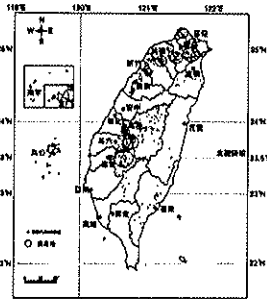
產業	比例
第一級產業	82.8%
第二級產業	10%
第三級產業	7.2%

圖(一) 表(一)

- 右表(一)為甲國的三級產業比例表，由表可知甲國的產業特色為下列何者？(A)甲國屬於經濟發達國家 (B)服務業的比例最高 (C)加工製造業發達 (D)農牧業發達。
- 林小絃家人的就業情況如下：阿公(種田)、小阿姨(國小老師)、爸爸(麵包店老闆)、媽媽(記者)、叔叔(鐵工廠工人)。林小絃家裡從事第一、第二、第三級產業的人口各有多少？(A)兩人、兩人、一人 (B)一人、一人、三人 (C)兩人、無、三人 (D)一人、兩人、兩人。
- 以下關於台灣農業的敘述，何者錯誤？(A)台灣早期主要的農作物有水稻、茶葉、甘蔗 (B)近年來台灣稻米產產量過剩，部分稻田轉作蔬果和花卉 (C)稻米仍是全台種植面積最大的作物 (D)甘蔗仍是台灣最重要的經濟作物。
- 謝小縉是美國的一名農夫，他的農田非常大，但是農場只有三名員工，員工平日多以機械耕作，噴灑肥料也駕駛小飛機，謝小縉農田的耕作特色，下列何者正確？(甲)集約耕作(乙)粗放耕作(丙)單位面積產量高(丁)單位面積產量低 (A)甲、丙 (B)甲、丁 (C)乙、丙 (D)乙、丁。
- 左下圖(二)是龜有市的主要工業輸出品。由圖中的產品種類來看，該市的工業發展具有何種特徵？(A)所需資本額少 (B)勞力密集度高 (C)技術密集度高 (D)產品附加價值低。



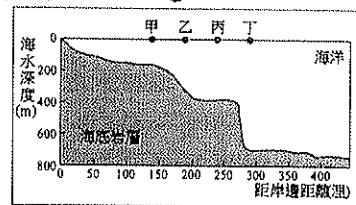
圖(二)



圖(三)

- 右圖(三)為臺灣某種重要作物的分布圖，由圖判斷，此種作物應該是下列何者？(A)稻米 (B)茶葉 (C)甘蔗 (D)花卉。
- 承第 8 題，下列關於此種作物的敘述何者正確？(A)分布於濕熱的平原 (B)是一種糧食作物 (C)在台灣因生產成本提高，故種植面積減少 (D)主要生長在多雲霧、排水良好的丘陵。
- 在單位面積上投入大量的勞力、資本等，以提高平均收穫量的農業經營方式，稱為什麼？(A)有機農業 (B)粗放農業 (C)休閒農業 (D)集約農業。
- 「臺灣四季都生產水果，不僅種類繁多，且品質佳，讓臺灣有「水果王國」的美稱。」能使臺灣成就上述結果的原因很多，但下列哪項因素為非？(A)臺灣四面環海 (B)臺灣地形多樣 (C)臺灣氣候溼熱 (D)臺灣農業科技進步。

- 近年來台灣有許多蔬果、花卉專業生產區紛紛設立，且越來越具有商品化特徵。請問造成上述現象的主要原因為何？(A)休閒農業興起 (B)交通越來越便捷 (C)稻米市場需求量大 (D)農民勤儉耐勞。
 - 根據作物主要目的使用目的定義，可將作物分類為糧食作物及經濟作物，以下哪一組皆為糧食作物？(甲)稻米(乙)小麥(丙)茶葉(丁)甘蔗(戊)花卉 (A)甲乙 (B)乙丙 (C)丙丁 (D)丁戊。
 - 黑鮪魚於每年 4-6 月隨哪股洋流向北洄游至臺灣周圍海域？(A)黑潮 (B)台灣沿岸流(C)親潮 (D)中國沿岸流。
 - 臺灣漁業發達的原因不包括下列哪項？(A)寒暖流交會 (B)海岸線綿長 (C)大陸棚寬廣 (D)沿海平原面積大。
- ※請依下圖回答 16、17 題：



- 根據附圖顯示，甲、乙、丙、丁何處海域屬於大陸棚，較有機會撈捕到豐富的魚類？(A)甲 (B)乙 (C)丙 (D)丁。
 - 小雷平常從事「近海漁業」時最遠可以到何處海域捕魚，較不會和其他國家漁船發生糾紛？(A)甲 (B)乙 (C)丙 (D)丁。
 - 目前臺灣的畜牧發展狀況為何？(A)許多牧場發展酪農業供應市場需求 (B)畜牧業仍為農家副業 (C)牧民資金少，小規模經營以降低風險 (D)一戶人家飼養多樣牲畜以自給自足。
 - (甲)氣候多雨 (乙)交通便利 (丙)地形多山 (丁)人口稀少。上述哪些是造成臺灣森林資源豐富的「自然因素」？(A)甲乙 (B)甲丙 (C)甲丁 (D)丙丁。
 - 臺灣森林近年來砍伐過度，政府轉而調整林業政策，下列何者不符合目前的林業政策方向？(A)保育林地 (B)加強造林 (C)集中砍伐天然林 (D)推廣休閒遊憩的森林遊樂區。
- ※臺灣於 2002 年加入世界貿易組織(WTO)，請回答以下問題：
- 臺灣加入 WTO，衝擊最大的是農業，導致臺灣的農業缺乏競爭力最主要的原因是什麼？(A)農產成本昂貴 (B)農產品價格偏低 (C)農村勞力外流 (D)農業技術落後。
 - 臺灣加入世界貿易組織(WTO)後，面對更加激烈的市場競爭，國內產業若要提高競爭力，下列哪項是最具體可行的做法？(A)降價是唯一途徑，價格低就能贏得市場 (B)利用國家政策和法律的制定來保護國內產品的銷售量 (C)放棄國外市場，一切產品內銷即可(D)加強技術開發，提高品質和售後服務質量。
 - 兩岸先後加入 WTO 後，部分中國的農產品逐漸對臺灣的農業造成威脅，下列哪項農產品所造成的衝擊較小？(A)鮮乳 (B)花生 (C)紅豆 (D)大蒜。
 - 為促進農業升級，目前政府積極實施各種方法，不包括下列何者？(A)稻田轉作 (B)精緻農業 (C)觀光農業 (D)擴大耕地。
 - 近年來，臺灣的工資逐漸上漲，導致不少需要較多勞力的工業，紛紛移往工資較為低廉的東南亞或中國設廠。根據上述狀況，下列哪種工業最可能出現外移的現象？(A)生物奈米科技業 (B)製鞋業 (C)資訊業 (D)鋼鐵業。
 - 設置工廠時，需選擇最適合的工業區位，其主要目的為何？(A)擴大市場 (B)降低成本 (C)減少汙染 (D)均衡發展。

背後尚有試題，請翻頁作答

27.日本治臺期間致力發展製糖業，新式糖廠多設立於西部平原寬廣的蔗田間，利用小火車運送收成的甘蔗。糖廠為何不建在人口眾多的都市？(A)交通運輸較便利 (B)鄉村有寬闊的土地 (C)鄉村為主要銷售地 (D)甘蔗體積大且笨重。

28.「冰淇淋主要的原料為牛奶、蛋黃、玉米粉、糖、水等。工廠將原料調製成冰淇淋，然後盒裝加封，再用冷凍車送到市場販賣。包裝好的冰淇淋體積變大，且運送冰淇淋的冷凍車運費較貴。」從以上敘述推斷，冰淇淋工廠設置應優先考慮哪種區位？(A)勞力 (B)原料 (C)市場 (D)動力。

29.高雄地區是臺灣重工業的中心，其設廠主要考量哪種區位？(A)交通 (B)勞力 (C)市場 (D)原料。

30.花蓮設立和平水泥工業專區，最主要是擁有何種區位優勢？(A)原料 (B)市場 (C)交通 (D)勞力。

31.附表是某一產業生產的各項成本支出比例，此產業設廠時，應以何種區位考量為主？(A)交通 (B)動力 (C)原料 (D)勞力。

項 目	運費	水電費	材料費	薪資
支出比例%	22	20	13	45

32.臺灣工業自民國五十年代開始發展，經過多次轉型，其正確的順序為何？(A)輕工業→高科技工業→重工業 (B)重工業→輕工業→高科技工業 (C)重工業→高科技工業→輕工業 (D)輕工業→重工業→高科技工業。

33.臺灣的加工出口區是利用哪兩項優勢，吸引國外的資金及技術進入？(甲)廣大的市場 (乙)廉價的勞力 (丙)優惠的政策 (丁)充足的原料 (A)甲乙 (B)乙丙 (C)乙丁 (D)丙丁。

34.臺灣是世界半導體工業的重鎮之一，主要工廠聚集在何處？(A)北部區域 (B)中部區域 (C)南部區域 (D)東部區域。

35.下列哪些工業屬於輕工業？(甲)紡織工業(乙)食品加工業(丙)石油化學工業(丁)鋼鐵工業(A)甲乙 (B)甲丙 (C)乙丙 (D)丙丁

36.在臺灣工業發展歷程中，使臺灣經濟進入發展與轉型最快速的時期的重要關鍵，是國內推行哪一項經濟建設？(A)設立加工出口區 (B)設立經濟特區 (C)展開十大建設 (D)成立新竹科學工業園區。

37.臺灣工業轉型過程中，國民所得隨之改變。民國38年遷臺初平均國民所得不到100美元，隨著工業化經濟一路躍升，民國70年達到2,669美元，民國81年突破1萬美元，正式進入工業化國家之列。請問：臺灣在突破1萬美元門檻時，主要的工業類型為何？(A)紡織業 (B)鋼鐵業 (C)石化業 (D)電子業。

38.「花媽起了個大早，到菜市場買今天晚餐的食材，下午又到好便宜大賣場購買這兩週家裡所需的日常用品，回家的路上覺得口渴，就近在便利商店買了瓶飲料……」花媽一整天依序經歷了哪三種商業活動？(A)零售→批發→量販 (B)批發→量販→零售 (C)零售→量販→零售 (D)量販→批發→零售。

39.每逢節慶時，量販店因為價格優惠，常人滿為患。以下量販店的特色何者錯誤？(A)設置地點的地租較為便宜 (B)商品大量進貨 (C)結合批發與零售 (D)貨物種類單純。

40.目前實體商店的買賣型態正受到下列哪一種貿易活動的衝擊，面臨改變的危機？(A)電視網路購物 (B)大型量販店多 (C)購物商場興起 (D)便利超商遍布。

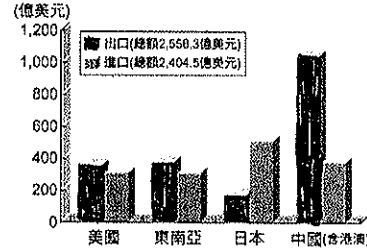
41.「法國首都巴黎歷史悠久，擁有的名勝古蹟，如巴黎鐵塔、凱旋門等，每年吸引眾多觀光客為法國帶來驚人的產值。」關於觀光業的敘述，下列何者錯誤？(A)觀光業具有地方的獨特性 (B)觀光業利用自然、人文光觀光資源吸引觀光客 (C)觀光業可增加該地商店的商品銷售量 (D)開發程度愈低的國

家，觀光業愈興盛。

42.臺灣國際貿易活動相當發達，請問：我國對於國際貿易依賴程度甚高，其原因與下列哪些因素有關？(甲)自然礦產資源缺乏(乙)疆域狹長面積太小(丙)地勢起伏山多田少(丁)國內消費市場有限 (A)甲乙 (B)丙丁 (C)甲丁 (D)乙丙。

43.為增加臺灣產業的競爭力，若要提升工業產品的外銷量，應採取下列哪些措施較為有利？(甲)促使傳統勞力密集產業升級(乙)控制本國勞工薪資不變(丙)運用技術提高附加價值(丁)大量進口原料加工出口(A)甲乙 (B)丙丁 (C)甲丁 (D)甲丙。

44.下圖為臺灣主要貿易對象，請依圖判斷，下列何者正確？(A)臺灣主要的進口物品為農工原料 (B)臺灣對東南亞的貿易為入超 (C)臺灣最大的貿易夥伴為中國 (D)臺灣主要的貿易對象為美國。



45.附表是臺灣與三個主要貿易國家的貿易情形。根據表中資料，下列敘述何者錯誤？(A)臺灣對甲、丙的貿易呈出超 (B)臺灣與乙國的貿易呈入超 (C)臺灣與乙國的貿易情況，易於累積大量外匯 (D)臺灣與丙國的貿易總額最大。

貿易對象	出口總值 (億美元)	進口總值 (億美元)
甲	267.6	181.0
乙	119.8	272.8
丙	408.0	96.9

46.國際經濟大師幫臺灣經濟把脈，提供未來臺灣經濟發展的方向。請問：下列大師所提出的轉型方向中，何者最為適合？(A)設計研發 (B)引進外勞 (C)代工生產 (D)組裝測試。

47.國家經濟發展程度通常可由人口、產業等條件來加以判斷，經濟較為發達的國家，最可能出現下列哪些特徵？(A)甲 (B)乙 (C)丙 (D)丁。

	甲	乙	丙	丁
主要產業	第一級產業	第二級產業	第三級產業	第三級產業
出生率	低	高	高	低
扶養比	高	低	低	高

48. Snoy 電腦是由日本設計，並在中國設廠，利用中國的原料與勞工進行電腦製造。該電腦不在日本國內製造，而選擇在中國設廠最主要的考量為何？(A)可不使自己國家受到工業汙染 (B)降低生產所需的成本 (C)日本與中國政府有貿易協定 (D)中國勞工擁有高技術。

49.臺灣生產的工業產品行銷世界，若要在國外找到標示「MIT」(Made In Taiwan)的產品，則下列何種產品的機率最低？(A)筆記型電腦 (B)液晶顯示器 (C)數位相機 (D)油電混合車。

50.目前臺灣有許多國際知名的自創品牌，我們也應盡量認識、支持台灣的自創品牌。請問以下品牌中那些為台灣自創品牌？(甲)宏達電 (乙)華碩 (丙)捷安特 (丁)飛利浦 (戊)國際牌 (己)蘋果 (A)甲乙丙 (B)甲乙丁 (C)丙丁戊 (D)丁戊己。