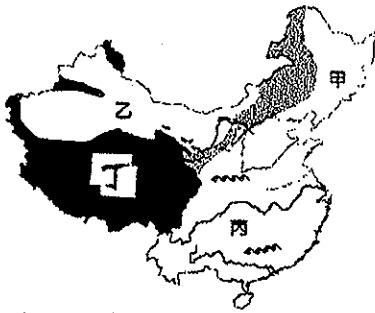


一、選擇：每題2分

- () 1. 中國人口集中在東部的原因為何？(甲)地勢平坦(乙)畜牧發達(丙)面積廣大(丁)經濟發達(戊)環境負載力高(A)甲乙丙(B)乙丙丁(C)丙丁戊(D)甲丁戊。
- () 2. 西元1990年中國人口結構呈現出0~14歲年齡層的人口比例明顯縮減，造成此年齡層人口漸少的主要原因為何？(A)戰爭(B)政策(C)饑荒(D)移民。
- () 3. 每年春節前，大批離鄉工作的人口，出現返鄉人朝最多的移動方向應為何者？(A)東部往中部(B)中部往東部(C)西部往中部(D)中部往西部。
- () 4. 中國改革開放的政策中，選擇了五個地點設置經濟特區，它們共同的特色為何？(A)能源充足(B)礦產豐富(C)都分布沿海地帶(D)都是直轄市。
- () 5. 承上題，中國設立經濟特區，因具備哪些優勢，能吸引外商投資，帶動經濟發展？(甲)廉價勞工(乙)便利交通(丙)廣大市場(丁)優惠條款(戊)豐富礦產(A)甲乙丙(B)乙丙丁(C)甲乙丁(D)丙丁戊。
- () 6. 中國沙塵暴在冬、春兩個季節最嚴重，受哪一因素的影響？(A)土壤(B)地形(C)緯度(D)季風。
- () 7. 從北美洲的氣候分布判斷，同緯度的美洲西部沿岸氣溫較東部沿岸為高，主要的原因為何？(A)高氣壓籠罩(B)西風吹拂(C)地勢較低(D)暖流經過。
- () 8. 北美大平原的南部主要為哪一條河川沖積而成的平原，因為土壤肥沃，成為重要的農業區？(A)聖羅倫斯河(B)科羅拉多河(C)密士失必河(D)格蘭河。
- () 9. 關於中南美洲殖民地式經濟的敘述，何者『不』正確？(A)經濟易受國際價格影響(B)都市化程度高，經濟發達(C)高度依賴單一農礦輸出(D)資金依賴外國企業。

二、題組：每題2分

(一)附圖為中國傳統農、牧業分區圖。請問：

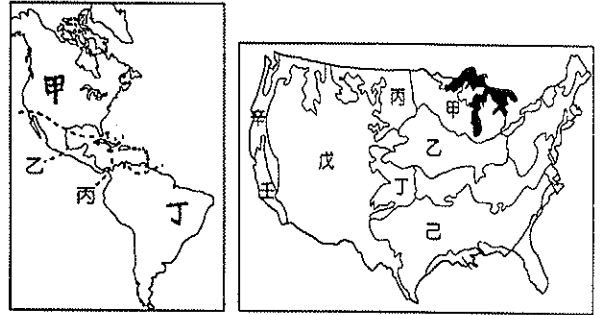


- () 10. 圖中哪個區域的主要糧食農作物為小麥？(A)甲(B)乙(C)丙(D)丁。
- () 11. 乙區採水平游牧，丁區採垂直游牧，造成兩地間不同畜牧方式的主要原因為何？(A)緯度(B)地形(C)季風(D)氣溫。
- () 12. 乙區發展農業，是利用什麼水源來灌溉作物？(A)雲水(B)河水(C)雨水(D)海水。
- () 13. 承上題，該區過度發展農業，容易導致何種環境問題？(A)地層下陷(B)水土流失(C)水災加劇(D)土地鹽鹼化。
- (二)北美為全球重要的糧食供應區，其農業活動採商業經營。請問：
- () 14. 北美的商業性農業具有那些特徵？(甲)市場導向(乙)單位面積產量高(丙)集約耕作(丁)專業化帶狀分布(A)甲乙(B)乙丙(C)丙丁(D)甲丁。
- () 15. 美國的農作物產量多，影響世界農產品的市場價格。若美國發生農產歉收，對下列何種商品作物價格的直接影響最小？(A)小麥(B)棉花(C)玉米(D)咖啡。

- () 16. 美國的農業活動主要為大規模的生產特色，對於商業性農業的進行具有何項優勢？(A)提高產品售價(B)降低生產成本(C)作物種類多樣(D)提升農作品質。

- () 17. 北美洲的農業人口占總人口的比例甚低，在農業上獲得高產量，且大量出口，其主要的原因為何？(A)政府鼓勵(B)生長季長(C)機械化耕作(D)單位面積產量甚高。

(三)附(圖一)為美洲地區的疆域簡圖，圖中線段為各主要地區特色的分界線。請問：



(圖一)

(圖二)

- () 18. 盎格魯美洲位於下列哪一區域？(A)甲(B)乙(C)丙(D)丁。
- () 19. 巴拿馬運河位於下圖中的哪一個位置上？(A)甲(B)乙(C)丙(D)丁。
- () 20. 承上題，在運河上可看到船隻往來的繁忙景象，巴拿馬運河是一條連接哪二個海洋的運河？(甲)北極海(乙)印度洋(丙)大西洋(丁)太平洋(A)甲乙(B)乙丙(C)丙丁(D)甲丁。

- () 21. 關於巴拿馬運河的主要貢獻，下列何者正確？(A)解決低窪地區積水問題(B)縮短北美東西岸的航程(C)便利歐洲與美洲的交通往來(D)替巴拿馬賺取通行費。

- () 22. 拉丁美洲中以葡萄牙語為官方語言的國家位於下列哪一區域？(A)甲(B)乙(C)丙(D)丁。

(四)美國境內的產業活動相當多樣化，附(圖二)為美國產業分布簡圖，請問：

- () 23. 美國加州的除了矽谷的高科技產業外，還盛產地中海型作物。此產業區位於圖中的哪一個地區？(A)乙(B)丁(C)己(D)壬。

- () 24. 美國的酪農業產業區位選定在哪一地區？(A)甲(B)乙(C)庚(D)辛。

- () 25. 影響美國酪農業分布的主要原因為下列何者？(A)鄰近國際機場(B)接近主要市場(C)勞工來源充足(D)氣候較為暖溼。

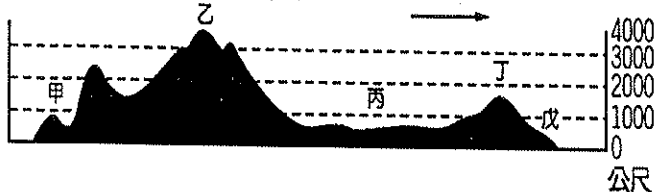
- () 26. 美國是世界主要牛肉輸出國。主要的畜牧業活動地區位於何處？(A)乙(B)丙(C)丁(D)戊。

(五)墨西哥國內的貧富差距大，市區一邊是老舊灰暗的房子，一邊則是光鮮亮麗的社區。請問：

- () 27. 墨西哥首都是人口集中的精華區，但卻位於山間盆地，其原因為何？(A)礦產豐富(B)河川經過(C)交通要道(D)氣候涼爽。

- () 28. 墨西哥人口多集中於都市，這和下列何項因素的關係最大？(A)都市礦產豐富(B)鄉村經濟蕭條(C)鄉村天災不斷(D)都市工商發達。

(六) 美國國土廣大遼闊，形成多元發展的面貌。附圖為美國境內的地形剖面圖，請問：

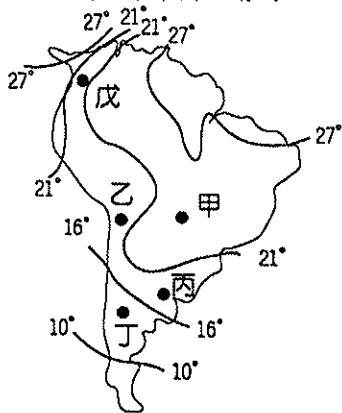


- () 29. 美國境內受到不同地形作用力的影響，地形的起伏甚大。請根據圖中的地形判斷，→ 所指的方向為下列何者？
 (A) 東方 (B) 西方 (C) 南方 (D) 北方。
 () 30. 圖中哪一個地區最常出現暴風雪及龍捲風等自然災害？
 (A) 甲 (B) 乙 (C) 丙 (D) 丁。
 () 31. 哥倫布發現新大陸後，許多英國人紛紛移民至美洲，當時英國移民多從圖中何處登陸？
 (A) 甲 (B) 丙 (C) 丁 (D) 戊。
 () 32. 圖中哪一個地區最常出現火山、地震等自然災害？
 (A) 乙 (B) 丙 (C) 丁 (D) 戊。

(七) 地理大發現後，美洲成為歐洲人的探險地。請問：

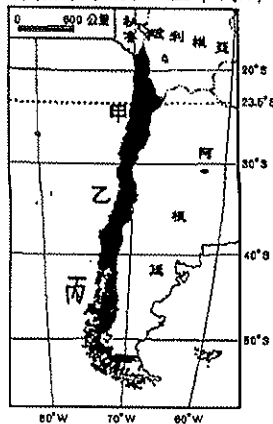
- () 33. 歐洲人尚未進入美洲之前，已有其他族群定居北極圈，築冰屋，過著漁獵的生活的是哪一族群？
 (A) 拉普蘭人 (B) 因紐特人 (C) 印第安人 (D) 蒙古人。
 () 34. 在加拿大的多國競爭中由英國勝出，A 國的後裔定居魁北克，因文化差異導致該省多次公投爭取獨立，A 國指的是哪一國？
 (A) 法國人 (B) 義大利人 (C) 西班牙人 (D) 德國人。
 () 35. 美國在發展過程中，目前以哪一地區的移民移入最多，以彌補勞力不足的問題？
 (A) 非洲 (B) 亞洲 (C) 拉丁美洲 (D) 東歐。

(八) 附圖為南美洲氣溫分布圖，請問：



- () 36. 圖中丙處為總人數超過 1,000 萬人的大都會。依其位置判斷，丙都市應該為下列何者？
 (A) 巴西—聖保羅 (B) 秘魯—利馬 (C) 阿根廷—布宜諾斯艾利斯 (D) 墨西哥—墨西哥市。
 () 37. 圖中甲、乙兩地緯度相近，但乙地氣溫較甲地低，形成此現象的因素為何？
 (A) 緯度高低 (B) 地勢高低 (C) 洋流性質 (D) 距海遠近。
 () 38. 根據地理位置判斷，圖中丙點降雨特色應該為下列何者？
 (A) 終年有雨 (B) 終年乾燥 (C) 夏乾冬雨 (D) 降雨集中夏季。
 () 39. 丙區，氣候優良，成為度假勝地。其成因為何？
 (甲) 暖流經過 (乙) 涼流經過 (丙) 西風吹拂 (丁) 信風吹拂。
 (A) 甲乙 (B) 乙丙 (C) 丙丁 (D) 甲丁。

(九) 附(圖三)為智利氣候分布簡圖，智利境內氣候分別有熱帶沙漠、溫帶海洋性及溫帶地中海型氣候類型。請問：



(圖三)



(圖四)

- () 40. 智利氣候類型的分布，由甲到丙依序為何？
 (A) 熱帶沙漠、溫帶海洋性及溫帶地中海型氣候 (B) 溫帶海洋性、溫帶地中海型及熱帶沙漠氣候
 (C) 熱帶沙漠、溫帶地中海型及溫帶海洋性氣候 (D) 溫帶地中海型、溫帶海洋性及熱帶沙漠氣候。
 () 41. 甲區氣候受那些因素影響？
 (甲) 位於東南信風的背風側 (乙) 距海遙遠 (丙) 涼流經過 (丁) 副熱帶高氣壓籠罩 (戊) 暖流經過
 (A) 甲乙丙 (B) 乙丙丁 (C) 甲丙丁 (D) 甲丁戊。
 () 42. 甲區氣候與下列哪一地區相似？
 (A) 墨西哥北部 (B) 美國中部 (C) 美國西南部的沙漠 (D) 美國加州
 () 43. 智利的葡萄酒在國際上頗負盛名，其主要產地位於附圖中的哪一地區？
 (A) 甲 (B) 乙 (C) 丙。

(十) 附(圖四)為南美洲簡圖。

- () 44. 圖中哪一地區有世界流量第一的亞馬孫河流貫其間？
 (A) 甲 (B) 乙 (C) 丙 (D) 丁。
 () 45. 阿根廷是世界主要的小麥與牛肉出口國，其農、牧業主要分布於下列哪一地形區？
 (A) 甲 (B) 乙 (C) 丙 (D) 丁
 () 46. 甲區土地利用呈垂直分布主要受哪一因素影響？
 (A) 地勢高低 (B) 盛行風向 (C) 緯度高低 (D) 洋流性質。
 () 47. 由圖中乙→丙→丁區，最主要的環境變化為下列何者？
 (A) 雨量漸多 (B) 植被變少 (C) 天氣漸熱 (D) 地勢漸低。

(十一) 新聞報導指出：『美國總統川普(Donald Trump)揚言要在美墨邊界築牆防堵非法移民，表示要重新與墨西哥、加拿大簽署貿易協定，並喊出「美國優先」政策，將目標瞄準○○產業，對已在墨西哥設廠的企業課徵「邊界重稅」，要求業者撤廠回美製造，引發墨西哥政府不滿。』請問：

- () 48. 報導中川普提出的政策將影響哪一個貿易組織的合作意向？
 (A) 北美自由貿易區 (B) 亞太經濟合作會議 (C) 世界貿易組織 (D) 泛太平洋貿易夥伴協議。
 () 49. 報導中川普提出「美國優先」政策，將目標瞄準○○產業課稅，文中○○產業是哪一種產業？
 (A) 汽車 (B) 紡織 (C) 食品加工 (D) 石化工業。
 () 50. 美、墨邊境出現許多加工廠，增加了墨西哥人民的就業機會，設立工廠的主要原因為何？
 (A) 原料豐富 (B) 工資低廉 (C) 市場廣大 (D) 技術進步。