
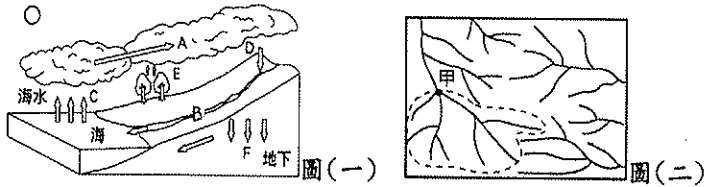


# 宜蘭縣立羅東國中 105 學年度第一學期七年級地理科第三次段考試卷

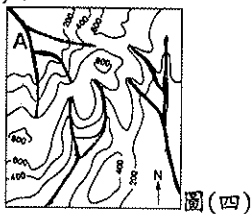
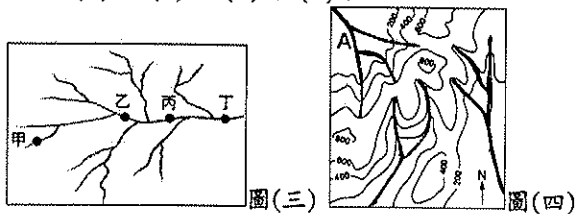
選擇題：每題 2 分，請用 2B 鉛筆作答

班級： 座號： 姓名：

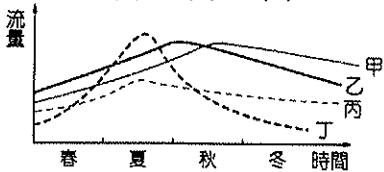
- 下列關於水的敘述，何者正確？ (A)地球上 97% 的水是淡水 (B)我們最常使用的水是大氣中的水 (C)我們能使用的水不到全球水量的 1% (D)冰川水占全球水的 77%。
- 左下圖(一)是水循環模式圖，圖中何項過程最可能形成河川？ (A)A (B)B (C)C (D)F。



- 右上圖(二)為某地區流域示意圖，圖中虛線內的範圍對「甲」地而言，最符合下列哪一個水文概念？ (A)水循環 (B)水系 (C)分水嶺 (D)集水區。
- 某河川的水系如左下圖(三)所示。請問：何處的水汙染會最嚴重？ (A)甲 (B)乙 (C)丙 (D)丁。



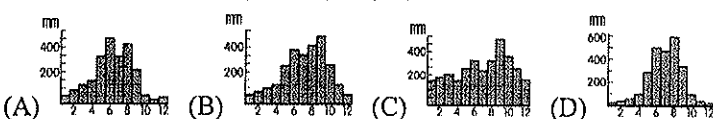
- 右上圖(四)為某河流流域示意圖。請問：圖中水系共有多少個？ (A)三個 (B)四個 (C)五個 (D)六個。
- 臺灣河川普遍具有豐富水力，但缺乏航運價值，主因為何？ (A)坡陡流急 (B)河川較長 (C)出口位置不佳 (D)集水區小。
- 臺灣中南部的河川多屬於「荒溪型」河川，下列哪一條河川的水文特徵與臺灣的河川實際情形最為接近？ (A)甲 (B)乙 (C)丙 (D)丁。



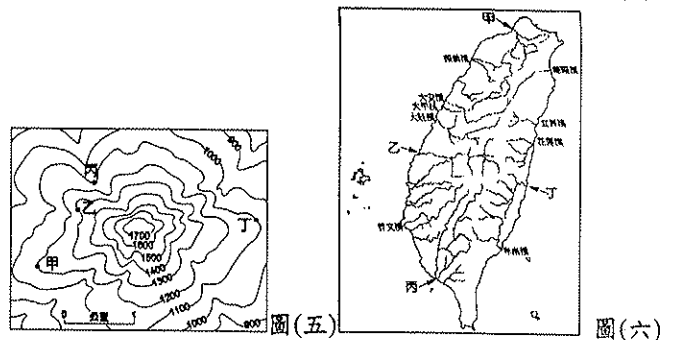
- 臺灣河川的流向主要受山脈走向的影響，若將臺灣的河川與山脈間的關係繪成示意圖，下列哪一張圖最為正確？



- 臺灣年雨量約有 2,500 公釐，但仍有水資源不足的困擾，下列何者與此現象較無關？ (A)島窄山高、坡陡流急 (B)降雨時空分配不均 (C)地狹人稠、人口密度高 (D)水庫不足。
- 臺灣西部的河川較東部長，主因為何者？ (A)地勢陡峭 (B)降雨季節分布不均 (C)山脈南北走向 (D)山地分布於中央偏東
- 位於德基水庫上游的梨山原本是森林地，現在多是果園、茶園和菜園，這種土地利用方式的變遷對當地環境會產生什麼樣的影響？ (甲)破壞水土保持，造成水庫淤積 (乙)農藥跟著河水流進水庫汙染水質 (丙)造成水庫優氧化 (丁)水庫周圍地層下陷 (A)甲乙丙 (B)甲乙丁 (C)甲丙 (D)乙丁。
- 下列是臺灣四地的年降水量圖。請問：哪一張年降水量分布圖所代表的地區最需要興建水庫儲水？



- 提供大台北主要用水的水庫為以下何者？ (A)翡翠水庫 (B)日月潭水庫 (C)德基水庫 (D)曾文水庫。
- 左下圖(五)為某地的等高線地形圖，圖上甲、乙、丙、丁四點何處最適宜興建水庫？ (A)甲 (B)乙 (C)丙 (D)丁。

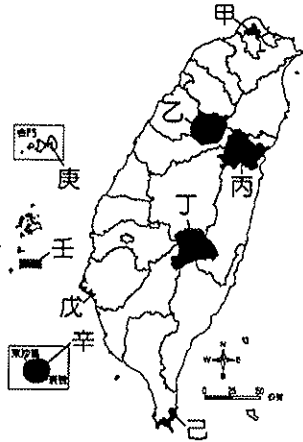


- ※右上圖(六)為臺灣河川分布圖，甲、乙、丙、丁代表河川。
- 圖中水位季節變化最小的河川？ (A)甲 (B)乙 (C)丙 (D)丁
- 目前臺灣流域面積最大的河川為下列何者？ (A)淡水河 (B)濁水溪 (C)高屏溪 (D)大甲溪。
- 臺灣特有種生物豐富如臺灣黑熊、臺灣水韭、櫻花鉤吻鮭等，更是學者爭相研究的對象。請問：此特徵的形成，與臺灣哪一種地理現象關係最密切？ (A)地形的起伏 (B)位置的孤立 (C)氣候的複雜 (D)植被的多元。
- 臺灣地勢高峻、地形起伏大，如此的自然環境對下列何者構成有利的條件？ (A)土壤化育 (B)生物物種的多元性 (C)水土保持工作 (D)興建水庫的工程。
- 將下列各類植物由山腳至山頂依序排列，其正確順序為何？ (甲)溫暖帶闊葉林 (乙)冷溫帶針葉林 (丙)河口紅樹林 (丁)副熱帶闊葉林 (戊)寒帶針葉林 (A)丙甲丁戊乙 (B)丙乙丁甲戊 (C)丙丁甲乙戊 (D)丙戊乙丁甲。
- 近年來，臺灣各地常有土石流災害發生，除了地質脆弱、降雨強度大等因素外，土石流災害頻繁的原因，和人類的哪一項活動有關？ (A)坡地利用不當 (B)沿岸超抽地下水 (C)溼地開發為工業區 (D)河川上游設攔砂壩。
- 子翰家住海邊，以養殖漁業為生，為了魚塢用水而大量抽取地下水，這樣的經營方式，可能對環境造成傷害，下列選項中哪些正確？ (甲)地層下陷 (乙)海岸線前進 (丙)海水倒灌 (丁)水質鹽化 (A)甲乙丙 (B)甲丙丁 (C)乙丙丁 (D)甲乙丁。
- 呈上題，上述問題主要發生在以下哪個地區？ (A)東北部沿海 (B)西北部沿海 (C)東南部沿海 (D)西南部沿海。
- 臺灣經濟開發程度高，自然環境卻相當脆弱，水土保持刻不容緩，下列何者不屬於臺灣水土保持範圍？ (A)植樹造林 (B)沿等高線耕種 (C)鋪設網狀水泥格梁 (D)興建攔沙壩。
- 離岸堤有別於傳統的堤防直接建在陸地上，而是建於離海岸線不遠的淺灘，下列何者並非興建離岸堤之目的？ (A)減少海水直接侵蝕海岸 (B)增加國土面積 (C)避免破壞海岸景觀 (D)保護珊瑚礁海岸。
- 臺灣被稱為「福爾摩沙」，就是美麗之島的意思。然而近年來臺灣豐富的動植物資源漸漸減少，特有種也接連消失，這是因為下列何種因素造成的？ (A)地震頻率過高 (B)河水流量減少 (C)動植物棲息地被破壞 (D)全年氣溫差過大。
- 臺灣西部河川汙染情況較東部河川嚴重，主因為何？ (A)東部雨量較西部多 (B)工商業發展以西部地區為主 (C)西部居民衛生習慣較差 (D)東部天然災害較少。

背後尚有試題，請翻頁繼續作答

27.下列何種環境問題不是人為所造成？(A)工業排放廢水與廢氣 (B)野生動、植物的生態遭到破壞 (C)火山爆發與地震的危害 (D)農藥與化學肥料的污染。

※附圖是臺灣國家公園位置圖。請問：



- 28.哪三座國家公園是以保育人文景觀為特色？(A)甲丙丁 (B)乙丁戊 (C)戊庚壬 (D)丙己辛。
- 29.哪兩座國家公園皆有美麗的珊瑚礁景觀？(A)甲丙 (B)乙丁 (C)戊庚 (D)己辛。
- 30.臺灣本島的國家公園主要分布於哪一種地形上？(A)山地 (B)盆地 (C)平原 (D)臺地。
- 31.大霸尖山為原住民族的聖山，擁有世紀奇峰的美譽，也是許多登山客造訪之處。請問：大霸尖山位於哪座國家公園？(A)甲 (B)乙 (C)丙 (D)丁。
- 32.附表是A國的人口資料。請問：A國的人口增加率是多少？(A)15% (B)20% (C)25% (D)30%。

(人數：萬人)

總人口數	出生數	死亡數	移入數	移出數
50,000	650	250	820	220

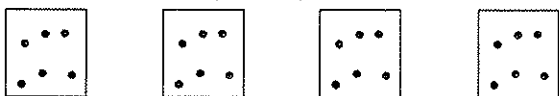
- 33.附表是四個地區的人口資料表，哪兩個地區是人口移入區？(A)甲乙 (B)甲丙 (C)乙丙 (D)乙丁。

地區	出生率(‰)	死亡率(‰)	人口成長率(‰)
甲	12	12	5
乙	16	9	7
丙	3	19	15
丁	48	23	24

- 34.宇倫是小學三年級生，其家庭成員有70歲的爺爺、62歲的奶奶、40歲的小叔和小嬸、讀小二的堂妹、爸爸、媽媽和唸大一的哥哥。關於宇倫家的敘述何者正確？(A)壯年人口有五個 (B)幼年人口有三個 (C)需要被扶養的老年和幼年人口有四個 (D)扶養比為50%。
- 35.影響臺灣人口分布的主要因素有哪些？(甲)地形 (乙)氣候 (丙)政策 (丁)產業活動 (戊)開發時間 (A)甲乙丙 (B)甲丁戊 (C)乙丙丁 (D)乙丁戊。
- 36.近年來，臺灣整體的性別比漸趨均衡，可能是受到下列哪些因素影響？(甲)婦女晚婚及不婚人數增加 (乙)女性平均壽命較長 (丙)女性外籍配偶人數增加 (丁)男嬰夭折率較高 (A)甲乙 (B)甲丁 (C)乙丙 (D)丙丁。

- 37.書呈希望開設一個便利商店，需要設於人口稠密區。請問：開設於以下何處最易達成賺錢目標？

(附圖中，每一點代表10,000人)

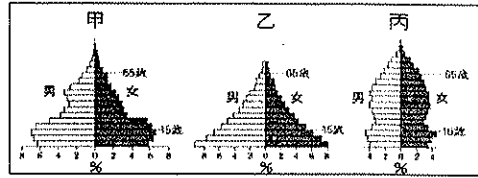


- (A) 1:2500 (B) 1:10000 (C) 1:5000 (D) 1:20000

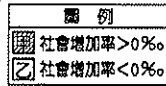
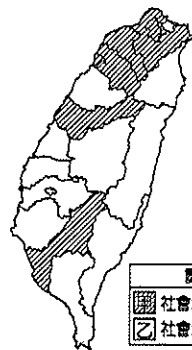
- 38.勞動部已通過「有薪照護假」，希望在颱風天放假時，家中停課的小孩有人照護。近年來相關政策不斷推出，如幼教免費、安親輔育等，都和何種人口問題有關？(A)外籍配偶眾

多，協助融入社會 (B)人口總數降低，增加人口拉力 (C)出生率創新低，鼓勵婦女育兒 (D)人口集中都市，擴大城鄉差距。

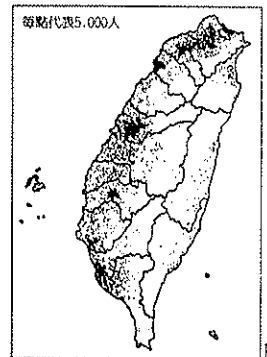
※附圖為三種不同類型的人口金字塔。請問：



- 39.由一國的人口金字塔圖無法推知下列哪項資訊？(A)人口年齡組成 (B)人口性別組成 (C)經濟發展程度 (D)總人口數。
- 40.若一國家正處於丙型人口金字塔，下列何者是該國最需考慮的人口政策？(A)鼓勵移民 (B)改善性別比 (C)提高扶養比 (D)老人安養。
- 41.臺灣目前人口金字塔類型最接近何者？(A)甲 (B)乙 (C)丙
- 42.若甲乙丙為三國的人口金字塔，依經濟開發由落後到進步排列順序為何？(A)甲乙丙 (B)乙甲丙 (C)乙丙甲 (D)丙乙甲。
- 43.根據政府統計，臺灣將在2033年超越日本，成為全世界最老的國家。以上狀況和下列何者關係最大？(A)總人口數大量增加 (B)壯年人口大量移居海外 (C)死亡率急遽降低 (D)新生兒出生率下降。
- 44.目前臺灣所面臨的人口問題，主要為下列哪些？(甲)人口分布不均 (乙)人口自然增加率降低 (丙)人口素質不高 (丁)人口遷移頻繁 (A)甲乙 (B)丙丁 (C)甲丁 (D)乙丙。
- 45.某國性別比是102，其所顯示的意義為何？(A)男少女多 (B)男：女=102：100 (C)男：女=100：102 (D)男嬰比女嬰多。
- 46.目前臺灣外籍配偶數量漸多，其中最多來自哪一國家？(A)泰國 (B)越南 (C)印尼 (D)中國大陸。
- 47.左下圖(七)為2010年臺灣本島各縣市社會增加率類型的分布圖，下列用來說明圖中分布狀況的原因何者正確？(A)甲類型的推力大於拉力，因物價水準較高 (B)甲類型的拉力大於推力，因就業機會較多 (C)乙類型的推力大於拉力，因工業污染嚴重 (D)乙類型的拉力大於推力，因社會福利完善。

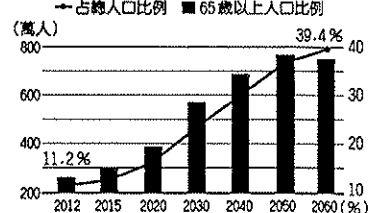


圖(七)



圖(八)

- 48.右上圖(八)為臺灣的人口分布點圖。請由圖中資料判斷，臺灣人口分布具有何種特色？(A)集中於大都市 (B)南部多於北部 (C)東部多於西部 (D)集中於高山區。
- 49.附圖為我國經濟建設委員會的臺灣老年人口比例統計與預估圖，由圖推測，臺灣將面臨何種人口問題？(A)人口成長快速 (B)人口分布不均 (C)扶養比增加 (D)人口集中。



- 50.如果某國有社會增加率逐漸下降的帳況，影響該國社會增加率降低的原因可能有哪些？(甲)民主自由 (乙)就業率低 (丙)交通便利 (丁)治安不好 (戊)社會亂象 (A)甲丙丁 (B)乙丁戊 (C)乙丙丁 (D)甲丙戊。