

一、單選題：每格 2 分、共 76 分

1. 李師傅曾是中國某地區國有企業的工人，從事多年金屬加工的工作。在市場經濟衝擊下，企業陷入破產境地，許多工人都失業了。近年來，國家以振興老基地為口號，要向世界推出「中國製造」的重工業產品，這才讓李師傅又重回了工作崗位上。上文敘述的應是哪個工業帶的發展歷程？

- (A) 珠三角工業帶 (B) 京津唐工業帶 (C) 長三角工業帶 (D) 遼中南工業帶

2. 在中國的西北內陸地區，許多耕地正面臨灌溉水太多，導致地下水水位上升，讓水中的礦物質上升到土壤表層的現象，這種情況不僅造成農作物減產，也危及居民和牲畜的健康。我們將這種現象稱之為何？

- (A) 沙漠化 (B) 土壤鹽鹼化 (C) 全球化 (D) 優氧化

3. 為了讓學生更了解中國沙塵暴，閱誌老師請同學們蒐集相關資料，並利用自修課輪流上台發表。下列哪位學生所分享的內容有誤？

- (A) 威廉：「表土皆土質鬆軟、乾燥，沒有植被及積雪覆蓋。」
 (B) 毛弟：「發源地年降水量都在 500mm 以下，有強烈的地面風。」
 (C) 教犬：「發源於中國新疆、甘肅、內蒙古等地區。」
 (D) 阿本：「春末夏初為主要的發生季節。」

4. 右圖為中國某地一年農耕行事曆，此種耕作型態最可能出現在下列哪一個地區？

- (A) 東北地區 (B) 華南地區
 (C) 華北地區 (D) 華中地區



5. 青藏鐵路的建設為中國重大的世紀工程，在青藏鐵路的建設過程中，工程人員所遇到的困難之一，即為「凍土」易造成建築下陷問題。該地區出現凍土與下列哪項地理特徵有關？

- (A) 海拔地勢較高 (B) 受到寒流侵襲
 (C) 位於冬季冷高壓中心 (D) 位於高緯度地區

6. 中國農民在洞庭湖進行「圍湖造田」的工程，將使得哪一條河川流域內發生洪患的機率大幅增加？

- (A) 長江 (B) 珠江 (C) 黃河 (D) 淮河

7. 中國繼 2008 奧運之後又爭取到世界博覽會的主辦權，主辦的城市為中國的經濟中心，財力、資源雄厚。該博覽會所在地位於右圖中的何處？

- (A) 甲 (B) 乙 (C) 丙 (D) 丁



8. 中國在黃河上中游興建水利設施，過度引用黃河河水進行農業灌溉、工業用水，使得黃河下游發生「斷流」現象，特別在哪一個月份最容易發生？

- (A) 2 月 (B) 6 月 (C) 8 月 (D) 10 月

9. 中國的淡水資源是全世界的第四位，但是每人平均水資源卻遠少於世界其他國家，是水資源貧乏的國家之一。造成「每人平均分配的水資源少」的根本因素為何？

- (A) 人口眾多 (B) 山多平原少 (C) 降水量非常少 (D) 工業汙染嚴重

10. 中國水資源呈現南多北少的區域差異，為了舒緩各區域用水供需不均的現象，中國政府也積極推動哪項工程，以調節區域發展的水資源？

- (A) 興建三峽大壩 (B) 南水北調 (C) 設置防護林 (D) 加強水土保持

11. 中國西北內陸地區，居民發展定居放牧、游牧或灌溉農業，取決於下列哪項條件？

- (A) 土壤肥沃與否 (B) 人口多寡 (C) 水源豐缺 (D) 交通便利程度

12. 「南稻北麥」這個名詞清楚地說明中國南北迥異的作物栽培種類。該名詞中的「南、北」以下列何者做為劃分依據？

- (A) 長江 (B) 黑河—騰衝 (C) 黃河 (D) 秦嶺—淮河線

初時，由於山上天氣較冷，便將牛羊驅趕下山避寒冬，這種沿著山地垂直移動的游牧方式屬於哪種畜牧方式？

- (A) 山牧季移 (B) 自然放牧 (C) 半農半牧 (D) 草原游牧

14. 棉花是一種生長期需要大量的水源灌溉，然而收成時卻又十分怕水的作物。中國傳統棉花種植於黃河流域地區水源豐富卻風險高，近年來為了提升產量及品質，在何處栽種棉花？

- (A) 青藏高原 (B) 戈壁沙漠 (C) 綠洲地區 (D) 珠江三角洲

15. 中國東北地區農業收成次數年僅一穫，南部地區全年都是生長季，可達 2-3 穫。影響農業收穫次數多寡的主要因素為何？

- (A) 地形 (B) 氣溫 (C) 降水量 (D) 土壤

16. 阿輝是居住在秦嶺以南湖南省的農民，依氣候條件而言，他應選擇種植下列哪組作物，會有較好的收成？

- (A) 青稞 (B) 小麥、棉花 (C) 大豆、甜菜 (D) 稻米、茶葉

17. 隨著牧民的生活逐漸現代化，下列哪種畜牧方式，可以讓牧民不再逐水草而居，牲畜飼養的數量也得以增加？

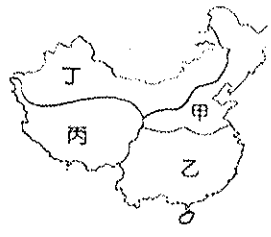
- (A) 欄牧 (B) 定居放牧 (C) 游牧 (D) 山牧季移

18. 新疆塔里木盆地建造「坎井」，引用水源來發展綠洲農業，因當地日夜溫差大，使其所生產的瓜果特別香甜，而有「瓜果之鄉」的美名。新疆的「坎井」主要引用何種水源來灌溉？

- (A) 雨水 (B) 湖水 (C) 雪水 (D) 海水

19. 中國早期受到政策的因素影響，主要發展鋼鐵、石化等重工業。請問：受到相關資源分布的影響，輕工業的發展主要分布於右圖中哪一個區域為主？

- (A) 甲 (B) 乙 (C) 丙 (D) 丁



20. 下列何者不是近年中國農牧業的主要轉變？

- (A) 市場需求導向 (B) 產量逐年減少 (C) 農耕方式轉為機械化，牧業轉向商業化 (D) 轉變原因受交通、科技、經濟影響

21. 臺畜公司打算到中國開發肉品市場，特地派了致遠探勘中國各地找尋適合的牧場，他從內蒙古東側一路經過內蒙古西側及新疆地區，最後到達西藏，發覺一路走來各地的畜牧方式都不同。依照致遠的路線，他所觀察到的變化順序為何？

- (A) 甲→乙→丙 (B) 甲→丙→乙 (C) 丙→甲→乙 (D) 乙→甲→丙

22. 在傳統的觀念裡，中國南方是稻米生產重鎮。然而根據中國官方所公布的統計資料發現，黑龍江省的稻米產量已經擠進全國前十大。造成這種轉變的原因為何？

- (A) 政策的推動 (B) 灌溉設施的改善 (C) 氣候變遷 (D) 市場需求

23. 中國目前共有 33 個省級行政區，政治或經濟具有特殊地位的城市設為「直轄市」，其中哪一個直轄市對於降低東西區域發展差異具有火車頭的功能？

- (A) 上海 (B) 天津 (C) 重慶 (D) 北京

24. 中國許多原本種植水稻的地區，改種花卉、水果等，致使糧食作物的栽培面積減少，而非糧食農產品的生產漸增。造成這種生產方式改變，主要受下列哪項因素的影響？

- (A) 利潤的考量 (B) 技術的水準 (C) 勞力的多寡 (D) 政府的政策

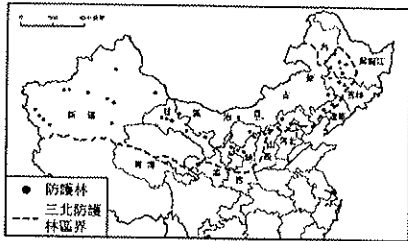
25. 中國在經濟改革開放後，因沿海地帶環境和區位條件良好，為了吸引外資和技術而設立特定區域，成為帶動中國經濟發展的火車頭。上述指的是哪種「特定區域」？

- (A) 邊境貿易 (B) 經濟特區 (C) 通商口岸 (D) 特別行政區

26. 中國的自然環境影響境內各地牧業活動的發展。第二級階梯較乾燥的地區主要以何種牧業活動為主？

- (A) 欄牧 (B) 放牧 (C) 水平移動的游牧 (D) 垂直移動的游牧

27. 為解緩水土流失與風沙災害問題，中國自1978年起著手推動三北防護林工程，如右圖。請問下列何者並非位於三北防護林工程地區內？



- (A) 東北地區 (B) 西北地區 (C) 西藏地區 (D) 華北地區

28. 近十幾年來，中國經濟快速發展的主因為何？

- (A) 實施一胎化政策 (B) 提高第一級產業產量
(C) 全力發展軍事武器 (D) 實施經濟改革開放政策

29. 下列四個地點，何者無霜期最短，因此作物的生長季也較短？ (A) 東北平原 (B) 華北平原 (C) 長江中下游平原 (D) 珠江三角洲

30. 目前在中國發展的臺商有百萬人以上。對臺商而言，中國哪些有利條件是吸引臺商前往的主要因素？(甲) 勞力、市場 (乙) 地理位置接近 (丙) 生活方式相近 (丁) 氣候良好。

- (A) 甲、乙、丙 (B) 乙、丙、丁
(C) 甲、丙、丁 (D) 甲、丁

31. 曾有人戲稱：「如果每十個中國人就有一個人每天都買一瓶可口可樂，那麼可口可樂在中國的銷售量將令人為之瞠目結舌。」上述說明了中國市場具有下列哪項特色？

- (A) 技術密集 (B) 資源豐富 (C) 人口眾多 (D) 勞力密集

32. 中國政府為帶動中部經濟帶的發展，因此推動「中部崛起計畫」，希望促進中部的都市化。下列哪一城市由於為水陸運交通要點，具有承東啟西的重責大任，而成為中部經濟帶中工商業最發達的現代化都市？

- (A) 重慶 (B) 上海 (C) 武漢 (D) 天津。

33. 下列何者不是秦嶺、淮河以北最具代表性的經濟作物？

- (A) 茶葉 (B) 棉花 (C) 大豆 (D) 溫帶水果

34. 中國的東北地區成為主要的重工業地帶，除了當地的礦產豐富外，還有一項重要的T字型交通，請問該交通為何？

- (A) 京廣鐵路 (B) 隴海鐵路 (C) 哈大鐵路 (D) 京瀋鐵路

35. 家住臺中的李大同，想要投資中國的經濟特區，若是考慮到距離因素，則李大同應該會投資哪個經濟特區？

- (A) 廈門 (B) 深圳 (C) 海南 (D) 珠海

36. 中國可分為三大發展地帶，其中某個地帶的「煤礦」產量甚豐，甚至可供外銷。上述指的是哪個發展地帶？

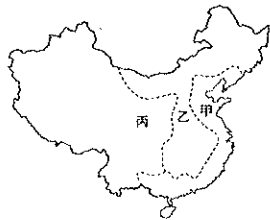
- (A) 東部發展地帶 (B) 中部發展地帶 (C) 西部發展地帶
(D) 三個發展地帶皆可外銷

37. 中國若要平衡區域發展並兼顧環境保護，開發西部經濟區，下列哪種作法最為恰當？ (A) 大肆進行交通建設 (B) 比照經濟特區，提供優惠吸引外商 (C) 運用豐富資源，發展太陽能產業 (D) 強制人口移入，進行西部大開發

38. 著名的網拍業者多向中國的成衣工廠下訂單，大批進貨，而製作這些成衣的工廠，其區位取向為何？(A) 勞工 (B) 政策 (C) 原料 (D) 技術

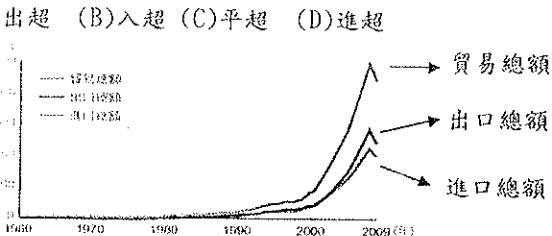
39. 附圖為中國的三大經濟地帶，此三者的對外貿易額大小為何？

- (A) 丙 > 乙 > 甲 (B) 甲 > 丙 > 乙
(C) 乙 > 丙 > 甲 (D) 甲 > 乙 > 丙



40. 下圖是中國1960~2009年國際貿易額圖，從圖中判斷2009年中國的國際貿易情況是如何？

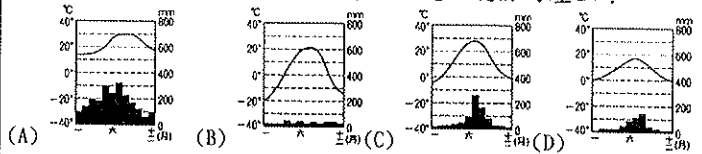
- (A) 出超 (B) 入超 (C) 平超 (D) 進超



二、題組：每格2分、共24分

➤ 近年來，中國的產業活動興盛，帶動了經濟發展，卻也造成了環境問題。請問：

41. 下列哪個氣候區中，最容易產生漫天飛揚的塵土？



42. 右圖中，哪個地區的沙漠化現象較輕微？ (A) 甲 (B) 乙 (C) 丙 (D) 丁



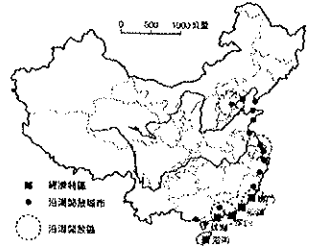
➤ 下圖為中國經濟改革後對外開放形勢圖。請問：

43. 中國的現代化工業主要集中在何處？

- (A) 長江中下游 (B) 黃河中下游
(C) 中部地區 (D) 東部沿海一帶

44. 珠江三角洲的加工出口工業相當發達，主要是依賴海外哪兩種工業區位因素？

- (A) 原料、動力 (B) 資金、技術
(C) 運輸、政策 (D) 勞力、市場



➤ 在不同的自然條件下，最適宜的土地利用方式往往不同。請問：

45. 溫帶草原氣候區最適合放牧，下列哪個地區屬之？

- (A) 內蒙古草原 (B) 四川盆地
(C) 珠江三角洲 (D) 東北平原

46. 季風氣候區最適合農業發展，下列哪個地區屬之？

- (A) 雲貴高原 (B) 塔里木盆地
(C) 河西走廊 (D) 長江三角洲

➤ 以下是關於中國水污染情況的調查結果，請問：

- 2015年初，中國水安全公益基金對29個大中城市居民飲用水水質進行取樣檢測，結果顯示，有近半城市存在一項或多項指標不合格情況。
- 根據媒體報導，中國城市的地下水90%被污染，河流和湖泊70%被污染。
- 環保部於2014年3月公開的信息顯示，中國有2.5億人居住在「高風險地區」，2.8億居民飲用水不安全。

47. 調查結果顯示，中國水資源受到嚴重污染，而使得中國民眾面臨有水卻不能用的窘境。請問：中國水資源受到污染和下列何者的關係最大？ (A) 內蒙古過度放牧，河川淤泥嚴重 (B) 溫室效應造成河水蒸發，污染濃度提高 (C) 第二、三級產業發展，大量廢水排放入河 (D) 青藏鐵路通車後，觀光業造成河川污染

48. 根據調查結果顯示，中國水資源污染問題最為嚴重、影響人口最多的地區，應位於哪一氣候區？ (A) 溫帶沙漠氣候區 (B) 溫帶草原氣候區 (C) 高地氣候區 (D) 季風氣候區

➤ 每年10月1號為中國國慶，舉國歡騰、全民一同放7天長假，大東跟爸媽從廣東一路往北到北京旅行。

49. 大東初次來到北京，在這裡天天都有許多麵食、餃子、餡餅等美食可以品嚐，是因為這個地區盛產哪種糧食作物？ (A) 高粱 (B) 大豆 (C) 水稻 (D) 小麥

50. 大東一家人在假期結束前，想要買些廣州沒有的特產帶回去分享給親朋好友，請問他應該買下列哪種東西較合適？ (A) 茶葉 (B) 甜菜糖 (C) 咖啡豆 (D) 番薯