

# 宜蘭縣立羅東國民中學 105 學年度第一學期八年級歷史科第二次段考

※本試題採用電腦閱卷，請在電腦卡上畫記

班級：

姓名：

座號：

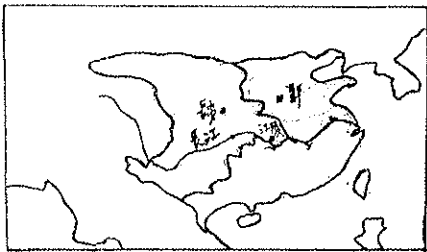
分數：

一、單題(34%，每題 2 分)：1~17 題

- 「此地北臨長江，為六朝古都，也曾是中華民國的首都」，請問，上文所描述的是下列何者？(A) 洛陽(B) 長安(C) 建康(D) 北京
- 歷史老師在課堂上介紹一位歷史人物：「開皇之治」、「大興城」、「統一天下」，請問這位歷史人物為下列何者？(A) 晉武帝(B) 隋文帝(C) 秦始皇(D) 唐高祖
- 「這個城市是中國近代國民革命的策源地，而且此地自古以來，也是中國對外重要的港口，在唐代曾設市舶司以管理外商」，請問，上文所描述的是下列那一城市？(A) 上海(B) 長安(C) 南京(D) 廣州
- 喜愛金庸武俠小說的小陳，在《倚天屠龍記》中看到：「明教教主張無忌」、「光明左使」，請問，上文的明教最早於何時傳入中國？(A) 魏晉南北朝(B) 東漢(C) 隋(D) 唐
- 「他的書法在唐朝極負盛名，民間有「一字值千金」的說法，所寫楷書以瘦勁著稱，唐穆宗嘗問其用筆之法，他答：「用筆在心，心正則筆正。」」，請問，上文所描述的是下列那位書法名家？(A) 柳公權(B) 顏真卿(C) 王羲之(D) 蘇軾
- 下列何者最能展現唐代『胡風盛行』的情況？(A) 長安城中有許多道觀(B) 唐三彩的題材(C) 飛錢的發明(D) 科舉制度的出現
- 小楊：「唐詩鼎盛」  
小喬：「世族沒落，平民崛起」  
小婉：「考試選才」

請問上面三人所描述的是下列那一制度？(A) 九品官人法(B) 宗法制度(C) 察舉制度(D) 科舉制度

- 「大秦景教流行中國碑」是一座記述景教在中國流傳情況的石碑，請問景教教義與下列那一宗教最接近？(A) 基督教(B) 回教(C) 佛教(D) 道教
- 圖(一)是中國某分裂時代的地圖，請根據史實判斷是下列那一分裂時代的地圖？(A) 東晉與十六國(B) 三國時代(C) 南北朝(D) 五代十國



圖(一)

- 請根據(表一)的人物事蹟，在下列選項中選出最正確的歷史人物？(A) 司馬炎(B) 曹操(C) 朱溫(D) 劉備

挾天子以令諸侯	統一北方	赤壁之戰
---------	------	------

(表一)

- 「他以漢室正統自居，在諸葛亮輔佐下，於天府之國站穩腳步」，請問，上文是對下列那位歷史人物的描述？(A) 司馬睿(B) 曹操(C) 孫權(D) 劉備

- (表二)是南朝的國號，請根據建國時間先後的排序，在下列選項中，選出最適合的答案？

？(A) 甲乙丙丁(B) 丙乙甲丁(C) 丙甲乙丁(D) 乙甲丙丁

甲	乙	丙	丁
梁	齊	宋	陳

(表二)

- 「這場亂事破壞了全國各地，連朝廷賴以維生的江南財賦也消失了，最終使得唐帝國無力與地方藩鎮抗衡而滅亡」，請問，上文指的是下列那一場亂事？(A) 黃巢之亂(B) 八王之亂(C) 安史之亂(D) 黃巾之亂

- 請根據(表三)的內容，在下列選項中選出最正確的歷史人物？(A) 李淵(B) 唐玄宗(C) 武則天(D) 李世民

玄武門之變	貞觀之治	唐盛世的開創者
-------	------	---------

(表三)

- 唐代有「君子國」之稱的是下列那一國家？(A) 新羅(B) 日本(C) 吐蕃(D) 大食

- 請根據(表四)的內容，在下列選項中選出最合適的古代國家？(A) 新羅(B) 日本(C) 吐蕃(D) 大食

布達拉宮	文成公主和親	高原之國
------	--------	------

(表四)

- 魏晉南北朝的道教與玄學，皆因吸收下列那一思想而趨於興盛並進一步發展？(A) 老莊思想(B) 孔孟思想(C) 墨家思想(D) 儒家思想

二、題組(66%，每題 2 分)：18~50 題

請閱讀下列選文，回答第 18 至 24 題：

這個朝代立國於中國南方，是中國世族政治的鼎盛時期，因為首任皇帝的即位，有賴於北方南遷世族的支持，此時南遷世族不僅掌握政權、擁有特權，也帶來大量人力及先進生產技術，促進南方的開發，由於世族勢力龐大，因此當這個朝代被一位將領篡位後，依然保有優勢

- 上文『這個朝代』指的是下列何者？(A) 宋(B) 東晉(C) 孫吳(D) 曹魏

- 上文『首任皇帝』指的是下列何人？(A) 司馬炎(B) 曹丕(C) 孫權(D) 司馬睿

- 上文的『北方世族』在下列那一事件後大量南遷？(A) 赤壁之戰(B) 黃巾之亂(C) 安史之亂(D) 永嘉之禍

- 上文『南方的開發』指的是開發下列何地？(A) 長江流域(B) 黃河流域(C) 淮河流域(D) 海河流域

- 上文『這個朝代』最後被下列那一位將領所篡位？(A) 司馬炎(B) 曹丕(C) 朱溫(D) 劉裕

- 上文世族擁有特權，主要指的下列何者？(A) 減少土地(B) 免勞役(C) 免通婚(D) 免刑罰

- 上文世族能掌握政權，主要是因為下列那一制度或法令？(A) 九品官人法(B) 宗法制度(C) 察舉制度(D) 科舉制度

請閱讀下列選文，回答第 25 至 29 題：

這場宗室內亂，使得中國北方陷入胡漢混戰的情況，不僅國家首都被胡族攻陷，連皇帝也被俘虜。北方在經過百餘年的混亂局面後，最後由鮮卑拓拔氏，結束分裂統一北方

- 25、上文『宗室內亂』指的是下列何者？(A) 黃巢之亂(B) 八王之亂(C) 安史之亂(D) 永嘉之禍
- 26、上文『首都』指的是下列何地？(A) 洛陽(B) 長安(C) 南京(D) 北京
- 27、文中被俘虜的皇帝為下列何人？(A) 漢獻帝(B) 阿斗(C) 晉惠帝(D) 晉懷帝
- 28、上文最後由鮮卑拓拔氏，結束分裂統一北方，建立了那一朝代？(A) 北周(B) 曹魏(C) 北魏(D) 隋
- 29、上文攻陷首都的胡族為下列何者？(A) 羯(B) 匈奴(C) 鮮卑(D) 氏

請閱讀下列選文，回答第 30 至 36 題：

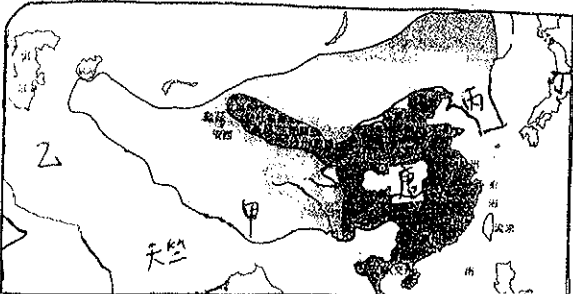
資料一：

西元七世紀我的國家因宗教的凝聚力而興起，到了西元八世紀還打败了東亞的「天可汗」，稱霸中亞，而且還學會了一項中國的重要發明，不久我們兩國恢復友好關係，幾年後我國還派遣軍隊協助中國平定內亂

資料二：

我是空海曾以國家派遣僧的身分，到中國學習佛法，我不僅精通佛法，還對於我國家的文字「平假名」的產生，有很大的貢獻

- 30、上文『宗教的凝聚力』指的是下列那一宗教？(A) 佛教(B) 景教(C) 伊斯蘭教(D) 摩尼教
- 31、文中被打敗的「天可汗」是下列那位君王？(A) 唐玄宗(B) 唐太宗(C) 唐高祖(D) 武則天
- 32、上文「一項中國的重要發明」指的是下列何者？(A) 印刷術(B) 火藥(C) 指南針(D) 造紙術
- 33、上文「協助中國平定內亂」指的是平定下列那一場亂事？(A) 黃巢之亂(B) 八王之亂(C) 安史之亂(D) 永嘉之禍
- 34、資料一所描述的國家為，下列何者？(A) 甲(B) 乙(C) 丙(D) 丁（請在圖二中選出）
- 35、資料二所描述的國家為，下列何者？(A) 甲(B) 乙(C) 丙(D) 丁（請在圖二中選出）
- 36、文中「平假名」的產生，是源自中國的那一字體？(A) 楷書(B) 草書(C) 行書(D) 小篆

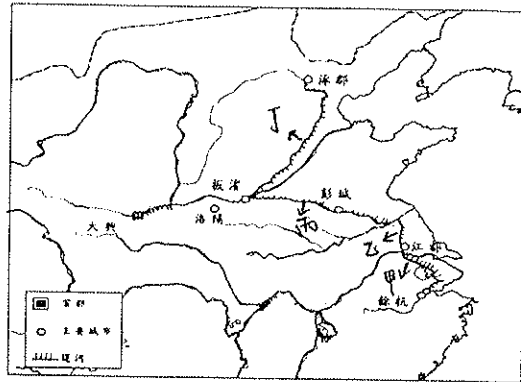


圖(二)

請閱讀下列選文，回答第 37 至 40 題：

這位皇帝開通了四條運河，其中一條目的是為了征伐高麗，其餘三條興建動機主要是為了皇帝的巡遊玩樂，雖然這位皇帝因過度役使民力而導致國家滅亡，但因運河貫通黃河、淮河、長江、錢塘江、海河五大水系，便利了中國南北交通，成為後來國家經濟的命脈，而且西元 2014 年還被聯合國列為世界文化遺產，對於後世嘉惠甚大

- 37、上文『這位皇帝』指的是下列何人？(A) 隋煬帝(B) 隋文帝(C) 秦始皇(D) 唐太宗
- 38、文中『為了征伐高麗』而建的運河，是下列那一條？(A) 甲(B) 乙(C) 丙(D) 丁
- 39、請在圖三中選出連接長江與錢塘江的運河？(A) 甲(B) 乙(C) 丙(D) 丁
- 40、請在圖三中選出連接黃河與淮河的運河？(A) 甲(B) 乙(C) 丙(D) 丁



圖(三)

請閱讀下列選文，回答第 41 至 45 題：

這位胡人君王從小是由漢人祖母養大，因此十分仰慕漢文化，所以後來將首都遷到漢文化中心的洛陽，並推行一連串的漢化措施，雖然在他死後國家因此而發生內戰，導致分裂，但長期而言，促進了胡漢融和，也影響了後世多元文化的風貌

- 41、上文這位胡人君王，最可能是下列那位帝王？(A) 北魏孝文帝(B) 北魏孝武帝(C) 北魏太武帝(D) 曹魏文帝
- 42、這位胡人君王在遷都前，首都位於下列何地？(A) 長安(B) 平城(C) 洛陽(D) 北京
- 43、請在下列選項中，選出這位胡人君王所推行的漢化措施？(A) 鼓勵胡漢通婚(B) 改拜漢人神明(C) 改吃漢人食物(D) 改住漢人房屋
- 44、文中『國家發生內戰』，而分裂成下列那些國家？(A) 東周-西周(B) 東魏-西魏(C) 東漢-西漢(D) 北魏-南魏
- 45、上文『多元文化的風貌』，充分展現在下列那一朝代之中？(A) 秦(B) 漢(C) 唐(D) 宋

請閱讀下列選文，回答第 46 至 50 題：

佛教起源於印度半島，自西域傳入中國，魏晉南北朝時因戰亂頻繁，帝王提倡而興盛，今日山西大同、河南洛陽、甘肅敦煌的石窟藝術，見證了當時佛教的盛況，隨著佛經大量翻譯及帝王推廣，至隋唐時期佛教已逐漸中國化並達於鼎盛

- 46、佛教在何時自西域傳入中國？(A) 秦(B) 西漢(C) 東漢(D) 魏晉南北朝
- 47、上文佛教在魏晉南北朝因『帝王提倡而興盛』，其中最著名的帝王，為下列何人？(A) 隋文帝(B) 晉元帝(C) 北魏孝文帝(D) 梁武帝
- 48、上文對『佛經大量翻譯』有鉅大貢獻的是，下列那位高僧？(A) 劉伶(B) 張陵(C) 玄奘(D) 張角
- 49、上文『甘肅敦煌的佛教石窟藝術』指的是下列何者？(A) 雲岡石窟(B) 龍門石窟(C) 麥積山石窟(D) 莫高窟
- 50、上文『隋唐佛教已逐漸中國化』，其中最著名的佛教中國化派別，為下列何者？(A) 天台宗(B) 唯識宗(C) 華嚴宗(D) 禪宗