

宜蘭縣立羅東國中 105 學年度第一學期九年級公民科第二次段考考試卷

1. 為了要減少菸品消耗量與降低吸菸率，政府祭出「提高菸價以價制量」的政策，而世界衛生組織也指出，高收入國家，菸價每提高 10%，菸品消耗量就能減少 4%。請問政府的政策是運用哪一個經濟學上的原則？(A) 需求法則(B) 負擔能力原則(C) 供給法則(D) 累進原則。

2. 下表是秀賢 10 月的花費，他花費於「無形勞務」費用，總計是多少元？
(A) 380 元 (B) 980 元 (C) 950 元 (D) 600 元

項目	看電影	買書	剪頭髮	看醫生
費用	250 元	400 元	380 元	350 元

3. 請問對於下列對於稀少性的敘述，何者正確？(A) 稀少等於貧窮 (B) 想要的大於實際上擁有的，便感到稀少 (C) 世界首富便不會感到稀少 (D) 稀少是指資源總數量的多寡。

4. 下列何者屬於商品？(A) 仲保險公司推出新的意外險保單 (B) 疊久自己栽種豆芽菜煮來吃 (C) 仲基撿河邊的石頭回家當裝飾品 (D) 慧喬把家政課製作的鬆餅送給智媛吃。

5. 金車蘭花園從事蝴蝶蘭的種植與販賣，近年來國人春節時常常購買蝴蝶蘭的盆栽，此狀況導致蝴蝶蘭的價格上漲，則蝴蝶蘭的供應量應該會？(A) 減少 (B) 增加 (C) 不變 (D) 無法預測。

6. 窰兒是知名樂團的主唱，因好奇心驅使下花了 15000 元購買大麻嘗試，結果被警方拘捕。此事登上媒體版面後，窰兒形象大傷，丟了原本 100000 的商品代言機會。若以金錢計算，請問窰兒吸食大麻的機會成本為何？(A) 5000 元 (B) 115000 元 (C) 105000 元 (D) 95000 元。

7. 老師請同學說明「機會成本」的意義，其中哪一個人的說法正確？(A) 佳瑩：「在其他條件都相同的情況下，所放棄的機會中代價最高的。」(B) 冠霖：「所放棄其他機會的代價總和。」(C) 佩倫：「要選擇機會成本較高的。」(D) 翊宣：「將資源作最大效用的發揮，就不會產生機會成本。」

8. 丁噹決定擴大營業規模，除了多招聘工讀生外，也使用自有店面開設分店，投入更多自有資金，購買鍋爐設備。請問以下敘述，何者正確？(甲) 丁噹購買的鍋爐設備，稱作資本 (乙) 丁噹使用自有店面開店，付出的代價是喪失利息收入 (丙) 丁噹計算生產成本時，也必須將雇用自己的薪資納入計算 (丁) 丁噹具有商業頭腦，投資一定穩賺不賠。(A) 甲乙 (B) 乙丙 (C) 甲丙 (D) 丙丁。

9. 新聞報導：「某民間團體公布市售塑膠包材食品及材料檢測結果，共在雙北地區大賣場、連鎖早餐店、糕餅店等抽樣 41 件樣品，並針對其中 34 件食品進行鄰苯二甲酸酯類塑化劑含量測試，結果共 13 件檢出微量塑化劑，比率達 3 成 8，檢出含量在 0.1 到 0.4ppm 間。」請問：從新內容開來看，此「民間團體」為以下何者？(A) 消費者保護處 (B) 公平交易委員會 (C) 消費者文教基金會 (D) 環境保護聯盟。

10. 航海王樂園為吸引更多晚上也願意出門戲水的遊客，所以推出(甲)星光優惠票(乙)4 人同行，1 人免費(丙)女性若穿比基尼泳衣入場費用全免，請問：業者的促銷策略，應歸為生產要素的哪一項呢？(A) 自然資源 (B) 人力資源 (C) 資本 (D) 企業才能。

11. 胖虎辭去宏達電子月薪 5 萬元的工作，收回原本租給別人的一個月租金 2 萬元的店面，打算開一家「貝士特」安親班，雇用了二位月薪皆 25,000 元的老師，並將銀行存款 30 萬元提出購買教室設備和裝潢，損失了利息 4000 元。根據上述內容判斷，彥明開安親班第一個月的生產成本是多少元？(A) 354,000 元 (B) 350,000 元 (C) 420,000 元 (D) 424,000 元。

12. 剛從大學建築系畢業的曉青，為了找工作，除了翻閱各家報紙的徵人廣告外，還上求職網站找尋適合的工作。她找到一間建設公司，該公司是現代企業中最重要的類型，其福利之一是將公司的利潤以股票分紅的方式發給員工，因此決定前往面試。請問：上述的建設公司屬於哪一種企業經營的型態？(A) 獨資 (B) 合夥 (C) 股份有限公司 (D) 無限公司。

13. 阿傑拿出自己的積蓄開了一家早餐店，並且雇用了兩位工讀生幫忙。下列關於這家早餐店的敘述，何者正確？(A) 為合夥企業 (B) 特色是一人獨力出資，利潤獨享 (C) 股東僅針對所認股份對公司負責 (D) 容易因意見不合而拆夥。

14. 就讀大學企管系的小詠要進行「企業責任」專題研究，下列四則新聞，哪則符合她的需求？(A) 員工不受金錢誘惑而洩漏公司機密 (B) 個人遵從國家法律規定，停止複製人研究，以免產生爭議 (C) 樂在工作，追求心靈上的滿足 (D) 簽署「愛心公司約定」，承諾一年內不裁員。

15. 環保署呼籲民眾挑選年節禮盒時，應掌握「一多三少」原則，亦即產品份量多、包裝材料少、種類少、印刷少；更不要花錢買包裝。上述做法符合下列何種概念？(A) 綠色消費 (B) 綠色管理 (C) 綠色建築 (D) 綠色能源。

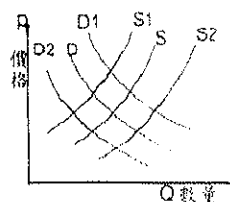
16. 「當我們在使用資源時，絕不能為了滿足這一代的需求，而剝奪了後代子孫享受現有環境資源的權利。」請問：此係彰顯下列何項概念？(A) 綠色經濟 (B) 經濟發展 (C) 企業責任 (D) 永續發展。

17. 現在全球每一天至少有超過 10 億人飲用咖啡，國際性非營利組織——「雨林聯盟」為保存雨林原始生態，除監督咖啡樹的種植及咖啡豆的供應，也管控廢水、廢氣等汙染排放，以維護環境與生態及商業發展的永續平衡。請問：上述「雨林聯盟」的作法，最主要的意義為何？(A) 落實綠色經濟觀念 (B) 推廣節能減碳 (C) 善盡工作倫理 (D) 保障消費權益。

18. 關於貨幣的發行要由政府負責的道理，何者錯誤？(A) 控制貨幣數量是非常重要的課題 (B) 控制貨幣數量的目的之一是為了避免物價上漲 (C) 如果貨幣數量增多而商品沒有增加，會導致物價下跌 (D) 貨幣數量繼續增加，而商品數量卻增加有限，沒有得到新增貨幣的人，生活福祉會下降。

19. 勞動部為了維護勞工權益，定期針對企業展開調查，包括工資、工時以及投保薪資等做檢核。請問：這種做法是希望業者能善盡下列哪方面的(A) 維護消費者權益 (B) 落實員工福利 (C) 從事公益活動 (D) 重視環境保育。

20. 颱風造成的影響讓蔬菜、水果的漲幅較大。若其他條件不變，民眾改吃受颱風影響較小的根莖類蔬菜(如紅蘿蔔、馬鈴薯)。根據右圖的供需曲線，請問：此時根莖類蔬菜市場將出現何種變化？(A) 由 D 移向 D1，價格上漲 (B) 由 S 移向 S1 價格下跌 (C) 由 S 移向 S2，價格上漲 (D) 由 D 移向 D2，價格上漲。



21. 在「統制經濟」的制度下，經濟活動如何進行？(甲) 政府主導資源的配置 (乙) 政府決定生產什麼及生產方式 (丙) 人民幾乎沒有資源所有權 (丁) 民間企業發展蓬勃 (戊) 價格由買賣雙方透過交易決定 (A) 甲乙丙 (B) 甲乙戊 (C) 甲乙丙丁 (D) 甲乙丙丁戊。

22. 中國古代商店以貨物換取白銀，然後再以白銀換取其他生活所需物資。請問，下列哪一項說法比較貼近本題敘述？(A) 中國古代白銀純度相當高 (B) 中國古代白銀開採未受管制 (C) 中國古代採用以物易物的交易模式 (D) 中國古代以白銀做為貨幣。

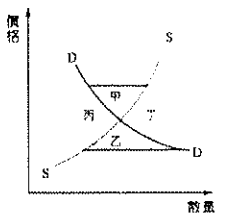
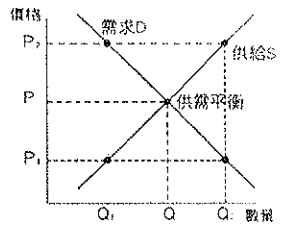
23. 大型量販業者增設小型社區分店，搶攻社區消費者荷包，現代人買東西喜歡一個地方全部買足，但又嫌大型量販賣場離市區太遠，現有量販業者推出小型便利購分店，業者表示分店整裝開幕前，預計各分店會釋出近二十個職缺，歡迎有銷售、生鮮、烘焙專長者的加入。請問：量販業者增加聘雇多名員工，屬於經濟循環圖中的哪一項？(A) 生產要素供給 (B) 商品需求 (C) 生產要素需求 (D) 商品供給。

24. 小歲到百貨公司買衣服，因正值換季拍賣，所有商品一律三折，小歲超出預期的費用，刷卡買了三件，價格分別為 250 元、450 元、300 元，共花了 1,000 元。請問：下列敘述何者錯誤？(A) 價格讓小歲增加了購買數量，這是需求法則 (B) 信用卡稱塑膠貨幣，其優點是先享受後付款，所以它也算是貨幣 (C) 信用卡具有延遲支付的功能 (D) 一件衣服價格 250 元，此時「250 元」代表價值衡量的工具。

25. 近年來大鍋子與奧鍋各品項的售價逐年調漲，有消費者表示，先前大勝與奧鍋只要 90 元現在卻要 110 元。老闆回應：近兩年來商品調漲的原因是原物料上漲及人事成本增加所導致。請問：商品的售價能呈現貨幣的哪一特性？(A) 價值儲存 (B) 清償債務 (C) 交易媒介 (D) 價值衡量。

26. 下列有關「貨幣」的敘述，何者正確？(A) 貨幣不是衡量各項物品價值的單位 (B) 貨幣要發揮各項功能，須有穩定的價值 (C) 目前新臺幣是由台灣銀行發行 (D) 貨幣價值的高低不能以貨幣所能購買的商品數量來衡量。

27. 右圖為某名牌運動鞋的需求D與供給S曲線圖。在其他條件不變的情況下，下列有關「價格與供給量的變化」之敘述，何者正確？(A)價格由P→P₁，供給量減少 (B)價格由P→P₂，供給量不變 (C)價格P→P₁，供給量由Q→Q₂ (D)價格P→P₂，供給量由Q₂→Q。
28. 易明在閱讀歷史文獻中看到如下敘述：鄭氏治臺時期，沿用明朝貨幣，採「銀銅雙本位制」，大宗買賣時用銀，小額的消費用銅錢。請問：上述內容顯示貨幣何種功能？(A)交易媒介 (B)債務清償 (C)價值儲存 (D)價值衡量。
29. 承上題，鄭氏時期使用的貨幣有何特色？(A)貨幣本身不具價值 (B)政府以法令強制使其具有效力 (C)具有延遲支付的特性 (D)和貝殼一樣同屬於商品貨幣。
30. 右圖是稻米的市場供需圖，假若政府為了讓國內農夫過上更優渥的生活，強制稻米收購的價格高於均衡價格時，請問，若其他條件不變，圖中的哪一個區域可以正確及完整地描述這種現象？(A)甲(B)乙(C)丙(D)丁。
31. 承上題，一段時間後，若政府不再限定稻米價格，而其他條件不變，稻米價格將產生何種變化？(A)上漲(B)下跌(C)不變(D)無法預測。
32. 在經濟活動循環體系中，哪一種現象意味著「經濟衰退」？(A)生產成本增加，消費支出也增加 (B)銷貨收入增加，消費者所得也增加 (C)消費支出減少，生產成本投入也減少 (D)貧富差距加大，物價持續上漲。
33. 據報載有一群年輕人到KTV消費，結果因為消費金額太高而心生不滿，故意以一元硬幣付款，造成收款櫃檯的不便，而收款櫃檯又不能拒收一元硬幣。請問：這是因為一元硬幣具有何種特性？(A)無限法償 (B)交易的媒介 (C)價值的儲存 (D)價值計算的標準。
34. 「超額儲蓄」是指減少消費、多儲蓄，可以累積個人財富。但假若大家都如此，反而會不利經濟運作，因為超額儲蓄愈大，代表生產出來的產品銷路不佳，若沒有其他的去處，就會出現存貨增加、工廠倒閉乃至國民所得降低的現象。以上敘述隱含經濟運作的何種觀點？(A)儲蓄增加有利國家經濟 (B)超額儲蓄並不會影響經濟活動循環 (C)超額儲蓄會導致通貨膨脹 (D)經濟活動循環牽一髮而動全身。
35. 尤努斯成立銀行，推出「微型貸款」實踐救助人的理想。「微型貸款」是把一筆小額金錢，以低於政府規定的利率，借貸給拿不出任何抵押品的窮人，讓他們有基本的資金來投資創業，尤努斯因而獲得諾貝爾和平獎。請問：下列有關「投資」的概念何者錯誤？(A)投資是指生產者購買資本財的行為 (B)資金可能來自別人的儲蓄 (C)生產者使用自己儲蓄投資不需要計算成本 (D)投資主要的目的是增加生產。



二、題組

(一)來自西班牙的時尚品牌Zara首度進軍桃園市場，首家店位於南崁「台茂購物中心」一樓，以將近1,700多平方公尺(約515坪)的店舖，完整呈現2014-15秋冬最新女裝、男裝與童裝系列。而「台茂購物中心」也希望藉由引進Zara來帶動購物中心的人潮。就在Zara首度進軍桃園市場的同時，柬埔寨工會領袖帶領Zara在柬埔寨的成衣廠員工走上金邊街頭發起集會，要求Zara將在柬埔寨成衣廠員工的薪資由原本的每月77美元調高為每月177美元。否則不排除罷工！由於Zara正準備在柬埔寨擴充成衣廠規模，因此極有可能答應工會的要求。請以本文回答第36~40題：(改寫自中時電子報)

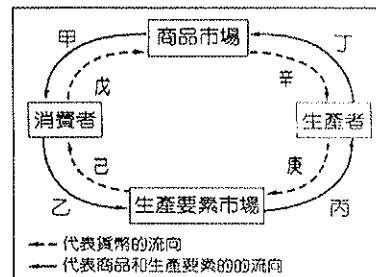
36. Zara在比較同業經營模式，並仔細評估市場趨勢後，決定在南崁店完整呈現2014-15秋冬最新女裝、男裝與童裝系列，以吸引消費。請問Zara劃線部分的做法符合企業經營應注意的哪一項原則？(A)投資(B)風險管理(C)內部管理(D)企業合作。

37. 若Zara柬埔寨成衣廠員工發動罷工，將使得右圖中甲、乙、丙、丁哪一個部分出現短缺？(A)甲(B)乙(C)丙(D)丁。

38. 若Zara柬埔寨成衣廠最後決定調漲工資卻裁減員工數量的方法來因應工會的要求，這種因應方式乃是為了藉由控制圖中哪一個部分來維持利潤？(A)戊(B)己(C)庚(D)辛。

39. 「台茂購物中心」希望藉由引進Zara來帶動購物中心的人潮，這樣的作法符合企業經營應注意的哪一項原則？(A)投資(B)風險管理(C)內部管理(D)企業合作。

40. 如文中所述，Zara準備在柬埔寨擴充成衣廠規模，來提高利潤，這樣的作法符合企業經營應注意的哪一項原則？(A)投資(B)風險管理 (C)內部管理(D)企業合作。



(二)曾小憲是個保險公司的超級營業員，每天早上都會利用電腦整理客戶的保單，並順便上網至各個商店逛逛，透過網路購買一些可愛的布娃娃送給客人。下了捷運站之後，他總是匆匆忙忙跑到便利商店購買「黑輪」當早餐，然後趕至公司簽到，接著至星巴克咖啡館裡坐下，以信用卡方式付款點一杯卡布奇諾咖啡與客戶洽談保單事宜，趁著空檔之際，還會拿起手機打電話給股市營業員委託其買賣股票。上個月他收到某家電腦公司寄來的廣告目錄，結果他看中了其中的一台筆記型電腦，於是透過郵購的方式買之，但當貨物送達家中之後，卻發現其功能與廣告目錄上面所說的差距甚遠，於是打電話至該公司申訴，但該公司卻置之不理，以「貨物出門概不退還」為理由搪塞，氣的他吹鬍子瞪眼睛。

41. 下列組合中，何者全部是商品？(甲)保單 (乙)筆記型電腦 (丙)手機 (丁)布娃娃 (戊)廣告目錄 (己)黑輪 (庚)咖啡 (A)甲乙丙 (B)丙戊己 (C)丙丁戊 (D)甲戊庚

42. 本文中，提到了幾種有形市場？(A)2 (B)3 (C)4 (D)5

43. 本文中，提到了幾種無形市場？(A)2 (B)3 (C)4 (D)5

44. 下列敘述何者錯誤？(A)根據消費者保護法規定，曾小憲可在七日之內將該郵購商品退回，並要求廠商還錢 (B)曾小憲亦可打電話至政府機構，也就是消費者文教基金會申訴 (C)曾小憲亦可循求民事訴訟途徑，請求損害賠償 (D)這家電腦公司的不實廣告亦有可能牽涉到刑法上的詐欺罪問題。

三、是非題 正確的請劃A；錯誤的請劃B

45. 台北市政府舉辦大型的就業博覽會屬於無形市場中的生產要素市場。

46. 小楮的爸爸被大家稱為股市大亨，因為他每天都到『股票市場』中買賣股票，文中股票市場是無形市場中的商品市場。

47. 誠品書店在店內開闢了一個專賣食品的櫃位「誠品知味」，賣的是台灣本土的米油醬醋茶、乾貨、零嘴等，食品，品牌著重在「精彩的台灣農作與各地用心耕耘的人」。根據文中所指「各地用心耕耘的人」扮演商品和生產要素供給者。

48. 「羊毛出在羊身上」，最適合用來說明經濟學上供給法則的觀念。

49. 貝殼、黃金、白銀等物品曾被拿來當做貨幣，這些物品本身就是商品，具有一定的價值，因此稱為「商品貨幣」。

50. 個人印製偽鈔、使用偽鈔須負起刑事責任。