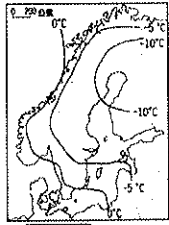
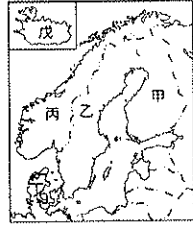


壹、單選題 (每題 2 分)

01. 北歐的緯度雖高，但其一月等溫線圖如下圖一所示，該地區氣溫分布的最主要影響因素為下列何者？(A)緯度高低(B)季風吹拂(C)地勢高低(D)暖流經過。
02. 下圖二是北歐五國的地理位置圖，關於這五個國家的國名與別稱的配對何者正確？(A)甲—瑞典—千湖國(B)乙—挪威—峽灣國(C)丙—冰島—冰火王國(D)丁—丹麥—歐洲牧場。



圖一



圖二

03. 德國工業發展的優勢不包括下列哪一個因素？(A)盛產石油(B)便利水運網(C)雄厚科技能力(D)實事求是民族性。
04. 隨著人口與工業的發達，資源消耗的情況越趨明顯，許多國家致力於再生能源的開發，以因應未來的發展。請問：以下哪個國家的再生能源使用配對有誤？(A)烏克蘭—水力發電(B)荷蘭—水力發電(C)德國—太陽能(D)冰島—地熱能。
05. 請問下列敘述有關「世界之最」的景觀何者為非？(A)世界森林面積最大的國家—俄羅斯(B)世界最深的淡水湖—貝加爾湖(C)世界最長的內流河—多瑙河(D)世界地勢最低的國家—荷蘭。
06. 挪威是世界數一數二的航運大國，請問該國發展成航運大國的優勢有哪些？甲、北大西洋暖流使港口冬不結冰 乙、峽灣地形發達港闊水深 丙、谷灣式海岸利於闢建港口 丁、位於北太平洋黃金航道上。正確的是：(A)甲乙(B)甲丙(C)乙丁(D)丙丁。
07. 『2010 年夏天冰島火山爆發，並受到□□影響，造成歐洲大陸交通停擺近一個月、經濟受到嚴重衝擊』。文中的「受到□□影響」是指下列那一個情形？(A)受到暖流影響，噴發威力增強(B)受到高壓籠罩影響，火山灰在大氣中久久不散(C)受到極地冷氣團影響，大雪夾帶火山灰紛飛(D)受到盛行西風影響，將火山灰吹向歐洲大陸。
08. 下表為西歐與中國的河川比較表格，請問下表中哪一項正確？(A)甲(B)乙(C)丙(D)丁。

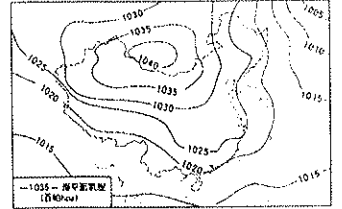
	甲	乙	丙	丁
	主要流向	最長河川	主要運河方向	河川流量變化
西歐	由南向北	多瑙河	東西向	流量變化大
中國	由東向西	長江	南北向	流量變化大

09. 東歐巴爾幹半島素有「歐洲火藥庫」之稱，而西亞衝突頻傳也引發諸多「中東問題」，請問下列何者非兩者相似的背景？(A)位置過渡(B)民族多元(C)宗教複雜(D)水源不足。
10. 下列何者為斯拉夫民族的主要宗教信仰？(A)伊斯蘭教(B)佛教(C)基督教(D)東正教。
11. 有關萊茵河的敘述，何者錯誤？(A)歐洲航運最盛的河川(B)沿途流經德國重要的工業區(C)在波蘭注入波羅的海(D)出口鹿特丹為轉口貿易港。
12. 乘坐歐洲著名的高速鐵路「歐洲之星」，僅花費三十分鐘即通過英法海底隧道，請問英法海底隧道通過哪一海域？(A)北海(B)波羅的海(C)英吉利海峽(D)直布羅陀海峽。
13. 受全球暖化的影響，濱海國家的土地一吋吋的被海水淹沒，人民也被迫遷移。請判斷下列哪些國家可能成為全球暖化下的犧牲者？(甲)荷蘭(乙)捷克(丙)馬爾地夫(丁)尼泊爾(戊)哈薩克(己)瑞士(A)乙、丁(B)甲、丙(C)丁、己(D)戊、己。

14. 北歐比其他地方擁有更多的社會福利制度以保障人民的基本生活，值得世界各地作為借鏡。請問：其社會福利制度的健全，主要與哪項因素有關？(A)舉債建設(B)歐盟福利金的投入(C)利用豐富的天然資源賺取利潤(D)採取高稅收制度。
15. 瑞士以發展原料體積小、重量輕，產品附加價值高的「精密工業」而著稱，代表的產業為：鐘錶。請問這種產業的發展和下列何者關係最密切？(A)高山地形、交通不便(B)冰河地形發達(C)礦產豐富、工業技術先進(D)工資低廉。
16. □□是中國直轄市為管理三峽大壩集水區而成立。市區多山多霧，故又有山城、霧都的別名，夏季天氣炎熱，也有火爐別稱。□□是下圖三中哪一地區？(A)甲(B)乙(C)丙(D)丁。
17. 下圖四為亞洲東半部的地面天氣圖。請問：中國北部地區此季節的主要風向是(A)西北風(B)東南風(C)西南風(D)東北風。



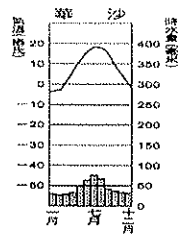
圖三



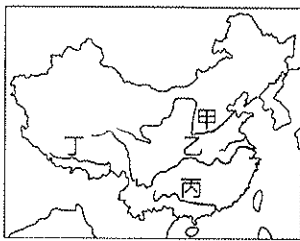
圖四

18. 中國幅員遼闊，地形、氣候景觀非常豐富；試問下列哪張地圖能正確表示中國的絕對位置？
- (A) (B) (C) (D)
19. 承上題，從地圖中可以看出下列哪些現象？甲、面積廣大 乙、位居中緯度 丙、地形複雜 丁、面海背陸。(A)甲乙丙 (B)甲丙丁(C)甲乙丁(D)乙丙丁。
20. 右圖為某地形示意圖，該圖最有可能在東歐『甲』國家出現，及在中國『乙』地也能看得到，請問『甲』、『乙』分別是？(A)丹麥、廣東(B)芬蘭、雲南(C)希臘、福建 (D)克羅埃西亞、廣西。
21. 承上題，形成該種地形最主要的營力作用是(A)風蝕(B)河蝕(C)溶蝕 (D)冰蝕。
22. 西伯利亞因氣候不佳，是地廣人稀的地區，其北部的氣候更呈現冷乾的特色而不適合人居住。下列何者不是造成其氣候冷乾的主要原因？(A)緯度高(B)蒸發旺盛(C)距海遙遠 (D)背東南季風。
23. 承上題，以下四地的氣候圖，何者最有可能位於西伯利亞北部？
- (A) (B) (C) (D)
24. 右圖為中國簡圖，下列何者最可能是「乙地」居民生活寫照？(A)以小麥、雜糧為主食(B)穿著方便脫的單袖袍子(C)住所多為干欄式建築(D)以船隻為主要運輸工具。
25. 承上題，圖中哪個地區受到地勢高的影響，呈現「冬寒夏涼」的氣候特徵？(A)甲(B)乙(C)丙(D)丁。

26. 華沙是某國的首都，其氣候圖如右圖所示，根據該圖有關華沙氣候特徵之描述，下列何者正確？(A)夏季主要降雨類型為地形雨 (B)華沙的年溫差比倫敦小 (C)華沙因距海較遠，屬於溫帶大陸性氣候 (D)華沙的年雨量較倫敦多。



27. 洞庭湖與鄱陽湖是中國著名的淡水湖，可提供農業灌溉、發展養殖漁業及休閒觀光還具有調節河川的功能。請問：洞庭湖與鄱陽湖可調節下圖五中哪條河川的水位？(A) 甲 (B) 乙 (C) 丙 (D) 丁。



圖五

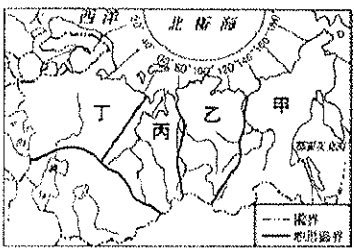


圖六

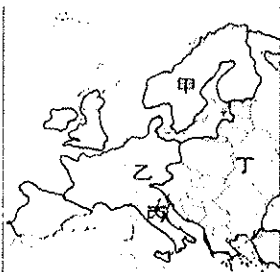
29. 中國土地面積廣大，雖然使用同一標準時間，但各地的日出時刻相差很大。請問：上圖六中，哪一個地點會較晚看到一天的日出？(A) 甲 (B) 乙 (C) 丙 (D) 丁。

◎下圖七為俄羅斯地形分區圖，請依圖回答第 30-34 題

30. 俄羅斯人口分布極不平均，請問其人口主要集中於圖中的哪一地區？(A) 甲 (B) 乙 (C) 丙 (D) 丁。
31. 圖中甲區地貌的成因與中國何地相同？(A) 黃土高原 (B) 喜馬拉雅山 (C) 長江中下游平原 (D) 河西走廊。
32. 圖中從丁區到丙區，會穿越哪一座山脈？(A) 喀爾巴汗山 (B) 烏拉山 (C) 高加索山 (D) 斯堪地那維亞山。
33. 俄羅斯境內的河川長度均為世界前十五長，但甲乙丙三地理區河川航運價值低，請問其原因為何？甲、流向不佳 乙、結冰期長 丙、春季融冰氾濫 丁、地廣人稀，請問以上正確的有幾項？(A) 4 (B) 3 (C) 2 (D) 1。
34. 下列哪一個工業區不在俄羅斯境內？(A) 洛林工業區 (B) 莫斯科工業區 (C) 貝加爾湖工業區 (D) 烏拉山工業區。




圖七



圖八

◎上圖八為歐洲四大分區簡圖。請依圖回答 35-39 題：

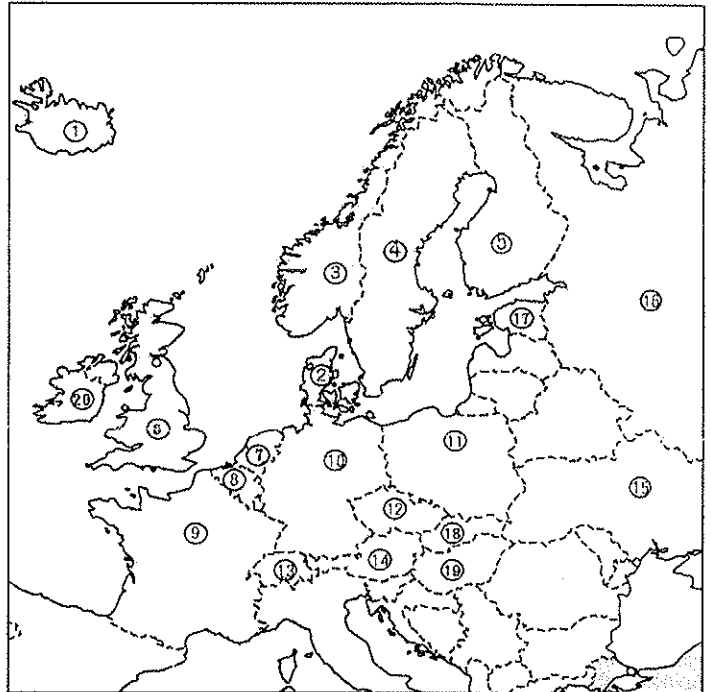
35. 下列有關歐洲各分區之敘述，何者正確？(A) 過去大航海時期的殖民歷史，奠定了歐洲甲區各國貿易的基礎 (B) 丁部分國家近十年來，隨著加入歐盟，經濟顯著成長 (C) 丙區在工業革命後，扮演了世界經濟發展的火車頭 (D) 歐盟成立後，使歐洲各分區在發展上齊頭並進，經濟水準更趨一致。
36. 如右圖海岸類型，較容易出現於哪一地區的海岸？(A) 甲 (B) 乙 (C) 丙 (D) 丁。
- 
37. 承上題，形成此種海岸類型的條件正確順序是 (A) U 型谷→海水入侵 (B) 冰蝕湖→海水入侵 (C) 河谷→海水入侵 (D) 冰蝕湖→湖水流出。

38. 歐洲地形景觀豐富，下列有關歐洲各區地形的配對，何者錯誤？(A) 甲—地形崎嶇、海岸曲折、土壤貧瘠 (B) 乙—地形主體是歐洲大平原 (C) 丙—三大半島深入地中海 (D) 丁—以阿爾卑斯山為界，北部為山地，南部多平原。
39. 歐洲某個國家有「迎光節」的節慶，在冬至當天由女孩戴上蠟燭帽子，在這全天不見太陽的日子裡，祈求陽光早日普照大地。若根據其環境特色加以判斷，此國家最可能在圖中哪一個地區？(A) 甲 (B) 乙 (C) 丙 (D) 丁

◎影響一個國家工業或經濟發展的要素包含了：(甲) 充裕資金 (乙) 先進技術 (丙) 便捷交通 (丁) 廣大市場 (戊) 廉價勞力 (己) 充足動力 (庚) 豐富原料。根據下文題目判斷出「最適合」的答案，請回答 40-42 題：

40. 1990 年代，歐洲共產政權瓦解後，東歐各國憑藉哪一項條件，吸引西歐資金投入，發展經濟？(A) 甲 (B) 丙 (C) 戊 (D) 庚。
41. 瑞典汽車工業的蓬勃發展主要是藉助何種工業區位？(A) 丁 (B) 戊 (C) 己 (D) 庚。
42. 冰島的煉鋁工業相當發達，成為當地重要的收入來源。請問：冰島發展煉鋁最有利的條件為何？(A) 乙 (B) 丙 (C) 戊 (D) 己。

◎右圖為歐洲國家簡圖。請回答 43-50 題：



43. 圖中哪一個國家的海外殖民地遍布世界各地，被稱為『日不落國』？(A) ⑥ (B) ⑨ (C) ⑭ (D) ⑯。
44. 圖中哪一個國家是⑩國油氣管線通往西歐的重要通道，常因與⑯國對天然氣的價格意見不同，特別是需求量最大的冬季，彼此爭端不斷上演，再加上國內分為「親歐盟」與「親⑯國」兩派，因而政局動盪不安？(A) ① (B) ③ (C) ⑦ (D) ⑱。
45. 『⑨國』為歐洲最大的農產品出口國，下列有關該國農業活動的敘述，何者錯誤？(A) 附加價值較高 (B) 發展精緻農業 (C) 低價搶攻市場 (D) 講究行銷策略。
46. 歐盟總部所在是圖中何國的首都？(A) ② (B) ⑤ (C) ⑦ (D) ⑧。
47. ⑯國林業發達，該國最主要的植被類型是下列何者？(A) 雨林 (B) 紅樹林 (C) 針葉林 (D) 闊葉林。
48. 圖中哪兩國均利用北海油源增加收入，並使用在發展高科技工業以帶動經濟持續發展？(A) ①、③ (B) ③、⑥ (C) ⑦、⑧ (D) ④、⑤。
49. 請問下列有關⑪國的敘述，何者是正確的？(A) 共產時期發展軍火工業是蘇聯的兵工廠 (B) 因沿海新生地鹽分高種質牧草，發展酪農業 (C) 第一大港口格但斯克瀕臨波羅的海，造船工業發達 (D) 首都基輔有聶伯河流經，農業發達。
50. 歐洲自然、人文景觀豐富，有「無煙囪工業」之稱的觀光業是各國重要的財政來源之一。請問：下列組合何者正確？(A) ⑩—尿尿小童 (B) ⑫—布拉格欣賞著名的木偶劇、天文鐘 (C) ⑬—樂高樂園、美人魚銅像 (D) ⑳—蔚藍海岸、凱旋門。