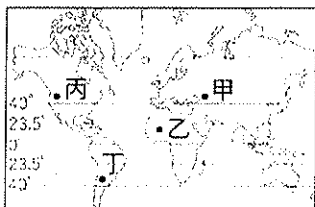


宜蘭縣立羅東國中 105 學年度第一學期九年級地理科第一次段考試卷

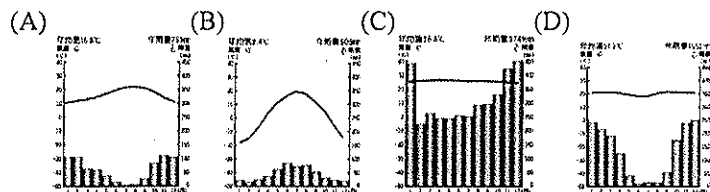
選擇題：每題 2 分，請用 2B 鉛筆作答

班級： 座號： 姓名：

※下圖為四種氣候的分布圖，請問

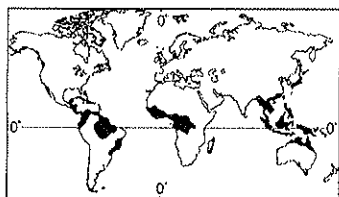


1. 何者可能是熱帶莽原氣候？ (A) 甲 (B) 乙 (C) 丙 (D) 丁。
 2. 呈上題，熱帶莽原氣候的氣候圖為以下何者？



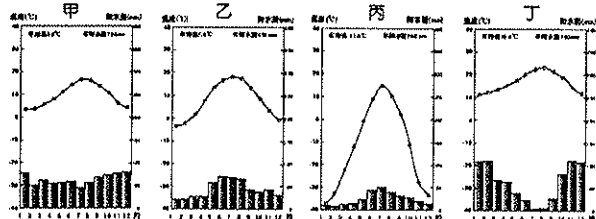
3. 甲氣候應具有以下哪項特徵？ (A) 全年有雨 (B) 夏季為主要雨季 (C) 年溫差大 (D) 因寒流流經，造成沿海地區冷溼多霧。
 4. 熱帶季風氣候、熱帶莽原氣候和溫帶地中海型氣候，三者具有下列哪項共同的氣候特徵？ (A) 乾溼季節分明 (B) 降水集中乾季 (C) 無乾溼季之分 (D) 終年高溫多雨
 5. 下列哪些為終年有雨的氣候類型？ (甲) 熱帶莽原氣候 (乙) 熱帶雨林氣候 (丙) 溫帶海洋性氣候 (丁) 溫帶地中海型氣候 (戊) 溫帶大陸性氣候 (A) 甲乙 (B) 乙丙 (C) 丙丁 (D) 丁戊。

6. 下圖黑色處為某種氣候分布區，在這種氣候環境下會出現怎樣的景觀？



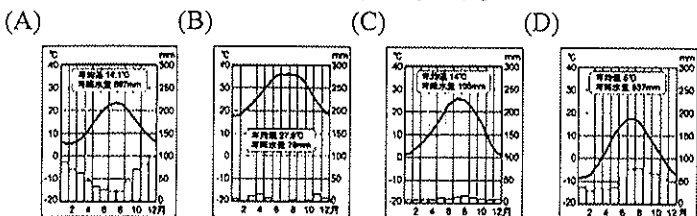
- (A) 植物茂密多樣 (B) 植被以高草原為主 (C) 多種植橄欖和葡萄 (D) 動物隨兩季大規模遷移。

7. 根據下列四個氣候圖，請問假設甲、乙兩城市緯度相當，造成甲城市降雨量較多而平均，且年溫差較小的可能原因為何？ (A) 地勢較低 (B) 距海較近 (C) 山脈阻擋 (D) 涼流流經。



8. 歐洲是世界人口分布最均勻的一洲，可能原因有哪些？ (甲) 位在中緯度 (乙) 地形平坦 (丙) 氣候暖溼溫和 (丁) 海岸線曲折 (戊) 與亞洲大陸連接。 (A) 丙、丁、戊 (B) 乙、丙、戊 (C) 乙、丙、丁 (D) 甲、乙、丙。

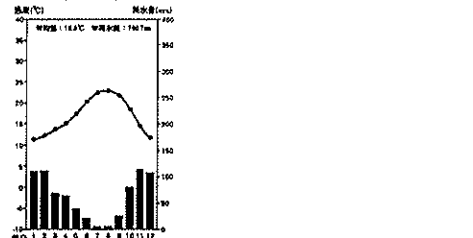
9. 下列哪張圖最能代表西亞主要的氣候類型？



10. 呈上題，造成西亞形成這種氣候的主要原因為何？ (A) 高山圍繞 (B) 對流旺盛 (C) 高壓籠罩 (D) 距海遙遠。

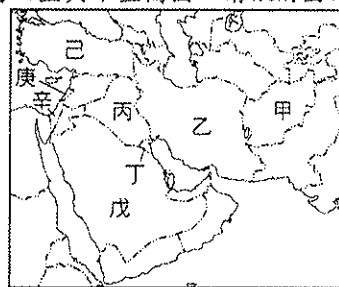
11. 西亞石油蘊藏全球最多，其中又以波斯灣地區最為豐富，產油國受惠於石油帶來的財富，但有些國家雖不產石油，卻也能向產油國徵收架設油管的費用，從中獲利。下列哪個國家就是以這種方式增加國家收入？ (A) 伊拉克 (B) 伊朗 (C) 黎巴嫩 (D) 阿拉伯聯合大公國。

12. 附圖為西亞某地區的氣候圖。請問該地區最可能位於何處？ (A) 紅海和波斯灣沿岸 (B) 波斯灣和黑海沿岸 (C) 黑海和地中海沿岸 (D) 地中海和阿拉伯海沿岸。



13. 受氣候影響西亞的主要作物為何？ (A) 棉花、椰棗 (B) 香料、咖啡 (C) 葡萄、橄欖 (D) 可可、椰子。

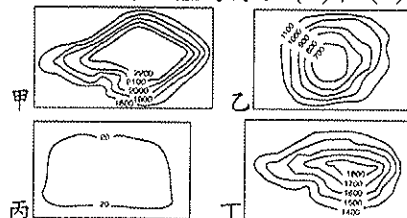
※附圖為西亞與中亞簡圖，請依附圖回答 14-20 題：



14. 關於的戊區的敘述何者正確？ (A) 為河川沖積形成的平原 (B) 為板塊擠壓形成的高原 (C) 為古老陸塊形成的高原 (D) 為高山、高原圍繞的盆地。
 15. 圖中的乙區現在農業多利用何種方式灌溉？ (A) 坎井 (B) 渠道 (C) 水庫 (D) 地下水井。
 16. 西亞傳統的兩河流域文明歷史悠久，並有「肥沃月彎」之稱位於圖中哪個國家境內？ (A) 甲 (B) 乙 (C) 丙 (D) 丁。
 17. 圖中哪個地理區為板塊作用所造成，地質相對較不穩定，容易有地震的出現？ (A) 丙 (B) 丁 (C) 己 (D) 戊。
 18. 以色列的「耶路撒冷」是世界三個主要宗教的聖地。請問：這三個主要宗教所指為何？甲. 佛教 乙. 猶太教 丙. 基督教 丁. 伊斯蘭教 (A) 甲乙丙 (B) 乙丙丁 (C) 甲乙丁 (D) 甲丙丁。
 19. 西亞境內哪個民族至今尚未建立自己的國家，而散居在西亞西北部，長期生存於戰鬥之中，並使其獨立議題備受關注？ (A) 波斯民族 (B) 庫德族 (C) 貝都因人 (D) 猶太人。
 20. 下列哪些因素是西亞紛爭不斷、戰爭頻仍的原因？ (甲) 氣候 (乙) 資源 (丙) 宗教 (丁) 民族 (A) 甲、乙、丙 (B) 乙、丙、丁 (C) 甲、丙、丁 (D) 甲、乙、丙、丁。

※中亞曾是古絲路必經之地，氣候乾燥，居民主要以游牧維生。近代因為灌溉系統的普及發展農業，並開發礦產。」請問：

21. 中亞地形主體為何？ (A) 甲 (B) 乙 (C) 丙 (D) 丁。



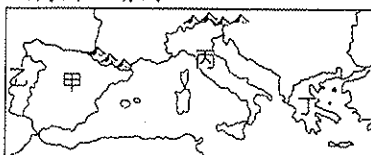
- 22.促使中亞形成沙漠氣候的主因為何？(A)蒙古高氣壓籠罩 (B)沿海涼流流經 (C)副熱帶氣流下沉 (D)位居內陸。
- 23.中亞的灌溉農業主要源於前蘇聯時代對哪兩條河流的水利資源開發所致？(A)幼發拉底河與底格里斯河 (B)錫爾河與阿母河 (C)鄂畢河與烏拉河 (D)阿拉伯河與約旦河。
- 24.中亞氣候乾燥，在發展農業時，因過度開發產生許多環境問題。下列哪種現象不是中亞遇到的環境問題？(A)水資源枯竭 (B)土地沙漠化 (C)土壤鹽鹼化 (D)地層下陷。
- 25.柯塔夫是蘇聯時期的烏茲別克農人，他所種植的是當時最主要的經濟作物。上述這項作物是什麼？(A)玉米 (B)花生 (C)油菜 (D)棉花。

- 26.下列哪個組織的成立是為了維護產油國的權力、國際原油的價格和產量水準？(A)東南亞國協 (B)世界貿易組織 (C)石油輸出國家組織 (D)歐洲聯盟。
- 27.西亞產油國為避免經濟過度依賴石油外銷，努力朝多元發展。請問阿拉伯聯合大公國的杜拜致力發展什麼產業？(A)農牧業 (B)金融業 (C)灌溉農業 (D)工商業。
- 28.歐洲三面環海，且海岸曲折，海洋深入內陸。請問：下列何種地理現象與此特色關係最密切？(A)文化多元 (B)平原廣大 (C)氣候溫溼 (D)位於陸半球中心。
- 29.歐洲大陸受到冰河作用的影響，形成獨特的地形景觀。下列地形景觀中，何者不是冰河作用所造成的？(A)挪威峽灣 (B)芬蘭冰蝕湖 (C)維蘇威火山 (D)阿爾卑斯山U形谷。
- 30.歐洲是世界上唯一無沙漠氣候分布的洲，主要因素為何？(甲)西風帶來的水氣 (乙)緯度較高 (丙)山脈多呈東西走向 (丁)四面環海 (A)甲乙 (B)甲丙 (C)乙丙 (D)丙丁。

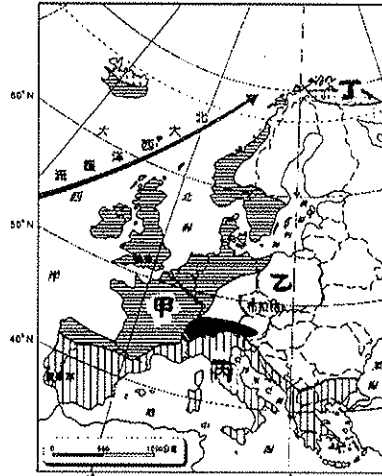
※歐洲聯盟整合歐洲各國的力量，是效率最高的綜合性區域組織，並與亞太、北美的區域性組織相抗衡。請問：

- 31.歐洲經過兩次世界大戰後，體認到合作的重要性，因此成立國際經濟合作組織，其主要目的是什麼？(A)減少國際間的貿易障礙 (B)加強不同種族之間的團結 (C)避免產品生產過多 (D)共同開採石油和穩定油價。
- 32.成立歐洲聯盟的目的之一是要使資金能夠自由流通，若考慮整個歐洲的經濟情勢，哪種方向的資金流通是最重要的？(A)西歐→東歐 (B)東歐→西歐 (C)南歐→北歐 (D)東歐→南歐。
- 33.歐洲聯盟成立後所帶來的改變不包括下列何者？(A)使用共同貨幣 (B)開放原料往來 (C)強化各國國界與主權 (D)工業產品規格統一。
- 34.若臺灣觀光客持有挪威的旅遊簽證，從冰島到馬爾他幾乎暢遊無阻，這是根據哪項條約的規定？(A)申根公約 (B)京都議定書 (C)北大西洋公約 (D)馬斯垂克條約。
- 35.於2013年加入歐洲聯盟的為以下哪一個國家？(A)斯洛維尼亞 (B)克羅埃西亞 (C)英國 (D)羅馬尼亞。
- 36.以下哪一個國家沒有加入歐盟？(A)義大利 (B)法國 (C)捷克 (D)瑞士。
- 37.以下哪一個歐盟國家在加入歐盟後因為主權考量沒有使用歐元，由於堆歐盟的移民政策本來就有疑慮，近年來對歐盟難民政策不滿，因而於今年公投通過決定脫離歐盟？(A)冰島 (B)瑞士 (C)丹麥 (D)英國。

※附圖為南歐簡圖，請問：



- 38.哪一個國家由於水力資源豐富，所以工業較發達，帶動了當地的經濟活動？(A)甲 (B)乙 (C)丙 (D)丁。
- 39.我國的外交部長要前往歐洲的唯一邦交國教廷參訪，必須先抵達哪個國家才能到達教廷？(A)甲 (B)乙 (C)丙 (D)丁。
- 40.有名的畢加索、高第等藝術家為哪一國人？(A)甲 (B)乙 (C)丙 (D)丁。
- 41.哪一國有石灰岩地形，因而土壤貧瘠，不利農耕？(A)甲 (B)乙 (C)丙 (D)丁。
- ※附圖為歐洲氣候類型分區圖。請問：



- 42.圖中的哪一區呈現夏熱冬冷、夏雨冬乾的氣候特色？(A)甲 (B)乙 (C)丙 (D)丁。
- 43.圖中乙氣候，最可能是下列何者？(A)溫帶海洋性氣候 (B)溫帶地中海型氣候 (C)溫帶大陸性氣候 (D)溫帶季風氣候。
- 44.附表為某地的氣候資料表，此種氣候分布於圖中何區？

| 月分 | 1 | 2 | 3 | 4 | 5 | 6 | 7 | 8 | 9 | 10 | 11 | 12 |
|----|----|----|----|----|----|----|----|----|----|-----|-----|-----|
| 雨量 | 81 | 70 | 74 | 66 | 44 | 33 | 14 | 27 | 66 | 128 | 111 | 100 |
| 溫度 | 7 | 8 | 10 | 13 | 18 | 21 | 24 | 24 | 20 | 13 | 10 | 8 |

(A)甲 (B)乙 (C)丙 (D)戊。

- 44.下列關於溫帶海洋性氣候的敘述何者錯誤？(A)分布在北緯40~60度的大陸東岸 (B)終年有西風吹拂 (C)四季有雨 (D)沿海地區降水較多。
- 46.溫帶地中海型氣候的成因有哪些？(甲)夏季為副熱帶高氣壓盤據 (乙)夏季位於西風的背風側 (丙)冬季有北大西洋暖流經過 (丁)冬季進入西風帶 (A)甲乙 (B)甲丁 (C)乙丙 (D)丙丁。
- 47.溫帶地中海型農業特別重視灌溉，主要與什麼原因有關？(A)大河的流向常改變 (B)居民特殊的宗教信仰 (C)生長季與雨季不一致 (D)降水量的變化率大。
- 48.下表為2014年歐洲四個國家的人口成長狀況，請問：其中哪一個國家出現人口負成長的現象？

(A)德國 (B)義大利 (C)瑞典 (D)英國。

| 國家 | 出生率 | 死亡率 | 自然增加率 | 社會增加率 |
|-----|------|------|-------|-------|
| 德國 | 8.4 | 11.3 | -2.9 | 1.1 |
| 義大利 | 8.8 | 10.1 | -1.3 | 4.3 |
| 瑞典 | 11.9 | 9.5 | 2.4 | 5.5 |
| 英國 | 12.2 | 9.3 | 2.9 | 2.6 |

(單位：‰)

- 49.呈上題，歐洲國家死亡率較高的主因為何？(A)傳染病盛行 (B)老年人口比例高 (C)醫療衛生落後 (D)嬰兒出生率高。
- 50.面積廣大的歐洲大平原主要分布於下列哪兩個區域內？(A)北歐、西歐 (B)西歐、南歐 (C)西歐、東歐 (D)南歐、東歐。