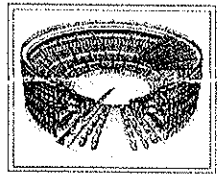


一、選擇題，共 34 題，每題 2 分，共 68 分

- ( ) 1. 西元 313 年，《米蘭詔令》宣告基督教的合法性，請問：此詔令應是下列哪位羅馬皇帝所頒布？  
 (A)凱撒 (B)屋大維 (C)君士坦丁 (D)狄奧多西。
- ( ) 2. 這是一場古西亞文明與古希臘文明的對抗，它對西方文明起了關鍵性的作用。希臘各城邦的勝利，保障了日後的獨立與安全，它也使希臘文明得以發揚光大，成為近代西方各國文化的基礎。請問：上述中的它所指為何？ (A)波希戰爭 (B)高盧戰爭 (C)特洛伊戰爭 (D)以上皆非。
- ( ) 3. 古希臘的文化發展這本書應該會出現下列哪一個篇章？ (A)蘇格拉底與真理 (B)阿基米德與浮力 (C)亞歷山大東征 (D)歐幾里德與幾何。
- ( ) 4. 羅中電影製片公司近期將推出年度史詩鉅片「羅馬帝國」。請問：下列哪個情節可能出現在電影中？ (A)凱撒被封為奧古斯都，羅馬進入帝國時代 (B)貴族大肆炫耀家中有許來自大清王朝的瓷器 (C)君士坦丁大帝於拜占庭營建東都 (D)東羅馬帝國比西羅馬帝國還早滅亡。
- ( ) 5. 兩河流域此處容易受到外來民族的入侵，政權更迭頻繁的主因是 (A)地形封閉，不易進入 (B)地形平坦，缺少天然屏障 (C)統治階層內鬥導致滅亡 (D)天災不斷，外來民族遷入。
- ( ) 6. 「祂是宇宙間代表光明與善良的神明，但是也有另外一個代表邪惡的神，彼此間進行長期的鬥爭，最後善神一定會戰勝惡神。」請問：上述最有可能是節錄自下列哪本書？ (A)拜火的祆教 (B)巴比倫巡禮 (C)埃及不滅之靈 (D)善戰的亞述。
- ( ) 7. 基督教剛創立的幾百年間，基督徒為何經常遭受羅馬政府的迫害？ (A)基督徒喜歡談論政治，批評政府 (B)基督徒不接受政府的統治 (C)基督徒拒絕向羅馬皇帝的畫像膜拜 (D)羅馬人只承認唯一真神耶穌的存在。
- ( ) 8. 四位同學對於世界四個大河文明的共同點爭論不休。請問：下列何者說法正確？ (A)語彙：當時人們大多是一神信仰 (B)遷徙：這些文明發源地有三個在亞洲，一個在非洲 (C)彥倫：這些文明皆建立在沙漠附近 (D)祐儀：這些地區皆使用象形文字。
- ( ) 9. 古羅馬的政治發展的正確順序為 (A)王政→帝國→共和 (B)王政→共和→帝國 (C)共和→王政→帝國 (D)帝國→王政→共和。
- ( ) 10. 埃及位於地理條件封閉的北非沙漠，不容易被外族侵擾。可是，在拿破崙入侵埃及的時候，卻發現同時刻有埃及象形文字及希臘文字的「羅塞塔石碑」。請問：「羅塞塔」石碑上出現的希臘文字，最可能跟下列哪件事情相關？ (A)腓尼基人在地中海的商業活動 (B)亞歷山大大帝的東征 (C)羅馬的對外擴張 (D)阿利安人的入侵。
- ( ) 11. 以下是某時期歐洲的情況：「由於常受到政府的迫害，基督徒不敢公開集會，所以他們就偷偷聚會，討論耶穌的教誨、分發聖餐，並相互鼓勵。這情形持續幾個世紀後，基督教終於得到官方承認，獲得合法的地位，後來甚至成為國教。」該時期最有可能是下列何者？ (A)古典希臘 (B)羅馬王政 (C)羅馬共和 (D)羅馬帝國。
- ( ) 12. 「鷸蚌相爭，漁翁得利」這句話反映出下列何者統一希臘各城邦的過程？ (A)雅典 (B)波斯 (C)馬其頓 (D)斯巴達。
- ( ) 13. 西元前兩千三百年左右，印度半島的哪個流域已經發展出現進步的城市文明？ (A)恆河流域 (B)兩河流域 (C)尼羅河流域 (D)印度河流域。
- ( ) 14. 欣怡發現她最喜愛的韓國明星們到義大利某處錄製「RUNNING MAN」，這些明星們在網誌上放了如右的旅遊照片。請問：這些明星應該是到下列何處渡假呢？ (A)雅典 (B)斯巴達 (C)馬其頓 (D)羅馬。
- ( ) 15. 佳樂、芮芹、耀鋒、超瀚四人，正在討論不同民族的宗教觀念。




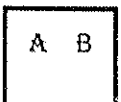


佳樂說：「甲民族認為自己是上帝的選民，巴勒斯坦是上帝賜給他們的土地。」  
 芮芹說：「乙民族相信宇宙間存在善、惡兩股對立的勢力，最後善神將會打敗惡神。」  
 耀鋒說：「丙民族相信因果輪迴，做好事的人下輩子會出將入相，反之，則為奴為畜。」  
 超瀚說：「丁民族生性樂觀，會將遺體保存下來，等待復活的時刻。」

請問：甲、乙、丙、丁依序是哪個民族？ (A)亞述人、希伯來人、埃及人、阿利安人 (B)希伯來人、波斯人、印度人、埃及人 (C)亞述人、腓尼基人、埃及人、阿拉伯人 (D)波斯人、希伯來人、埃及人、阿利安人。

- ( ) 16. 士宥參加了羅中特訓班，考前認真地整理世界史筆記，反覆比較每個西方文化的特色。請問：士宥會發現哪兩個民族都有著名的法典流傳後世？ (A)巴比倫、亞述 (B)巴比倫、希臘 (C)巴比倫、羅馬 (D)希臘、羅馬。
- ( ) 17. 下表為甲與乙兩個時代的比較，請問甲、乙分別代表的是？ (A)城邦、帝國 (B)帝國、城邦 (C)城邦、部落 (D)帝國、部落。

| 時代  | 政治 | 思想       | 文化              |
|-----|----|----------|-----------------|
| 希臘  | 甲  | 重視區域觀念   | 希臘古典文化          |
| 希臘化 | 乙  | 具天下一家的意識 | 融合希臘、西亞、埃及兩地的文明 |

- ( ) 18. 「每一個公民階級的小孩在出生之後會由政府派人檢查，凡是體弱多病的嬰兒即遺棄於荒野，身體健康者在七歲時就離開家庭，與其他同年齡的兒童共同生活，接受嚴格的軍事與體能訓練。……」請問：下列何人必須接受如上的訓練？ (A)埃及的淳元 (B)斯巴達的喬賀 (C)雅典的孟芹 (D)印度的羽承。
- ( ) 19. 希臘古典文化，是現今歐洲文化重要的源頭。請問：下列哪些敘述是正確的？ 甲、希臘的神明是崇高的，不具有人類的感情 乙、希臘的哲學著重探討人生的意義 丙、希臘的藝術品強調均衡與對稱 丁、希臘的科學家以阿基米德最為著名 戊、希羅多德是西方的史學之父 (A)甲丙戊 (B)乙丙丁 (C)乙丙戊 (D)甲乙丙。
- ( ) 20. 四個同學在班上討論印度文化的相關史實，請問何人說法正確？ (A)晝瑤：笈多王朝時期，是佛教的黃金時代 (B)佩穎：身為種姓制度貴族階層的釋迦牟尼創立佛教 (C)筠浩：當今印度境內最多人信仰的宗教是婆羅門教 (D)家豪：阿育王將印度教發揚光大傳至國外。
- ( ) 21. 知安利用假日閱讀歷史書，有段敘述如下：「除了專業性質的委員會之外，政府的行政官員都是抽籤決定的，任期大多為一年。……」請問：上述最有可能是描述下列何者的政治特色？ (A)雅典 (B)波斯 (C)斯巴達 (D)特洛伊。
- ( ) 22. 亞歷山大率兵征服波斯、埃及等地，建立起橫跨歐、亞、非三洲的大帝國，並致力於促進各地文化融合，締造出歷史上著名的希臘化時代。這個時代的代表精神為何？ (A)種族歧視 (B)城邦意識 (C)民主思想 (D)世界一家。
- ( ) 23. 西亞地區是人類文明重要的起源地之一，當地的各民族也發展出璀璨的文化。請問：下列哪些敘述是正確的？ 甲、一週七天制起源於加爾底亞人 乙、腓尼基人簡化了希臘文字，成為歐洲字母的源頭 丙、蘇美人制定陽曆 丁、波斯人建立史上第一個橫跨三洲的大帝國 (A)甲乙 (B)甲丙 (C)甲丁 (D)乙丁。
- ( ) 24. 上古時代通行於西亞地區的文字，最有可能是下列何者？ (A)  (B)  (C)  (D) 

- ( ) 25. 清領後期，臺灣經濟重心由南部轉向北部，主要是與哪兩種經濟作物外銷有關？(A)茶葉、樟腦 (B)樟腦、蔗糖 (C)蔗糖、茶葉 (D)稻米、蔗糖。
- ( ) 26. 日治時期的臺灣，人口大增的主因是 (A)日人招募大量漢人來臺開墾 (B)總督府積極提倡與獎勵生育 (C)日本糧食不足，大量日人移臺 (D)公共衛生觀念及現代醫療制度的建立。
- ( ) 27. 「林鳳營」、「左鎮」這些臺灣地名的由來，與下列哪一政權的墾殖有關？(A)荷蘭人 (B)西班牙人 (C)鄭氏 (D)清朝。
- ( ) 28. 郝倫在書上看見一段敘述：「1884年4月，外國軍艦駛向基隆，清廷相當重視此事，派遣劉銘傳來臺督辦軍務。……」請問：上述的外國是指 (A)美國 (B)法國 (C)德國 (D)英國。
- ( ) 29. 臺灣為移民社會，早期因政治、軍紀不良及社會不安，時常出現武力的衝突，若以清朝的朱一貴事件和林爽文事件為例，他們的衝突是屬於下列何種性質？(A)軍人叛變 (B)官逼民反 (C)宗教衝突 (D)地方械鬥。
- ( ) 30. 阿土伯和朋友聊天時說：「回想當年啊，不能自由參加政黨，哪像現在什麼黨都有。」請問：上述狀況是受到當時哪一法令的約束？(A)戒嚴令 (B)臨時約法 (C)人民團體法 (D)動員戡亂時期臨時條款。
- ( ) 31. 臺灣某一時期，經濟政策朝向發展技術、資本密集且具有高附加價值的高科技產業，政府成立資策會，大量延攬海內外學人，將資訊、光電及生物科技等列為發展重點，擬定國家科技發展計畫，帶動近年來高科技產業的發展。為配合此政策，政府還進行了下列哪一措施？(A)推動土地改革 (B)實施十大建設 (C)設置加工出口區 (D)成立新竹科學工業園區。
- ( ) 32. 下列何者是臺灣新石器時期出土文物？(A)長濱的打製石器 (B)十三行的鐵製農具 (C)大盆坑的粗繩紋陶 (D)西拉雅壺罐。
- ( ) 33. 臺灣原住民遠浪回憶年輕時，不僅改了原來的姓名，甚至加入高砂義勇隊到南洋作戰。請問：他應該是下列哪一時期的人？(A)漸進時期 (B)無方針時期 (C)內地延長主義時期 (D)皇民化時期。
- ( ) 34. 1920年代的「臺灣議會設置請願運動」，發起者企圖爭取下列何種權力？(A)行政權 (B)立法權 (C)司法權 (D)軍事權。

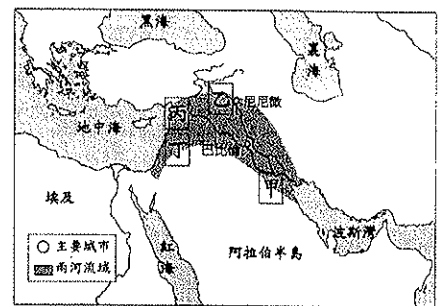
二、題組題，共9題，每題2分，共18分

- (一)「Caste」源自葡萄牙語「Casta」，具有種族或血緣之意，「Caste」可說是某處特有的社會現象，當地的居民大多都能甘心接受。「Caste」代代相傳，嚴格規範居民的日常生活。「Caste」起源於一支外來的征服者，他們為維護統治，規定不同「Caste」的人不能通婚，如果違反者所生下的小孩一律視作「休達」，被當作比牛、馬還不如的賤民對待，至今某處仍有約兩億的賤民，仍然受到不平等對待。
- ( ) 35. 文中提到的某處是指下列何處？(A)西亞 (B)埃及 (C)印度 (D)希臘。
- ( ) 36. 根據文意，「Caste」指的是什麼？(A)種姓制度 (B)因果輪迴 (C)循環再生 (D)婆羅門教。
- (二)乘勳、佳昌和晉棋一行人到達位於埃及的圖坦卡門新樂園調查案件，樂園中有三道關卡：古王國、中王國、新王國、托勒密王國，這些關卡分別代表古埃及的政治發展，必須突破這些關卡才能破案。真相只能有一個，我們來協助他們破案吧！
- ( ) 37. 乘勳想要找到最早開始建造金字塔的奴隸群們，需要到哪一道關卡呢？(A)古王國 (B)中王國 (C)新王國 (D)托勒密王國。
- ( ) 38. 佳昌到了其中一關，發現裡頭有艘巨大的地中海商船，顯示當時貿易的興盛，請問：此關卡可能是 (A)古王國 (B)中王國 (C)新王國 (D)托勒密王國。
- ( ) 39. 晉棋發現此關裡到處都有波斯士兵的蹤跡，王國的首都早已不見往日的繁華。請問：此關卡可能是 (A)古王國 (B)中王國 (C)新王國 (D)托勒密王國。
- (三)「羅馬不是一天造成的」這句諺語反映出羅馬由原本的一座小城，逐步擴張成一個橫跨歐、亞、非三洲的大帝國。請問：
- ( ) 40. 羅馬共和前期實際掌握政權為下列何者？(A)國王 (B)元老院 (C)執政官 (D)奧古斯都。
- ( ) 41. 羅馬在(A)王政 (B)共和 (C)帝國 (D)新王國 時期，將地中海變成其內海。
- ( ) 42. 羅馬(A)王政 (B)共和 (C)帝國 (D)新王國 時期，因其前兩百年政局安定，商業發達，因此有羅馬和平之稱。
- ( ) 43. 十二銅表法是在(A)王政 (B)共和 (C)帝國 (D)新王國 時期制訂完成。

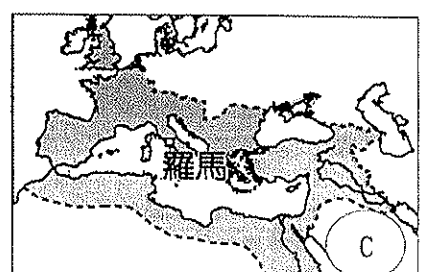
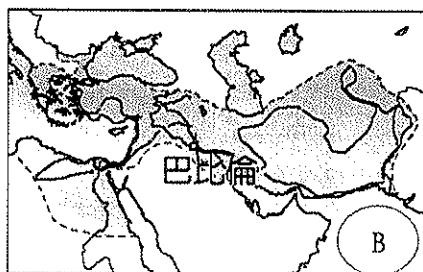
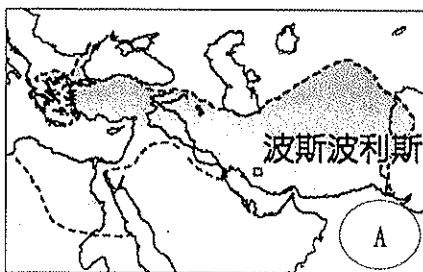
三、地圖配合題，共7題，每題2分，共14分

(一)右圖為西亞古文明各民族分布圖，顯示甲到丁等民族先後進入該區建立政權，並發展出豐富而多元的文化。請問：

- ( ) 44. 首先在兩河流域定居並建立城邦的是 (A)甲 (B)乙 (C)丙 (D)丁。
- ( ) 45. 被稱為「紫紅色的人」，經常往來於地中海各地經商的是 (A)甲 (B)乙 (C)丙 (D)丁。
- ( ) 46. (A)甲 (B)乙 (C)丙 (D)丁 是以色列人的祖先，其所創立的一神信仰，深深影響日後的基督教與伊斯蘭教。
- ( ) 47. 以好戰著稱，武力強大的是 (A)甲 (B)乙 (C)丙 (D)丁。



(二)下面A、B、C三圖為上古時期曾跨歐、亞、非三洲的帝國疆域圖，□部份代表版圖的範圍請依據下圖回答問題：



- ( ) 48. 這些跨三洲的大帝國，依照建立時間的先後順序應是 (A)A→B→C (B)A→C→B (C)B→A→C (D)C→A→B。
- ( ) 49. A、B、C分別代表下列哪些帝國的版圖呢？(A)A：羅馬、B：亞歷山大、C：波斯 (B)A：波斯、B：亞歷山大、C：羅馬 (C)A：波斯、B：羅馬、C：亞歷山大 (D)A：亞歷山大、B：波斯、C：羅馬。
- ( ) 50. 希臘化文化是指在下列哪個帝國版圖境內文化融合的成果？(A)A (B)B (C)C (D)以上皆非。