

※選擇題，1-35 題，每題 2 分，36-45 每題 3 分

1. 秦嶺—淮河是中國重要的地理界線，此線具有下列何種意義：【甲】溫帶與副熱帶的界線【乙】七月 20°C 等線【丙】年雨量 750 mm 等雨量線【丁】年雨量 500 mm 等雨量線；正確的是

- (A) 甲乙 (B) 乙丙 (C) 甲丙 (D) 乙丁

2. 中國傳統建築有「坐北朝南」的習慣，這種現象最主要的是為了適應何種自然環境因素？(A) 避開夏季暴雨(B) 避開寒冷強風(C) 避免太陽直射 (D) 避免颱風侵襲。

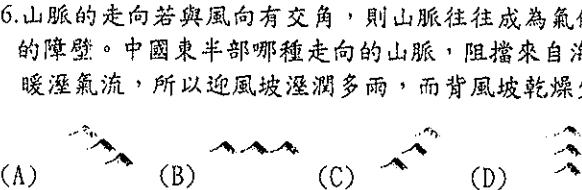
3. 中國人口總數龐大，政府透過何種方式減緩此問題？

- (A) 降低出生率，減少自然增加 (B) 降低移入率，減少社會增加 (C) 獎勵生育，避免人口老化 (D) 宣導性別平等，提高性別比

4. 雲貴地區有苗、壯、土家、布依、白、侗等二十多族，風俗各異，是中國少數民族最複雜的地區。此地區形成族系複雜的現象，其主要原因為何？ (A) 氣候潮濕 (B) 鄰國眾多 (C) 地形阻隔 (D) 宗教多元

5. 中國國土面積廣大，東西距離寬、南北橫跨緯度廣，四位同學整理中國氣候差異，那位同學說「錯」了？(A) 姍姍：「越往內陸日溫差越大。」(B) 阿玄：「季風氣候區依照緯度可再細分為熱帶、副熱帶、溫帶。」(C) 萱萱：「越往北年溫差越大。」(D) 小柔：「降水從東北往西南遞減。」

6. 山脈的走向若與風向有交角，則山脈往往成為氣候上的障壁。中國東半部哪種走向的山脈，阻擋來自海洋的夏季暖溼氣流，所以迎風坡溼潤多雨，而背風坡乾燥少雨？



7. 小芸想完成一份有關「高地氣候」的報告，在搜集資料的過程中發現高地氣候的分類依據為何？【甲】最冷月月均溫 18°C 以上【乙】海拔高度的 3,000 公尺以上【丙】年降水量 500 毫米以上【丁】最暖月月均溫 20°C 以下。(A) 甲乙 (B) 丙丁 (C) 甲丙 (D) 乙丁

8. 地理老師要同學舉例中國受「氣候」影響下的自然或人文特色，下列哪位同學的舉例有誤？(A) 小佑：「河川主要由西向東流。」(B) 軒軒：「南稻北麥。」(C) 小儀：「北方人家中多設有炕。」(D) 小慧：「南船北馬。」

9. 中國人口高達 13 億，是世界上人口最多的國家，而國內少數民族人口最多的是下列何者？(A) 滿族 (B) 壯族 (C) 藏族 (D) 漢族

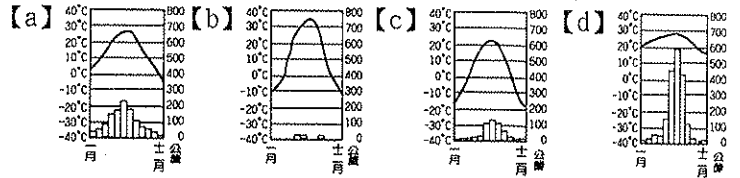
10. 中國外流區與內流區的分布差異，除了受位置、蒸發強弱的影響之外，還有下列那一因素的影響？(A) 緯度高低 (B) 氣溫高低 (C) 地形差異 (D) 雨量多寡

11. 中國的氣候受到緯度、地形、距海遠近及季風的影響，呈現出不同的面貌。請問：在以下敘述中，哪種情況主要是受緯度影響而產生的？(A) 中國一月均溫的溫度由南到北遞減 (B) 中國西半部的年降水量低於東半部 (C) 中國東半部為主要的溼潤區 (D) 中國夏季除青藏高原以外普遍高溫

12. 中國自 1979 年起實施一胎化政策，實行數十年後於

2015 年宣布全面開放二胎，下列選項何者「不是」造成開放二胎背後的原因？(A) 女嬰棄養比例高 (B) 過分寵溺兒童 (C) 幼年人口性別比大於 100 (D) 都市成長快速

13. 從下列四個地區的氣候分布圖判斷可知，哪一個地區的緯度最低？(A) a (B) b (C) c (D) d。



14. 承上題，b 圖所代表的氣候類型有何特色？

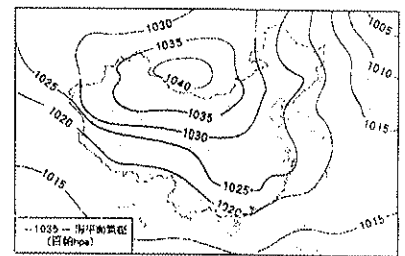
- (A) 日溫差小、年溫差小 (B) 日溫差大、年溫差小 (C) 日溫差小、年溫差大 (D) 日溫差大、年溫差大

15. 承 13 題，d 圖應該為下列何種氣候？


- (A) 溫帶季風 (B) 副熱帶季風 (C) 熱帶季風 (D) 溫帶沙漠

16. 中國冬季季風的風向各地不同，包括【甲】東北風【乙】西北風【丙】北風。自華北向華南，風向依序排列為何？(A) 甲乙丙 (B) 乙丙甲 (C) 丙甲乙 (D) 丙乙甲

17. 右圖為東亞地區天氣圖，由圖中氣壓資料判斷，此時最可能是哪個季節？(A) 春 (B) 夏 (C) 秋 (D) 冬。



18. 承上題，依照季風的特性，上圖季風海陸關係示意圖，應為下列何者？



19. 下列有關環境負載力高低的敘述，何者「不正確」？

- (A) 與當地的自然環境有關 (B) 和生產技術的發展有關 (C) 中國東南部的環境負載力較高 (D) 負載力低的地區通常人口較密集

20. 中國內流河的分布大致與何種氣候區吻合？(A) 季風氣候 (B) 乾燥氣候 (C) 高地氣候 (D) 寒帶氣候

21. 位居中國西南地區的喜馬拉雅山為一氣候分界線，朝南的那面因為受到來自□□□的暖溼氣流影響，降水量豐沛、草木繁盛；而朝北的那面則降水量稀少，木疏草短。請問：上文敘述中的空格應是指哪個海域？(A) 太平洋 (B) 大西洋 (C) 印度洋 (D) 北極海

22. 中國是世界上人口最多的國家，此說明中國具有何種優勢？【甲】礦產資源豐富【乙】人力充足【丙】消費市場大【丁】就業機會多 (A) 甲乙 (B) 甲丙 (C) 乙丙 (D) 丙丁

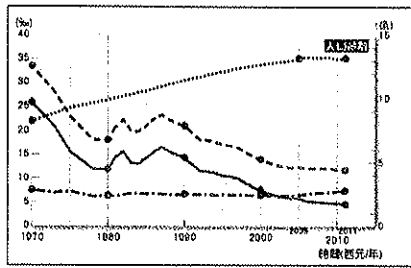
23. 林博士要到中國考察該地區內最大和最高的鹹水湖，他應該前往下列那些省分進行研究？(A) 青海省、西藏自治區 (B) 湖北省、新疆維吾爾自治區 (C) 湖南省、內蒙古自治區 (D) 福建省、廣西壯族自治區

24. 中國氣候特徵顯示，降雨特性在時間和空間分布上有所差異。下表有關中國降雨時空分布特性的敘述，請問何者正確？(A)甲 (B)乙 (C)丙 (D)丁。

項目	甲	乙	丙	丁
降雨時間	四季有雨	夏雨冬乾	夏雨冬乾	夏乾冬雨
降雨空間	西南多 東北少	西南多 東北少	東南多 西北少	東南多 西北少

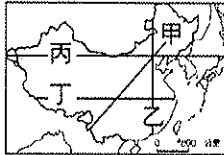
25. 大興安嶺東側森林茂密，是中國最大的天然林區，然而山脈以西則逐漸變得乾旱。下列何者是影響兩地景觀不同的主因？(A)經度差異 (B)高度差異 (C)人口多寡差異 (D)迎、背風向差異。
26. 中國傳統交通大致以下列何處作為分界，以北陸運為主，以南水運發達，昔日有「南船北馬」之稱？(A)大興安嶺、松花江 (B)秦嶺、淮河 (C)太行山、黃河 (D)南嶺、珠江。
27. 中國少數民族眾多且分布範圍分散，下列哪幾個少數民族曾發生武力暴動，欲爭取主權？【甲】寧夏回族 【乙】滿族 【丙】新疆維吾爾族 【丁】藏族 (A)甲乙 (B)丙丁 (C)甲丙 (D)乙丁

28. 右圖為中國歷年各項人口指標的變化曲線圖。由圖中可知，中國人口出生率已大幅降低，但人口總數還是逐年攀升，主要是受到下列何項因素影響？(A)人口高齡化 (B)人口素質低 (C)人口總數多 (D)移入人口多。



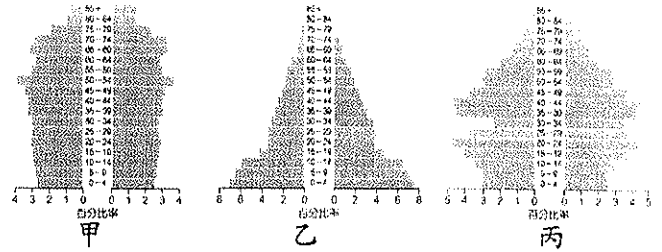
29. 中國長河大多分布在太平洋外流區，這與下列哪一因素關係最密切？(A)風向 (B)地形 (C)緯度 (D)氣溫
30. 中國境內面積廣大，各地氣候類型出現差異。若以相同的地形而言，下列哪一個地區的年溫差最大？(A)高緯內陸 (B)高緯沿海 (C)低緯沿海 (D)低緯內陸
31. 下列哪些是造成中國人口分布集中於東半部的原因？【甲】地形平坦 【乙】氣候乾燥 【丙】交通便利 【丁】經濟發達 (A)甲乙丙 (B)甲乙丁 (C)甲丙丁 (D)乙丙丁

32. 中國人口分布極不平均，右圖中哪條線是中國人口稀疏區和稠密區的分界？(A)甲 (B)乙 (C)丙 (D)丁

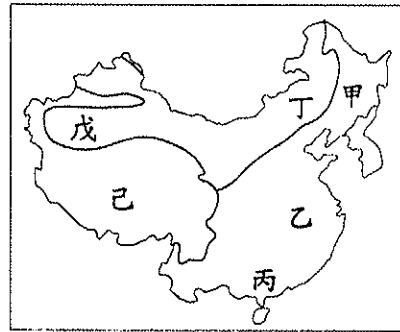


33. 承上題，中國人口稠密區與稀疏區的界線大致為何者的連線？(A)北京—上海 (B)北京—廣州 (C)黑河—廣州 (D)黑河—騰衝
34. 小志想要研究中國的鹹水湖及內流河，他應該前下列哪一個行政單位能達成他的目標？(A)雲南省 (B)廣西壯族自治區 (C)新疆維吾爾自治區 (D)福建省
35. 下列哪一項自然因素對中國雨量分布的影響最小？(A)緯度位置 (B)山脈走向 (C)距海遠近 (D)季風風向
36. 中國的流動人口大量移往沿海地區，多到足以造成都市問題，此一現象的發生，主要是因為沿海都市具有何種優勢？(A)氣候溫暖 (B)地形平坦 (C)經濟發達 (D)交通便利。
37. 源自青藏高原的雅魯藏布江，最後注入的海洋為何？(A)太平洋 (B)印度洋 (C)大西洋 (D)北極海

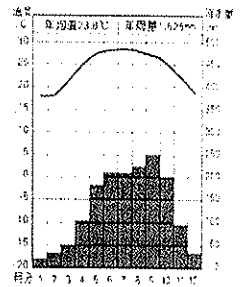
※下列為中國三個時期的人口金字塔圖，請回答以下兩題：



38. 按照中國人口發展的演變，排出甲乙丙三張人口金字塔出現的先後次序？(A)乙丙甲 (B)甲丙乙 (C)丙甲乙 (D)甲乙丙。
39. 呈上題，若中國的人口金字塔演變至【甲】時，可能會出現下列哪一個情況？(A)出生率逐年增加 (B)幼年人口比例較壯年高 (C)老年人口的支出較多 (D)經濟較差移入率降低。
40. 人口金字塔無法提供下列何種訊息？(A)人口結構 (B)人口總數 (C)撫養比 (D)性別比
- ※參考下圖回答下列問題：

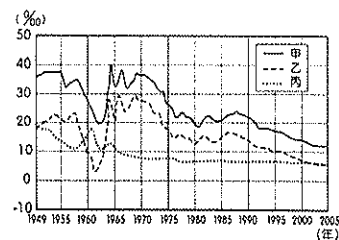


圖一



圖二

41. 圖中對己地主要族群的敘述，何者正確？(A)信奉伊斯蘭教 (B)當地傳統的交通工具為駱駝 (C)多為騎樓建築 (D)以肉、乳製品為主食
42. 圖二的氣候圖應該出現在圖一中何點的位置？(A)甲點 (B)丙點 (C)丁點 (D)己點
43. 針對圖一上各點的敘述，下列何者正確？(A)甲乙丙差別在於地形 (B)丁戊的差別在於緯度 (C)甲丁戊同屬溫帶 (D)己的判断標準為距海遠近
- ※下圖是中國的人口變遷圖。請問：



44. 圖中甲~丙曲線分別代表何種數字的變化？(A)出生率、死亡率、自然增加率 (B)死亡率、出生率、自然增加率 (C)自然增加率、出生率、死亡率 (D)出生率、自然增加率、死亡率。
45. 下列何者是中國 1970 年代人口政策的標語？(A)為自己考慮，只生一個好；為孩子考慮，多生一個好 (B)起生是創造財富的動力和源泉！ (C)留給子女的最大遺產就是兄弟姐妹 (D)少生孩子多種樹，少養孩子多養豬。