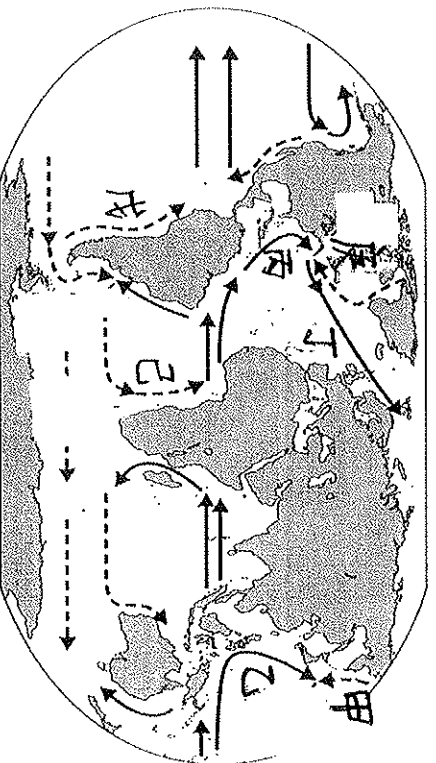
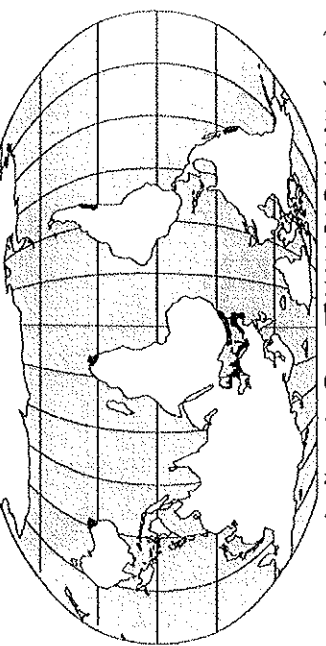


(一) 附圖為海陸分布與洋流簡圖。請問：

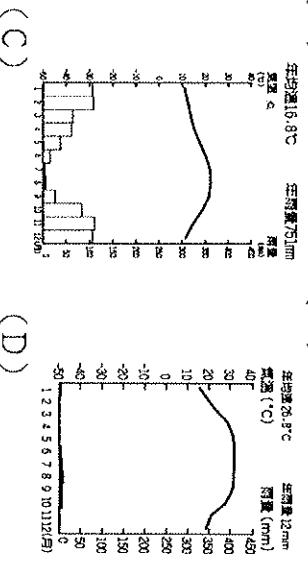


- () 「黑潮」位於圖中哪一個洋流？ (A) 甲 (B) 乙 (C) 丙 (D) 丁。
- () 「涼流」是由中緯度溫帶海域流向低緯度熱帶海域的洋流。何者為涼流？ (A) 乙 (B) 丙 (C) 丁 (D) 戊。
- () 圖中共有幾個洋流屬於寒流？ (A) 2 (B) 3 (C) 4 (D) 5。
- () 圖中的「己」洋流的名稱是什麼？(A) 墨西哥灣流 (B) 本吉拉洋流 (C) 秘魯洋流 (D) 拉布拉多洋流。
- () 挪威位於高緯度地區，冬天港口不結冰的原因是，哪一個洋流經過？ (A) 甲 (B) 乙 (C) 丙 (D) 丁。
- () 非洲南部納米比沙漠乾燥少雨，與哪一個洋流經過有關？(A) 丁 (B) 戊 (C) 己 (D) 庚。
- () 下列選項中洋流屬性相同者為何？(A) 甲乙 (B) 丁己 (C) 戊己 (D) 乙庚。
- () 北大西洋暖流為下列何者？(A) 甲 (B) 乙 (C) 丙 (D) 丁。

(二) 附圖是氣候類型示意圖。請問：

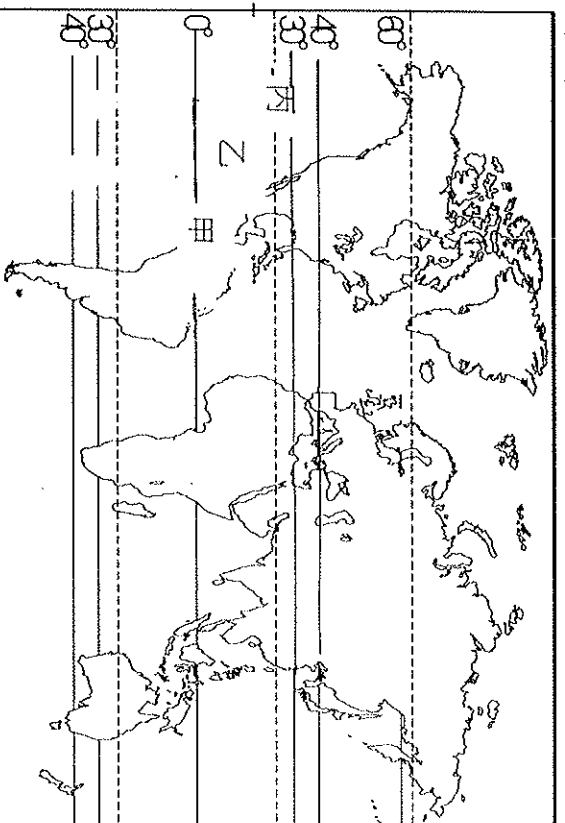


- () 圖中的黑色區域是哪一種氣候區？ (A) 熱帶草原 (B) 熱帶沙漠 (C) 溫帶地中海 (D) 溫帶海洋性。
- () 承上題，該氣候區的氣候圖為何？ (A) (B) (C) (D)

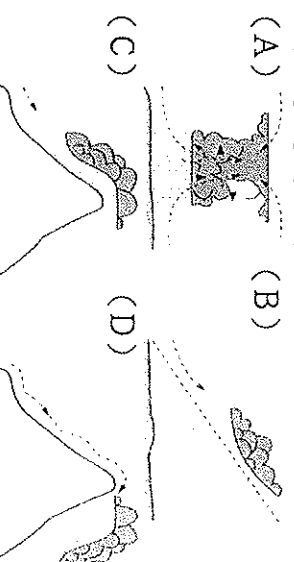


- () 該地區的氣候特徵為何？(A) 終年多雨 (B) 夏乾冬雨 (C) 夏雨冬乾 (D) 乾燥少雨。
- () 承上題，該區深受哪一種盛行風影響？(A) 東北

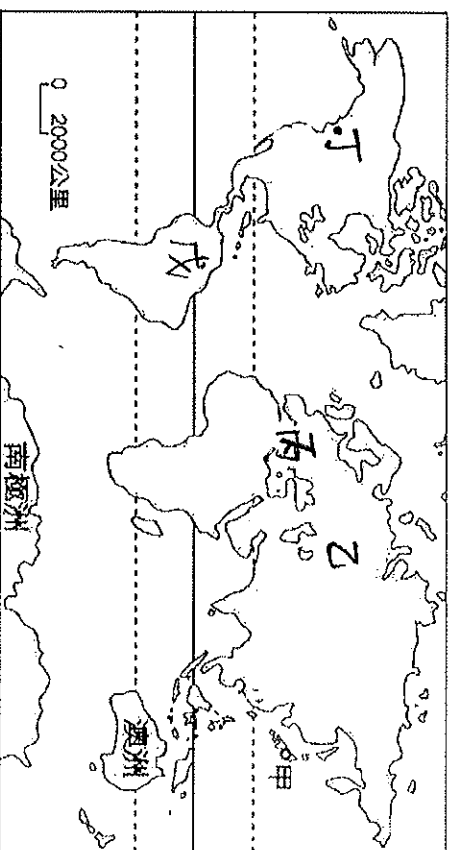
(三) 附圖中甲乙丙分屬不同的氣候區。請問：



- () 圖中從甲到丙呈現的氣候變化為何？(A) 氣溫漸高 (B) 植被漸多樣 (C) 降雨漸少 (D) 人口漸少。
- () 圖中的「丙」區是哪一種氣候？ (A) 熱帶沙漠 (B) 熱帶草原 (C) 熱帶雨林 (D) 熱帶季風。
- () 丙地區氣候形成主要是受哪一種因素影響？ (A) 位於赤道無風帶 (B) 東北信風吹拂 (C) 盛行西風吹拂 (D) 副熱帶高氣壓籠罩。
- () 「此地雨量稀少且集中於夏季，乾溼季明顯，林木稀少，以高大的草類為主。」圖中哪一區符合以上敘述？(A) 甲 (B) 乙 (C) 丙
- () 甲區的降雨型態屬於哪一種？ (A) (B) (C) (D)



- () 甲乙丙三區的氣候，有何共同特徵？ (A) 植被豐富 (B) 終年高溫 (C) 皆位於西風帶 (D) 雨量豐富。
- () 依照甲至丙排列，其氣候的分布應為何？ (A) 海洋性氣候、地中海型氣候、大陸性氣候 (B) 海洋性氣候、草原氣候、雨林氣候 (C) 草原氣候、地中海型氣候、海洋性氣候 (D) 雨林氣候、草原氣候、沙漠性氣候。
- () 附圖為世界簡圖，請問：

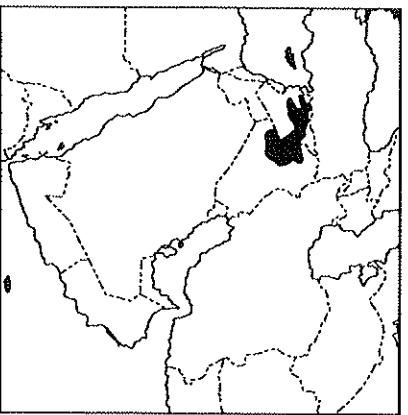


- () 附圖中屬於溫帶沙漠氣候的是哪區？ (A) 乙 (B) 丙 (C) 丁 (D) 戊
- () 附圖中，哪個地區的氣候深受海洋調節，終年溫和溼潤？ (A) 乙 (B) 丙 (C) 丁 (D) 戊
- () 哪兩地的氣候受西風影響很大？ (A) 甲、乙 (B)

乙、丙 (C)丙、丁 (D)丁、戊

23. () 南美洲的亞馬孫盆地屬於雨林氣候區，位於哪一區？ (A)甲 (B)丙 (C)丁 (D)戊

(五) 附圖深色區塊為伊斯蘭國聖戰組織的主要分布區。請問：

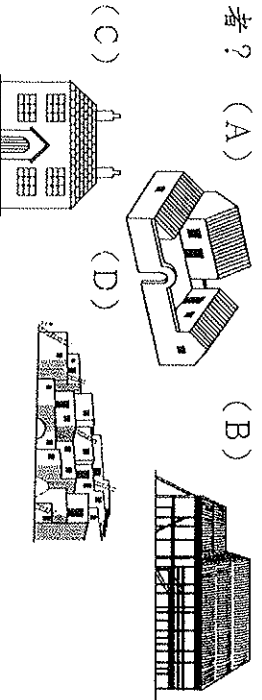


24. () ISIS 組織和哪一個西亞國家的位置最靠近，威脅其邊境安全？ (A)伊拉克 (B)伊朗 (C)以色列 (D)阿富汗。

25. () ISIS 組織的主要經濟來源是占領鄰近國家的何種資源生產基地？(A)鑽石 (B)石油 (C)鐵礦 (D)金礦。

26. () 從北非埃及派多架飛機轟炸 ISIS 組織根據地的彈藥庫。執行任務時，其飛行方向為何？ (A)東北方 (B)西北方 (C)東南方 (D)西南方。

27. () ISIS 占據的地區最常見的傳統屋舍型式為下列何者？ (A)



(六) 西亞居民的信仰與西方社會的文化衝突，引發國際間紛爭不斷。請問：

28. () 西亞地區主要宗教為何？ (A) 伊斯蘭教 (B) 佛教 (C) 基督教 (D) 東正教。

29. () 西亞的地理位置位於哪三洲之間的接觸地帶？ (A) 歐、亞、美 (B) 歐、亞、非 (C) 美、非、亞 (D) 歐、美、非。

30. () 西亞與西方世界發生衝突時，哪項經濟活動產生波動？ (A) 石油價格變動 (B) 咖啡的供應 (C) 鐵礦的外銷 (D) 海運運輸。

31. () 西亞國家和相關國家成立了哪一個經濟組織，對國際間經濟變動的影響相當大？ (A) 世界貿易組織 (B) 東南亞國協 (C) 亞太經濟合作會議 (D) 石油輸出國家組織。

32. () 西亞屬於勞力輸入區，來自哪一地區的外勞『不會發生文化上的衝突』？(A)北非埃及 (B)印度 (C)越南 (D)泰國。

(七) 以色列在巴勒斯坦建國後，與鄰國紛爭不斷。請問：33. () 以色列和相鄰的阿拉伯國家糾紛不斷，其爭端的原因中『不』包括下列何者？ (A) 民族 (B) 宗教 (C) 石油 (D) 領土。

34. () 以色列為了發展農業，而在哪一方面研發出獨步全球的技术？ (A) 改良土壤 (B) 溫室栽培 (C) 灌溉工

程 (D) 早熟品種。

(八) 鹹海的面積自1960年代的68000平方公里，縮小為17160平方公里。請問：

35. () 造成湖泊面積縮小的原因為何？ (A) 圍湖造田 (B) 發展灌溉農業 (C) 超抽取地下水 (D) 長期乾旱

36. () 承上題，此變化對周圍的環境造成的影響，不包括何者？ (A) 漁獲量減少 (B) 農業用地高度鹽鹼化 (C) 生活用水遭受汙染 (D) 地層下陷

37. () 注入鹹海的河流為哪二條？(甲)阿母河(乙)底格里斯河(丙)幼發拉底河(丁)錫爾河(A)甲乙 (B)乙丙 (C)丙丁 (D)甲丁

38. () 承上題，最主要的水源來自於下列何者？ (A) 雨水 (B) 高山雪水 (C) 冰河 (D) 深層海水

(九) 中亞自然資源豐富，且積極發展農業。不僅可以自足，亦可以外銷，為當地重要的經濟收入。請問：

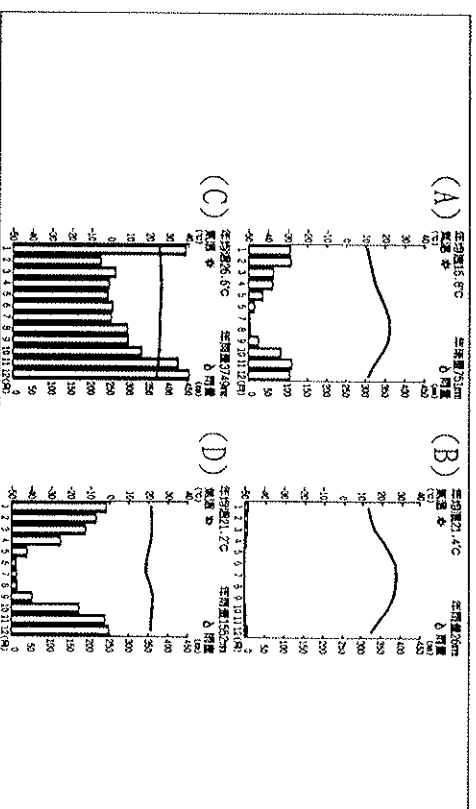
39. () 中亞透過管線將資源輸往中國，此項自然資源為何？ (A) 水 (B) 石油 (C) 金礦 (D) 地熱

40. () 承上題，該項自然資源主要分布在何處？ (A) 裏海 (B) 鹹海 (C) 死海 (D) 波斯灣

41. () 依題幹判斷，該地區重要的經濟作物為何？ (A) 甜菜 (B) 椰棗 (C) 棉花 (D) 咖啡

二、配合題：每題 2 分

(一) 下列為世界常見的四種氣候圖，請依下列敘述選出適當的代號。



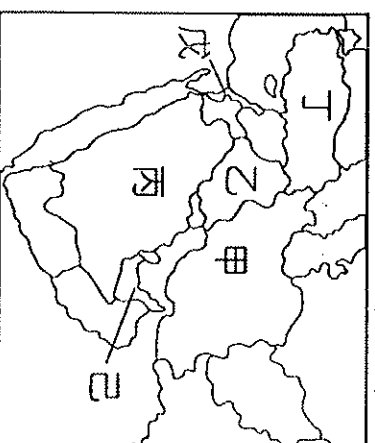
42. () 根據氣溫分布狀況判斷，唯一位於南半球的氣候。

43. () 位於赤道兩側的氣候類型。

44. () 日溫差變化最大的氣候類型。

45. () 亞馬孫盆地的氣候類型。

(二) 參考附圖找出相對應的國家填入代號：



46. () 位歐亞交界的國家，又稱『歐亞陸橋』。

47. () 古波斯帝國的所在地，利用坎井方式灌溉。

48. () 美索不達米亞平原所在，灌溉農業發達。

49. () 擁有七星級的帆船飯店，觀光業發達。

50. () 猶太、基督、伊斯蘭三教聖地，耶路撒冷所在。