

班級：

座號：

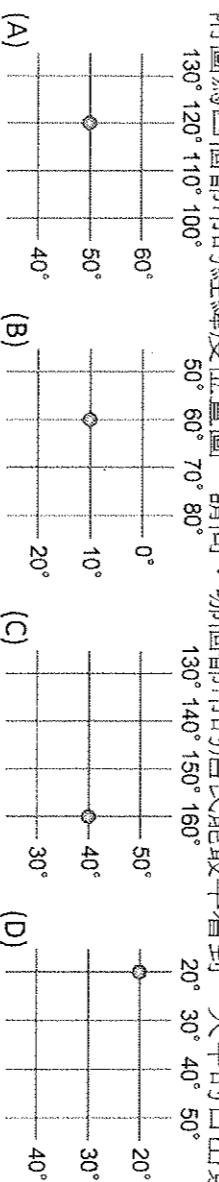
姓名：

一、單題：(全為單選題，1-41 每題 2 分，42-47 每題 3 分)

- () 1. 下列哪個國家為目前世界上面積第四大國，且有五千年悠久的歷史？ (A) 印尼 (B) 加拿大 (C) 俄羅斯 (D) 中國
- () 2. 「北回歸線通過中國華南地區，國土南北共跨 50 個緯度。」依此判斷，中國最不可能出現哪種氣候帶？ (A) 熱帶 (B) 副熱帶 (C) 溫帶 (D) 寒帶
- () 3. 下列何者是中國所在位置美中不足之處？ (A) 領土絕大部分在寒冷的高緯度 (B) 海岸線太短，且出海受制於他國 (C) 與北方的國界線很長且缺乏天然地形的屏障 (D) 面海背陸不易向海洋或大陸發展
- () 4. 老師和同學們一起到花輪家觀看世界地圖，討論中國的位置關係。請問：下列哪個人的敘述錯誤？ (A) 朝勝：「中國位於歐亞大陸東側。」 (B) 哲毅：「與太平洋相鄰。」 (C) 伯宜：「有北回歸線通過境內。」 (D) 守邑：「西南部濱臨大西洋。」

- () 5. 中國面海背陸的位置所帶來的影響有：(甲) 主要河流向東流 (乙) 海洋氣流得以深入 (丙) 提供向海洋或大陸發展的機會 (丁) 多元化的族群。以上何者正確？ (A) 甲乙 (B) 乙丙 (C) 乙丁 (D) 丙丁

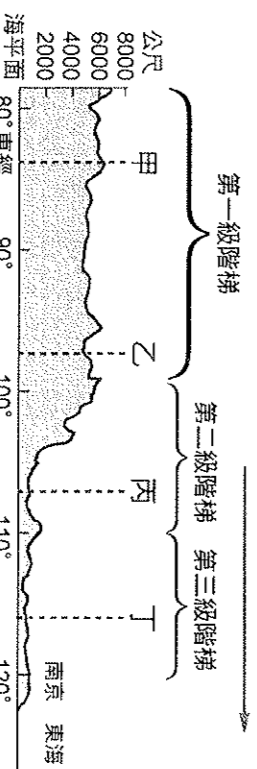
- () 6. 就全球位置而言，中國在哪個半球？ (A) 東半球、南半球 (B) 東半球、北半球 (C) 西半球、南半球 (D) 西半球、北半球
- () 7. 附圖為四個都市的經緯度位置圖。請問：哪個都市的居民能最早看到一天中的日出景象？



- () 8. 中國幅員廣大，相臨的國家也很多。請問：下列哪個國家是位在正確方向的鄰國？ (A) 西南—俄羅斯 (B) 西方—日本 (C) 南方—緬甸 (D) 北方—泰國
- () 9. 自治區是一種特殊的管理體系，在文化上也別具特色。請問：造成當地具有特殊文化的主因為何？ (A) 地處偏遠 (B) 面積狹小 (C) 以牧業維生 (D) 少數民族為主
- () 10. 地理老師想要知道同學對於行政區域劃分的了解程度，便抽問了幾個同學。請問：下列何者的回答正確？ (A) 東翰：「現在主要分為六大區域。」 (B) 宏杰：「為了管理方便而劃分的。」 (C) 威昌：「首都北京是特別行政區。」 (D) 得仁：「是利用經緯度進行劃分的。」

- () 11. 下列對於中國「第一級階梯地形區」的敘述，何者正確？ (A) 經濟發展優於第三級階梯地形區 (B) 主要位於中國西部區域 (C) 平均海拔在 1,000~2,000 公尺之間 (D) 地形主要以平原、盆地為主
- () 12. 下列都市中，哪一個和「省」的行政層級相同？ (A) 烏魯木齊 (B) 南京 (C) 廣州 (D) 天津
- () 13. 近年來，維吾爾人為追求獨立已抗爭多年，然而目前他們生活的區域仍被中國劃分為哪一種行政區，造成許多激烈的抗議活動持續不斷？ (A) 省 (B) 特別行政區 (C) 自治區 (D) 直轄市
- () 14. 食尚玩家節目提到「到這裡旅遊一定要看的是大三巴牌坊，還有一定要吃葡式蛋塔和葡國菜，晚上又可以到賭場小玩一番，十分有趣。」上述城市應為何者？ (A) 海南 (B) 澳門 (C) 珠海 (D) 香港
- () 15. 關於中國疆域與區域劃分的敘述，何者錯誤？ (A) 東側分別有三大緣海：黃海、北海、南海 (B) 領土面積為 960 萬平方公里，世界第四大國家 (C) 有兩個特別行政區：香港、澳門 (D) 依據目前的經濟發展條件，中國可分為東、中、西三大經濟地帶

- () 16. 中國共有五個自治區，以下對自治區的敘述何者正確？ (A) 內部多為自主治理之行政範圍 (B) 對外具有主權的政治實體之行政範圍 (C) 區內沒有自成一格的政府組織 (D) 主要以國防戰略為目的
- () 17. 附圖是中國沿著北緯 30 度線繪製的地形剖面圖。請問：圖中箭頭所指的是哪個方向？ (A) 東方 (B) 西方 (C) 南方 (D) 北方

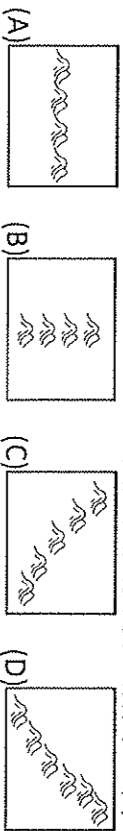


- () 18. 承上題，四川盆地是位於圖中的哪個位置？ (A) 甲 (B) 乙 (C) 丙 (D) 丁
- () 19. 中國地形複雜多樣，其中以哪兩種地形所占面積最大？ (A) 平原與丘陵 (B) 高原與盆地 (C) 高原與山地 (D) 盆地與山地
- () 20. 中國境內的丘陵主要分布於哪一級階梯內？ (A) 第四級 (B) 第三級 (C) 第二級 (D) 第一級
- () 21. 哈尼族在山坡及丘陵地區生活，為爭取平坦耕地及保持水土不隨坡度流失。請問：居民所採取的因應措施為何？ (A) 砍伐森林 (B) 闢建梯田 (C) 種植樹木 (D) 飼養牛羊
- () 22. 在中國境內，西半部的山脈多為東西走向。請問：下列哪座山脈屬之？ (A) 喜馬拉雅山 (B) 太行山 (C) 武夷山 (D) 九華山
- () 23. 明朝有名的地理學家、旅行家——徐霞客，在遊歷全國後將經歷寫成《徐霞客遊記》。他在校稿時，發現書中對中

國四大高原的描述有誤，這段描述可能是下列哪項？ (A)內蒙古高原平坦的地面，看去是一望無際的草原，草原上點綴著一群群的牛羊 (B)雲貴高原上奇石密布，岩穴中又有岩石 (C)黃土高原黃土遍地，風來土去一塊，平坦的地形又起變化 (D)青藏高原，一山一河交錯，從這山到那山，路程艱辛

() 24. 羅東國中畢旅打算坐上全世界地勢最高的火車遊覽中國風光。請問：老師最有可能帶大家去觀賞當地哪個著名的景點？ (A)西藏布達拉宮 (B)北京紫禁城 (C)河北萬里長城 (D)桂林石灰岩地形

() 25. 中國東半部多震旦走向的山脈，例如大興安嶺。請問：下列哪張圖是震旦走向的示意圖？



() 26. 中國的東半部為人口聚集地，主要是因為東半部以哪種地形為主？ (A)平原、丘陵 (B)丘陵、高原 (C)平原、盆地 (D)盆地、丘陵

() 27. 哲維暑假到北京旅遊，在日記本中寫著：「這裡是○○平原的一部分，工商業繁榮，不過人口實在太多了，上班時間火車站簡直像逃難。」上述中的○○應為何者？ (A)東北平原 (B)華北平原 (C)長江中下游平原 (D)珠江三角洲

() 28. 柏智愛旅行，這次體驗亞洲歐洲溝通孔道一新絲路。請問下列哪個選項的敘述是錯誤的？ (A)出發地連雲港附近多為沙岸地形 (B)途中經過新疆有全中國最大沙漠 (C)絲路是古代運輸絲綢和瓷器的路線 (D)終點在荷蘭首都阿姆斯特丹

() 29. 中國石灰岩地形遠近馳名、地形美不勝收。請問下列哪個地景無法在石灰岩地形區看見？ (A)峰林 (B)冰河 (C)鐘乳石 (D)石筍

() 30. 承上題，請問要到中國哪個區遊玩最有可能看到石灰岩美景？ (A)北部地區 (B)西部地區 (C)南部地區 (D)東北地區

() 31. 中國有全世界最長運河—京杭大運河，開鑿的原因跟下列選項何者最相關？ (A)東半部人口較密集 (B)茶馬古道使用人力過於勞累 (C)溜索危險性太高 (D)河川多為東西流向

() 32. 中國哪一地形區可以看到最類似台灣花東縱谷地形樣貌？ (A)浙閩丘陵 (B)橫斷山脈 (C)柴達木盆地 (D)秦嶺

() 33. 有東方夏威夷熱帶風情稱呼的是下列哪個省份？ (A)四川 (B)黑龍江 (C)新疆 (D)海南

() 34. 關於中國居民及當地生活的描述，何者有誤？ (A)西半部多平原，人口眾多，工商發達 (B)在四川盆地峽谷地區，人們走在驚險的木棧道上 (C)長江三峽昔日有繃夫拉船 (D)橫斷山脈克服山高谷深，使用溜索

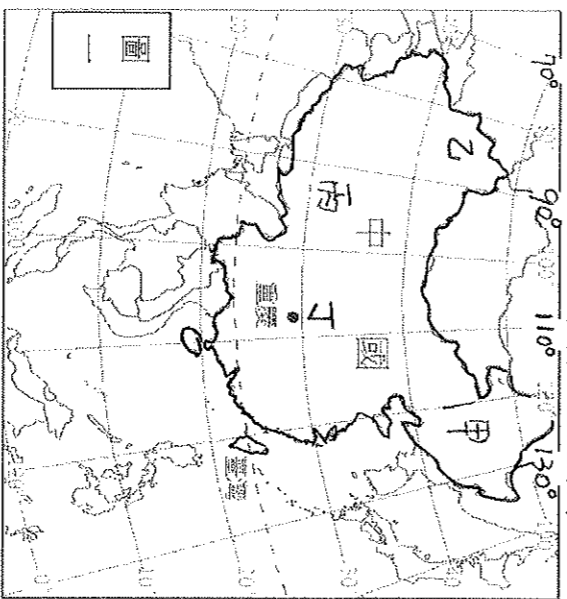
二、題組：

(一) 中國國土東西約有 60 度經度的差異，每 15 度經度為 1 小時，導致中國東部與西部居民的作息不同。請見圖一

35. 為方便起見，全中國都統一以北京的時間為標準，稱中原標準時間。請問中國與倫敦相差幾小時？ (A)快 7 個小時 (B)慢 7 個小時 (C)快 8 小時 (D)慢 8 個小時

36. 每一時區跨越 15 經度，因此理論上中國最東端與最西端將相差幾個小時？ (A)3 個小時 (B)4 個小時 (C)5 個小時 (D)6 個小時

37. 以全球時區的觀點來看，當北京早上 11 點時，附圖中何地可能已在享用午餐？ (A)甲 (B)乙 (C)丙 (D)丁



(二) 如果國際大導李安預計拍新片，打算在中國的重慶、香港及上海取景，請參考附圖一回答以下問題。

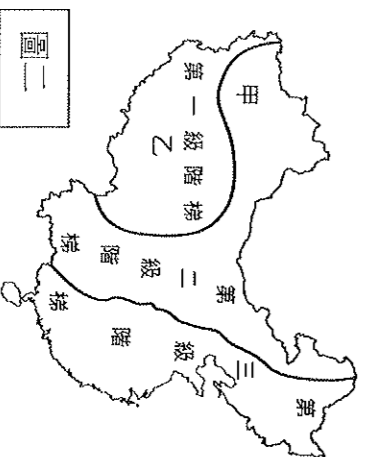
38. 若李安導演結束了香港的拍攝，預計由香港搭乘飛機，前往重慶取景，飛機應是往哪個方向飛行？ (A)東北 (B)西北 (C)東南 (D)西南

39. 導演計畫在香港的「維多利亞港」取景。請問：此處名稱的由來，是因為香港曾經是哪個國家的殖民地？ (A)法國 (B)英國 (C)葡萄牙 (D)西班牙

40. 片中來自臺灣的男主角因為出了新專輯，必須由重慶趕回臺灣宣傳。請問：當他從重慶趕回臺灣時，必須將手錶作何調整？ (A)調快一小時 (B)調快兩小時 (C)調慢一小時 (D)不需調整

41. 當這部新片上映時，依照導演取景的城市判斷，觀眾可能在電影當中看見哪些氣候帶的景觀？ (A)溫帶 (B)熱帶、溫帶 (C)溫帶、寒帶 (D)熱帶、溫帶、寒帶

(三) 中國地形複雜，請詳見附圖二中國三級階梯示意圖回答下列問題

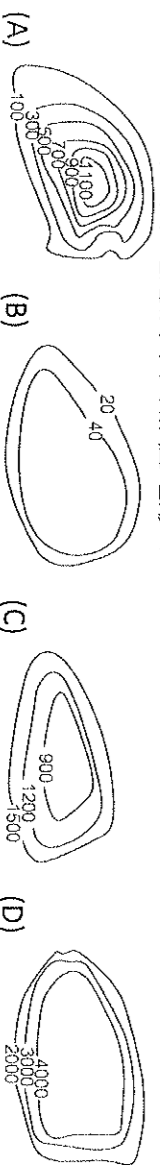


42. 請問此圖以什麼條件做為劃分的依據？ (A)地勢高低 (B)經濟發展 (C)氣候差異 (D)行政區域劃分

43. 乙地可以見到何種景觀？ (A)一望無際的平原 (B)騎馬奔馳的人們 (C)河川眾多，物產豐饒 (D)多冰河及湖泊

44. 已經在 6/16 開幕的上海迪士尼樂園位在哪一級階梯？ (A)第一級 (B)第二級 (C)第三級

45. 附圖二中的甲地應屬下列哪種地形？



46. 經濟發達的大都市大致位於哪一級階梯？ (A)第一級 (B)第二級 (C)第三級

47. 唯一一個在第一級階梯的盆地為？ (A)四川盆地 (B)柴達木盆地 (C)塔里木盆地 (D)準噶爾盆地