

宜蘭縣立羅東國中 104 學年度第二學期九年級地理科第二次段考試卷

選擇題：每題 2 分，請用 2B 鉛筆作答

1. 課堂上老師請同學就所蒐集到的資料進行報告，附表是儒儒整理的報紙部分標題，他報告的主題□□應填入什麼？

- 人民幣升值影響美元走勢
- 亞洲金融風暴，全球景氣隨之低迷
- 蒙古沙塵暴造成日、韓兩國空氣汙染

- (A) 全球化 (B) 區域分工 (C) 永續發展 (D) 國際分工。
2. 呈上題，下列何者在□□的過程中，所遇到的危機最大，若不及早加以因應則將逐漸式微？(A) 電腦教學 (B) 休閒健身 (C) 農耕活動 (D) 地方民謠。
3. 通訊技術的革新已經造成全球性的改變，下列何者為通訊革新後所造成的影響？(A) 臺灣的消費者開著德國生產的車子 (B) 臺灣的水果行銷至世界各地 (C) 竹科的資訊產品市占率全球第一 (D) 美國股神投資臺灣的股票市場。
- ※附圖為商品生產的三個過程，在各地找尋原料→工廠加工生產→運送到各地銷售。請回答 4-6 題。



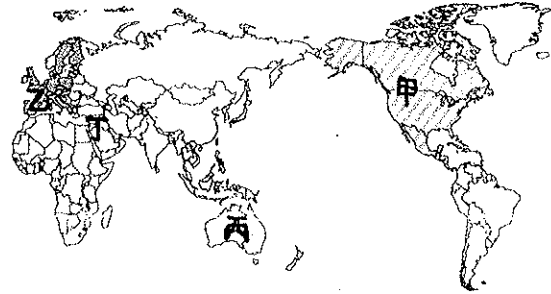
4. A 牌手機在歐洲進行設計後，在亞洲生產零件並組裝，最後運到世界各地販賣。這類商品的生產過程皆在不同國家進行，其生產過程我們稱之為什麼？(A) 策略聯盟 (B) 聚集經濟 (C) 批發銷售 (D) 國際分工。
5. A 牌手機在臺灣的台積電製作處理器，最主要的考量為何？(A) 政治因素考量 (B) 節省勞力成本 (C) 考量當地消費市場 (D) 高技術的研發人員。
6. 承第 4 題，上述產品的生產過程會在不同國家進行的情況，主要和近年來哪項技術快速進步有關？(A) 生物技術 (B) 奈米技術 (C) 交通技術 (D) 煉油技術。
7. 跨國企業主要目的是在世界各地尋找最高利潤的市場及下列何項條件的地點？(A) 最優質的勞工 (B) 最豐富的礦產 (C) 最低生產的成本 (D) 最充足的動力。
8. 國際分工使得許多產業得以外移至其他國家，這對該國內將會造成何種影響？(A) 稅收增加 (B) 失業率提高 (C) 快速都市化 (D) GDP 下降。
9. 在全球化的同時，也有許多人和團體倡議「反全球化」活動，這些人所擔心的問題不包括下列何者？(A) 本土企業易受威脅 (B) 全球物種迅速消失 (C) 擴大全球貧富差距 (D) 弱勢文化受到忽略。
10. 現在世界上有很多國與國之間的經貿協定。請問：最常用來保障協議國間貿易的方法為何？(A) 勞工在會員國內移動免簽證免護照 (B) 會員國採取同樣的貨幣 (C) 會員國商品流動不透過海關 (D) 降低會員國間的關稅，對外採取共同的貿易政策。
11. 臺灣在加入世界貿易組織後，須開放農產品市場，國外廉價農產品將會大量進口，對臺灣現有的農業經營衝擊很大，為因應此種狀況，未來最適宜的農業發展方向為何？(A) 開發坡地，增加耕地面積 (B) 採粗放式經營，降低成本 (C) 鼓勵農民種植高經濟價值作物 (D) 推廣農業機械化，增加產量。
12. 全球化的過程導致跨國間勞工移動頻繁，目前世界上的跨國勞工主要來自於下列哪兩個地區？(甲) 南亞 (乙) 南美 (丙) 東南亞 (丁) 西非 (A) 甲乙 (B) 丙丁 (C) 甲丙 (D) 乙丁。
13. 呈第 12 題，跨國勞工移入國多因為下列哪些因素引進跨國勞工？(甲) 素質不佳 (乙) 死亡率高 (丙) 工資過高 (丁) 人口老化 (A) 甲乙 (B) 丙丁 (C) 甲丙 (D) 乙丁。
14. 一個國家經濟發展的程度會影響其人口結構，以附表中甲、乙、丙、丁四個經濟發展程度不同的國家而言，何者最可能為

班級： 座號： 姓名：

跨國勞工移出的國家？(A) 甲 (B) 乙 (C) 丙 (D) 丁。

國別	年齡結構百分比		
	0~14	15~64	65+
甲	51	46	3
乙	23	66	11
丙	34	51	15
丁	30	56	14

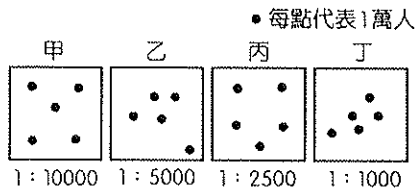
15. 全球的經濟網絡中，各國關係相當密切，因此成立許多相關組織以利經濟運作。其中哪一個機構以穩定全球金融為主，如亞洲金融風暴時便發揮其功能？(A) 歐盟 (B) 國際貨幣基金 (C) 世界貿易組織 (D) 聯合國安全理事會。
16. 全球性經濟活動的運作下，許多經濟性組織紛紛因應而生。請問：下列哪一個組織具有「加強區域內國家合作、增強面對區域外國家的競爭力」的目的？(A) WTO (B) UN (C) NAFTA (D) IMF。
17. 「全球出口市場的 82%，集中在人口占全球 20% 的國家。相反的，全球最貧窮的 20% 人口的地區，只分享到全世界出口市場的 1%。」請問：以上所描述的現象與下列哪一項說明最符合？(A) 窮國拉垮富國的經濟發展 (B) 窮國愈窮富國愈富 (C) 富國併吞窮國的疆土 (D) 全球人口會集中到貧窮國家。
- ※附圖為全球幾個重要的經濟組織分布圖。請回答 18-20 題：



18. 旅客搭飛機到某個地區，出入境非常方便，除了刷信用卡之外，在買東西時都不用考慮到貨幣兌換的匯率問題。請問：這個地區位於圖中的何處？(A) 甲 (B) 乙 (C) 丙 (D) 丁。
19. 哪個國家的產品在美洲及亞太地區都可以享受關稅的優惠？(A) 臺灣 (B) 中國 (C) 澳洲 (D) 美國。
20. 亞太經濟合作會議的會員國沒有分布在哪一洲？(A) 歐洲 (B) 非洲 (C) 中南美洲 (D) 亞洲。
- ※中國毒奶粉事件，當地業者為了降低成本，將三聚氰胺添加在食品中，造成食品蛋白質含量較高的假象，進而爆發大規模食品汙染，牽扯層面涵蓋各式商品。全球各國紛紛對於中國製商品加以檢驗，避免危機擴大；各大廠也開始思考是否退出這個為他們省下許多成本的國家，避免類似之事再度發生。請回答 21-22 題：
21. 文中提及「中國為世界各大廠省下不少成本」，說明中國具有下列何種優勢？(A) 廉價勞工 (B) 低廉關稅 (C) 方便運輸 (D) 政策保護。
22. 「當中國食品加工出現問題，便成為全球食品危機。」這種現象是由於下列哪項因素所致？(A) 區域性組織與全球性組織的競爭 (B) 生產全球化的結果 (C) 國際間貧富差距大的結果 (D) 跨國公司壟斷商品的效應。
23. 在經濟全球化的浪潮下，世界各地區的經濟發展出現了明顯的差異，形成了經濟較發達的三大版圖。此三大版圖是指哪三大洲？(甲) 亞洲 (乙) 非洲 (丙) 歐洲 (丁) 北美洲 (戊) 大洋洲 (A) 甲乙丙 (B) 甲丙丁 (C) 乙丙丁 (D) 丙丁戊。
24. 中國和臺灣都已加入世界貿易組織(WTO)，兩岸在國際貿易上的接觸更加頻繁。貿易中的商品大多選擇海運運輸，這是因為海運具有下列哪一項優點？(A) 運費較低 (B) 速度較快 (C) 機動靈活 (D) 適合短途運輸。

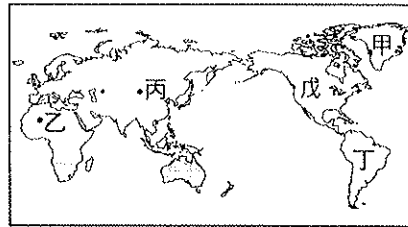
背後尚有試題，請翻頁繼續作答

25. 國際商品行銷對於本土文化影響甚深，下列哪一個地區對於美國文化的傳播採取排拒的態度最為明顯？(A)南亞 (B)東北亞 (C)歐洲 (D)西亞。
26. 肯亞環保女鬥士萬加麗·瑪阿泰所創立的「綠帶運動」組織，動員貧窮婦女種樹，緩和區域內因環境惡化而造成的爭奪資源衝突。請問：多種樹無法改善或減緩下列哪種環境問題？(A)全球暖化 (B)水資源缺乏 (C)荒漠化 (D)酸雨。
27. 人口密度的高低，影響自然環境的利用程度。附圖中哪一個地區，最容易產生因自然環境過度利用而造成環境變遷？(A)甲 (B)乙 (C)丙 (D)丁。



28. 「原本只在熱帶地區才有的疾病，如登革熱等，也將擴散至目前的溫帶地區，使得未來疾病的防治問題更加棘手。」造成上述現象的主要原因為何？(A)紫外線增強 (B)酸雨嚴重 (C)全球暖化 (D)荒漠化加劇。
29. 聯合國氣候變化綱要公約第15次締約國大會(COP15)於西元2009年12月7日到18日於丹麥哥本哈根舉行，哥本哈根會議被稱為「後京都協議」，重點是要訂出西元2020年的中期目標、西元2050年的長期目標。請問：此處指的目標為何？(A)減少二氧化碳的排放 (B)避免二氧化硫的排放 (C)限制溫室氣體的排放量 (D)提高水資源的使用量。
30. 熱帶雨林被譽為「地球之肺」，是因森林具有哪項功能？(A)涵養水源 (B)吸收太陽輻射 (C)保持生物多樣性 (D)吸收二氧化碳再轉換成氧氣釋出。
31. 河川污染是現在各國關注的問題之一，河川受汙染的程度通常多與人口數量、經濟開發、降水多寡等因素有關。依此判斷，下列哪條河川目前受到汙染的程度會最小？(A)長江 (B)印度河 (C)剛果河 (D)聖羅倫斯河。
32. 希臘雅典近郊在2009年夏季發生森林大火，威脅到當地的古蹟。請問：下列何種氣候現象最容易導致森林大火的發生？(A)暴風雨 (B)乾旱 (C)豪雨 (D)寒害。
33. 在巴勒斯坦地區立國的以色列和周圍阿拉伯國家間紛爭不斷，其中和敘利亞爭奪何處的水源因此引起爭端？(A)底格里斯河 (B)約旦河 (C)阿拉伯河 (D)幼發拉底河。
34. 在冬季時，某些動物會以冬眠或遷移等方式，來度過低溫造成的生存危機。而近年來北半球常觀察到棕熊延後冬眠、候鳥延後南飛的現象，代表地球上已有部分生物因為外在環境改變而調整其行為模式與生活習性。下列何者和上述外在環境改變的形成最有關係？(A)工業化程度提高 (B)沙塵暴頻率增加 (C)漁業資源的減少 (D)臭氧層破洞擴大。
35. 「某國的農業經營模式，以前是大規模機械化耕作、大量使用農藥和化肥來種植單一經濟作物的商業性農業。但現在部分地區已逐漸轉變成小規模人力和獸力耕作、使用生物有機肥料來改善土壤品質，並種植多樣化作物的生態農業。」根據上文，下列對該國的描述何者最適切？(A)該國農產品更依賴他國供應 (B)土地資源趨向永續利用發展 (C)整體經濟更易受國際市場影響 (D)農產量急遽增加並可大量外銷。
36. 聯合國世界氣象組織表示：「受去年冬天到今年3月底大氣平流層溫度過低的影響，北極上空臭氧層破損程度達到40%，超過往年紀錄，北極圈附近紫外線輻射近期將高於平常。」請問：上述消息發布後，哪個國家的人民最需要注意氣象局的紫外線指數？(A)芬蘭 (B)埃及 (C)中國 (D)紐西蘭。
37. 近年來南極的臭氧層破洞問題已逐漸受到控制，這應歸功於下列哪項國際協議的通過？(A)《南極條約》 (B)《華盛頓公約》 (C)《京都議定書》 (D)《蒙特婁公約》。
- ※海平面變化已是「全球環境變遷」的重大議題，許多科學家紛紛提出警訊。請回答38-40題：

38. 造成全球海平面上升的最主要原因為何？(A)全球海洋降水量增加 (B)南北極冰山及高山冰川消融 (C)地下水含量大量下降 (D)人類活動排放的水量增多。
39. 當全球海平面顯著上升時，對臺灣會造成下列哪種最直接的環境衝擊？(A)沿海沙洲沙灘面積縮減 (B)沿海珊瑚礁種類增加 (C)各離島面積變大 (D)河川泥沙搬運量增加。
40. 下列何種方式可提高水資源重複利用，解決水資源匱乏的困境？(A)中游多引用河水 (B)大舉開發山林 (C)興建汗水處理廠 (D)以人造雨增加降水。
- ※附圖為世界簡圖。朱教授正在進行全球十大環境問題的研究，圖中標記處是已完成初步資料蒐集的地區。請回答41-43題：



41. 圖中甲地所面對的環境問題為何？(A)酸雨危害 (B)土石流 (C)全球暖化 (D)土地沙漠化
42. 全球70%的沙漠化現象發生在哪兩區？(A)乙丙 (B)丙戊 (C)戊丁 (D)乙丁
43. 世界各地的降水空間及時間分布不均，使得有些地區水資源缺乏，嚴重影響人民生計與產業發展，附圖中哪一洲的水資源最為缺乏？(A)乙 (B)丙 (C)丁 (D)戊。
44. 受到全球暖化的影響，北極與南極地區的冰層融化，海平面持續上升，未來部分地勢較低的地區，將面臨被海水淹沒的危機，低窪區的人口將被迫撤離家園。下列哪一個城市，最可能面臨上述危機的困擾？(A)中國西安 (B)瑞士日內瓦 (C)荷蘭鹿特丹 (D)墨西哥墨西哥城。
45. 每人GDP高低代表該國的經濟狀況，GDP較高的國家多具有下列哪些發展優勢？(甲)交通便利(乙)技術進步(丙)資金充足(丁)工資低廉 (A)甲乙 (B)乙丁 (C)甲丁 (D)乙丙。
46. 經濟組織的種類分為國際性及區域性兩種，區域性經濟組織的目的最主要為下列何者？(A)加強區域外國家合作、增強面對區域內國家的競爭力 (B)加強區域內國家合作、增強面對區域外國家的競爭力 (C)加強區域外國家合作、增強面對區域外國家的競爭力 (D)加強區域內國家合作、增強面對區域內國家的競爭力。
47. 生物多樣性成為重要的環境課題，影響人類未來的生活型態。請問：下列有關生物多樣性的敘述中，何者最為正確？(A)氣候變遷為生物多樣性消失的主要原因 (B)各種生物互不影響，形成多樣化的生態 (C)人類產業活動複雜，有利於多樣性發展 (D)任何一種生物滅絕，造成生態系統失衡。
48. 聯合國相關單位預測在未來20年內，平均每人的用水將減少1/3，這個數據是由何種影響因素的變化所判斷而來？(A)降雨量變率 (B)全球人口數 (C)海平面高度 (D)農作物產量。
48. 下列各種機構當中，哪一個對於維持自然生物多樣性的貢獻最小？(A)國家公園 (B)野生動物保護區 (C)市立動物園 (D)自然保留區。
- ※水資源的分布有地區性的差異，受到一地環境的影響相當明顯。請回答49-50題：
49. 北非和西亞地區由於下列哪一項因素的影響，水資源長年呈現短缺的現象，因此在使用上須特別珍惜？(A)位於西風背風坡 (B)副熱帶高氣壓籠罩 (C)位居內陸距海遙遠 (D)地勢平坦不易攔截水氣。
50. 承第49題，這些地區除了自然條件的影響外，更可能因為水資源的短缺，造成下列哪一項問題的發生？(A)死亡率高 (B)地層下陷 (C)氣溫上升 (D)戰亂衝突。