

一、題組 (每格 2 分, 共 24 分)

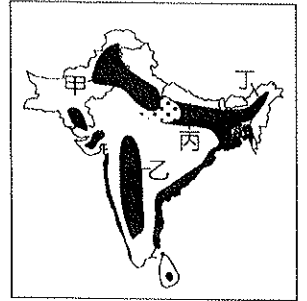
____年 ____班 座號: ____ 姓名: _____

*小婷寒假到印尼爪哇島的泗水旅遊, 參加當地最具盛名的婆羅摩火山之旅。請問:

1. 若小婷想參觀當地人民最主要的宗教寺廟, 則他要到下列何處? (A)天主教堂 (B)清真寺 (C)喇嘛寺 (D)佛寺。
2. 小婷到了位在赤道兩側的印尼, 發現氣候相當炎熱, 只有夜間還算涼爽。請問: 夜晚涼爽最主要的原因為何? (A)午後降雨 (B)地勢較高 (C)風力強勁 (D)太陽斜射。
3. 她在當地參觀時拍下許多火山照片, 印尼火山地形發達的主要原因為何? (A)地處低緯 (B)侵蝕發達 (C)海浪波動 (D)板塊活動

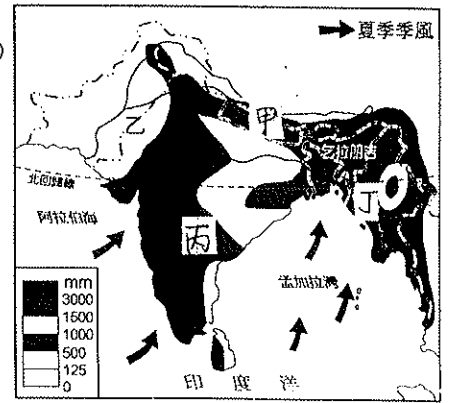
*附圖為南亞農產分布圖, 圖中甲、乙、丙、丁分別代表四種主要農業產區。

4. 棉花適合生長在肥沃的黑色土壤及夏雨秋乾的環境裡, 圖中的哪個地區是棉花的主要產區? (A)甲 (B)乙 (C)丙 (D)丁
5. 南亞哪個地區迎夏季季風, 降水充沛, 氣候溼潤, 且因丘陵地形排水良好, 所產的紅茶居世界重要地位? (A)甲 (B)乙 (C)丙 (D)丁
6. 承上題印度半島夏季吹哪個方向的風? (A)東北風 (B)東南風 (C)西北風 (D)西南風
7. 南亞哪個地區因氣候溼熱、地形平坦, 成為種植水稻與黃麻的主要地區? (A)甲 (B)乙 (C)丙 (D)丁
8. 南亞作物的分布受那一因素影響? (A)雨量 (B)氣溫 (C)地形 (D)土壤



*附圖為印度半島降水量分布圖。請問:

9. 圖中的甲、乙、丙、丁四區, 哪個地區可能有熱帶沙漠的分布? (A)甲 (B)乙 (C)丙 (D)丁
10. 承上題, 造成熱帶沙漠的成因為何? (A)涼流經過 (B)高山阻擋水氣 (C)副熱帶高氣壓籠罩 (D)距海遙遠
11. 圖中丙區內部地區氣候較為乾燥少雨, 其成因為何? (A)山脈阻擋 (B)高壓籠罩 (C)涼流經過 (D)地勢崎嶇。
12. 印度半島恆河下游的三角洲地帶卻因為地勢低窪而水患頻傳, 發生水災的應在哪一個國家? (A)印度 (B)孟加拉 (C)巴基斯坦 (D)斯里蘭卡。



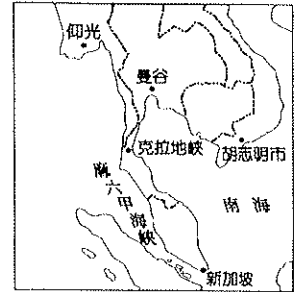
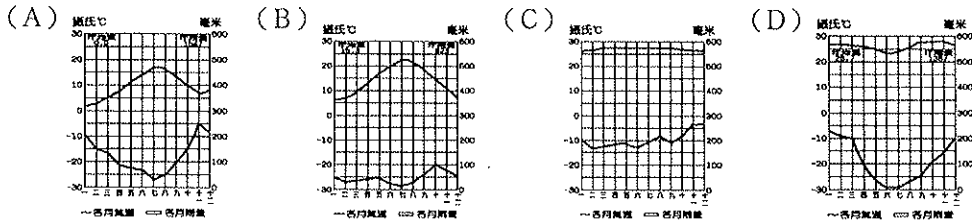
二、單題 (每格 2 分, 共 76 分)

13. 日本都市化程度高, 位於太平洋沿岸的四大工業區—京濱、名古屋、阪神、北九州, 同時也是人口密集的大型都會區。下列有關東京的描述, 何者錯誤? (A)臨日本海 (B)位於關東平原 (C)為日本政經中心 (D)位於本州島
14. 東日本大地震後, 由於位於本州島宮城地區的福島電廠受到嚴重損害, 導致有核污染疑慮, 許多民眾對食用日本漁產有疑慮, 為此, 日本北海道的漁產公會提到: 「民眾可以安心食用北海道的漁產, 因為根據洋流來說, 北海道至福島縣的水流是往南流, 核輻射是不可能由水流帶來北海道。」請問: 上文中提及的洋流為何? (A)黑潮暖流 (B)親潮寒流 (C)中國沿岸流 (D)本吉拉涼流
15. 日本自古即非常重視海上的相關活動。請問: 下列何者和海上活動頻繁的關係最小? (A)山多田少 (B)沿岸港灣眾多 (C)西岸冬季多雪 (D)寒暖流交會
16. 近日來引起日本與我國之間爭議不斷的「沖之鳥礁」, 漲潮時僅露出兩塊礁石, 日本政府在該區已投資約 285 億日圓進行加固工程。請問: 日本最主要的用意為下列何者? (A)土地利用 (B)國防安全 (C)生態保育 (D)經濟海域。
17. 四位同學分別針對「國際貿易是日本的經濟命脈」這個議題, 提出下列對日本的想法。誰的見解最正確? (A)芮芝: 「產品品質佳, 價格低廉, 競爭力強。」(B)承志: 「海岸曲折多良港, 國際港口眾多。」(C)昆都: 「工業原料有賴進口, 產品運銷全球。」(D)定祐: 「陸上交通以鐵路為主, 運輸繁忙
18. 來自中國東北的欣欣到日本巡迴表演, 發現日本的緯度雖與中國類似, 但氣候卻比中國要來的溫暖多雨, 她運用自己所學的地理常識來解釋這個現象。請問: 下列哪一個解釋是正確的? (A)因日本地勢高度較低, 所以比較溫暖 (B)因日本土地面積較小, 所以溫溼多雨 (C)因日本四面環海, 所以溫溼多雨 (D)因日本緯度較低, 所以平均溫度較高。
19. 房屋的方位會影響居住的品質, 為了達到冬暖夏涼的效果, 日本設計師工藤在設計房子時, 大門會避開寒冷的冬季季風, 並朝向夏季季風。蓋在日本的房子, 大門應開向哪個方向才能達到這種效果? (A)東北方 (B)東南方 (C)西北方 (D)西南方
20. 根據日本的統計資料顯示, 日本勞工的平均月薪約為 5,000 美金, 遠超過臺灣的 1,250 美金。請問: 日本企業目前多採取何種經營方式以維持市場上的競爭力? (A)跨國企業結構 (B)引進優質勞工 (C)降低環保標準 (D)加入歐盟市場。
21. 北韓領導人發表演說時提出: 「要超越南方政府, 就必須發展自身有利的條件。」請問: 該領導人的論點中所謂有利的條件為何? (A)豐富的礦產 (B)平坦的地勢 (C)優良的技術 (D)充沛的資金
22. 南韓的平均國民所得已超越臺灣, 該國政府致力於經濟發展, 常採取一些強力的措施。這些措施不包括下列何者? (A)扶植大型財團 (B)家電、遊戲軟體為主的工業產品 (C)實施共產主義 (D)贊助電視劇的拍攝帶動觀光業發展。
23. 東北亞包括南、北韓和日本等三國, 其環境的共同點為下列何者? (A)皆為二獲區 (B)皆屬副熱帶季風氣候 (C)皆位於環太平洋火山地震帶 (D)文化均受中國影響

24. 北韓近年來遇到嚴重的饑荒問題，這和下列哪個因素的關係較小？(A)耕地較少(B)生長季短(C)共產主義 (D)勞力不足
25. 朝鮮半島冬季各地的溫度差距較大，而冬季等溫線的分布狀況除了緯度外，還受到哪一項因素的影響？(A)地勢高低 (B)季風風向 (C)產業活動 (D)植被多寡。
26. 下列有關朝鮮半島氣候特色的描述，何者有誤？(A)屬於溫帶季風氣候 (B)全年有雨，乾溼季不明顯(C)夏、秋季節會受颱風侵襲(D)半島南部的氣溫較高，利於農業發展
27. 朝鮮半島上的平原因為地勢平坦，成為人口與耕地的主要分布區。請問：朝鮮半島的精華區主要分布於下列何處？(A)中、韓國界 (B)黃海沿岸 (C)日本海沿岸 (D)停戰線附近
28. 報載：「南韓前總統盧武鉉曾徒步跨越軍事分界線前往平壤，與北韓最高領導人金正日，舉行南北韓高峰會談，盧武鉉是歷史上第一位徒步跨越軍事分界線的南韓總統……。」文中的軍事分界線是指下列何者？(A)鴨綠江 (B)大白山脈 (C)北緯 38 度線 (D)北緯 66.5 度線

29. 下列區域中哪些屬於熱帶雨林氣候？【甲】中南半島 【乙】東印度群島【丙】馬來半島 【丁】菲律賓群島 (A)甲乙 (B)乙丙 (C)丙丁(D)甲丁

30. 承上題，熱帶雨林的氣候圖應為下列何者？



31. 日本因為國際貿易運輸上的需要，想在附圖中的克拉地峽開鑿運河航行，在這項計畫中，最主要是為了溝通哪兩個海洋的交通往來？(A)大西洋、太平洋 (B)太平洋、印度洋 (C)印度洋、大西洋 (D)太平洋、北極海

32. 熱帶栽培業因為下列哪些因素影響，市場風險性較大？【甲】單一作物生產【乙】產品出口為主【丙】溼熱地區栽種【丁】需要大量勞力(A)甲乙 (B)甲丙 (C)乙丁 (D)丙丁

33. 印尼峇里島地區主要的宗教信仰為下列何者？(A)印度教 (B)佛教 (C)伊斯蘭教 (D)基督教

34. 美國文化在菲律賓群島所造成的影響以下列何者最為明顯？(A)宗教信仰 (B)礦產開發 (C)語言文字 (D)熱帶栽培業

35. 小容到東南亞某個國家旅遊，發現各種建築物及慶典節日和佛教關係密切。請問：小容最可能是到下列哪一個國家？(A)印尼 (B)菲律賓 (C)泰國 (D)馬來西亞

36. 中國大陸籌畫在雲南縱谷區湄公河上游興建多座水庫，這些水庫興建完成後，將影響到下游的用水和生態環境。請問：下列哪一半島會受到影響？(A)中南半島 (B)印度半島 (C)朝鮮半島 (D)阿拉伯半島

37. 東南亞的人文景觀十分豐富，充滿多元文化的特性。請問：這種現象和該地區何種地理條件的關係最大？(A)位置 (B)氣候 (C)地質 (D)土壤

38. 東南亞國家組成東南亞國協的區域組織，其最主要的目的為增進下列何者的區域整合合作？(A)經濟 (B)外交 (C)環保 (D)貨幣

39. 新加坡面積狹小，然經濟發展卻十分優異。請問：該國主要的經濟活動為下列何者？(A)熱帶栽培業 (B)轉口貿易 (C)鋼鐵工業 (D)石油開採

40. 東南亞的大都市，如雅加達、曼谷，是屬哪一類型的都市？(A)軍事型 (B)宗教型 (C)礦產型 (D)港埠型

41. 東南亞地區的季風氣候，夏季與冬季風向分別為何？(A)夏：西北 冬：東南 (B)夏：西南 冬：東北 (C)夏：東南 冬：西北 (D)夏：東北 冬：西南

42. 中南半島緊鄰中國的橫斷山脈區，這兩個地區的主要地形關係為何？(A)高山阻擋、地形隔離 (B)山河分布、一脈相承 (C)地形平坦、缺乏國界 (D)河川分布、形成界河

43. 印度在獨立之後，憑藉著語言優勢，與政府大力的支持，使得印度在哪種產業上大放異彩？(A)石化產業 (B)汽車產業 (C)軟體產業 (D)生物科技產業

44. 南亞一年中可分成三季，主要有下列哪些原因？【甲】季風轉換【乙】高山屏障【丙】深居內陸【丁】洋流流經 (A)甲乙 (B)乙丙 (C)甲丁 (D)丙丁

45. 比較巴基斯坦和孟加拉兩國的國情，下列何者不正確？(A)兩國居民大多信奉伊斯蘭教 (B)巴基斯坦位於印度河流域，孟加拉則在恆河流域 (C)巴基斯坦種植黃麻，孟加拉種植棉花 (D)巴基斯坦氣候乾熱，孟加拉溼熱

46. 乞拉朋吉是世界雨量最多的地方，其形成的原因可能有：【甲】地形【乙】東北季風【丙】西南季風【丁】洋流。正確答案應該為何？(A)甲乙(B)乙丙(C)丙丁(D)甲丙

47. 印度人口眾多，貧富差距與教育資源分布不均，如此的現象，與下列哪種原因最相關？(A)種族複雜 (B)種姓制度 (C)宗教對立 (D)人口眾多

48. 印度半島的氣候依其特色分為三季，氣候較涼爽乾燥象最可能出下列哪一個月分？(A)5月 (B)8月 (C)11月

49. 某國為印度洋上著名的海島國家，因為好萊塢電影曾到此地取景而讓他聲名大噪。該國眾多島嶼灑落在印度洋上，當地人稱之為花環。依上述地理位置判斷，該國最可能為何種類型的島群？(A)火山島 (B)珊瑚礁島 (C)大陸島 (D)沙洲島。

50. 南亞印度的某條河流，被印度教信徒視為是聖河，該河流應是指下列何者？(A)印度河 (B)湄公河 (C)紅河 (D)恆河