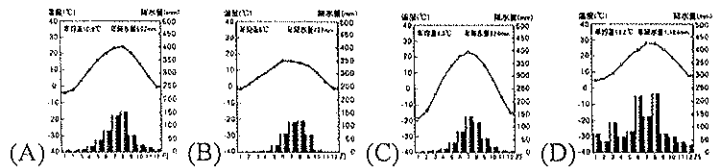


宜蘭縣立羅東國中 104 學年度第二學期八年級地理科第一次段考試卷

選擇題：每題 2 分，請用 2B 鉛筆作答

- 河套平原與塔里木盆地是西部地區少數能發展農業的區域，但兩者的灌溉水源卻有很大的差異，下列說明何者正確？ (A) 河套平原的水源為河水，塔里木盆地的水源為高山融雪 (B) 河套平原的水源為高山融雪，塔里木盆地的水源為河水 (C) 兩地的水源皆為河水 (D) 兩地的水源皆為高山融雪。
- 在教義當中，規定信徒不能食用不聖潔的食物如豬肉、酒類，並要依時刻朝聖地跪拜的宗教為何？ (A) 佛教 (B) 基督教 (C) 印度教 (D) 伊斯蘭教。
- 近年來，新疆因盛產何種礦產，發展工業，成為中國新興工業地帶？ (A) 煤礦 (B) 鐵礦 (C) 鹽礦 (D) 石油。
- 青藏高原東南部較低的河谷，是該地的農業地區，當地一般人民最主要的農作物與糧食來源是下列何者？ (A) 青稞 (B) 小麥 (C) 稻米 (D) 玉米。
- 河西走廊的綠洲主要是以哪一山脈所流下的雪水開鑿溝渠供應灌溉水源？ (A) 阿爾泰山 (B) 大興安嶺 (C) 祁連山 (D) 秦嶺。
- 西元 2006 年青藏鐵路通車，自此中國所有行政區均有鐵路的建設。請問：造成西藏鐵路建設緩慢的主因為何？ (A) 氣候乾燥 (B) 凍土層多 (C) 緯度較高 (D) 族群複雜。
- 下列為中國四個城市的氣候圖。請由圖中的資料判斷，何地最有可能是拉薩市？

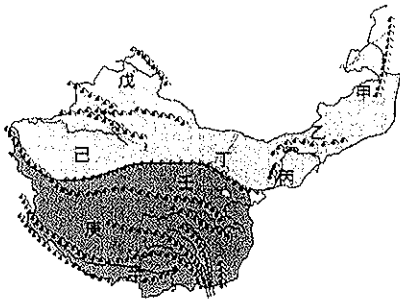


- 新疆南北各有一個面積廣大的盆地，附表為有關南北盆地的比較，何者正確？ (A) 甲 (B) 乙 (C) 丙 (D) 丁。

地區	(甲) 盆地	(乙) 氣候	(丙) 產業	(丁) 宗教
北疆	塔里木盆地	溫帶沙漠	牧業為主	伊斯蘭教
南疆	準噶爾盆地	溫帶草原	農業為主	藏傳佛教

- 中國西北內陸的河套平原自古就被稱為「塞上江南」的主要因素為何？ (A) 居民多為江南移民 (B) 位置靠近長江流域 (C) 盛產稻米有江南景色 (D) 連綿的長城保護生活富裕。
- 四位同學針對青藏高原的氣候特色，分別提出看法。請問：何者的說法比較正確？ (A) 俊文：「年降水量多，尤其是夏季對流雨頻繁。」 (B) 宸瑋：「因為地勢高，年溫差小。」 (C) 品好：「因為緯度低，晝夜溫差不大。」 (D) 燕柔：「這裡地勢高，氣壓很高。」
- 青藏高原上不論孩童或成年人，臉頰總是紅通通的一片，外地的遊客則在臉上塗抹防晒品來保護自己的皮膚，這反映出當地的環境具有下列何種特色？ (A) 終年氣溫不高 (B) 寒風終年吹拂 (C) 空氣含氧量低 (D) 太陽輻射強烈。

*附圖為中國西部區域的簡圖。請回答下列問題：

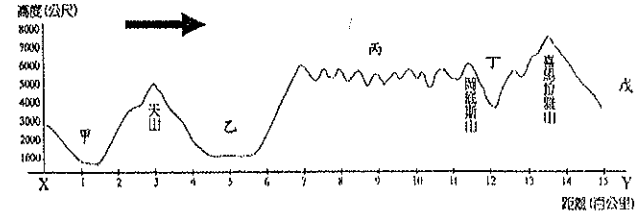


- 下列何項敘述有誤？ (A) 己區為中國最大的沙漠區 (B) 甲區水氣來自太平洋 (C) 戊區水氣來自北極海 (D) 辛區的水氣來自太平洋。
- 當夏季時，圖中哪一區最涼爽？ (A) 乙 (B) 丁 (C) 庚 (D) 戊。
- 「該地位於大河之西，為古絲路的必經之地，武威、張掖、酒泉、敦煌均為昔日提供駱駝商隊休息的綠洲城市。」請問：

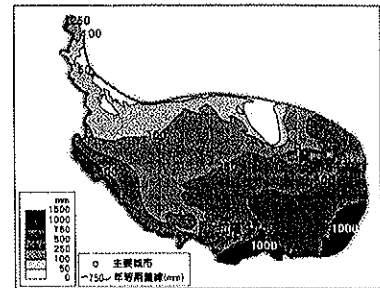
班級： 座號： 姓名

- 上文所描述的地區位於何處？ (A) 丙 (B) 丁 (C) 己 (D) 壬。
- 此地氣候嚴寒，降水量少，植被稀疏，故人煙稀少，成為野生動物的天堂，中國政府設立多處自然生態保護區。此區位於附圖中哪個地方？ (A) 乙 (B) 己 (C) 壬 (D) 庚。
- 「沙漠進得去卻出不來，一天之中就經歷了一整年的寒暑變化，居民引用地下水灌溉，春麥、玉米、棉花、油菜、甜菜與瓜果在當地均盛產。」以上是描述哪一個盆地的情形？ (A) 戊 (B) 己 (C) 辛 (D) 壬。
- 將新疆分隔為南、北兩盆地的山脈為何？ (A) 阿爾泰山 (B) 崑崙山 (C) 祁連山 (D) 天山。

*下圖為青藏地區的地形剖面圖，請依圖回答下列問題。



- 地形剖面圖中的箭頭指向何方？ (A) 東 (B) 西 (C) 南 (D) 北。
- 「乙」和「丙」兩地之間是以哪一座山為界？ (A) 祁連山 (B) 阿爾泰山 (C) 崑崙山 (D) 巴顏喀喇山。
- 居民在狹小的土地上，利用坎井灌溉，精細耕作每寸土地，種植小麥、玉米、棉花及瓜果等作物。」請問：這種農耕方式，最有可能出現在圖中哪個地區？ (A) 甲 (B) 乙 (C) 丙 (D) 丁。
- 承上題，當地居民修築坎井，主要目的是什麼？ (A) 預防洪澇 (B) 避免水分散失 (C) 預防水源被汙染 (D) 方便居民取水飲用。
- 附圖為青藏地區的年降水量分布圖。請問：此地降雨來源是夏季從海上吹來的何種風向？ (A) 東北風 (B) 東南風 (C) 西北風 (D) 西南風。



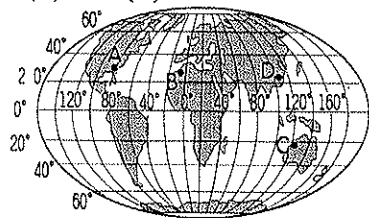
- 附表關於內蒙古高原與青藏高原的特色比較，何項錯誤？

地區	(A) 主要民族	(B) 維生方式	(C) 交通方式	(D) 宗教信仰
內蒙古高原	蒙古族	畜牧生活	馬和駱駝	伊斯蘭教
青藏高原	藏族	畜牧與農業	犛牛	藏傳佛教

- 塔里木盆地氣候乾燥，是受到哪些因素影響？(甲)距海遙遠 (乙)周圍有高山環繞 (丙)夏季為高壓中心 (丁)地處高緯地帶 (A) 甲、乙 (B) 乙、丙 (C) 丙、丁 (D) 甲、丁。
- 若從河套地區下游到上游走的話，沿途經過的景觀，依序為何？(甲)西套 (乙)後套 (丙)前套 (A) 甲乙丙 (B) 甲丙乙 (C) 丙甲乙 (D) 丙乙甲。
- 關於全球人口最稀少的四個地區，何地的氣候特徵描述正確？ (A) 撒哈拉沙漠：溼熱 (B) 亞馬孫盆地：乾熱 (C) 青藏高原：高寒 (D) 南極：溼冷。
- 下列哪些為終年有雨的氣候類型？ (甲) 熱帶莽原氣候 (乙) 熱帶雨林氣候 (丙) 溫帶海洋性氣候 (丁) 溫帶地中海型氣候 (戊) 溫帶大陸性氣候 (A) 甲乙 (B) 乙丙 (C) 丙丁 (D) 丁戊。

背面尚有試題，請翻頁繼續作答

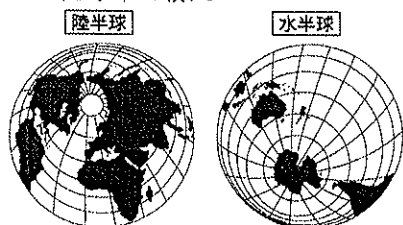
28. 莽原氣候與雨林氣候的最大差異在於下列何者？ (A) 雨季的長短 (B) 風向的變化 (C) 氣溫的高低 (D) 溫差的大小。
 全球地形多樣，諸如高原、山地、丘陵、平原與盆地等；其中
 29. 以哪兩種地形所占比例較大？ (A) 山地、高原 (B) 山地、平原 (C) 山地、丘陵 (D) 高原、平原。
 30. 地理老師請同學進行世界地形之最，所在大洲的填答遊戲，下列哪一個題目的答案應位於亞洲？ (A) 世界最長的山脈 (B) 緯度最高的洲 (C) 世界最高的高原 (D) 世界最大的平原。
 31. 附圖中哪一個地點所在的大陸，目前的人口數最多？ (A) A (B) B (C) C (D) D。



32. 請根據資下列資料加以判斷，該氣候資料應該為下列何處的特性？ (A) 北半球溫帶地區 (B) 北半球副熱帶地區 (C) 南半球溫帶地區 (D) 南半球熱帶地區。

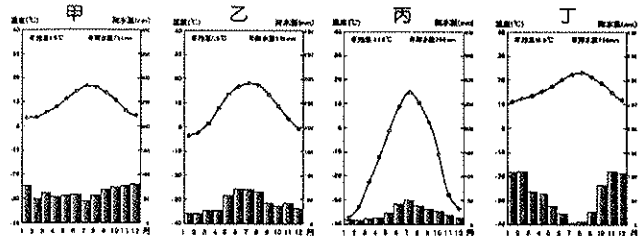
月份	一	二	三	四	五	六	七	八	九	十	十一	十二
氣溫(°C)	15	15.5	17.5	22	25.6	27	29.5	27.5	27	22.5	20.5	18
雨量(mm)	45	80	83	98	220	357	221	325	152	14	18	22

33. 花媽一家人為了「地球」的特徵爭論不休。請問：下列誰的說法是正確的？ (A) 花媽：「依據計算，全球陸地面積占地球的2/3以上。」 (B) 花爸：「就海洋面積來說，南半球海洋所占的比例較大。」 (C) 花姐：「南、北半球的海洋面積占其海陸總面積的比例皆小於50%。」 (D) 花弟：「陸地面積占南半球總面積一半以上。」
 34. 附圖是水、陸半球的海陸分布圖(深色為陸地、淺色為海洋)。以下關於此圖的敘述，何者正確？ (A) 南極洲是水半球中心 (B) 水半球的海洋面積約占55% (C) 中國和美國皆位於陸半球 (D) 陸半球的陸地較海洋面積大。



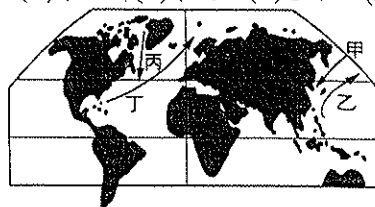
35. 新疆素有「瓜果之鄉」的美稱，所產瓜果特別香甜的主要原因為何？ (A) 雪水豐富 (B) 氣候乾燥 (C) 地勢低窪 (D) 日夜溫差大。
 36. 世界上的地表景觀多采多姿，有許多崇山峻嶺，以下所列的全球知名高山中，哪座山脈所在的位置不正確？ (A) 喜馬拉雅山—亞洲 (B) 落磯山脈—美洲 (C) 阿爾卑斯山—非洲 (D) 安地斯山—美洲。

*附圖為世界四個城市的氣候圖。請問：

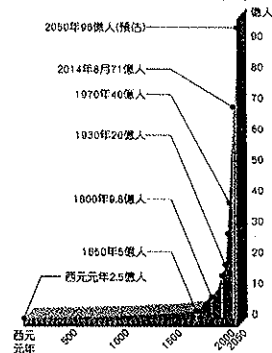


37. 「甲」地最可能是何種氣候類型？ (A) 熱帶雨林氣候 (B) 溫帶沙漠氣候 (C) 溫帶海洋性氣候 (D) 溫帶地中海型氣候。
 38. 「丁」地最可能是何種氣候類型？ (A) 熱帶雨林氣候 (B) 溫帶沙漠氣候 (C) 溫帶海洋性氣候 (D) 溫帶地中海型氣候。
 39. 「乙」地最可能是何種氣候類型？ (A) 溫帶大陸型氣候 (B) 寒帶氣候 (C) 熱帶季風氣候 (D) 高地氣候。
 40. 青藏鐵路開通後，使西藏的經濟加速發展，在軍事上，西藏鄰近印度、尼泊爾、不丹與緬甸，也直接影響中國與哪一地區的战略形勢？ (A) 中亞 (B) 東北亞 (C) 西亞 (D) 南亞。

41. 附圖為北半球的海陸分布與洋流簡圖。請問：其中何者屬於寒流性質？ (A) 甲乙 (B) 甲丙 (C) 乙丁 (D) 丙丁。

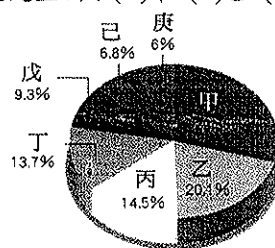


42. 中國改革開放後，逐水草而居的游牧生活產生下列哪項改變？ (A) 轉型為垂直式的游牧 (B) 轉型為定居放牧的圈牧化畜牧 (C) 轉型為定居欄牧的酪農業 (D) 開始從事定耕的綠洲農業。
 43. 圖(一)為世界人口成長圖。請問：從這張圖中可發現世界人口的成長具有下列何種特徵？ (A) 人口分布不均 (B) 人口集中於平原地形 (C) 人口倍增時間縮短 (D) 人口成長速度緩慢。



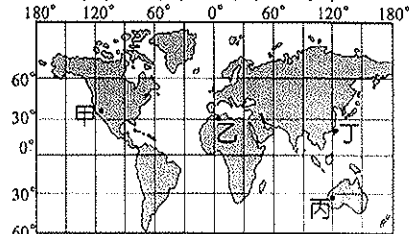
圖(一)

44. 圖(二)為世界各大洲面積比例圖。請問：依照面積比例，哪一個代號最可能是亞洲？ (A) 甲 (B) 乙 (C) 丙 (D) 丁。



圖(二)

45. 在氣候類型中，哪三種氣候的降水量是集中在夏季？(甲) 溫帶地中海型氣候 (乙) 熱帶雨林氣候 (丙) 溫帶海洋性氣候 (丁) 溫帶大陸性氣候 (戊) 熱帶莽原氣候 (己) 溫帶季風氣候 (A) 甲、戊、己 (B) 丁、戊、己 (C) 甲、乙、丙 (D) 丙、丁、戊。
 46. 根據聯合國報告顯示：「科技的進步使得糧食生產率大為提高，且醫療衛生逐漸普及至世界各地，導致世界人口總數已突破70億人。」依上述資料判斷，造成人口大量增加的原因最可能為何？ (A) 出生率增加 (B) 死亡率降低 (C) 移出率降低 (D) 移入率提高。
 47. 東南亞國家的傳統住屋型式以下列何者最為適合？(A) 斜屋頂建築 (B) 高架屋建築 (C) 木造房屋建築 (D) 獸皮帳棚建築。
 48. 宗教建築為各地區的重要地標，在下圖中哪一個地區最可能見到清真寺建築？ (A) 甲 (B) 乙 (C) 丙 (D) 丁。



- *宗教對於人民的日常生活影響極大，目前世界上主要有基督宗教、伊斯蘭教、印度教和佛教等四大宗教。請問：
 49. 基督宗教分布的地區主要位於下列哪些洲？ (A) 歐洲、亞洲 (B) 歐洲、美洲 (C) 亞洲、澳洲 (D) 非洲、歐洲。
 50. 亞洲面積廣大，各區域特色不同，其中東亞主要信奉的宗教為下列何者？ (A) 伊斯蘭教 (B) 基督宗教 (C) 佛教 (D) 印度教。